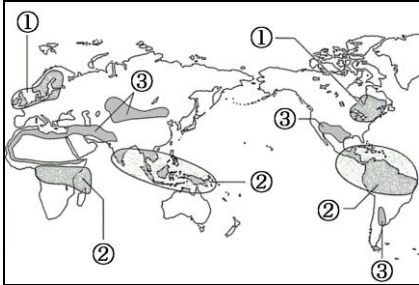


環境問題・地域統合

● ポイントの確認

1 環境問題

● 地球規模の環境問題



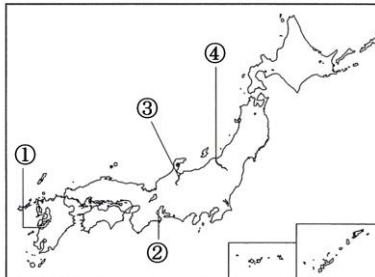
- ① **酸性雨**自動車や工場からの有害物が雨と共に降り注ぐ
- ② **森林(熱帯林)** の破壊.....乱開発
- ③ **砂漠化**人口増加にともなう家畜の過放牧
- ④ **温暖化**二酸化炭素などの温室効果ガスが原因。地球規模他、オゾン層の破壊なども深刻

● 環境問題への取りくみ

- 1992年.....地球(環境)サミットがリオデジャネイロで開催される
- 1997年.....地球温暖化防止京都会議が開かれる。各国が二酸化炭素の排出削減目標を数値化
- 再生可能エネルギーの開発.....太陽光・水力・風力・波力・地熱・バイオマスなどのエネルギーを利用

2 日本の公害

● 高度経済成長期.....産業の発達を最優先したために、各地で公害が発生した

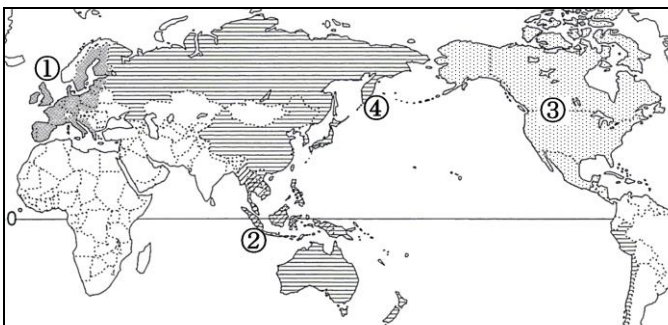


- ① **水俣病**有機水銀が原因(熊本県)
- ② **四日市ぜんそく**亜硫酸ガス(三重県)
- ③ **イタイイタイ病**カドミウム(富山県)
- ④ **新潟水俣病**有機水銀

● 対策

- 公害対策基本法.....1967年制定。企業の責任を規定
- ⑤ **環境基本法**1993年制定。公害対策基本法を発展させたもの

3 地域統合.....経済活動をおこないやすくするため、国どうしが結びつく



- ① **EU**ヨーロッパ連合の略
- ② **ASEAN**東南アジア諸国連合の略
- ③ **NAFTA**北米自由貿易協定
- ④ **APEC**アジア太平洋経済協力会議

●● 確認問題

A

- ① 地球規模の環境問題のうち、_____の原因は人口増加とそれにとりまなう家畜の増加だ。 ① _____
- ② 地球規模の環境問題のうち、_____のせいで森林などが枯れている。 ② _____
- ③ 地球温暖化の原因は_____などの温室効果ガスであるとされている。 ③ _____
- ④ 赤道付近の地域では_____が減少し続けている。 ④ _____
- ⑤ 近年は大気中の_____層も破壊され、有害な紫外線が降り注いでいる。 ⑤ _____
- ⑥ 1992年にブラジルで_____が開催された。 ⑥ _____
- ⑦ 1997年に地球温暖化防止会議が_____で開かれた。 ⑦ _____
- ⑧ この会議で、各国は_____の排出削減目標を数値化することが決められた。 ⑧ _____

B

- ① 日本では_____期に産業の発達を最優先したため、各地で公害が発生した。 ① _____
- ② 熊本県では有機水銀の排出が原因で_____が発生した。 ② _____
- ③ 新潟でも有機水銀が原因で_____が発生した。 ③ _____
- ④ 三重県では工場からの排煙が原因で_____が発生した。 ④ _____
- ⑤ 富山県では神通川流域で_____が発生した。 ⑤ _____
- ⑥ 1993年には公害対策基本法を発展させた_____が制定された。 ⑥ _____

C

- ① 東南アジア諸国連合をアルファベット略称であらわすと_____だ。 ① _____
- ② 北米自由貿易協定をアルファベット略称であらわすと_____だ。 ② _____
- ③ ヨーロッパ連合をアルファベット略称であらわすと_____だ。 ③ _____
- ④ アジア太平洋経済協力会議をアルファベット略称であらわすと_____だ。 ④ _____

解答 確認問題

A

- | | |
|---|--------------|
| ① 地球規模の環境問題のうち、_____の原因は人口増加とそれにとまなう家畜の増加だ。 | ① 砂漠化 |
| ② 地球規模の環境問題のうち、_____のせいで森林などが枯れている。 | ② 酸性雨 |
| ③ 地球温暖化の原因は_____などの温室効果ガスであるとされている。 | ③ 二酸化炭素 |
| ④ 赤道付近の地域では_____が減少し続けている。 | ④ 熱帯林 |
| ⑤ 近年は大気中の_____層も破壊され、有害な紫外線が降り注いでいる。 | ⑤ オゾン |
| ⑥ 1992年にブラジルで_____が開催された。 | ⑥ 地球(環境)サミット |
| ⑦ 1997年に地球温暖化防止会議が_____で開かれた。 | ⑦ 京都 |
| ⑧ この会議で、各国は_____の排出削減目標を数値化することが決められた。 | ⑧ 二酸化炭素 |

B

- | | |
|--|----------------|
| ① 日本では_____期に産業の発達を最優先したため、各地で公害が発生した。 | ① 高度経済成長 |
| ② 熊本県では有機水銀の排出が原因で_____が発生した。 | ② 水俣病 |
| ③ 新潟でも有機水銀が原因で_____が発生した。 | ③ 新潟水俣病(第二水俣病) |
| ④ 三重県では工場からの排煙が原因で_____が発生した。 | ④ 四日市ぜんそく |
| ⑤ 富山県では神通川流域で_____が発生した。 | ⑤ イタイイタイ病 |
| ⑥ 1993年には公害対策基本法を発展させた_____が制定された。 | ⑥ 環境基本法 |

C

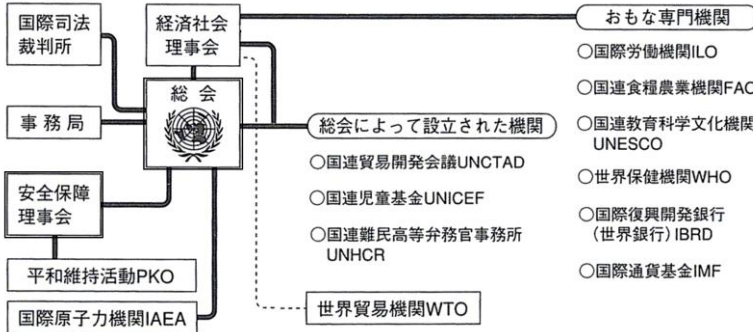
- | | |
|---------------------------------------|---------------|
| ① 東南アジア諸国連合をアルファベット略称であらわすと_____だ。 | ① ASEAN(アセアン) |
| ② 北米自由貿易協定をアルファベット略称であらわすと_____だ。 | ② NAFTA(ナフタ) |
| ③ ヨーロッパ連合をアルファベット略称であらわすと_____だ。 | ③ EU |
| ④ アジア太平洋経済協力会議をアルファベット略称であらわすと_____だ。 | ④ APEC(エイペック) |

国際連合・国際経済


● ポイントの確認

1 国際連合……1945年に発足。世界平和の実現をめざす

● 組織図



● 加盟国の推移



●① **総会** ……約190の加盟国で構成。1国1票

●② **安全保障理事会** ……5カ国の常任理事国と10カ国の非常任理事国で構成。世界平和・安全を維持するための機関

●③ **拒否権** ……重要事項について5カ国に認められた権利

● 主な専門機関

→世界貿易機関 世界保健機関 国際労働機関 国際通貨基金 国連教育科学文化機関 国連児童基金 など

2 国際経済

●① **為替相場** ……ある国の通貨と他の国の通貨との交換比率

●② **円高** ……円の価値が上がること。③ **輸入** ……に有利

●④ **円安** ……円の価値が下がること。⑤ **輸出** ……に有利

・1ドル=100円が1ドル=200円になることを ⑥ **円安** ……という

・1ドル=100円が1ドル=50円になることを ⑦ **円高** ……という

●⑧ **南北問題** ……先進国と発展途上国の経済格差の問題

●⑨ **南南問題** ……発展途上国どうしの中で経済格差が開いてきた問題

●⑩ **ODA** ……政府開発援助の略。途上国を支援する

●⑪ **NGO** ……非政府組織の略。途上国を支援する民間の団体

●● 確認問題

A

- ① 国連とは_____の略称であり、本部はニューヨークにある。 ① _____
- ② 1951年と比較して加盟国数が一番増えた地域は_____である。 ② _____
- ③ 国連の組織のうち、_____はすべての加盟国で構成される最高機関である。 ③ _____
- ④ アメリカ・フランス・ロシア・中国・イギリスの常任理事国と非常任理事国で構成される機関は_____だ。 ④ _____
- ⑤ ④の5つの国だけが_____を持つ。 ⑤ _____

B

- ① 次のア〜カにあたる国連の主な専門機関の略称を下から選びなさい。 ① ア _____
ア 世界保健機関 イ 国際労働機関 ウ 国際通貨基金 イ _____
エ 世界貿易機関 オ 国連教育科学文化機関 ウ _____
カ 国連児童基金 エ _____
オ _____
カ _____
- | | | | | | | |
|-----|-----|-----|-----|-----|--------|--------|
| WTO | ILO | IMF | WHO | FAO | UNESCO | UNICEF |
|-----|-----|-----|-----|-----|--------|--------|

- ② 次のア〜ウ国連の主な専門機関や活動の略称を下から選びなさい。 ② ア _____
ア 国際原子力機関 イ 平和維持活動 イ _____
ウ 国連難民高等弁務官事務所 ウ _____
- | | | | | |
|------|------|-----|-------|--------|
| IAEA | IBRD | PKO | UNHCR | UNCTAD |
|------|------|-----|-------|--------|

C

- ① ある国の通貨と他の国の通貨との交換比率を_____という。 ① _____
- ② 円の価値が上がることを_____という。 ② _____
- ③ ②は1ドル=90円だったものが、1ドル=(80円 100円)になることだ。 ③ _____
- ④ ②のときは(輸出 輸入)に有利である。 ④ _____
- ⑤ 1ドル=86円だったものが、1ドル=88円になることを_____という。 ⑤ _____
- ⑥ ⑤のときは(輸出 輸入)に有利である。 ⑥ _____
- ⑦ 先進国と発展途上国の経済格差の問題を_____という。 ⑦ _____
- ⑧ 発展途上国の中で経済に差がついてきた問題を_____という。 ⑧ _____
- ⑨ 発展途上国を支援する民間の団体を_____という。 ⑨ _____
- ⑩ 発展途上国を支援する政府の援助を_____という。 ⑩ _____

解答 確認問題

A

- ① 国連とは_____の略称であり、本部はニューヨークにある。 ① [国際連合](#)
- ② 1951年と比較して加盟国数が一番増えた地域は_____である。 ② [アフリカ](#)
- ③ 国連の組織のうち、_____はすべての加盟国で構成される最高機関である。 ③ [総会](#)
- ④ アメリカ・フランス・ロシア・中国・イギリスの常任理事国と非常任理事国で構成される機関は_____だ。 ④ [安全保障理事会](#)
- ⑤ ④の5つの国だけが_____を持つ。 ⑤ [拒否権](#)

B

- ① 次のア～カにあたる国連の主な専門機関の略称を下から選びなさい。 ① ア [WHO](#)
- ア 世界保健機関 イ 国際労働機関 ウ 国際通貨基金 イ [ILO](#)
- エ 世界貿易機関 オ 国連教育科学文化機関 ウ [IMF](#)
- カ 国連児童基金 エ [WTO](#)
- オ [UNESCO](#)
- カ [UNICEF](#)
- | | | | | | | |
|-----|-----|-----|-----|-----|--------|--------|
| WTO | ILO | IMF | WHO | FAO | UNESCO | UNICEF |
|-----|-----|-----|-----|-----|--------|--------|

- ② 次のア～ウ国連の主な専門機関や活動の略称を下から選びなさい。 ② ア [IAEA](#)
- ア 国際原子力機関 イ 平和維持活動 イ [PKO](#)
- ウ 国連難民高等弁務官事務所 ウ [UNHCR](#)
- | | | | | |
|------|------|-----|-------|--------|
| IAEA | IBRD | PKO | UNHCR | UNCTAD |
|------|------|-----|-------|--------|

C

- ① ある国の通貨と他の国の通貨との交換比率を_____という。 ① [為替\(相場\)](#)
- ② 円の価値が上がることを_____という。 ② [円高](#)
- ③ ②は1ドル=90円だったものが、1ドル=(80円 100円)になることだ。 ③ [80円](#)
- ④ ②のときは(輸出 輸入)に有利である。 ④ [輸入](#)
- ⑤ 1ドル=86円だったものが、1ドル=88円になることを_____という。 ⑤ [円安](#)
- ⑥ ⑤のときは(輸出 輸入)に有利である。 ⑥ [輸出](#)
- ⑦ 先進国と発展途上国の経済格差の問題を_____という。 ⑦ [南北問題](#)
- ⑧ 発展途上国の中で経済に差がついてきた問題を_____という。 ⑧ [南南問題](#)
- ⑨ 発展途上国を支援する民間の団体を_____という。 ⑨ [NGO](#)
- ⑩ 発展途上国を支援する政府の援助を_____という。 ⑩ [ODA](#)