

# 第1学年 前期中間テスト (社会科) 問題用紙

## 【注意事項】


- 1 監督の先生の「はじめ」と「やめ」の指示を守ること。
- 2 答えは、すべて解答用紙に書くこと。
- 3 文字をはっきりと書くこと。  
(訂正は、消しゴムできちんと消すこと)
- 4 クラス、出席番号、氏名を問題用紙・解答用紙に書くこと。
- 5 問題用紙・解答用紙ともに回収します。

1年 組 番 氏名

① 次の問いに答えなさい。

これから学習する歴史では、次のように、主に西(洋)暦を使用して、年代を示します。

〔年代表〕



- 1 左の〔年代表〕のうち、1年が、西暦(ヨーロッパから世界中に広がっていった暦=こよみ)の基準の「年」とされています。この「年」は、何があったと言われているか、答えなさい。  
また、この1年の前の年は、何年ですか。
- 2 紀元前と紀元(後)のあらわし方を、アルファベットの大文字、2文字ずつで答えなさい。
- 3 西暦では、100年を単位として「世紀」(C. と略)と表します。  
(1) 紀元(後)201年~300年は何世紀ですか。  
(2) 今年2013年は、何世紀ですか。

② 次の図を見て、答えなさい。



- 1 図中の A に適する、もっとも古い人類は何ですか。漢字2文字で答えなさい。

2 原人が使い始めた、石を打ち欠いてつくった「石器」を何といいますか。

3 私たちの直接の先祖である新人の時代には、磨製石器が登場し、食物を貯えたり、煮たりするための「道具」が発明されました。この「道具」を答えなさい。

4 農耕(麦やあわ、米などの栽培)や牧畜(羊や牛などを飼う)が発達してくると人間社会は大きく変化をすることとなりました。

次の文章を読んで、文中の( )にあてはまる語句を、下の言葉の中から選んで、答えなさい。(注意: イとウは、2回出てきます)

アフリカや(ア)の大河のほとりでは、文明がおこりました。農耕や牧畜が発達し、人々は(イ)を計画的に生産し、たくわえるようになりなりました。(イ)がたくわえられるようになると、それをめぐり争いが増え、やがて強い集団が弱い集団を従えて、国ができました。

はじめは、人々から選ばれて、(ウ)や祭り、用水路の工事などを指図していた人が、しだいに人々を支配して(エ)を取るようになり、こうして支配する者(王や貴族)と、支配される者(農民や奴隷)との区別ができてきました[身分社会の登場]。

やがて、神殿や宮殿などを持つ都市が生まれ、(ウ)や祭りに用いる青銅器や(オ)がつくられるようになり、文字も発明されました。

【語群】

[ 戦争 食料 鉄器 アジア 税 ]

3 次の四大文明のはじまった所を示す地図を見て、答えなさい。



1 地図中の A・B にあたる「文明」の名前を答えなさい。

2 A の文明の起こったところは、二つの大きな川に、挟まれた地域です。ユーフラテス川ともう一つは、何川ですか、答えなさい。

3 エジプトおよび A・B の文明について、以下(1)~(3)の文章を読み、( )にあてはまる語句を、下の語群から選んで、答えなさい。

(1) 紀元前3000年頃、(ア)の周辺におこった[エジプト文明]は国王の墓と考えられる(イ)やその守り神とされたスフィンクスなどの遺跡とともに(ウ)とよばれる象形(しやうけい)文字や、1年を365日とする(エ)などが登場していた。  
また、同じ頃、[A 文明]では、ジググラトウとよばれる神殿や、粘土板にほりつけた(オ)とよばれる文字が使われ、他に1週間を7日とする(カ)や、時間や角度をはかる単位となった(キ)なども使われていた。  
この二つの文明をふくむ地域は、のちのヨーロッパから(ク)とよばれ、アルファベットが発明され、紀元前1000年ころまでには、鉄器の使用が広まりました。

【語群】

[ ナイル川 60進法 太陽暦 太陰暦  
くさび形文字 七曜制 オリエント ピラミッド  
ヒエログリフ 10進法 ]

(2) その後、紀元前8世紀ころには、その西方にあたる[ギリシャ]には、アテネやスパルタなどの(ア)とよばれる「都市国家」がおこり、互いに争っていたが、オリンピアの神々をたたえる競技会では、戦争を中止し親睦を深めたという。この精神が近代(イ)のもととなった。  
また、その影響は、「都市国家」ローマへも及び、やがて都市国家ローマは、(ウ)半島を統一し、紀元前27年には、地中海周辺地域をすべて支配下におさめる広大な《ローマ帝国》として栄えた。その支配地であるパレスチナに生まれた(エ)によって、のちにヨーロッパ全体に広がることとなる宗教である(オ)が生まれた。

【語群】

[ ポリス イベリア イエス イタリア  
オリンピック キリスト教 イスラム教 ]

(3) 一方、紀元前2500年ころより[B 文明]では、モヘンジョ・ダロやハラッパといわれる遺跡で、高度な都市づくりの土木技術のあとが発見され、未解読ではあるが文字も発見されている。  
しかし、やがてここには、紀元前1500年ころに(ア)人が侵入し、現在もインドの民主化を阻(む)んでいるきびしい身分制度である

(イ) 制度を持ち込み、定着させた。

ただし、ここでも紀元前5世紀には、(ウ) がはじめた宗教である(エ) がおり、やがて中国・朝鮮などの東アジアや、東南アジアへと広がっていった。

【語群】

( ヒンズー教      カースト      仏教      シャカ )      ( アーリア )

4 次の年表を見て、答えなさい。

中 国	年 代	日 本
夏王朝がおこる 殷王朝がおこる ..... A	1万6000年 前ころ 紀元前1600 年ころ	○ 縄文文化 ..... (a)
① 王朝が成立 [春秋時代]	紀元前1100 年ころ 紀元前770年	○ 弥生文化 ..... (b)
儒教(儒学)を説く ..... B [戦国時代]	紀元前6世紀 ころ 紀元前403年	
② 王朝による統一 ..... C	紀元前221年	
③ 王朝の成立 ..... D	紀元前202年	

1 年表中、中国の ① ~ ③ にあてはまる「王朝」名を答えなさい。

2 年表中Aでは、右の図のような「文字」が、牛骨や亀の甲羅などに書かれていました。のちの漢字のもととなるこの「文字」を何といいますか、答えなさい。



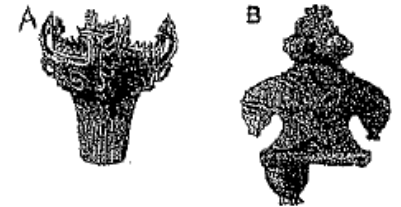
3 年表中Bの儒教を「説いた」人物を答えなさい。

4 年表中Cの時、始皇帝がつくらせたとされる“万里の長城”は、何のためにつくらせたのですか、簡単に理由を説明しなさい。

5 年表中Dのころ、中国から西方へ絹織物などを、そして、西方からは馬、ぶどうインドからは仏教などを伝えた交易ルート(道)を何と呼んでいますか。


6 年表中(a)について次の問いに答えなさい。

(1) 右の二つの出土品は、それぞれ何とよばれるものですか。



(2) このころの人々の生活は、海岸や水辺に食べ物の残りかすなどを捨てたあとから見つかります。日本中にあるこのあとを何とよびますか。

(3) この時代の大規模な遺跡(復元)として、右のようなものがあります。三内丸山遺跡よばれるこの遺跡は、今の何県にありますか。



7 年表中(b)について次の問いに答えなさい。

(1) この時代から左のような建物(復元)が見つかっています。これは、どんなことに使われましたか、簡単に説明しなさい。



(2) この時代の大規模な集落のあと(左の写真・復元)が佐賀県で見つかっています。静岡県の登呂遺跡とならんで有名なこの遺跡の名前を答えなさい。



5 次の文章を読んで、次の問いに答えなさい。

紀元前4C.頃、大陸から九州北部にやってきた人々によって、稲作が伝えられ、社会のしくみが大きく変化した。同じ頃、武器や工具の材料となる、(a)青銅器や鉄器なども伝わった。

紀元前後、中国の歴史書に、(b)日本のことが記録されるようになった。日本の王は、(c)中国の皇帝に貢ぎ物を送り、王の地位を認めてもらおうとした。

1 右の写真は、下線部(a)青銅器の一種で祭りの宝物として使われていたらしい。

(1)・(2)をそれぞれ何とよびますか。

(1)



(2)



2 下線部(b)日本について、答えなさい。

(1) 当時、日本のことを中国では、何とよんでいましたか。

(2) 紀元57年、日本のある「奴」が中国に使いを送った。そのお返しに、光武帝(こうぶてい)は金印と印綬(いんじゆ)という紐(ひも)を授けた。  
(『後漢書』東夷伝より)

この証拠となる金印が、江戸時代に博多から見つかりました。右の写真です。何と書いてありましたか、漢字5文字で答えなさい。



3 下線部(c)のことを、何とよびますか、答えなさい。

4 右の資料を読んで、答えなさい。

(1) 239年の事として、中国の歴史書に書かれている。

文中の(ア)は、誰ですか、名前を答えなさい。

(2) これは、中国の何という「国」の歴史書に書かれていますか。

その国では、もとは男の王が治めていたが70～80年たつと、戦乱が何年も続くようになった。そこで、一人の女性を王とした。名を(ア)という。鬼道(きどう)=まじないによって国を治めた。夫はなく、弟が助けていた。

5 4世紀の頃の日本のことは、中国の歴史書に現われず、日本の軍が、朝鮮の百濟(はくせい、びやくせい、びやくせい)や伽耶(かや)・任那(にんな、にんな)地域の国々と結んで、高句麗(こうくり、こうくり)や新羅(しんら、しんら、しんら)と戦ったことが「石碑」に刻まれています。

この、石碑をつくらせた高句麗の王は、誰ですか、名前を答えなさい。

6 5世紀になると、日本はたびたび中国南朝の「宋」に使いを送ったことが記述されるようになる。

(1) そのころ、九州から東北地方南部までを従えた勢力は、大和政権とよばれました。現在の何県を中心としていたものですか。

(2) 大和政権に関する、次の文を読んで答えなさい。

大和政権は、朝鮮半島から一族でまとまって(a)移り住んできた人々を、さまざまな技術や学問などをもたらす人々として大切にし、保護していった。また、(b)前方後円墳などをつくる技術や、(c)獲加多支盧(わかつしる)大王と彫りこまれた「鉄剣」が、埼玉県(d)稲荷山古墳から発掘され、その支配が関東にまで及んでいたことを示している。

1. 下線部(a)の人々を何と呼んでいましたか、答えなさい。

2. 下線部(b)を上空から見た「絵」を書きなさい。

3. 下線部(c)は、次の誰ですか。あてはまる人物の記号を答えなさい。

ア 倭王 讚      イ 倭王 珍      ウ 倭王 済  
エ 倭王 興      オ 倭王 武

4. 下線部(d)は、何市にありますか、答えなさい。

# ② 模範解答

1年生 前期中間テスト (社会科) 解答用紙


① 各2点 ⑫	1	できごと	イエス=キリストが生まれた	前年	紀元前1年
	2	紀元前	B. C.	紀元(後)	A. D.
	3	(1)	3 世紀	(2)	21 世紀

② 各2点 ⑬	1	猿人 (漢字のみ)	2	打製石器	3	土器	
	4	ア	アジア	イ	食料	ウ	戦争
		エ	税	オ	鉄器		

③ 各2点 ⑭	1	A	メソポタミア文明	B	インダス文明			
	2		チグリス川					
	3	(1)	ア	ナイル川	イ	ピラミッド	ウ	ヒエログリフ
			エ	太陽暦	オ	くさび形文字	カ	七曜制
			キ	60進法	ク	オリエント		
	3	(2)	ア	ボリス	イ	オリンピック	ウ	イタリア
			エ	イエス	オ	キリスト教		
			(3)	ア	アーリア	イ	カースト	ウ
	エ	仏教						

1年 組 番 名前

④ 各2点 ⑮	1	①	周	②	秦	③	(前)漢	
	2		甲骨文字	3			孔子	
	4	(例)	北方からの遊牧民の侵入を防ぐため					
	5		シルクロード (絹の道)					
	6	(1)	A	縄文土器	B			土偶
		(2)		貝塚	(3)			青森県
	7	(1)	(例)	栽培し、刈り取った米を貯蔵しておく倉庫として				
(2)			吉野ケ里遺跡					

⑤ 各2点 ⑯	1	(1)	銅鏡	(2)	銅鐸			
	2	(1)	倭	(2)	漢倭奴国王 (漢字のみ)			
	3		朝貢					
	4	(1)	卑弥呼			(2)	魏	
			好太王 (広開土王)					
	6	(2)	(1)	奈良県				
			1.	渡来人			2.	前側  後側
				オ				
				行田市				