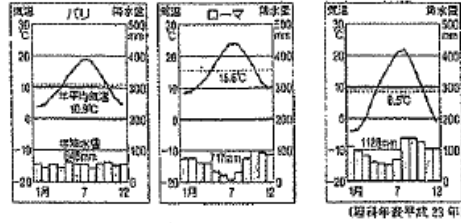


3 学期テスト社会 1 年 < NOI >

【1】あきとさんは、今年の夏休みにヨーロッパを旅行することになりました。資料1～3を見て、次の問いに答えなさい。

- (1) はじめにローマに行ったあきとさんは、ローマとほぼ同緯度である日本のある都市の気温と降水量のグラフ(資料2)を準備し、日本とイタリアの気候を比較しました。この日本の都市を下のア～エから一つ選び、記号で答えなさい。また、二つのグラフを比べたあきとさんの考察として正しいものを下のオ～ケからすべて選び、記号で答えなさい。
(都市) ア 大阪市 イ 札幌市
ウ 仙台市 エ 横浜市
(気候についての考察)

【資料1】パリとローマの気温と降水量 【資料2】日本のある都市の気温と降水量



【資料3】ヨーロッパの降水量



- オ ローマが資料2の年より気温が低いのは、ヨーロッパが大陸性の気候であるためと考えられる。
カ ローマが資料2の都市より気温が高いのは地中海に面しており、地中海性気候の影響を受けているためと考えられる。
キ 資料2の都市がローマより降水量が多いのは、冬場の降雪による影響を受けているためと考えられる。
ケ 資料2の都市がローマより降水量が少ないのは、気温と降水量が比例関係にあるためと考えられる。

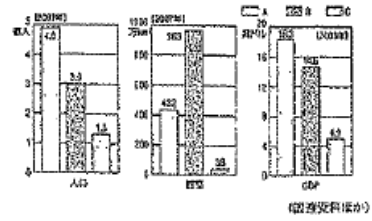
(2) ローマを出発したあきとさんは、次にパリに滞在しました。次の会話は、パリに住んでいる親戚と食事した時のものです。あきとさんの説明が正しければ○、また誤りであれば×で答え、正しい説明に直しなさい。

- ア ローマでは海水浴を楽しみました。日本と同じで湿気が高かったので、気持ちよかったです。
イ 飛行機で北へ向かっている時、アルプス山脈を通過しました。パリはローマよりも涼しい夏ですね。
ウ ローマより北に位置しており、パリの夏はローマよりもむし暑く感じます。

- (3) 最後にあきとさんはノルウェーに行き、その時の感想を書きました。次のア～エのうち、正しいものを一つ選び、記号で答えなさい。
ア 北ヨーロッパには、ノルウェーのようなリアス式海岸が多数あります。
イ 氷河によってつくられたフィヨルドは、複雑な地形でした。
ウ スカンジナビア半島の東に位置するノルウェー、ヨーロッパの中でも比較的降水量の少ない国です。
エ 低緯度に位置するノルウェーは暖流と偏西風の影響を受けなため、夏でも大変寒いです。

- (4) 資料1, 2を見て、次の問いに答えなさい。
① 資料1のうち、EUにあたるものをA～Cから一つ選び、記号で答えなさい。
② 資料2は、EU加盟国の多くの国で使用されている共通通貨です。この名称を答えなさい。また、共通通貨を導入する利点を説明しなさい。
③ EUについて、あてはまらないものをア～エの中から一つ選び、記号で答えなさい。
ア 国家のわくをこえて、加盟国間が経済的に協力している。
イ ヨーロッパ各国は面積や人口規模が小さいので、加盟国間の政治的結びつきを強めている。
ウ ヨーロッパ内を移動する場合、すべての国でパスポートの検査がなく、自由に国境を通過できる。
エ 世界の政治や経済に大きな影響を与える存在である。

【資料1】EU, アメリカ, 日本の比較



【資料2】共通通貨

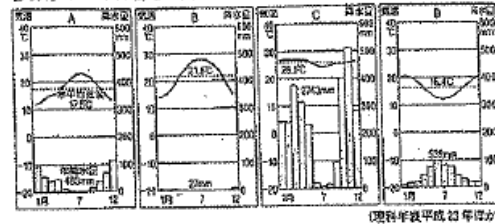


- 【2】次の各問に答えなさい。
(1) 右のアフリカの農業の資料は、Aさんがアフリカの農業について学習した時のものです。①～③に答えなさい。
① Aさんはアフリカでカカオや茶が栽培されていることを知り、資料を見てそれらの生産について仮説を立てました。仮説が正しいものを次のア～エから一つ選び記号で答えなさい。
ア 大消費地となるヨーロッパに輸出しやすいよう、すべて西アフリカで生産しているのではない。
イ カカオと茶は、ともに赤道に近く、気温が高い地域で生産しているのではない。
ウ 大量消費を目的として、アフリカ内の人口が集中している地域で生産しているのではない。
エ 乾燥に強い農産物のため、広大なさばくを活用して大量に生産しているのではない。
② Aさんは、さらに調査を進め、これらの農産物はプランテーションで生産されていることを知りました。このプランテーションとはどのような農園のことか、説明しなさい。
③ 下の資料は、右の地図中のア～エの4都市の気温と降水量をあらわしている。地図中のエにあたるものを資料のA～Dから一つ選び、記号で答えなさい。また、選んだ理由を説明しなさい。

【資料】アフリカの農業



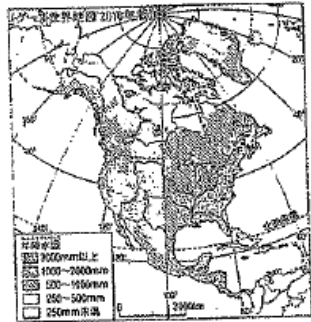
【資料】アフリカ各地の気温と降水量



3 学期テスト社会 1 年 < NO2 >

(2) 下の資料 1・2 を見て、①～⑤の問いに答えなさい。

【資料 1】北アメリカの降水量



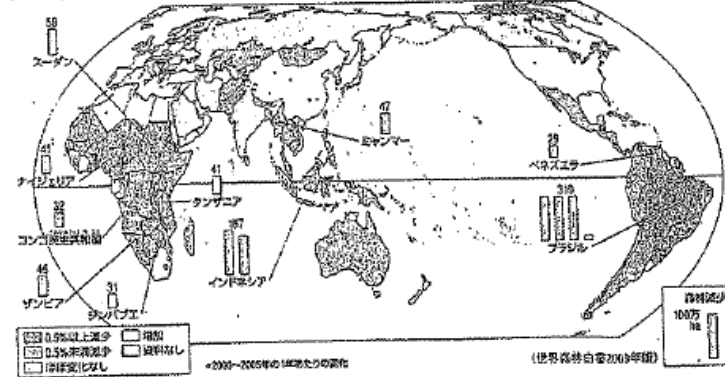
【資料 2】アメリカ・カナダの農業地域




- ① 綿花の主な栽培地域は、北アメリカのどの地域でしょうか。資料 1, 2 を比較しながら説明しなさい。
- ② 北アメリカの農業は、西経 100 度を境に東と西で特色ある農業を行っています。資料 1, 2 を比較しながら、東西の農業の特色について説明しなさい。
- ③ 地形、気温、降水量などの自然条件にあった作物を生産することを何というか答えなさい。
- ④ 北アメリカの農業のように、市場への出荷を目的として、広大な農地で労働者をやとい大型機械を使って行う農業を何というか答えなさい。
- ⑤ 北アメリカの農業について学習したことをもとにして、日本の農業の課題はどのようなことだと考えられるか簡単に説明しなさい。

(3) 下の資料 1～3 を見て、①～④の問いに答えなさい。

【資料 1】世界の森林減少率

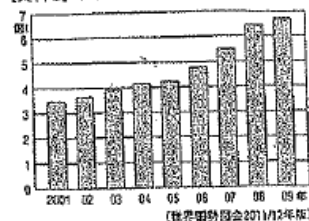


【資料 2】1990 年と 2000 年のアマゾンの衛星写真



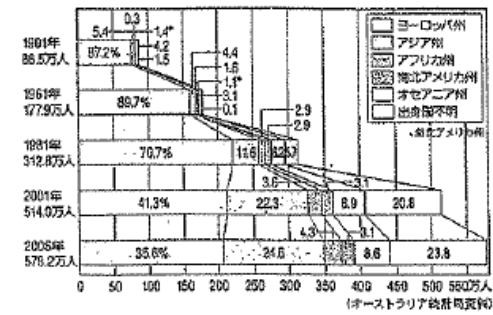
- ① 資料 1 で森林の減少率が 0.5 % 以上の地域が多いのは、どの大陸でしょうか。二つ選び大陸名を答えなさい。
- ② 資料 2 の 2 枚の衛星写真を比較するとどのようなことがわかるか、簡単に説明しなさい。
- ③ 資料 3 を見て、ブラジルのさとうきび生産について読み取れることを、その理由にふれながら説明しなさい。
- ④ ①～③をふり返りながら、森林の減少とさとうきび生産の増加との関係について説明しなさい。

【資料 3】ブラジルのさとうきびの生産量の移り変わり



(4) AさんとBさんは、オーストラリアの学習を進める中で、オーストラリアは移民が多いことがわかりました。二人の会話を読んで、①～⑤の問いに答えなさい。

【資料 1】オーストラリアにくらす移民の出身州別割合の移り変わり



【資料 2】アボリジニの居留地域



Aさん：オーストラリアは、たくさんの人々が移住してきた国だよ。
 Bさん：そうだよ。まず、18 世紀後半にイギリス人が入植し、イギリスの植民地になったんだ。
 Aさん：その後、移住の様子はどのようになっていったのかな。
 Bさん：19 世紀から中国系の移民が増加し、a 20 世紀はじめからヨーロッパ系以外の移民が制限されたんだ。その後、1970 年代以降、アジアとの結びつきが強まって、ヨーロッパ以外の移民を積極的に受け入れるようになってきたよ。
 Aさん：オーストラリアは、b 多様な民族が共存して、それぞれの文化を尊重している国なんだね。

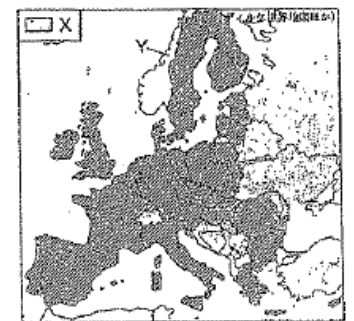
- ① 資料 1 を見て、アジア州からの移民が急速に増加したのは何年からか、答えなさい。
- ② 下線部 a は何という政策（主軸）か、答えなさい。
- ③ 下線部 b を何社会と呼ぶか、答えなさい。
- ④ ささまざまな国から人々が移住してきたことによって、オーストラリアはどのように変化したが、あはまらないものを次のア～エから一つ選び、記号で答えなさい。
 ア 非ヨーロッパ系の移民などを積極的に受け入れている。
 イ シドニーやメルボルンには、チャイナタウンがつけられた。
 ウ 移民の出身州では、アジア州が最も多い。
 エ チャイナタウンには、東南アジアや中国本土など、さまざまな地域出身の華人が生活している。
- ⑤ 資料 2 からアボリジニの居留地域にはどのような特徴があるといえるか、簡単に説明しなさい。また、近年、下線部 b の動きが広がる中で、政府のアボリジニへの対応が変わってきている例を一つあげなさい。

【3】地図 I～V を見て、問いに答えなさい。

(1) 地図 I を見て答えなさい。

- ① X の地域で行われている農業を何というか答えなさい。
- ② で示した国々で構成されている組織の略称をアルファベットで答えなさい。
- ③ Y の海岸線に見られる米河によってつくられた複雑な地形を何というか答えなさい。

地図 I



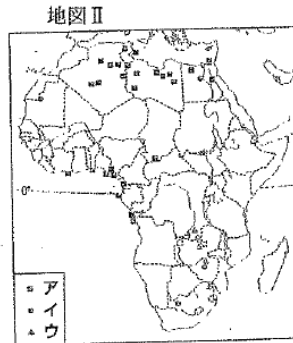
3学期テスト社会1年《NO3》

(2) 地図Ⅱを見て答えなさい。

- ① 地図中のア～ウで多く産出される鉱産資源を、それぞれ下から選んで答えなさい。

[石油・天然ガス 金 石炭 銅 鉄鉱石]

- ② アフリカやアジア、南アメリカ等で見られるプランテーション農業はカカオやコーヒー、天然ゴムなど輸出作物です。この輸出作物は別に何作物というか答えなさい。
- ③ 近年、アフリカなどで産出する希少金属(レアメタル)が重要性を増している。その理由を「最新」の語句を使って簡単に書きなさい。

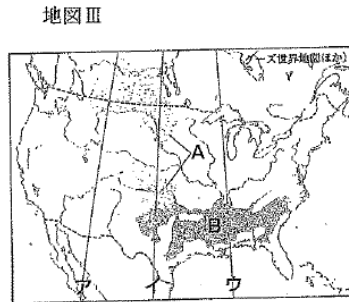


(3) 地図Ⅲを見て答えなさい。

- ① 東西で降水量が大きく変わる西経100度線を、ア～ウから記号で選びなさい。
- ② 小麦の生産地は、A・Bのどちらか答えなさい。
- ③ 次のa～dのカッコにあてはまる語句を、それぞれ下から選んで答えなさい。

アメリカでは、経済の中心が(a)や機械から(b)や先端産業に変わるにつれて、工業の中心が大西洋岸や(c)沿岸から南部の(d)に移動しました。

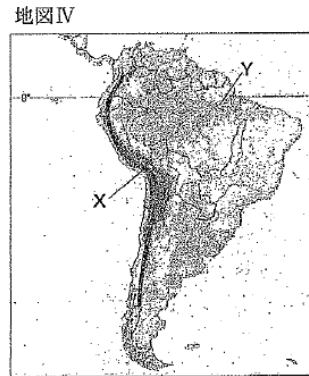
[五大湖 情報 サンベルト 鉄鋼]



- ④ 近年アメリカで増加している、スペイン語を話すメキシコや西インド諸島からやってきた移民を何というか答えなさい。

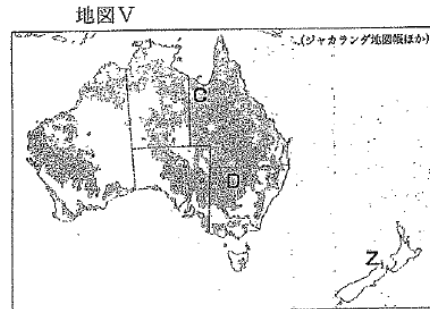
(4) 地図Ⅳを見て答えなさい。

- ① Xの山脈名とYの河川名を答えなさい。
- ② 南アメリカで、ヨーロッパの影響を受けて多くの人が信仰するようになった宗教名を答えなさい。
- ③ 南アメリカの森林地帯では、木を切りたおして燃やした灰を肥料にして作物を栽培する農業がおこなわれてきた。このような農業を何というか答えなさい。



(5) 地図Ⅴを見て答えなさい。

- ① Zの島国名を答えなさい。
- ② オーストラリアでは、牧畜がさかんです。CとDでそれぞれ飼育されている家畜名を答えなさい。また、地域によってなぜ家畜がちがうのかその理由も答えなさい。



(1)都市	イ	カ	キ	
(2)ア	X	日本より湿度が低い	イ	〇
(3)			ウ	X
(4)①	A	② ユーロ	③ 他国での買い物が楽	④ ウ

(1)①	イ	② 熱帯地方の大規模な農園のこと
③	D	理由 南半球なので夏の気温が低いから
(2)①	降水量1000~2000mmの地域で栽培されている	
②	西は降水量が少なく放牧が中心。東は綿花だいがとうもろこしなどを生産している。	
③	適地適作	④ 企業的農業
(2)⑤	北アメリカは、広大な土地で機械化により、大量生産できるが、日本は、機械化が進められない。	
(3)①	アフリカ 大陸	南アメリカ 大陸
②	道路や農地が増加している	
③	さとうきびは、さとうがけだけでなく、バイオエタノールにも加工されている	
④	森林を大規模に伐採して、焼き払い、さとうきびをつくる畑にしている	
(4)①	1981年	② 白豪 政策
③	④	ウ
⑤	居留地域 大陸中央や南に多い ① 先住権や居留地域の所有権を認める	

(1)①	混合 農業	② E.U.	③ フォールド 海岸
(2)①	石油・天然ガス	イ 鉄 鉛 石	ウ 金 銅
②	最新の電子機器に多く使われる金属があるため。		
(3)①	イ	② A	③ 鉄鋼 情報 五大湖 サンプル
④	ヒスパニック		
(4)①	アンデス 山脈	アマゾン 川	② キリスト教 ③ 焼畑 農業
(5)①	ニュージーランド		
②	牧牛	〇	牧羊
理由	降水量の少ない地域は、乾燥に強い羊の飼育が、地域は牛		

- ① (1)の [] 両方ごとき2点、それ以外はX
 ③ (3)の ①②③各1点、それ以外は各2点。