

第1学年 3学期期末テスト 社会 組 番 氏名

※別刷りの資料を参照しながら解答しなさい。

1. 平安時代に関する次の文を読み、以下の問題に答えなさい。

奈良時代の後半、強大化する寺社勢力の影響から逃れて政治を刷新するために、桓武天皇は都を①平安京に移しました。また、この時期、朝廷は東北地方の支配にも乗り出しました。9世紀のはじめ、中国に渡っていた②最澄と空海が帰国し、仏教の新しい宗派を日本に伝えました。いずれも人里離れた山奥の寺で、厳しい修行や学問に打ち込むことが特徴です。9世紀後半になると藤原氏が他の貴族の影響を退けながら③摂関政治を始め、政治の実権を握るようになりました。10世紀になると地方にも④都にも武士が登場します。この武士達の中心となったのが、それぞれ天皇の血筋にあたる源氏と平氏でした。その後、藤原氏の影響を退けた⑤白河天皇が位をゆずって上皇となり、政治を行いました。上皇はそれまでにない政治を行ったので、やがて⑥政治の実権をめぐる争いから武士が活躍するようになりました。

(1)下線部①の平安京はどこで、また現在の何市か。資料1の①～⑦の場所を番号で選び、現在の市名は漢字で答えなさい。

(2)下線部②の最澄と空海が開いた宗派と寺の組み合わせとして、正しいものを、次のA～Dから選び、記号で答えなさい。

- A【 最澄・真言宗・高野山金剛峯寺 空海・天台宗・比叡山延暦寺 】
 B【 最澄・真言宗・比叡山延暦寺 空海・天台宗・高野山金剛峯寺 】
 C【 最澄・天台宗・高野山金剛峯寺 空海・真言宗・比叡山延暦寺 】
 D【 最澄・天台宗・比叡山延暦寺 空海・真言宗・高野山金剛峯寺 】

(3)下線部③の摂関政治について、どのように藤原氏が力を伸ばしたのか。資料2を参考にしながら「自分の娘」と「摂政・関白」の2つの語句を使って説明しなさい。

(4)下線部④の都に武士が登場する理由として当時の都でなにが多く起こっていたか。資料3から読み取れることをふまえて答えなさい。

(5)下線部⑤のような政治を何というか。漢字2字で答えなさい。

(6)下線部⑥の争いの中で、平氏の台頭が決定的となった1159年の戦乱は何か。

(7)下線部⑥の争いの末に、武士として初めて太政大臣となった人物は誰か。漢字で答えなさい。

(8) (7)の人物の力の背景には、豊かな財力があつた。その財力を支えていた活動を、資料4をふまえて答えなさい。

2. 鎌倉時代に関する以下の問題に答えなさい。

(1)平氏を滅亡させ、鎌倉に武士政権である鎌倉幕府を開き、幕府の初代将軍となった人物は誰か。漢字で答えなさい。

(2) (1)の人物が、守護・地頭の設定を行った年で、近年、鎌倉時代の始まりとされているのは西暦何年か。次の選択肢から選び、記号で答えなさい。

- 【 A: 1156年 B: 1185年 C: 1192年 D: 1221年 】

(3)資料5は鎌倉幕府の組織図である。図中の六波羅探題が設置されたきっかけとなった戦乱は何か。漢字で答えなさい。

(4)資料6の問注所は裁判を行う機関である。当時どのような裁判が多かったか。資料6から読み取れる内容を使って説明しなさい。

(5)資料7は当時の武士の鎧の類型である。それまでの貴族の鎧にはない工夫が見られるが、どのような工夫が、何の目的でされているか。資料から読み取れる範囲で1つ答えなさい。

(6)このころ、農民たちは米を収穫したあとに麦を作るなどして、収穫量を増やした。このような手法を何というか。漢字で答えなさい。

(7)モンゴル帝国の第5代皇帝で、国名を元と定め、元寇を行った人物は誰か。

(8)元軍が2度にわたって日本を攻めた元寇のうち、はじめて元軍が日本に攻めてきた西暦は何年か。

(9)資料8は鎌倉時代に広まった仏教の宗派を説明した表である。これらの宗派は平安時代までの宗派よりも広く、民衆に広まった。その理由は何か。

3. 室町南北朝時代に関する次の文を読み、以下の問題に答えなさい。

鎌倉幕府を滅ぼした後醍醐天皇は1333年に①新たな政治を始めました。その後、足利尊氏と対立し奈良の吉野に逃れた後醍醐天皇と、京都で新たに天皇をたてた尊氏との間で、二つの朝廷が生まれました。この状態は、室町幕府を開いた尊氏の孫、8代将軍、Aの代になって統一されるまで続きました。この時代を南北朝時代と呼びます。

Aは②中国との間で積極的に貿易を行い、富を蓄えましたが、③海賊に苦しめられました。当時の東アジアでは朝鮮半島のB、琉球王国など貿易によって栄えた新興国がありました。

農村では有力な農民を中心に、④自治組織がつくられるようになりました。商業も発展し、豊かな時代となりますが、C年、京都で赤松の乱が起り、時代は戦国へ移ります。

(1)資料9は下線部①を行った後醍醐天皇の政治について、都の人が思いをつづった看板の要約(二条河原の落書)である。当時の人々はどのような印象をこの政治に持っていたと考えられるか。資料を部分的に引用して具体的に答えなさい。

(2)資料10は室町幕府のしくみである。空欄に当てはまる幕府の役職名を、漢字で答えなさい。

(3)南北朝の動乱をおさめた、空欄Aの人物は誰か。フルネームを漢字で答えなさい。

(4)下線部②の時代、中国は何という王朝か。また、空欄Bに当てはまる国は何か。正しいものを次の中からそれぞれ選び、記号で答えなさい。

中国の王朝【 A: 明 イ: 唐 ウ: 漢 エ: 元 オ: 隋 】

Bの国【 A: 百済 イ: 新羅 ウ: 朝鮮国 エ: 高麗 オ: 高句麗 】

(5)下線部③の海賊対策の一環として、正規の貿易船に証明書を発行した。この証明書は何か。

(6)下線部④の自治組織を何というか。漢字一字で答えなさい。

(7)空欄Cに入る西暦を答えなさい。

(8)資料11は室町時代の守護大名の配属図と戦国時代の大名の勢力図である。室町時代と比較し、どのような変化が大名に起こったか。資料から読み取れることを簡潔に述べなさい。

(9)資料12は当時の田植の様子を示す絵である。重労働である田植をより良く行うため、どのような工夫が絵から見られるか。2つ答えなさい。

4、中世ヨーロッパおよび、安土桃山時代に関する年表を見ながら、次の問いに答えなさい。

(1)年表中の空欄Aに当てはまる語句を答えなさい。

時代	世界のできごと
970年	イスラム帝国(ファティマ朝)がエルサレム占領
1054年	キリスト教がAと正教会に完全に分裂
1096年	第1回十字軍が出兵
14世紀	①ルネサンスがはじまる
1492年	コロンブスが新大陸到達
1497年	Bがアフリカ南端を経てインドへ向かう
1514年	ローマ法王が免罪符を販売
1517年	②ルターがローマ法王を批判
1519年	マゼランが世界一周へ
1538年	③スペインが南米インカ帝国を植民地化
1534年	イエズス会結成

(2)下線部①のルネサンス期における建築物の特徴を、資料13をからよみとれることをふまえて述べなさい。

(3)空欄Bに当てはまる人物は誰か。

(4)下線部②から始まった、キリスト教世界を二分する改革を何というか。

(5)下線部③以降、大西洋を中心とした貿易の構図を示したものが、資料14である。資料14の空欄にあてはまる貿易の商品は何か。

(6)空欄Cに当てはまる地名は何か。漢字で答えなさい。

(7)下線部④の政策を何というか。漢字4字で答えなさい。

(8)下線部⑤の政策を何というか。漢字4字で答えなさい。

(9)下線部⑥の刀狩令は、どのような目的があったといえるか。2つ答えなさい。

時代	日本のできごと
1543年	ポルトガル人がCに漂着し、鉄砲を伝える
1549年	イエズス会の宣教師が日本にキリスト教を伝える
1560年	織田信長が桶狭間の戦いで今川義元を破る
1567年	織田信長が④座や各地の關所を撤廃し、自由な商売を城下で認める
1573年	室町幕府最後の将軍、足利義昭を追放
1582年	本能寺の変 ⑤秀吉が全国の農地の測量を始める
1685年	四国平定(長宗我部氏)
1586年	九州征伐(島津氏)
1588年	⑥刀狩令
1589年	小田原征伐(北条氏)、天下統一

5、平安時代から安土桃山時代までの各時代の文化について、次の問いに答えなさい。

(1)平安時代、紫式部によってつくられた朝廷を舞台にした文学作品を何というか。漢字で答えなさい。

(2)平安時代の文化を何というか。漢字で答えなさい。

(3)資料14の人々が伝えた鎌倉時代の軍記物は何か。漢字で答えなさい。

(4)資料15の演劇を何というか。次の選択肢から記号で選びなさい。

【 ア：能 イ：歌舞伎 ウ：踊念仏 エ：狂言 】

(5)資料16は日本の和室の原型といわれている。この建築様式を何というか。次の選択肢から記号で選びなさい。

【 ア：校倉造 イ：費院造 ウ：寝殿造 エ：様現造 】

(6)資料17の作者は誰か。次の中から記号で選びなさい。

【 ア：狩野永徳 イ：雪舟 ウ：観阿弥 エ：長谷川等伯 】

(7)資料18が建てられた時代の文化の特徴としてふさわしい説明を、次の選択肢から記号で選びなさい。

- ア：日本の風土に合った貴族中心の日本独自の文化
- イ：仏教と唐の影響を強く受けた国際的な文化
- ウ：大名や大商人を中心とした豪華な文化
- エ：公家(貴族)と武士の文化が融合した華やかな文化
- オ：武士中心の簡素で気品ある文化

(8)資料19の左の仏像は、平安時代の阿彌陀如来像である。右側二体の仏像は鎌倉時代の金剛力士像である。それまでの仏像(左の阿彌陀如来像)とくらべて、金剛力士像にはどんな特徴があるか。またその特徴は、どんな時代背景によるものなのか。答えなさい。

(9)資料20は戦国・安土桃山時代に天下統一に関わった3人の武将の城である。これらの特徴である高くそびえる天守閣は、どのような目的でつくられたか。簡潔に説明しなさい。




以上で問題は終了です。
問題で問われていることに答えているか、解答条件(漢字、記号)は間違っていないか、よく見直して下さいね。

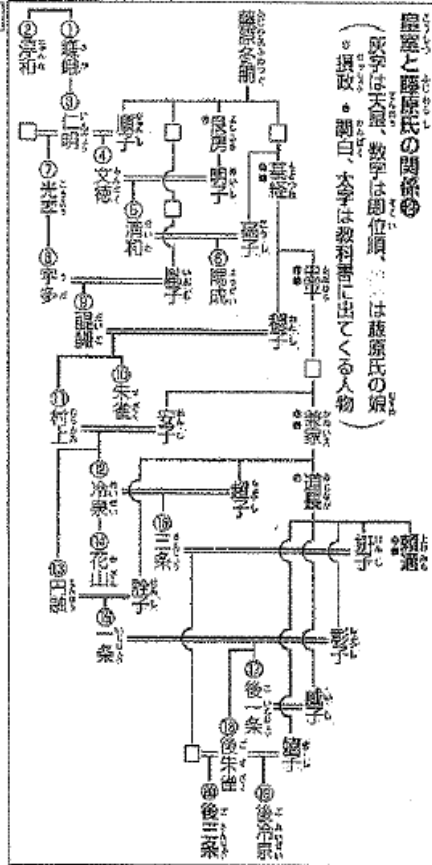
資料1



資料3



資料2

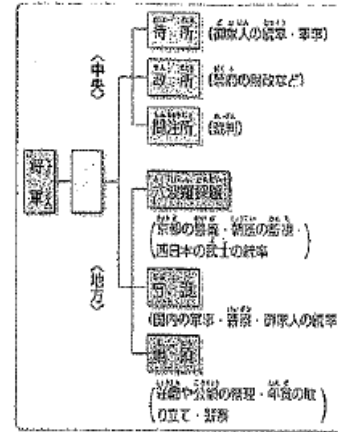


資料4

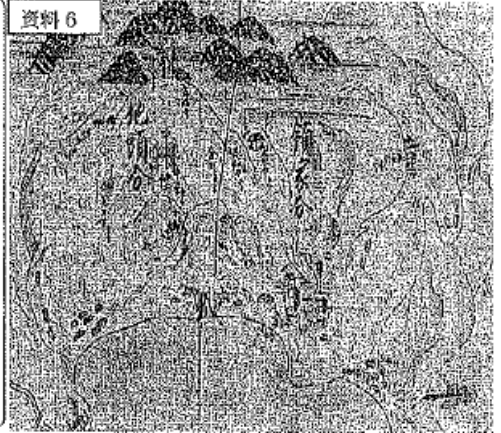


資料5


鎌倉幕府のしくみ



資料6



資料7



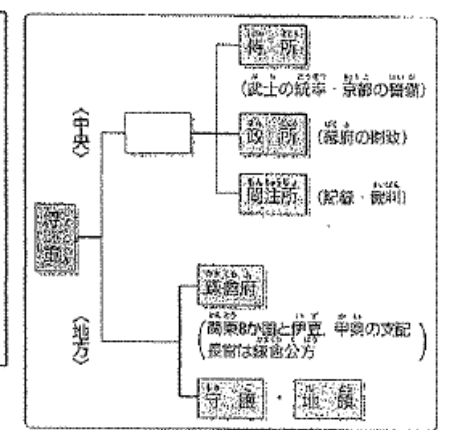
資料8



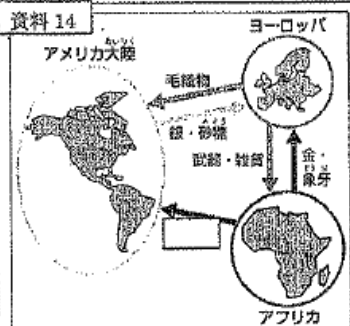

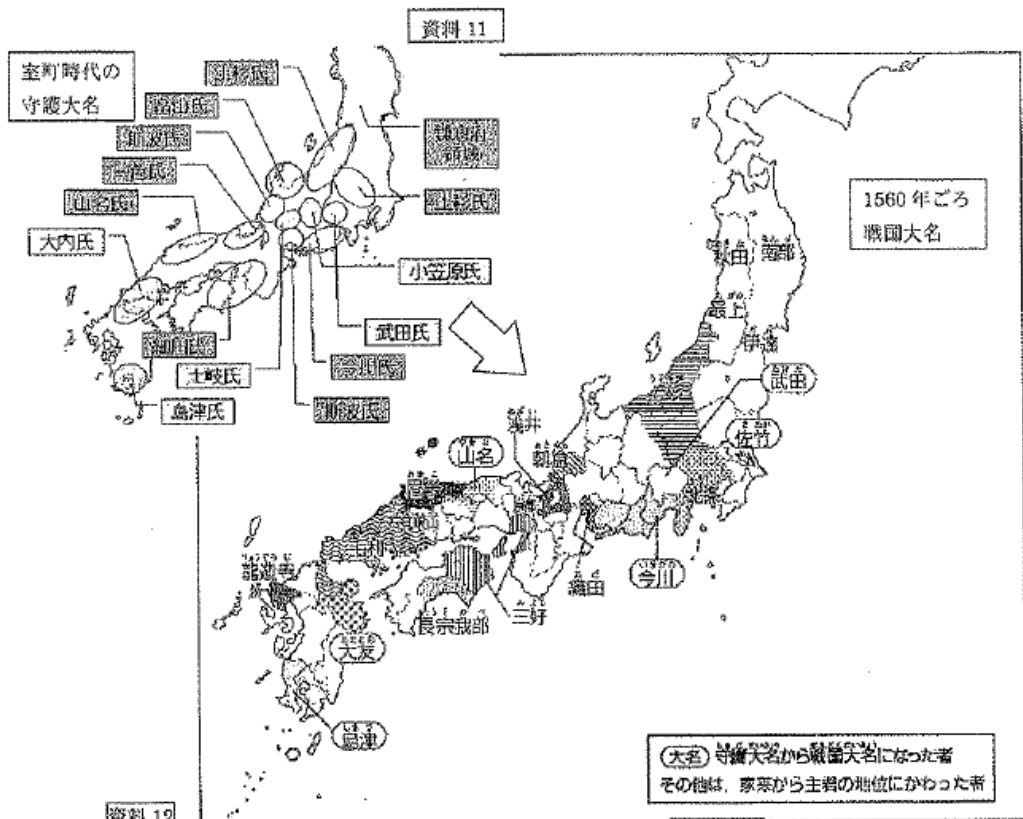
宗派	開祖	宗派の特徴
浄土宗	法然	念仏を唱えれば浄土(天国)へ行ける。
浄土真宗(一向宗)	親鸞	煩惱を持つ普通人(悪人)こそ、念仏を唱えることで救われる。
時宗	一遍	念仏を踊りながら唱える。
日蓮宗	日蓮	題目を唱えれば、人も国家も救われる。
臨済宗	栄西	座禅を組んで問答を解く。
曹洞宗	道元	ひたすら座禅を組んで悟りを開く。

資料9

二条河原審書(部分要約)
 この頃都ではやっているものは夜鷹、強盗、二七の天皇の命令、囚人、急使を乗せた早馬、大したこともないのに起こる騒動、生首が転がり、側が俗人に戻り、俗人が側になり、低い身分から大名になるものがあるかと思えば、その日生きるのもやつの者が出てきて、領地の保護や恩賞をもらうため、架空の戦がつくられる。

資料10 室町幕府のしくみ





番号	技能	知識	態度
(1) 番号【③】都市名【京都市】			
(2) 記号 D			
(3) 自分の娘を天皇のききとして、子とを産ませ、その子と世のやりかたに親政や関白として政治を行った。			
(4) 個が武装化して貴族の家をおこなった。			
(5) 院政			
(6) 平治の乱			
(7) 平清盛			
(8) 日宋貿易			

4 / 4 / 12 / 0

(1) 源頼朝			
(2) 記号 B			
(3) 承久の乱 <small>(4) 読み取れること</small> 貴族の土地分けを分けていたこと その土地が誰のものかを定める その土地が誰のものかを定める その土地が誰のものかを定める			
(5) 工芸 目的 散が攻めにくいように			
(6) 二毛作			
(7) フライパン			
(8) 1274年			
(9) かわいやくも実行しやあかつたから。			

4 / 4 / 12 / 0

(1) 夜襲や強盗、二七天皇の命令は必ず守るためやちやちや政治に不安。			
(2) 管仲			
(3) 足利義満			
(4) 中国の王朝【ア】Bの国【ウ】			
(5) 勸合			
(6) 惣			
(7) 1467年			
(8) 自分の低い者も勢力を伸ばしていったこと。			
(9) 多人数で行う、 百に並んで行方、 田楽で楽しませながら、			

4 / 4 / 12 / 0

番号	技能	知識	態度
(1) カトリック			
(2) 柱をたくぐん立っている 古代ギリシャの建築をまねている			
(3) バスコ・ダ・ガマ			
(4) 宗教改革			
(5) 好れい			
(6) 種子島			
(7) 奥平頼座			
(8) 太閤検地			
(9) 一揆が起らないようにするために。 武士と農民の身分をはっきりさせるため。			

4 / 4 / 12 / 0

(1) 源氏物語			
(2) 国風文化			
(3) 平家物語			
(4) 記号 A			
(5) 記号 A			
(6) 記号 A			
(7) 記号 A			
(8) 特徴: 力強い 時代背景: 武士中心の世の中			
(9) 自分の力を見せつけるため。			

4 / 4 / 12 / 0

20.18.60
/20 /20 /00 /0

記点 1問 2点 1問 4点

1年 組 番

氏名 永井 光 98 点

