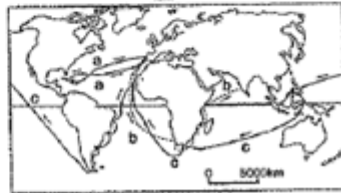


1 次の問いに答えなさい。

- A 15世紀末、スペイン・ポルトガルは、アジアへ行く新しい航路を開こうとした。
- B 16世紀初め、ヨーロッパではキリスト教会の腐敗をただそうとする宗教家たちが改革を始めた。かれらはカトリック教会の外で改革を進めたが、これに対して、カトリック教会を建て直す動きがおこり、(①) 会がその中心となった。(①) 会は、アジアやアメリカ大陸に宣教師を送った。
- C 織田信長は桶狭間の戦いで今川義元を破ったあと、まわりの大名をほろぼした。また、仏教勢力にはきびしい態度でのぞみ、屈服させた。信長は商工業の発展をはかるため、(②) の政策をとった。
- D 豊臣秀吉は、全国の田畑の面積や土地のよしあしを調べ、予想される収穫量をすべて米の体積である(③) であらわした。

問1 Aについて右の地図1のa~cを開いた人物をそれぞれ選んで答えなさい。



マゼラン コロンブス
バスコ・ダ・ガマ

- 問2 (①) ~ (③) にあてはまる語句を書きなさい。
- 問3 Bのカトリック教会の長を何といますか。
- 問4 ドイツの宗教家で、聖書のみにもとづく教会をめざして活動した人物は誰ですか。
- 問5 Cの織田信長が家臣の明智光秀にそむかれて自害した場所はどこですか。次から選んで記号で答えなさい。


【 あ：延暦寺 い：東大寺 う：清水寺 え：本能寺 】

- 問6 右の資料はDの豊臣秀吉がおこなった政策の一つです。何という法令ですか。
- 問7 Dの資料であらわされた政策や資料1の結果、武士や農民の身分にどのような変化がありましたか。説明しなさい。


資料1 (部分抜粋)
諸藩の官位がかわりざし、ち、やの、諸藩、そのほかの官位などを持つことは、かたく禁止する。不必要な官位をなくせ。等身その他の位をなかなかりんせ。つしは、一、位をくわたりたりして、諸藩に對してよからぬ行ふする者は、ちりるん、罰する。

問8 下の資料は、ルネサンス期の代表的な作品ですが、作者をそれぞれ選んで答えなさい。

【 レオナルド・ダ・ビンチ ボッティチェリ ミケランジェロ 】



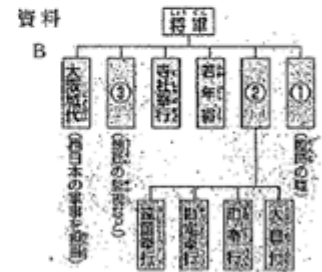
- 2 次の問いに答えなさい。
- 問1 右の資料は、おもな大名の配置です。Aは徳川氏の一門、Bは古くから徳川家の家臣として従っていた大名、Cは関ヶ原の戦い以後に従った大名です。A B Cの大名をそれぞれ何といますか。



問2 江戸幕府は、大名の配置にどのような工夫をしたか。資料の大名の配置から読み取れることを「江戸から遠い地域」という語句を使って説明しなさい。

問3 資料Bの幕府のしくみをみて、①~③にあてはまる役職名を次から選んで書きなさい。


資料A (1615年)
一 学問と武備にむいたら稱を出すようにしなさい。
一 諸藩の領地は、修繕する場合であっても、必ず幕府にもうし出ること。まして新しい領地をつくることは厳しく禁止する。
一 幕府の許可なしに、藩地を越へてはならない。(部分抜粋)



【 老中 六波羅探題 管領 京都所司代 關白 大老 】

- 問4 資料Aは1615年に出された法律ですが、何といますか。
- 問5 1635年3代将軍徳川家光の時に問3の法律に制度として大名が1年おきに領地と江戸を往復することとなった。この制度を何といますか。

問6 次の①②の下線部にあてはまる国や場所を、右の地図中の(a)~(d)からそれぞれ選び、記号と当時の国名や地名を書きなさい。



- ① この国は、薩摩藩に服属し、朝貢していた。将軍や国王の代がわりごとに、将軍にあいさつするための施設をつかわした。
- ② ここに住むアイヌの人々は、交易を独占していた松前藩に不満を持ち、17世紀後半に戦いを起こした。
- 問7 資料Cは、Qの藩を通じて将軍の代がわりごとなどに来日した使節です。この使節を何といますか。また、Qの藩は何藩ですか。次から選んで記号で答えなさい。

【 あ：川越藩 い：長州藩 う：隠岐藩 え：対馬藩 】

- 問8 江戸時代のはじめ、将軍の発行した渡航許可証を持つ船が、おもに東南アジアで行った貿易を何といますか。
- 問9 問7の貿易で多くの日本人が海外へ移住し、東南アジア各地にできた町を何といますか。

3 次の問いに答えなさい。

問1 ①～④にあてはまる語句や人物名を、次から選んで書きなさい。

- 異国船打払令
- 田沼意次
- 徳川吉宗
- 公事方御定書

年代	おもなできごと
1716年	(①)が第8将軍となる
1742年	裁判の基準となる(②)が制定される
1772年	(③)が老中となる
1787年	寛政の改革が始まる……………A
1825年	外国船の接近に対し、(④)が出される
1839年	葺社の獄が起る
1841年	天保の改革が始まる……………B このころ諸藩で改革が行われる

問2 ①の人物が行った、政治改革を何といいますか。

問3 ①の人物が行った政治改革を説明した次の文中の [] にあてはまる語句を書きなさい。

- ・大名が江戸にいる期間を1年から半年に短縮するかわりに、1万石につき100石の米を幕府におさめさせる [A] の制を定めた。
- ・庶民の意見を聞く [B] を設置した。

問4 ③の老中の時の政策として正しいものを2つ選んで記号で答えなさい。

- ア 倭約令の公布
- イ 倭物の輸出
- ウ 株仲間の奨励
- エ 旗本の借金帳消し

問5 A Bの改革を行った人物名を答えなさい。

問6 次のア～エの文は、A Bの老中のときに行われた改革です。

Aの改革で行われたもの、Bの改革で行われたものをそれぞれ選んで記号で答えなさい。


- ア: 物価の上昇をおさえるため、営業を独占している株仲間の解散を命じた。
- イ: 凶作やききに備えるため、各地に倉を設けて米をたくわえさせた。
- ウ: 江戸の湯島に昌平坂学問所をつくり、ここでは朱子学以外の学問を教えることを禁じた。
- エ: 倭約令を出して、町人の派手な風俗をとりしまり、風紀を乱す小説などの出版を禁止した。

問7 年表中の葺社の獄で渡辺崋山などが厳しい処罰を受けた理由は、幕府のどのような政策を批判したからですか。あてはまる理由を選んで1つ記号を書きなさい。

- ア: 渡辺崋山らは、外国船の打ち払いを批判する書物を書いた。
- イ: 渡辺崋山らは、天保のききんに対する幕府の対応を批判した。
- ウ: 渡辺崋山らは、印旛沼の開拓をする幕府を批判した。
- エ: 渡辺崋山らは、商品作物の栽培を制限した幕府を批判した。

問8 右の資料は、江戸時代の新しい農具です。a～cの名称を、次から選んで書きなさい。

- 備中ぐわ
- とうみ
- 千歯こき
- からさお



4 次の問いに答えなさい。

問1 右の表は、江戸時代の文化である。表中の(A)～(C)にあてはまる人物名を、次から選んで書きなさい。

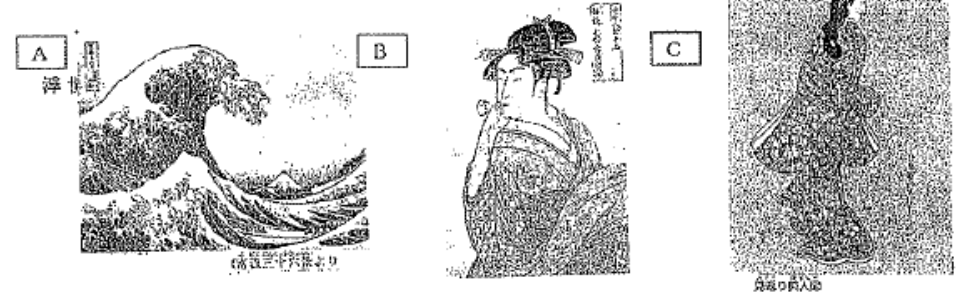
- 狩野永徳
- 井原西鶴
- 歌川広重
- 近松門左衛門

元禄文化	
文学	浮世草子……(A) 人形浄瑠璃……(B) 俳諧【俳句】……松尾芭蕉
絵画	(X)…… <u>蕨川師宣</u> が祖
(Y)文化	
文学	こっけい本……千道斎一久 俳句……与謝蕪村、小林一茶
絵画	美人画……喜多川歌麿 風景画……葛飾北斎、(C)

問2 表中のXYにあてはまる語句を書きなさい。

問3 本居宣長が「古事記伝」をあらわして大成した学問を何といいますか。

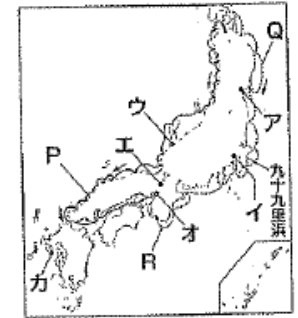
問4 杉田玄白らが「解体新書」を出版して基礎を築いた学問を何といいますか。



問5 上の作品は、表中の蕨川師宣、喜多川歌麿、葛飾北斎のいずれかのもので、それぞれの作者に該当する作品を選んで記号で答えなさい。

問6 次の①～③の都市を、右の地図中のア～カから選び、記号と都市名を書きなさい。

- ① 全国の商業や金融の中心地として「天下の台所」と呼ばれた。諸藩から集まった米や特産物を販売した。
- ② 古代には都がおかれ、西陣織や清水焼などのすぐれた工芸品を産出した。
- ③ 将軍の城下町として「将軍のおひざもと」と呼ばれ、18世紀のはじめには人口が約100万人の大都市に成長した。



問7 諸藩がオの都市に建てた、右の資料の建物を何といいますか。

問8 地図中の九十九里派でいわし漁がが大规模に行われるようになった理由を、農業に着目して説明しなさい。



• 岡山 ^{Yate} ₂₅ 組 番 名前

1	問1	① コロンブス	② ハスコ・ダ・ガマ	③ マゼラン	
	問2	① イエズス	② 楽市・楽座	③ 石高	
	問3	ローマ教皇 (ローマ法王)	問4 ルター	問5 え	
	問6	刀狩令	問7 武士と農民との区別がはっきりした。		
	2	問8	Aの 結 ボッティネリ	Bの 結 レオナルド・ダ・ビンチ	Cの 結 シケラン注口
		問1	A 親藩	B 譜代大名	C 外様大名
2	問2	外様大名を江戸から遠い地域に西に置いた。			
	問3	① 大老	② 老中	③ 京都所司代	
	問4	武家諸法度	問5 参勤交代	問6 ①の記号 a	
	問6	①の国名 琉球王国	問6 ②の記号 c	問6 ③の記号 蝦夷地	
	問7	朝鮮通信使	問7 え	問8 朱印船貿易	
	3	問9	日本町		

3	問1	① 徳川吉宗	② 公事方御定書	③ 田沼意次	
	問2	④ 異国船打払令	問2 享保の改革	問3 A 上げ米	
	B	目安箱	問4 イ。ウ。	問5 Aの人 松平定信	
3	問5	Bの人 水野忠邦	問6 Aの イ。ウ。	問7 Bの ア。エ。	
	問7	ア	問8 a 千歯こき	b 備中ぐわ	
	24	c とうみ			
4	問1	A 井原西鶴	B 近松門左衛門	C 歌川広重	
	問2	X 浮世絵	Y 化政 文化	問3 国 学	
	問4	蘭学	問5 ①の記号 C	②の記号 B	③の記号 A
	問6	①の 都市名 才 大阪	②の 都市名 工 京都	③の 都市名 イ 江戸	
24	問7	蔵屋敷	問8 月見米(干魚類)に加工されて売られるようになった。		