

終わったら挑戦だ！(算数以外の知識も使うぞ)



ワシからの挑戦はまだまだあるぞ！
さあ全問正解できるかな？

～挑戦①～(20点)

ペペロンチーノ君と濃美マヨネーズちゃんが100m競走をしました。ペペロンチーノ君は濃美マヨネーズちゃんより足が速く、濃美マヨネーズちゃんが90m地点のときにはゴールしています。そこで、ペペロンチーノ君は「ハンデをやる」と言ってスタート地点より10m後ろからスタートする事にして、もう1度競走しました。2人の速さを一定とすると、この第2レース、結果はどうなるでしょうか？

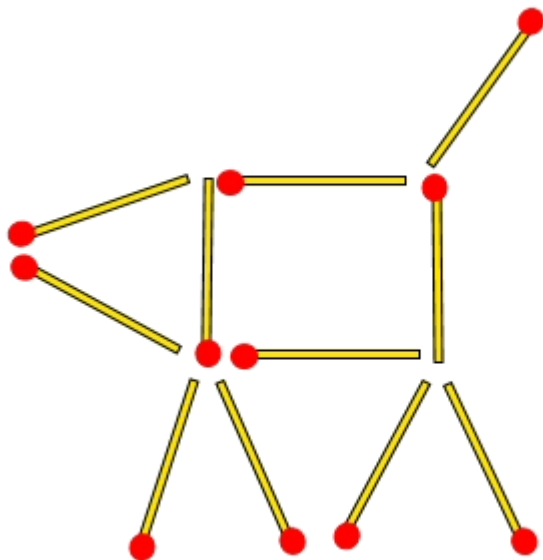
<答え>

勝つのは、()

～挑戦②～(20点)

ブタが道を通っているとき、スピードを上げて走ってきた自動車が、ブタをひいてしまいました。

2本のマッチ棒を動かして、歩いているブタを、自動車にひかれたブタにしてください。

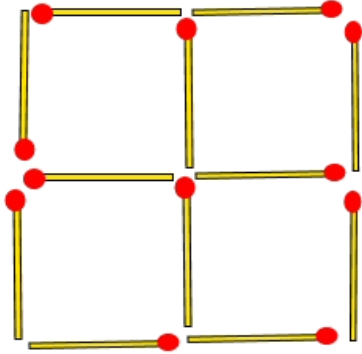


<答え>

勇者の名前 ()

～挑戦③～(20点)

図のような四角形があります。
3本のマッチ棒を動かして、
正方形を3つにしてください。



<答え>

～挑戦④～(20点)

次の口に入る数は？

$1 = 1$

$4 = 5$

$2 = 2$

$5 = 4$


$3 = 3$

$8 = \square$

<答え> ()

～挑戦⑤～(20点)

この旗の棒を3本だけ
動かして横にしてください。



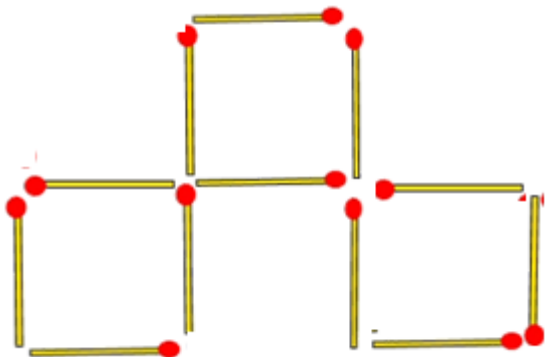
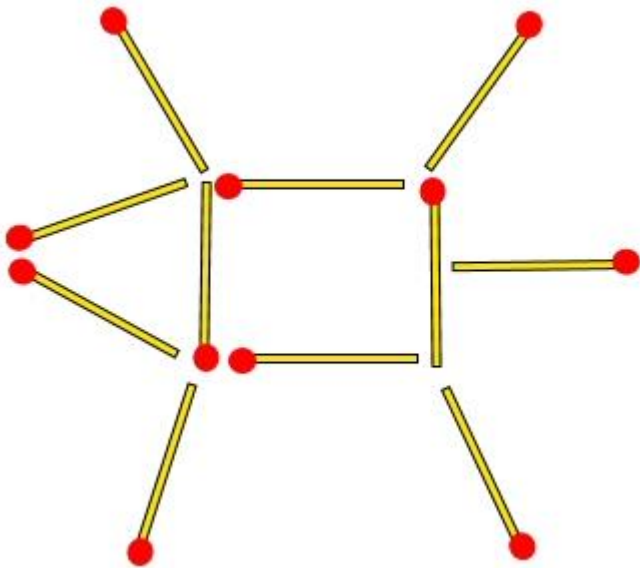
<答え>

得点

点

解答

ペペロンチーノ君が10m走ると濃美マヨネーズちゃんは9m走る。
このことから、
ペペロンチーノ君が110m走ると濃美マヨネーズちゃんは99m走る。
だからペペロンチーノ君が先にゴールする。



漢字で書いた時の画数ですね。なので八=2です。

ヨ
コ