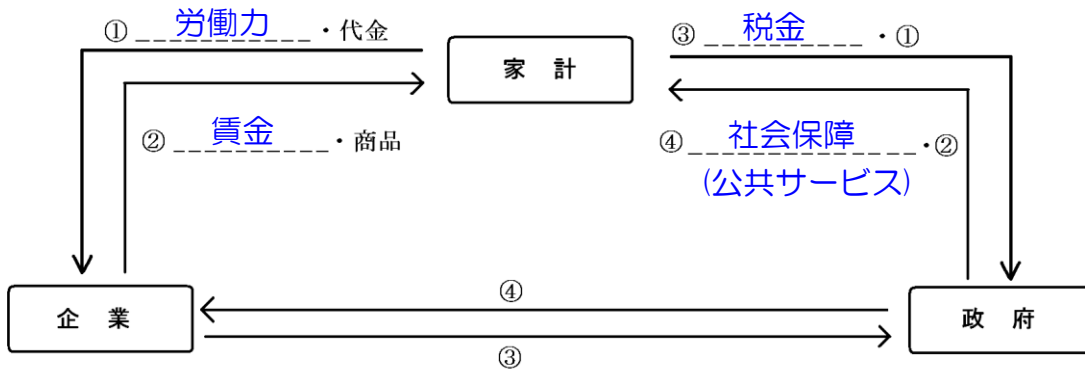


経済超重要単元① 家計

1 世の中全体のお金の流れを確認！



2 家計の支出とお金以外の支払い方法を確認！

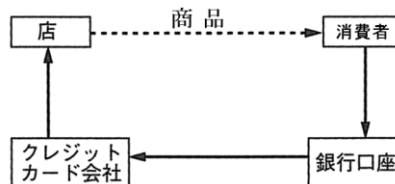
ある家庭の支出

うちわけ	金額(円)
食費	50,000
住居費	57,000
光熱費	23,000
被服費	20,000
家事用品費	10,000
医療費	5,000
交通通信費	20,000
教育費	42,000
娯楽費	110,000
その他支出	40,000
消費支出計	377,000
税金・貯金	120,000
総計	497,000

- ① 所得 収入を得ること。
- ② 消費支出 家計支出のうち、実際に使ったお金
- ③ (預貯金)貯蓄 将来への蓄え。銀行預金や郵便貯金など
- ④ クレジットカード 代金後払いのカード

注意点→

現金を持たなくても、買い物ができるので、使いすぎに注意する。



- ⑤ 電子マネー 情報通信技術を利用して、デジタルデータにお金の価値を持たせる。

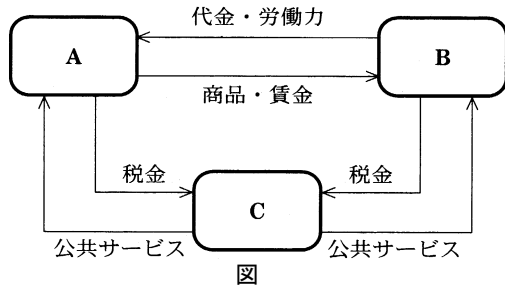
3 消費者を守るための法や制度を確認！

- ① 製造物責任法(PL法) 商品に欠陥があったとき→ 企業に責任があることを定めた法律
- ② クーリング・オフ 訪問販売で購入したとき→ 一定期間なら契約を解除できる制度
- ③ 消費者契約法 2001年施行。契約上のさまざまなトラブルから消費者を守る法律
- ④ 消費者庁 2009年に設置された消費者を守るための国の機関

● 入試問題演習

PART 1 栃木県入試

(1) 図は、三つの経済主体の主な結びつきを示している。A、B、Cは、それぞれ家計、企業、政府のいずれかである。A、B、Cに当てはまる語を書きなさい。(H16)

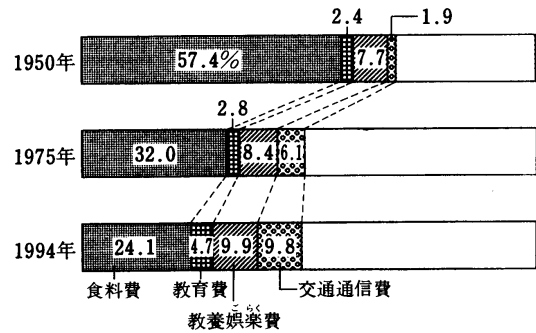


A
B
C

(2) 国民経済は、三つの経済主体によって成り立っている。消費活動を中心とする家計、商品を生産する企業、公共サービスを提供する が、互いにお金ともの・サービスを交換しながら経済を循環させている。文中の にあてはまる語句を書きなさい。(H23)

(3) 図の四つの費目のうち、1950年と1994年を比べ、最も割合が増えた費目は何か、書きなさい。また、その背景として、最も関係が深いとされているものは次のどれか。(H9)

- ア 外食産業の発達 イ 進学率の上昇
- ウ 電気・ガスの普及 エ 自動車の普及



〔「国民生活白書」より作成〕
図 全国の家計における消費支出の費目別割合の変化

	記号
--	----

(4) 消費者は、訪問販売などでいったん商品購入の契約を結んでも、一定の期間内であれば契約を解除することができる。消費者保護のために設けられたこの制度を何というか、書きなさい。(H13・20・26)

	制度
--	----

(5) 次の文中の に当てはまる語を書きなさい。(H12)

わが国では、消費者の権利を守るため、消費者保護基本法などのさまざまな法律が定められている。1995年に施行された 法は、消費者が商品の欠陥により被害を受けたことが明らかの場合、生産者である企業に賠償を義務づけた法律である。

(6) 1995年に施行されたPL法について、正しく説明しているのはどれか。(H22)

- ア 労働者の権利を保障し、労働時間や休日など労働条件の最低基準を定めている。
- イ 事業者と消費者の契約について、不当な売買契約や悪質な業者から消費者を保護している。
- ウ 自由な経済活動をうながすため、企業の不当な独占や不公正な取引方法を禁止している。
- エ 商品の欠陥により消費者が被害を受けた場合、製造者である企業に賠償を義務づけている。

(7) 消費者の権利、義務など必要な情報の提供を事業者に義務づけ、悪質業者が事実と異なる説明をしたことなどによる契約上のトラブルから消費者を守るため、2000年に公布、2001年に施行された法律を何というか。

(H20)

(8) 消費者の安全と安心に関する問題に取り組むために、分散されていた消費者行政を統合して、2009年に設置された国の機関を何というか。(H25)

(9) 図は、1970年から10年ごとの、勤労者1世帯当たりの消費支出額と消費支出の費目別割合を示している。図から読みとれることを正しく述べているのはどれか。(H16)

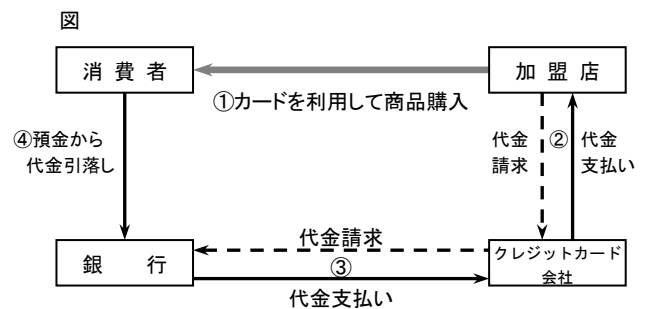
	消費支出額 (月平均)	食料費	住居費	光熱・ 水道費	被服・ 履物費	交通・ 通信費	教育費	教養 娯楽費	その他
1970年	82,582円	32.2%	5.3%	4.1%	9.3%	5.5%	2.7%	9.2%	31.7%
1980年	238,126	27.8	4.7	5.3	7.5	8.5	3.6	8.5	34.1
1990年	331,595	24.1	5.0	5.1	7.2	10.1	5.1	9.6	33.8
2000年	340,977	22.0	6.4	6.2	5.0	12.8	5.3	9.9	32.4

図 「国民生活白書」により作成

- ア 消費支出額は、1970年から2000年の間に、5倍以上に増えた。
- イ 2000年の食料費の額は、1970年と比べて少なくなった。
- ウ 被服・履物費の割合は、いずれの年も、教育費の割合を上回っている。
- エ 1970年と2000年とを比べると、割合が最も増えたのは交通・通信費である。

(10) 消費者は、訪問販売などで商品を購入した場合、クーリング・オフの制度を利用することができる。この制度について、「契約」と「一定の期間内」の二つの語を用いて簡潔に説明しなさい。(H16)

(11) 今日、私たちの消費生活では様々なカードが利用されている。図は、クレジットカードのしくみを示している。図中の①～④の順序に着目して、消費者がクレジットカードを利用して買い物をする際の利点と注意点を、それぞれ簡潔に書きなさい。(H14)



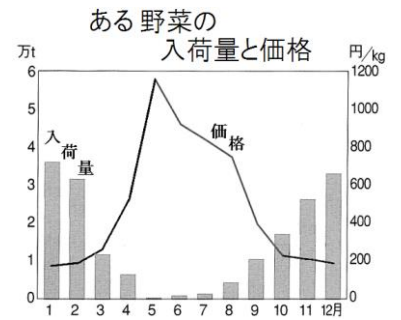
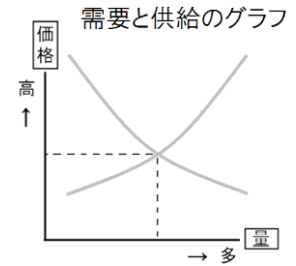
※ ①～④の数字は、商品購入から代金引落しまでの順序を示す。

利点
注意点

経済超重要単元② 価格と流通

1 価格の決めかたや独占について重要語句を確認！

- 価格・・・生産費や仕入費に① **もうけ（利潤）** を加えて価格を決める
- ② **需要量**・・・商品を買おうとする量
- ③ **供給量**・・・商品を売ろうとする量
- ④ **市場価格**・・・需要量と供給量によって決まる価格



どんな関係があるか？

- ⑤ **独占価格**・・・少数の企業が足なみをそろえて決めた価格
- ⑥ **独占禁止法**・・・少数の企業が市場を支配するのを禁じた法律

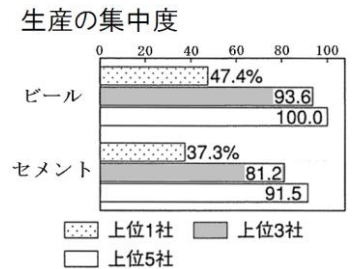
目的は？

企業どうしが競争することによって消費者が利益を得られるから。

- ⑦ **公正取引委員会**・・・⑥の法律を運用する行政機関
- ⑧ **公共料金**・・・政府が決定・認可する価格。

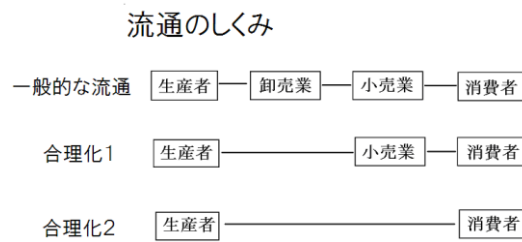
どういう種類がある？なぜ政府が決定する？

電気 水道 ガス 鉄道運賃 切手代など。
国民生活に与える影響が大きいから。



2 消費者に届くまでを確認！

- ① 流通 ・・・生産者から消費者に届くまでの流れ
- ② 小売業 ・・・商品を消費者に売る業者。
- ③ 卸売業 ・・・生産者から仕入れ、小売店に売る。
- ④ 流通の合理化 ・・・流通の経路を省略すること



- インターネット上で商品を販売する会社・・・近年増加

利点 → ⑤ 流通や売り場にかかる費用を削減できる。

消費者も安く購入できる／自宅で受けとれる、などの長所があるいっぽう、
商品を手にとりて買えない／だまされる可能性がある、などに注意しなければならない！

● 入試問題演習

PART 1 栃木県入試

(1) 次の文中の 、 に当てはまる語の組み合わせとして正しいのはどれか。(H23)

一般に、消費者の行動は価格の影響を受ける。例えば、価格が すれば、消費者は買おうとする量を減らす。これは価格の により 量が減少したことを意味する。

- | | | | | | |
|---|------|-------|---|------|-------|
| ア | I－上昇 | II－供給 | イ | I－下落 | II－供給 |
| ウ | I－上昇 | II－需要 | エ | I－下落 | II－需要 |

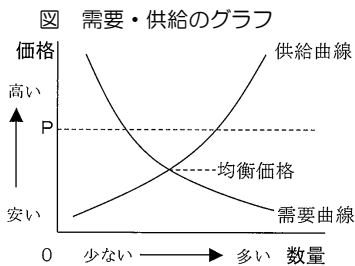
(2) わが国では、戦後の民主化改革の中で、公正で自由な経済活動を促進するための法律として、1947年に独占禁止法が制定された。この法律を運用するために設置された機関は何か。(H21)

(3) 次のもののうち、公共料金にあたるものはどれか。(H25)

- ア DVDのレンタル料金 イ ジュースの消費税 ウ 郵便切手の代金 エ 募金

(4) 独占禁止法を運用するために設置された機関である は、市場の独占を予防したり、企業による不当な取引を取り締まったりしている。 にあてはまる語句を書きなさい。(H26)

(5) 次の図の価格がPの時の市場の状態について説明した次の文の 、 にあてはまる語句の組合せを、あとのア～エから選びなさい。(鳥取H20)



価格がPの時、供給量が需要量を上回っているので、商品が 状態であり、その商品の価格は していく。

- | | | | | | |
|---|---------|-----|---|---------|-----|
| ア | A余っている | B上昇 | イ | A余っている | B下落 |
| ウ | A不足している | B上昇 | エ | A不足している | B下落 |

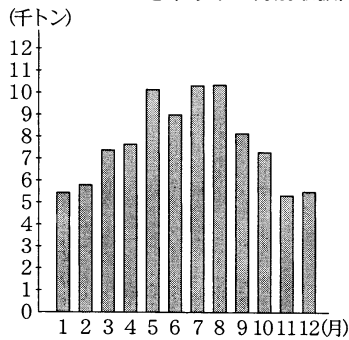
PART 2 埼玉県入試

(1) 市場の独占を防ぐしくみについてまとめた次の文の にあてはまる用語を書きなさい。(H15)

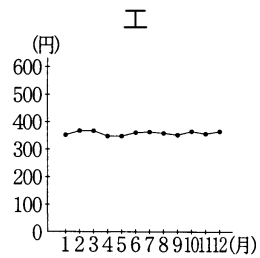
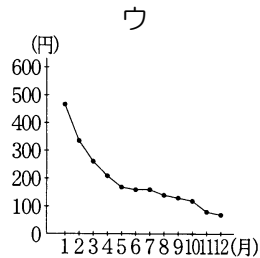
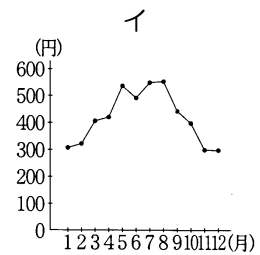
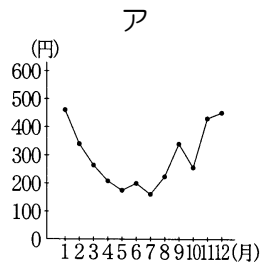
日本には、市場の独占などを禁止し、 かつ自由な競争を促進するために制定された法律がある。そして、この法律を運用するために、 取引委員会という行政機関が設けられている。

(2) きゅうりの価格は、需要量と供給量の関係で決まります。資料は、東京都中央卸売市場における、きゅうりの月別取扱高を表したグラフですが、同じ年の東京都中央卸売市場における、きゅうりの月別平均価格(1kg 当たり)を表わしたグラフとして適切なものを、次のア～エの中から一つ選び、その記号を書きなさい。(H15)

資料 東京都中央卸売市場における
きゅうりの月別取扱高



(東京都中央卸売市場年報から作成)



(3) 市場において、商品の価格と商品の需要量や供給量との間には一般にどのような関係がありますか。その関係について説明した文として正しいものを、次のア～エの中から一つ選び、その記号を書きなさい。(H12)

- ア トマトの価格が下落すると、トマトの需要量が減少する。
- イ トマトの価格が上昇すると、トマトの供給量が減少する。
- ウ トマトの価格が上昇すると、トマトの需要量が増加する。
- エ トマトの価格が下落すると、トマトの供給量が減少する。

(4) Gさんは水道料金など公共料金について調べたことをまとめました。公共料金について述べた文として適切なものを、次のア～エの中から一つ選び、その記号を書きなさい。(H20)

- ア 料金は、景気が悪いときには低く、景気がよいときには高くなるよう調整されている。
- イ だれもが使う大切なものなので、どれだけ使っても同じ料金となっている。
- ウ 企業が自由に競争し、消費者は料金の割引などのさまざまなサービスを選択できる。
- エ 料金を決定するにあたっては、国や地方公共団体の決定・認可などが必要である。

(5) 鉄道運賃や水道料金などの料金は、国や地方公共団体が決めたり許可したりします。なぜ国や地方公共団体が決めたり許可したりするのですか。簡潔に説明しなさい。(H12)

(6) 次は、Nさんが市場経済に関して調べ、まとめたものです。これを見て、各問いに答えなさい。(H24)

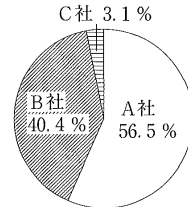
市場経済において、市場での価格は需要と供給の関係で変化するのが原則である。しかし、グラフの例にみられるように、寡占化が進んだ場合は、そうではないことがある。

一般に、寡占化が進んで価格競争が弱まり、企業が足なみをそろえた場合、ア消費者が不利益をこうむることがある。

また、国民にあたえる影響が大きいイ鉄道や水道の料金のように国や地方公共団体が適切な水準で管理している価格もある。

グラフ

ある産業における生産の集中の例



3社合計 100%

(日経市場占有率 2011年版)から作成)

① 下線部アについて、消費者にとっての不利益とはどのようなことですか。価格に着目して書きなさい。

② 下線部イについて、この価格を何といいますか。その名称を書きなさい。

(7) Sさんは、日本国内にある世界遺産への旅行を計画しているうちに、資料をみつけました。次のまとめは、資料をみてツアー料金が異なる理由について、考えをまとめたものです。まとめの中の ① ~ ③ にあてはまる語の組み合わせとして正しいものを、下のア~エの中から一つ選びなさい。(H21)

資料

みやじま 〈首都圏～宮島 1泊2日ツアー料金(12月)〉	
1日(月)～25日(木)	
出発の曜日	料 金
日～木	21,000円
金・土	21,800円
26日(金)～31日(水)	
出発の曜日	料 金
すべての曜日	24,000円

まとめ

宿泊する日が、金曜日や土曜日または年末の休日などの場合は、旅行客が多くなるので限られた数の宿泊施設に対して多くの宿泊希望者が集まることとなります。ですから、宿泊料金が ① と予想されます。これは宿泊施設数という ② が変わらないのに対して宿泊希望者数という ③ が増えるからです。

ア ①ー上がる ②ー需要量 ③ー供給量

イ ①ー下がる ②ー供給量 ③ー需要量

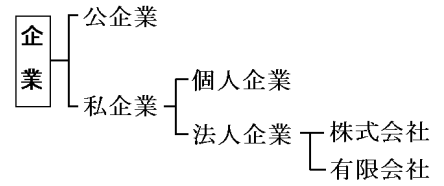
ウ ①ー上がる ②ー供給量 ③ー需要量

エ ①ー下がる ②ー需要量 ③ー供給量

経済超重要単元③ 企業

1 企業について確認！

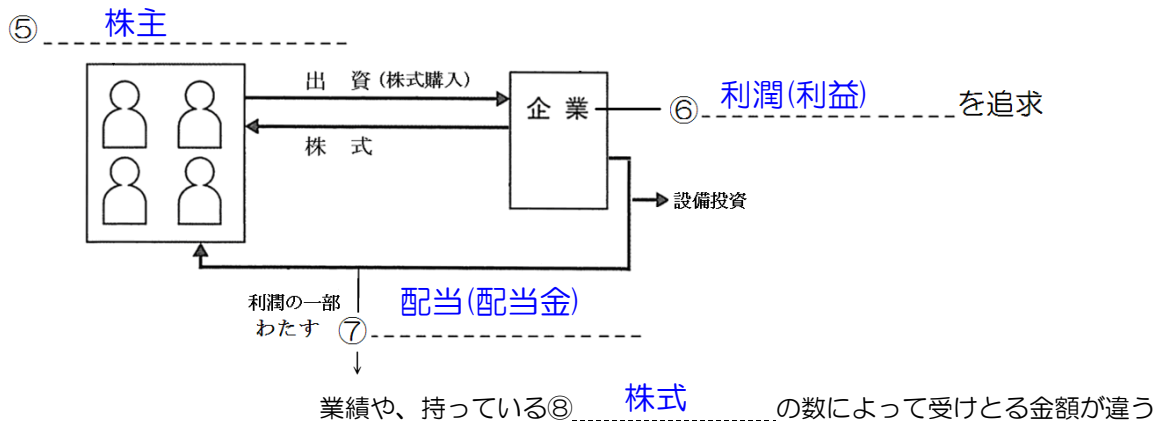
- ① 公企業 国や地方公共団体が経営する企業
- ② 私企業 一般の企業。利潤(利益)を追求する
- ③ 資本金 生産に必要な土地・設備・人材を集めるのに必要な資金
- ④ 株式会社 私企業の代表的なもの。多くの企業がこの形態をとっている
なぜか？



株券(株式)

- 売買は自由(証券取引所で)
- 株価は上がったたり、下がったりする(主に業績による)

2 株式会社のしくみについて確認！



- ⑨ 株主総会 株主が出席。企業の方針を決める
- ⑩ 企業の 社会的責任 企業は利潤の追求だけではなく、文化活動や環境保全にも力をいれる必要がある

● 入試問題演習

PART 1 栃木県入試

(1) 次の文中の に当てはまる語を書きなさい。

- ① 多くの人々から多額の資本を集めるのに有利なくみをもち、通常、株主総会で選ばれた役員によって経営される会社を という。(H8)
- ② 株式会社は、必要とする資金を集めるために株式を発行する。一般に、会社が利益をあげると、株主は、所有する株式数に応じて利益の一部を として受けとることができる。(H20)

①

②

(2) 株式会社のしくみについて、正しいことを述べているのはどれか。(H24)

- ア 株式会社が利益をあげると、すべての株主は同額の配当金を受け取ることができる。
- イ 株式は、会社の業績や景気に関係なく、一定の価格で取り引きされている。
- ウ 株主が、株主総会に出席するためには、取締役会から指名される必要がある。
- エ 株式会社は、株式を発行することで、多くの人から資金を集めることができる。

(3) 株式会社について正しいことを述べているのはどれか。(H15)

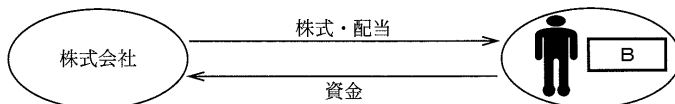
- ア 株主総会では、経営の基本方針や役員の選出などの議決はできない。
- イ 株主になれるのは企業だけであり、個人は株主になることができない。
- ウ 売買される株式の値段は、会社の業績に関係なく常に一定である
- エ 株式の発行によって多くの人たちから資金を集めることができる。

PART 2 埼玉県入試

(1) 下線部①について、株式に関する次の文章と下の図の空欄 A と B にあてはまる語句を、それぞれ書きなさい。(H22)

企業は資本（元手）を使って、 A を目的に生産活動を行います。株式を発行して資金を集める企業が株式会社です。株式を購入した B は B 総会で経営に関する意見などを言えます。

図



A

B

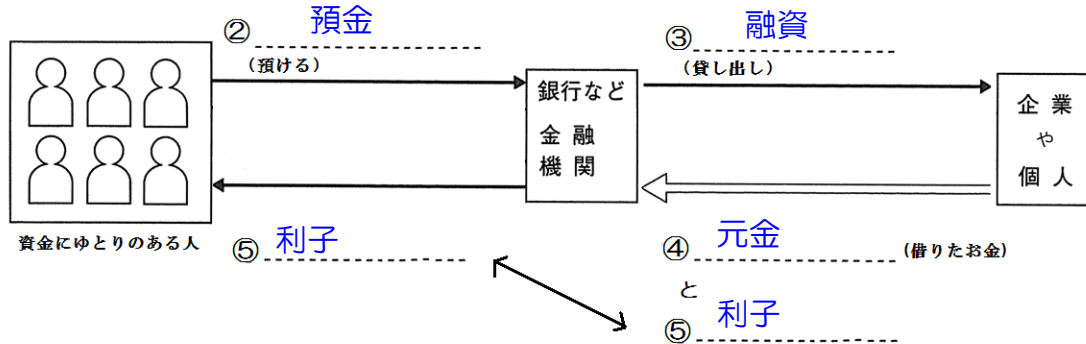
(2) 株式会社では、株主であることを証明する株券を発行していますが、株式会社が株券を発行する目的は何ですか。簡潔に書きなさい。(H11)

経済超重要単元④ 金融

1 銀行のしくみについて確認！

- ① **金融** ・ ・ ・ 資金にゆとりのある人が資金を必要としている人・企業に資金を融通すること
銀行などがおこなう

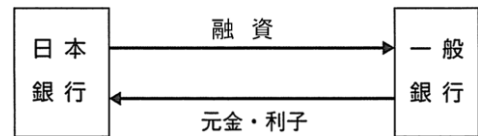
- しくみ



2 中央銀行の役割について確認！

- ① **日本銀行** ・ ・ ・ わが国の中央銀行

- 3つの役割



- ② **発券** 銀行 紙幣を発行
- ③ **政府** の銀行 政府の資金を管理
- ④ **銀行** の銀行 一般の銀行と資金のやりとりをする

3 日本銀行の景気対策

- ⑤ **金融政策** ・ ・ ・ 日本銀行がおこなう景気対策
- ⑥ **公開市場操作** ・ ・ ・ 国債を売買することで銀行の資金量を増減させること。⑤の代表的な政策
 - 好景気 → 日銀が銀行に**国債を売る**ことによって、銀行の資金量が⑦ **減る**
 - 不景気 → 日銀が銀行から**国債を買う**ことによって、銀行の資金量が⑧ **増える**

● 入試問題演習

PART 1 栃木県入試

(1) わが国の中央銀行で、紙幣を発行し、「銀行の銀行」、「政府の銀行」ともいわれている銀行を書きなさい。

(H15・H8)

(2) 次の文中の に当てはまる語を書きなさい。(H19)

日本銀行は、「銀行の銀行」、「政府の銀行」、「発券銀行」といった特別な役割を担っており、一般の銀行と区別して とよばれる。

(3) 次の文中の に当てはまる語を書きなさい。(H23)

日本銀行は、中央銀行として、紙幣を発行するただ一つの 銀行の役割を担っている。

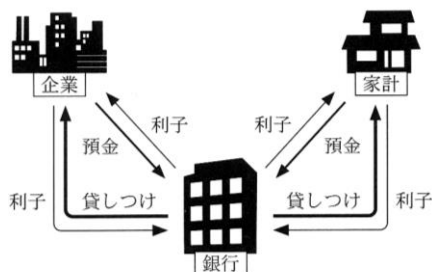
PART 2 埼玉県入試

(1) 下の文の にあてはまる用語を書きなさい。(H14)

「景気対策」や「物価対策」については、景気や物価の動きを調査するために、 が通貨の量を操作することを授業で学んだ。また、平成13年7月に日本の失業率が5%に達したことを、新聞記事で読んだが、景気対策や物価対策などについては、今後も政府に力を入れてほしいと、多くの人が望んでいる。

(2) Bさんは、企業、家計と金融機関との関係について復習しました。次はそれらの関係をまとめた図と、金融機関のはたらきについてまとめた文の一部です。この図をみて (X) と (Y) にあてはまる語句を書き、まとめを完成させなさい。(H18)

図 企業、家計と金融機関（銀行）の関係



金融機関のはたらき

金融機関は、多くの企業にその活動資金を貸し出し、企業の活動を応援しています。また家計に対しても必要な資金を貸し出しています。金融機関の一つである銀行は、その貸し出しのための資金として、家計や企業から預金という形で預かったものを用いています。

.....(中略).....

この図から、銀行は (X) の利子から (Y) の利子を差し引いたものを利潤としていることがわかりました。

(3) 紙幣の発行に関して、次の各問いに答えなさい。(H21)

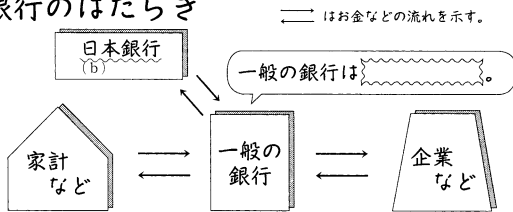
① 二千年札などの紙幣を発行しているのは日本銀行です。日本銀行のように、発券銀行としての役割など、国全体の立場からの活動を行う特別な銀行を一般に何といいますか。その名称を書きなさい。

② 日本銀行には発券銀行としての役割のほかに、「銀行の銀行」とよばれる役割もあります。この役割について、簡潔に書きなさい。

PART 3 群馬県入試

(1) 『銀行のはたらき』について、次の問いに答えなさい。(H17)

銀行のはたらき



問1 []に当てはまる、一般の銀行のはたらきについて説明する文を、簡潔に書きなさい。

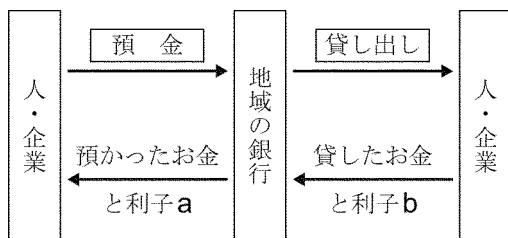
問2 波線部(b)が「銀行の銀行」といわれる理由を、簡潔に書きなさい。

問1

問2

(2) 明子さんは、「金融」について、地域の銀行を調べ発表した。資料は、そのときに使用したものの一部である。資料に関して、預金に対して銀行が支払う利子 a と、貸し出しに対して銀行が受けとる利子 b では、どちらの利子の比率が高いか、書きなさい。また、そのように判断した理由を、簡潔に書きなさい。(H26)

資料 金融のしくみ



どちらか

理由

1 政府の仕事について確認！

- ① 社会資本 の整備・・・国民経済の発展や国民福祉の向上にかかせない施設
- ② 公共サービス の実施・・・社会保障制度など国民の福祉を向上させるサービス
- 景気対策・・・景気の安定をはかる

2 財政について確認！

歳入

- 租税・・・国民から徴収する金。国税や地方税・直接税・間接税などに分類される
- おもな税の種類

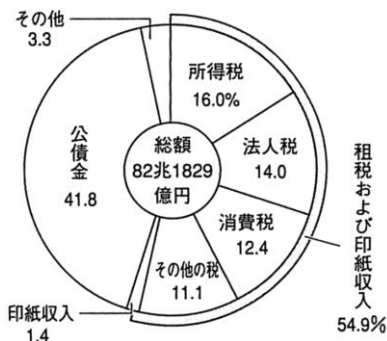
	① <u>直接</u> 税	② <u>間接</u> 税
国 税	③ <u>所得</u> 税（個人） ④ <u>法人</u> 税（企業） 相続税	⑤ <u>消費</u> 税（8%） 酒税 関税 ガソリン税
地 方 税	都道府県民税 市町村民税 固定資産税	たばこ税

- ⑥ 累進課税・・・所得が高くなるにつれて税率も高くなるしくみ


おおまかな所得税率

所得額	税率
195 万以下	5%
300 万以下	10%
695 万以下	20%
900 万以下	23%
1800 万以下	33%
1800 万以上	40%

- ⑦ 公債金・・・国債を発行して得たお金。借金



国債

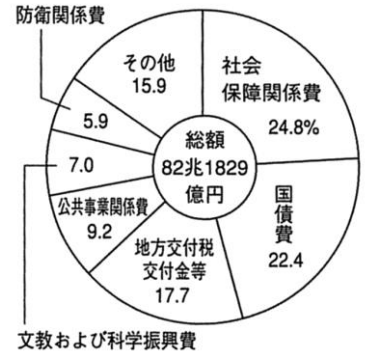


歳出

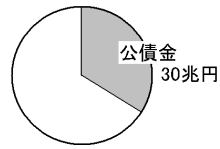
- ① **社会保障関係費**・・・国民が健康で文化的な生活をおくるための出費
年々増加

- ② **地方交付税交付金**・・・地方公共団体ごとの収入の格差をうめるお金

- ③ **国債費**・・・国債の返済にあてる費用

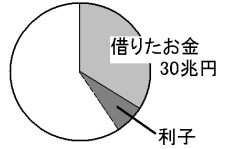


現在の歳入



国債を発行して売って
得たお金 = 公債金(借金)

未来の歳出



借りたお金 + 利子
= 国債費(返すお金)

● 入試問題演習

PART 1 栃木県入試

(1) 図は、わが国の1993年度と2001年度における一般会計の歳入と歳出の内訳を示している。図中の **A** は、医療・年金などの社会保険や社会福祉等のための費用である。 **A** に当てはまる語を書きなさい。(H15)

歳入

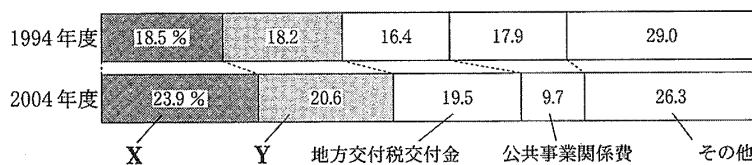
年度	租 税 ・ 印紙収入	公債金	その他
1993	84.7%	11.2%	4.1%
2001	61.4	34.3	4.3

歳出

年度	A	国債費	地 方 財 政 費	公 共 事 業 費	その他
1993	18.2%	21.3%	21.6%	11.9%	27.0%
2001	21.3	20.8	20.4	11.4	26.1

図 (「日本国勢図会」により作成)

(2) 図は、わが国の1994年度と2004年度における一般会計の歳出の内訳を示している。図のX、Yに当てはまる語の組み合わせとして、正しいのはどれか。(H20)



図

- ア X—防衛関係費 Y—文教及び科学振興費
- イ X—国債費 Y—防衛関係費
- ウ X—文教及び科学振興費 Y—社会保障関係費
- エ X—社会保障関係費 Y—国債費

(3) 図は、わが国の予算のうち、一般会計歳出の内訳を示したものである。Aに当てはまるのはどれか。(H26)

図

A	国債費	地方交付税等	その他
31.4%	24.0%	17.6%	27.0%

(2013年度 「日本国勢図会」により作成)

- ア 文教および科学振興費 イ 公共事業費 ウ 社会保障関係費 エ 防衛関係費

(4) 次の文中の **□** に当てはまる語を書きなさい。

国や地方公共団体は、税金などを収入とし、それを用いて国民や住民にものやサービスを提供している。このような、国や地方公共団体が行う歳入と歳出のやりくりを **□** という。(H17)

(5) 図は、わが国の2002年度当初予算における国税の内訳を示している。

図中の **X** に当てはまる語を書きなさい。(H16)

X	
法人税	32.4%
消費税	22.9
揮発油税	20.1
その他	4.4
	20.2

図 (「日本国勢図会」により作成)

(6) 図1は、わが国の主な税金を分類したものである。図の 、 に当てはまる語の組み合わせとして正しいのはどれか。(H18)

- ア I－消費税 II－法人税
 イ I－関税 II－法人税
 ウ I－関税 II－消費税
 エ I－法人税 II－消費税

	直接税	間接税
国税	所得税、 <input type="text" value="I"/>	<input type="text" value="II"/> 、酒税
地方税	自動車税、 固定資産税	ゴルフ場利用税、 入湯税

図

(7) 図は、所得税のしくみについてまとめたものである。図を参考にして、消費税のしくみを簡潔に書きなさい。(H22)

図

所得税のしくみ	直接税の一つであり、税を負担する人と納める人が同じである。所得が上がるにつれ、税率が高くなる。
---------	---

(8) 図は、給与所得者の標準世帯（夫婦と子ども2人の世帯）における、給与収入に対する所得税と、その割合を示している。図を参考にして、所得税における累進課税のしくみとそのねらいについて、簡潔に書きなさい。なお、「税率」と「負担能力」の二つの語を用いること。(H18)

給与収入	所得税	給与収入に対する所得税の割合
400万円	3.9万円	1.0%
600万円	15.1万円	2.5%
800万円	28.5万円	3.6%
1000万円	55.0万円	5.5%
1200万円	84.2万円	7.0%
1500万円	141.2万円	9.4%
2000万円	283.7万円	14.2%

図（「図説日本の税制 平成16年度版」）により作成

(9) 図は、わが国の1994年度と2004年度における一般会計の歳入の内訳を示している。2004年度の公債金の割合は、1994年度に比べて増加している。歳入に占める公債金の割合が増加することには問題があるといわれているが、その理由を「返済」の語を用いて簡潔に書きなさい。(H20)

年度	租税・印紙収入	公債金	その他
1994	66.8%	21.6%	11.6%
2004	51.3	39.9	8.8

図（「日本の統計」ほかにより作成）

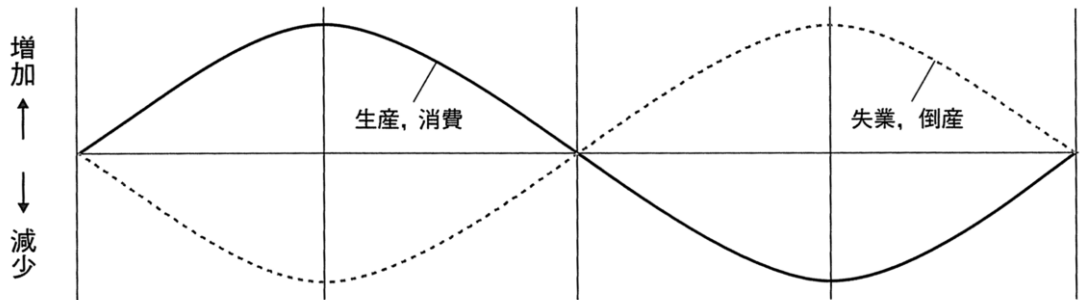
1 景気について確認

●① 好況(好景気) . . . 通貨の流通量が多い

→ 生産・雇用が② 増える

●③ 不況(不景気) . . . 通貨の流通量がすくない

→ 失業者・企業の倒産が④ 増える



●⑤ 財政政策 . . . 政府の景気対策

例 不景気のとき

税金 → ⑥ 減税 する

公共事業 → ⑦ 増やす
(財政支出)

●⑧ インフレーション . . . 通貨の流通量が多すぎて貨幣の価値が下がる現象

●⑨ デフレーション . . . 通貨の流通量が少なすぎて貨幣の価値が上がる現象

● 入試問題演習

PART 1 栃木県入試

(1) 好景気の時、一般的に物価が上昇し続ける現象がみられる。これを何というか。(H26)

(2) 物価とは、多くの商品の価格を総合して、平均したものである。この物価が上昇し続ける現象を何というか。

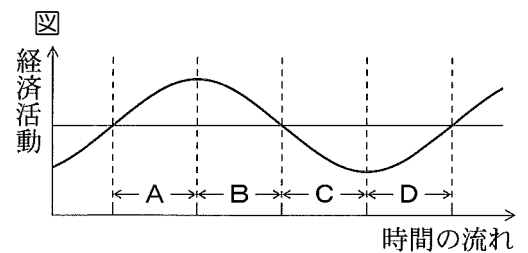
(H21)

(3) 不景気の時、政府が経済活動を活発にしようとする政策はどれか、1つ選んで記号を書きなさい。(H7)

- ア 財政支出を増やす イ 所得税を増税する ウ 公共事業をへらす

(4) 図1は、景気変動(景気の循環)の模式図である。図のAからDのそれぞれの時期には、アからエのいずれかが当てはまる。また、下の文は、Aの時期に一般に見られる経済の動きについて述べたものである。Aの時期に当てはまるのはどれか。(H24)

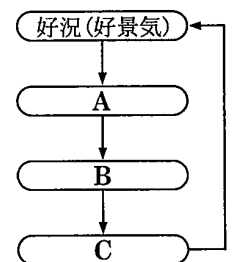
Aの時期は、一般に商品の売れ行きがよくなり企業は生産を増やす。そして、企業の利益が大きくなり従業員の賃金が増える。その結果、家計の収入が高まり消費が増える。



- ア 好況(好景気) イ 景気回復 ウ 不況(不景気) エ 景気後退

(5) 図は、景気変動(景気の循環)の模式図である。図のA、B、Cに当てはまる語の組み合わせとして、正しいのはどれか。(H20)

- | | | |
|-------------|-----------|-----------|
| ア A-後退 | B-不況(不景気) | C-回復 |
| イ A-後退 | B-回復 | C-不況(不景気) |
| ウ A-不況(不景気) | B-後退 | C-回復 |
| エ A-不況(不景気) | B-回復 | C-後退 |



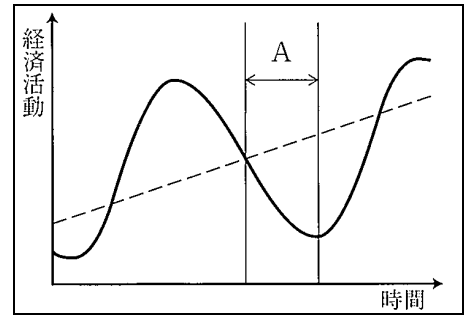
図

(6) 図をみて各問いに答えなさい。(岡山・徳島)

- ① Aの期間に、物価が継続的に下がっていく現象がみられる場合がある。この現象を何というか、書きなさい。

- ② Aの期間にみられる一般的な経済のようすを、「生産」、「雇用」の語句を用いて、簡潔に書きなさい。

図



(7) 次の各問いに答えなさい。(岩手)

- ① 次のア～エのうち、不況（不景気）の時期に比べて好況（好景気）の時期にみられるようすについて述べているものはどれか。最も適当なものを選びなさい。

- ア 物価が上昇し続けるデフレーションの状態になるおそれがある。
- イ 物価が下落し続けるデフレーションの状態になるおそれがある。
- ウ 物価が上昇し続けるインフレーションの状態になるおそれがある。
- エ 物価が下落し続けるインフレーションの状態になるおそれがある。

- ② 次のア～エのうち、不況の対策と考えられる財政政策を書いたカードの組み合わせとして最も適当なものはどれか選びなさい。

a 公共事業への 支出を増やす。 (1班)	b 公共事業への 支出を減らす。 (2班)	c 増税を 実施する。 (3班)	d 減税を 実施する。 (4班)
--------------------------------	--------------------------------	---------------------------	---------------------------

- ア aとc イ aとd ウ bとc エ bとd

1 社会保障について確認

● 憲法第 25 条・・・国民は① 健康で文化的な最低限度の生活 を営む権利がある

● ② 社会保障 制度・・・社会全体で国民の暮らしを支える制度

● 4つの柱

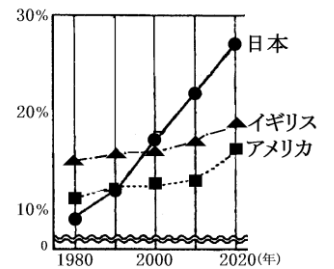
③ 社会保険・・・加入者が保険料を払い、それぞれ必要なときにサービスをうける
 年金保険・健康(医療)保険・雇用保険・介護保険(2000年より)など

④ 公的扶助・・・国が生活するのが困難な人に給付。生活保護

⑤ 社会福祉・・・老人福祉・児童福祉・母子福祉など

⑥ 公衆衛生・・・感染症予防など。国民の健康増進

人口に占める 65 歳以上の割合の推移



● ⑦ 少子高齢 社会・・・子どもの割合が減り、高齢者の割合が増加する社会

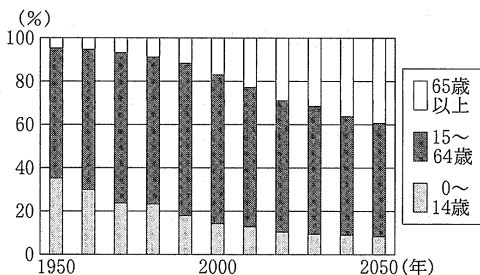
原因・・・⑧ 出生 率の低下や⑨ 平均寿命 が伸びたため

社会保障はどうなる？

● 高齢者が増えるので、⑩ 社会保障関係 費が増える

● 15歳～64歳の人負担が⑪ 増える

日本の年齢別人口の割合



● 入試問題演習

PART 1 栃木県入試

(1) 日本の社会保障制度は、公的扶助、社会保険、社会福祉、 の四つを基本的な柱としている。(H22)

(2) 次の文中の に当てはまる語を書きなさい。(H21)

わが国では、高齢社会の進展にともなって、2000年4月から 保険制度が開始され、40歳以上の人の加入が義務づけられた。

(3) わが国の社会保障制度の中には、かけ金を積み立てておき、病気やけがなどで必要が生じたときや、高齢になったときに現金などの給付を受けるしくみがある。それはどれか、1つ選んで記号を書きなさい。(H14)

ア 社会保険 イ 社会福祉 ウ 公的扶助 エ 公衆衛生

(4) 次の文中の に当てはまるのはどれか。(H14)

わが国では、高齢化社会の進展に対応し、保健医療の向上や福祉の増進をはかるため、2000年4月から新たに 保険制度が始まった。

ア 健康 イ 年金 ウ 雇用 エ 介護

(5) 我が国では、社会保険が社会保障制度の中心となっている。社会保険の内容についての事例を示しているものはどれか、1つ選んで記号を書きなさい。(H7)

- ア 私の親は、将来に備えて生命保険会社の生命保険に加入している。
- イ 私の姉の赤ちゃんは、保健センターで無料の乳児健康検査をうけた。
- ウ 私の70歳になる祖父母は、国から年金の給付を受けている。
- エ 私の母は、保健所がおこなっている健康管理などの講習を受けた。

(6) 図は、我が国の将来人口の動きを予想したものである。我が国の総人口と、総人口に占める老年人口(65歳以上)の割合は、今後どのように移り変わっていくことが予想されるか、簡潔に書きなさい。(H7)

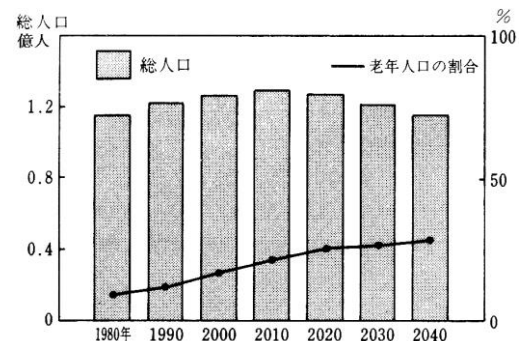


図 我が国の将来人口の動き

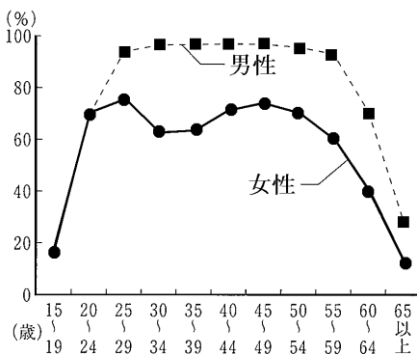
1 労働者の保護について確認

- 憲法第 27 条・・・すべて国民は①.....**勤労**.....の権利を有し義務を負う。
→ 使用者に比べて立場の弱い労働者を守るため、さまざまな権利を保障
- 労働三権・・・②.....**団結**.....権・③.....**団体交渉**.....権・④.....**団体行動**.....権
- 労働三法・・・⑤.....**労働基準法**.....・労働組合法・労働関係調整法

2 雇用の変化について確認

- ①.....**年功序列**.....賃金制・・・年齢とともに賃金が上昇
くずれつつある
- ②.....**終身雇用**.....制・・・定年まで1つの企業で雇用される
- パートタイム労働者や非正社員（③.....**派遣社員**.....）の増加・・・企業は人件費をおさえられる
- 雇用の平等をめざす・・・④.....**男女雇用機会均等**.....法が制定され、雇用に性別の区別をしてはならなくなった
他、障害者雇用促進法・育児介護休業法なども制定された

男性と女性の就業率の比較



なぜ女性はM字型になる？

20代、30代は、結婚・出産・育児で仕事を離れる女性が多く、子供の成長とともに再び職に就く女性が多いから。

● 入試問題演習

PART 1 群馬県入試

(1) 『変わる職場』について、次の問いに答えなさい。
(H17)

- ① 資料をもとに、ポスター中のグラフを、凡例にしたがって、完成させなさい。
- ② ポスター中の由美さんの質問に対する回答を、次のア、イのどちらかの立場を選び、簡潔に書きなさい。なお、選択した記号も書くこと。

ア 企業の経営者

イ 小さな子どもを育てている親

問1	
問2 選択記号	

資料 一般労働者とパートタイム労働者の推移

	平成13年	平成14年	平成15年
一般労働者	99	97	96
パートタイム労働者	104	108	110

パートタイム労働者とは、労働時間が一般労働者より短い者のことである。
※ 平成12年のそれぞれの労働者数を100とする。
(厚生労働省「毎月勤労統計調査 平成15年分確報」により作成)

ポスター

変わる職場 — これからの労働環境を考えよう —

一般労働者とパートタイム労働者の推移

質問はこちらへ

グラフのような変化が進んでいるのはなぜですか？ (由美)

凡例

—●—	一般労働者
- - -□-	パートタイム労働者

(2) 労働基準法では、労働時間や賃金などの最低基準を定めている。この目的を簡潔に書きなさい。(H19)

PART 2 全国入試

(1) 資料の条文を規定している法律名を書きなさい。(石川)

資料

第1条 労働条件は、労働者が人たるに値する生活を営むための必要を充たすべきものでなければならない。
第32条 使用者は、労働者に、休憩時間を除き1週間について40時間を超えて、労働させてはならない。

(2) 日本国憲法は、労働三権を保障している。労働三権のうち、労働条件についての要求を実現するためにストライキなどをする権利を何というか、最も適当なものを次から選びなさい。(三重)

- | | |
|---------|---------|
| ア 勤労の権利 | イ 団体交渉権 |
| ウ 団結権 | エ 団体行動権 |

(3) 次の文は、労働者の権利に関する日本国憲法の一部である。□ に当てはまる語を書き、日本国憲法で労働者の権利を保障している理由を、経営者と労働者の立場の違いに着目して書きなさい。(熊本)

第 28 条 勤労者の □ する権利及び団体交渉その他の団体行動をする権利は、これを保障する。

語句

(4) カードの内容は、雇用にかかわる法律が改正され、1999年に施行されたときの新聞の見出しである。この法律により、次のような募集は違法となった。どのような点が違法か、書きなさい。(秋田)

カード (新聞の見出し)

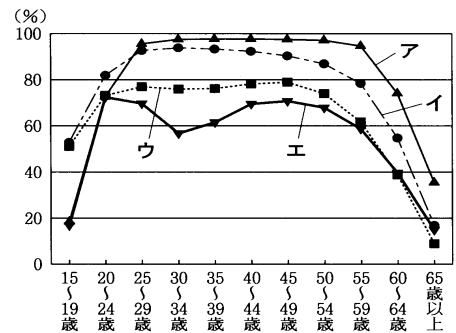
ある会社の募集広告

守らない会社にキツイ罰！
違反すれば名前を公表！

社員募集	・男性社員	・給与 (月給 30 万円以上)
	・休日 (土・日曜日、祝日)	・待遇 (賞与 2 回、交通費支給)

(5) グラフは、日本とアメリカ合衆国の、働いている人の割合を、男女別に表したものである。日本の女性にあたるものはどれか、選んで記号を書きなさい。(山形)

グラフ



(6) グラフは日本とアメリカの女性の就業率を示したものである。日本の女性がアルファベットのM字型になるのはなぜだと考えられるか、簡潔に書きなさい。

グラフ 女性の就業率

