

社会科期末テスト (前期)

2年 組【

】

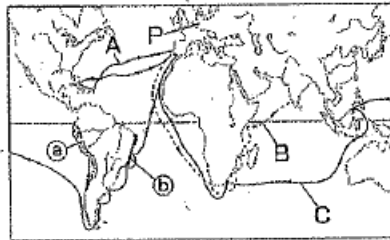
歴史

【1】資料を見て、次の問いに答えなさい。

資料1



資料2



- (1) 聖地エルサレムが奪われると、教皇のよびかけにこたえてある人たちが編成されました。資料1を参考に答えなさい。
- (2) ルネサンスとはどのような動きのことですか。「古代文明」という語句を使い、簡単に書きなさい。

- (3) 資料2のA～Cの航路を開いた人物名・船隊名をそれぞれ書きなさい。
- (4) 資料2の(a)・(b)を植民地としたのは、どこの国ですか。
- (5) アジアに進出したヨーロッパ人は、おもに何を買い入れましたか。1つ書きなさい。
- (6) 資料2で①Pの地で宗教改革を始めたドイツ人は誰ですか。②この人物のような人たちは、カトリックに対し、何と呼ばれましたか。
- (7) イエズス会が結成された目的は何ですか。簡単に書きなさい。

【2】次の問いに答えなさい。

- (1) 鉄砲を伝えたポルトガル人が流れ着いた島を、資料1のア～エから1つ選び、記号と島名を書きなさい。
- (2) 鉄砲がさかんにつくられた場所を資料1のa～dから2つ選びなさい。
- (3) ①資料1のPに上陸した資料2の人物は誰ですか。

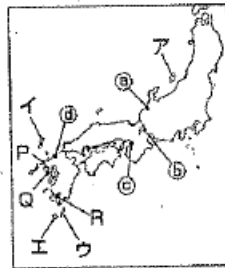
- ②これは何年のことですか。
- ③この人物が日本に来た目的を、簡単に書きなさい。

(4) 資料1のQやRの港で行われた貿易での日本の主な輸出品を、①～②から1つずつ選びなさい。

- ①輸入品(刀剣 銅銭 生糸 陶磁器)
- ②輸出品(金 銀 毛織物 ガラス製品)
- (5) 資料3は織田信長と武田勝頼の戦いの様子です。この戦いを何と言いますか。
- (6) ①織田信長の軍は左・右どちら側ですか。
- ②そのように考えた理由を簡単に書きなさい。



資料1



資料3



(7) 資料4はポルトガル人やスペイン人などの商人です。彼らは何と呼ばれていましたか。

(8) 九州各地の大名は、資料4のような人が領内にやってくることを許しました。それはなぜですか。「貿易」に着目して答えなさい。

資料4



【3】次の問いに答えなさい。

(1) 資料は豊臣秀吉が1588年に出した法令です。

次の問いに答えなさい。

- ①何という法令ですか。
- ②(a)・(b)に当てはまる語句をそれぞれ書きなさい。
- (2) この法令で示されている政策を実施したのは何のためですか。簡単に書きなさい。

諸國の百姓が(a)やわきざし、弓、やり、鉄砲、そのほかの武具などを持つことは、かたく禁止する。不必要な武具をたくわえ、年貢その他の税をなかなか納入せず、ついに(b)をくだたりして、領主に対してよからぬ行為をする者は、もちろん処罰する。

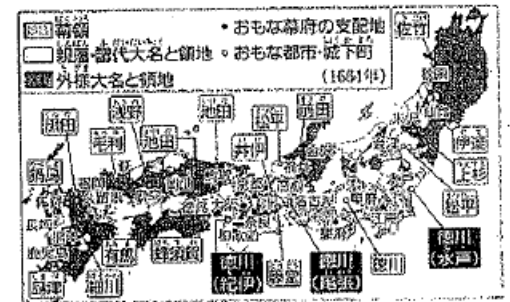
【4】次の問いに答えなさい。

(1) 次の文章を読んで、当てはまる言葉を書きなさい。

・1600年(①)に勝利した(②)は、1603年朝廷から(③)に任命され、江戸に幕府を開いた。②は二度の大坂の陣で(④)氏を滅ぼした。

資料1

- (2) 幕府の直接の支配地は何と呼ばれていましたか。
- (3) 江戸幕府の将軍のもとで政治を行った、常時の最高職を何と言いますか。
- (4) 親藩の中でも紀伊・尾張・水戸家はとくに何と呼ばれたか。
- (5) 資料1を見て、外様大名の配置の特徴を「江戸」という語句を使い、簡単に書きなさい。
- (6) 1615年に制定された資料2は、何という法律ですか。
- (7) (6)の法律はどのような人々を規制しましたか。



- (8) 資料の(a)・(b)を当てはまる語句を書きなさい。
- (9) 1635年に、この法律に参勤交代が制度として定められました。これによって、(7)の人々が受けた影響を費用に着目して、簡単に書きなさい。

資料2

- 学問と武道にひたすら精を出すようにしなさい。
- 諸國の(c)は、修理する場合であっても、必ず幕府にもうし出ること。まして新しい(d)をつくることは厳しく禁止する。
- 幕府の許可なしに、(e)を結んではならない (部分要約)

【5】 次の問いに答えなさい。

- (1) 資料1の銅板の表面には誰が彫られていますか。
- (2) 資料2のように、長崎で毎年行われた、役人の前でこの銅板のような像を踏ませたことを何と言いますか。
- (3) 幕府が(2)を行ったのは何のためですか。簡単に書きなさい。

資料1



資料2



【6】 次の問いに答えなさい。

- (1) 右のA～Cの農具名を書き、それぞれの用途を次のア～ウから一つずつ選びなさい。

A

B

C



- ア もみを選別する。
- イ 脱穀する。
- ウ 土を深く耕す。

- (2) 新潟県で開発が進んだ鉱山を、次から選びなさい。

【 別子銅山 生野銀山 足尾銅山 佐渡金山 石見銀山 】

- (3) 次の①～③に関係がある都市を、右の地図中のア～カから一つずつ選び、記号と都市名を書きなさい。

- ① 天下の台所
- ② 消水焼
- ③ 將軍の城下町(おひざもと)

地図



- (4) 地図中のオなどの都市に設けられた蔵屋敷は、どのような目的で置かれましたか。

- (5) 地図 ① の航路 ② の街道をそれぞれ何と言いますか。

- (6) 資料1・2の作者をそれぞれ選びなさい。

【 菱川師宣 松尾芭蕉 三井高利 俵屋宗達 】

- (7) 17世紀後半に栄えた元禄文化の担い手の中心はどのような人たちでしたか。簡単に書きなさい。

資料1



資料2



【7】 資料を見て、次の各問いに答えなさい。

- (1) 資料1の法律は公事方御定書です。この法律が定められたのは誰の政治のときですか。
- (2) 参勤交代で大名が江戸にいる期間を一年から半年に短縮する代わりに米を献上させるのは何という制でしょうか。
- (3) 資料2はからかさ連判状といわれ、資料2の一揆の連判状です。円形に署名されている理由を、簡単に書きなさい。

資料2



資料1

- 一 人を殺しめすんだ者 引き回しの上獄門
 - 一 違いをさせた者 獄門
 - 一 ぬすみをはたらいた者 死罪
金十両以上か十両以上のもの 入獄たき
金十両以下か十両以下のもの
- (部分要約)

地理

【1】 下の文を読んで、次の問いに答えなさい。

20世紀以降、航空機や船の高速化、大型化し、目的地までの(①)が短縮された。航空輸送は、人や重量が軽い(②)(集積回路)などの電機部品の移動に、海上輸送は重量が重い自動車などの機械類や石油などの移動に利用される。国際電話やインターネット、衛星放送などが普及したが、通信施設の設置が必要であることから、情報の地域格差が生じている。

現代の世界では、交通や通信の発達などにより、人やもの、サービスの国境をこえた移動が活発になった。先進工業国間の貿易では輸出、輸入とともに(③)が中心。

先進工業国と発展途上国の貿易は、かつてと異なり発展途上国から先進工業国への工業製品の輸出も増え、日本でも製品の輸入が増えている。

日本の貿易額は(④)よりも(⑤)が多く、アメリカなどから④を増やすよう求められてきた。このような(⑥)などの課題を解決するために(⑦)【⑧】が重要な役割を果たしている。

- (1) ②～⑤に当てはまる言葉を次から記号で選びなさい。

- A.もの B.機械 C.輸出 D.輸入
- E.IT F.IC G自動車 Hインターネット

- (2) ①・⑥・⑦・⑧に入る言葉を書きなさい。

⑥は組織の名前です。⑧はその組織を英語であらわしたものです。

⑦

時事問題

【1】 次の各問いに答えなさい。

(1) 今夏、ある熱の流行がアフリカ西部で深刻化しています。この熱は致死率は最悪で90%に達することもあり、有効な治療方法はまだ確立されていない病気です。世界保健機関によるとギニア、シエラレオネ、リベリアの3カ国で今年3月から感染が拡大しました。この熱の名称は何ですか。

(2) 今夏、寄居町町長選挙が行われましたが、当選されたのはどなたでしょうか。次から選んで記号で答えなさい。

- A 島田 誠 B 板上正明 C 花輪利一郎 D 安倍 晋三

社会科期末テスト（前期）

2年 組 番 【 24 31 45 】

歴史

【1】 (1)	十字軍	思判	技裁	知理
(2)	(例)ギリシャやローマの古代文明を 学びなおす動き。	2		1
(3)	A コロンブス	1		
	B パスコ・ダ・ガマ	1		
	C マゼラン船隊	1		
(4)	a スペイン	1		
	b ポルトガル	1		
(6)	香辛料(絹・寶石)			1
(6)	① ルター			1
	② プロテスタント			1
(7)	ゴシック教会を建て直すため。	2		
【2】 (1)	ウ	1		
(2)	種子島	1		
(3)	① フランシスコ・ザビエル			1
	② 1549年			1
	③ (例) キリスト教を伝えるため	2		
(4)	① 生糸 ② 銀	2		
(5)	長徳の戦い			1
(6)	① 左	2		
	② (例) 鉄砲を使って戦っているから。	2		
(7)	南蛮人			1
(8)	(例) 貿易の利益に着目したから。	2		
【3】 (1)	① 刀狩令			1
	② a 刀 b 一揆	2		
(2)	(例) 農民の一揆を防ぎ、耕作に 専念させるため。	2		
【4】 (1)	① 関ヶ原の戦い			1
	② 徳川家康			1
	③ 征夷大将軍			1
	④ 豊臣氏			1
(2)	幕領	2		
(3)	老中	2		
(4)	御三家	2		
(5)	(例) 江戸から遠い地域に 配置されている。	2		
(6)	武家諸法度			2
(7)	大名			2
(8)	a 城 b 婚姻			2
(9)	(例) 江戸ととの往復や、江戸での 生活に多くの費用がかかるようになった	2		
	思判	技裁	知理	
	16	15	23	

【5】 (1)	キリスト	思判	技裁	知理
(2)	絵踏		2	
(3)	キリスト教徒を発見するため。	2		1
【6】 (1)	A 備中ぐわ	記号	ウ	2
	B 千歯こき	記号	ア	2
	C 唐箕	記号	イ	2
(2)	佐渡金山			1
(3)	① 才	都市名	大阪	2
	② 工	都市名	京都	2
	① 伊	都市名	江戸	2
(4)	諸藩が米や特産物を販売するため。	2		
(5)	a 西廻り航路 b 東海道			2
(6)	1 菱川師宣 2. 徳川宗彦			
(7)	(例) 上方で、都市の繁栄を背景に、 経済力を持った町人	2		
【7】 (1)	徳川 吉宗			2
(2)	上げ米の制			2
(3)	(例) 一揆の中心人物がわがからならぬ ようにするため。	2		

地理

【1】 (1)	② F ③ B			2
	④ D ⑤ C			2
(2)	① 時間距離			2
	⑥ 貿易摩擦			2
	⑦ 世界貿易機関			2
	⑧ WTO			2

時事問題

【1】 (1)	エボラ出血熱	思判	技裁	知理
	C			
	8	16	22	

思判	技裁	知理
24	31	45