

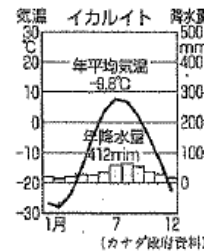
I 次の時事問題に答えなさい。【知・理 2×1点】

II 左の各雨温図や各文章を参考にして(1)~(5)気候区分を選択肢から選んで答えなさい。

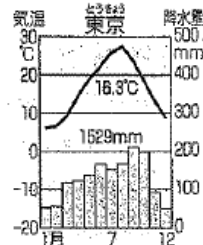
また(A)~(D)当てはまるに適する語句を書きなさい。【思・判・表 9×1点】

(1) イカルイトのような植物が生えない。年間を通して月平均気温が0度未満の厳寒の地域。人は居住していない。

①寒帯の気温と降水量

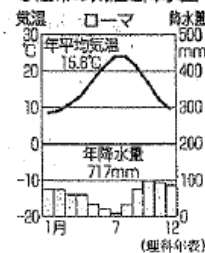


(2) 東京(日本)のような、(A)の影響で気温や降水量の変化が大きい、夏に気温が高く、冬は寒い地域。降水量が多く、(B)や茶の生産に適している。



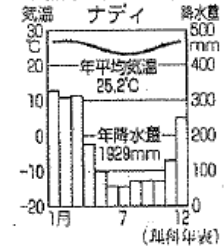
(3) ローマは冬に雨がが多く、夏は高温で雨が少なく、乾燥する。

④温帯の気温と降水量



(4) ナディのような高温で雨量が多い地域。

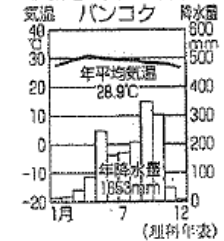
③熱帯の気温と降水量



(5) バンコクのような(C)と(D)がある気候。

(C)は雨がほとんど降らないが、(D)になると雨が降るため一面が緑になる。

②低地の気温と降水量



【選択肢】

- ・地中海性気候 ・サバナ気候 ・砂漠気候 ・西岸海洋性気候
- ・冷帯(亜寒帯気候) ・ツンドラ気候 ・熱帯雨林気候 ・ステップ気候
- ・温暖湿潤気候 ・氷雪気候 ・高山気候


III 次の文章を読んで、各問いに答えなさい。

世界三大宗教は仏教、キリスト教、aイスラム教である。(①)はおもにインドで、ユダヤ教は(②)で信仰されている。三大宗教の教えは教典に書かれていて、仏教は経、キリスト教は「聖書」、イスラム教は「③」が教典である。イスラム教では豚肉や豚のスープやエキスを食わず、酒も飲まない。(①)教では神の使いの(④)を食べない。

問1 ①~④に適する語を埋めなさい。【知・理 4×1点】

問2 資料①で、人々が折っているこの建物を何といいますか。【技 2点】

資料①



IV 写真や地図をみながら次の問いに答えなさい。

問1 Aのような、石を打ち欠いてつくった、するどい刃を持つ石器のことを何といいますか。【知・理 2点】

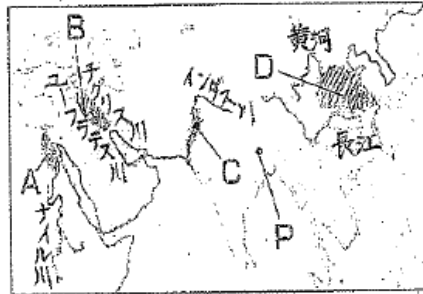


問2 問1の石器を作り始めた人類を次から選びなさい。【知・理 1点】

〔猿人 原人 新人〕

問3 表面を磨いたBの石器が使われていた新石器時代は、Aの石器が使われた旧石器時代から、生活面でどのように変化しましたか。簡単に書きなさい。【思・判・表 3点】


資料②



問4 資料②のA・Bでおこった文明をそれぞれ何といいますか。【知・理 2×2点】

問5 A～Dの文明がおこった地域の共通点を書きなさい。【思・判・表 3点】

資料③



問6 資料③は、ある人物の墓のそばに並べられたものです。この名称を答え、ある人物とは誰のことなのか答えなさい。

【知・理 2点 技 2点】

問7 資料④は紀元前3世紀に中国を統一した秦の時代に修築された建造物ですが、何ですか。【技 2点】

資料④



問8 問7の建造物が築かれた理由を簡単に答えなさい。【思・判・表 2点】

V 次の問いに答えなさい。

問1 次の文章を読んで、(A)～(D)あてはまる語句を書きなさい。【知・理 4×1点】

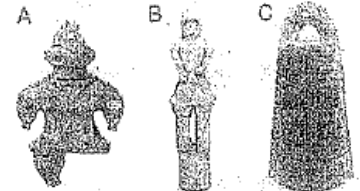
・人々は縄目の文様がついた縄文土器をつくり始めた。海岸や水辺には、食べ物の残りかすなどを捨てた(A)ができた。人々は(B)という住居に住んだ。
・紀元前4世紀ごろ、大陸から稲作が伝わり、水田の近くにむらぎができた。青銅器や鉄器などの(C)も伝わってきた。また薄手でかための(D)もつくられた。

問2 資料⑤は倭の奴国の王が後漢につかいを送り、授けられたものです。この名称を答えなさい。【技 2点】

資料⑤



問3 A・Bの名称を答えなさい。【知・理 2×1点】



問4 Cの青銅器はおもに何に使用されたのですか。

【技 3点】

資料 I 「勅志撰入伝」 (部分抜粋)

問 5 資料 I の にあてはまる国名を書きなさい。

【知・理 2点】

問 6 I の卑弥呼が使いを送ったのは中国の何という国ですか。

【知・理 2点】

問 7 II の地図中の朝鮮半島の国のうち、大和政権が手を結んだ国は 2 つあります。そこはどことこの国ですか。

【技 2×2点】

問 8 倭王武など、大和政権の王がたびたび使いをおくったのは、II の地図中の北朝・南朝のどちらの王朝ですか。

問 9 渡来人が伝えたものを 1 つ答えなさい。

【知・理 1点】

問 10 大和政権はどこにあったと考えられているでしょうか。

漢字 2 文字で答えなさい。(ヒント: ○○地方) 【思・判・表 2点】

問 11 資料 ⑥ は、ある古墳から出土した鉄剣です。

にあてはまる漢字を鉄剣に刻まれて

いる文字を参考に答えなさい。またその漢字にフリガナを書きなさい。【技 3点】

問 12 資料 ⑥ の鉄剣が出土した埼玉県にある古墳は何という古墳ですか。

【知・理 2点】

問 13 埼玉県から出土したということはどういうことを

意味していますか。簡単に答えなさい。【思・判・表 3点】

問 14 聖徳太子は推古天皇のおいでです。資料 ⑦ の A~C では

どれにあたりますか。【技 2点】

にはもともと男の王がいたが、その後国内が乱れたので一人の女子を王とした。名を卑弥呼といい、成人しているが夫はおらず、一人の弟が國政を輔佐している。卑弥呼が死んだとき、直径が100歩余りもある大きな墓をつくった。

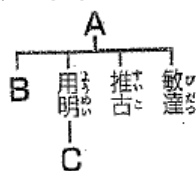
II 5世紀の東アジア



資料 ⑥



資料 ⑦



資料 ⑧

問 15 資料 ⑧ は 604 年に聖徳太子が定めたものですが、何というものですか。【技 2点】

問 16 資料 ⑧ の にあてはまる語句を答えなさい。【知・理 2点】

問 17 この資料 ⑧ は具体的に何を定めたものですか。【思・判・表 3点】

問 18 下線部「詔」とは何ですか。意味を答えなさい。【技 2点】

一に曰く、和をもって貴しとなし、さからうことなきを宗とせよ。

二に曰く、あつく三宝を敬え。三宝とは 法・僧なり。

三に曰く、詔をうけたまわりては必ずつつしめ。

VI 次の問いに答えなさい。

問 1 年表中の(A)~(C)に入る内容を、次のア~ウから選び、それぞれ記号で答えなさい。【思判表 3×1点】

- ア 唐の制度にならって、大宝律令が制定された。
- イ 口分田の不足から、墾田永年私財法が出された。
- ウ 中大兄皇子が蘇我氏をたおし、公地・公民の原則を示した。

問 2 年表中の下線部 a の戦いののちに、北九州沿岸の警備が必要になりました。この警備に当たる兵役のことを何というか答えなさい。【知理 2点】

問 3 年表中の下線部 b について、戸籍にもとづいて、6歳以上のすべての男女に土地を分け与え、死んだら返すことを定めた法の名前を答えなさい。【知理 2点】

問 4 年表中の下線部 c について、地方から平城京まで運ぶことを義務付けられたものを、資料 2 の中から二つ選びなさい。【思判表 2×1点】

問 5 年表中の下線部 d について、公地公民とはどのような指針ですか。簡単に書きなさい。【思判表 2点】

年代	おもなできごと
645	(A)
663	a 白村江の戦いで敗れる 全国的な戸籍がつくられる
701	(B)
710	b このころから 6 年ごとに戸籍がつくられるようになる
710	c 平城京に都が移される
743	(C)
	d 公地・公民の原則がくずれ始める

資料⑨

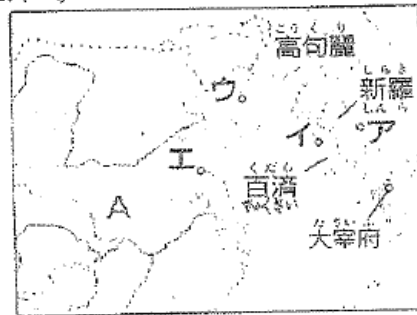
問6 資料⑨からわかるように、男子にかけられていた税は重かったことがわかる。そこで男子は税から逃れるために何を考えたでしょうか。【技2点】

	正丁 (21~60歳の男子)	次丁(老丁) 中男(少丁) (61~65歳の男子) (11~20歳の男子)	
租	租(収穫量の約3%)		
調	絹、糸、炭、漆、特産物	正丁の $\frac{1}{2}$ 正丁の $\frac{1}{4}$	
庸	布(麻布)： 労役のかわり	正丁の $\frac{1}{2}$ なし	
雜徭	地方での労役 (年間60日以下)	正丁の $\frac{1}{2}$ 正丁の $\frac{1}{4}$	
兵役	食料・武器を自分で負担し訓練を受ける。一部は 2年1年。防人3年	なし	なし
出家	租(50%の利息)		

資料⑩

問7 右の資料⑩で、隋の後に中国を統一した国は何という国ですか。【知理2点】

問8 日本が大軍をおくって戦った白村江の戦いが行われた場所を、資料⑩のア～エから1つ選びなさい。【技2点】



問9 壬申の乱に勝利して即位したのはだれですか。【知理2点】

第1学年社会科 第2回定期テスト

()組()番 名前()

	知理	技	思考表	
I	問1 C	問2 C	2	
II	(1) 氷雪気候	(2) 温暖湿潤気候	5	
	(3) 地中海性気候	(4) 熱帯雨林気候		
	(5) サバナ気候		4	
	A 季節風	B 稲作		
	C 乾季	D 雨季		
III	問1 ①	ヒンドゥー教	4	
	②	イスラエル		
	③	コーラン		
	④	牛肉		
	問2	教会	2	
IV	問1	打製石器	問2 原人	3
	問3	(例)農耕や牧畜が始まった。		3
	問4 A	エジプト文明	2	
	B	メソポタミア文明	2	
	問5	(例)大河のほとりであること。		3
	問6	名称 兵馬俑	人物 秦の始皇帝	2 2
	問7	万里の長城		2
	問8	(例)北方の遊牧民の侵入を防ぐため。		2
V	問1 A	貝塚	4	
	B	竪穴住居		
	C	金属器		
	D	弥生土器		

	知理	技	思考表				
問2	金印		2				
問3 A	土偶		2				
B	はにわ						
問4	(例)祭のための宝物。		3				
問5	邪馬台国	問6 魏	4				
問7	百済	と 伽耶(任那)	4				
問8	南朝	問9 漢字	1 2				
問10	近畿	問11 大王	2 3				
問12	稻荷山	古墳	2				
問13	(例)大和政権の支配が、埼玉県から熊本県までおよんでいたこと。		3				
問14	C	問15 十七条の憲法	4				
問16	仏		2				
問17	役人の心構え		2				
問18	天皇の命令		2				
VI	問1 A	ウ	B	ア	C	イ	3
問2	防人	問3	班田収授法	4			
問4	調	と	庸	2			
問5	(例)それまで豪族が支配していた土地と人々を、国家が直接支配するという方針。			3			
問6	(例)逃亡や、偽籍をした。			2			
問7	唐	問8	イ	2 2			
問9	天武天皇			2			

知識 理解	技能	思考判断表現	合計
40 /40	30 /30	30 /30	100 /100