

1 年 () 組 番号 () 氏名 ()

1 次の問いに答えなさい。(2×10 2.0点)

- (1) 西暦年では、イエス・キリストが生まれた年を紀元何年としていますか。
- (2) 西暦年のあらわし方について、紀元前と紀元後のアルファベットの略称を、それぞれかきなさい。
- (3) 次の①、②の西暦年は、何世紀ですか。
① 1192年 ② 2000年
- (4) 年号(元号)について、次の①～③にあてはまるものをあとからそれぞれ選びなさい。
① 中国にならい、日本ではじめて使用された年号。
② 天皇一代で1つの年号が定められてからののはじめての年号。
③ あなたが生まれたときの年号。

[応仁 大正 昭和 大化 明治 慶長 平成]

(5) 時代区分を示した次の表を見て、①～②に答えなさい。

A	古代		中世		近世		近代	現代	
B	奈良	平安	()	室町	安土桃山	江戸	明治	大正	昭和

- ① 表中の A は、何のしくみの特徴から時代を区分していますか。
- ② 表中の () にあてはまる時代区分を答えなさい。

2 次の問いに答えなさい。(1×8 8点)

(1) 北極海に面したカナダ北部に、昔から住んでいた人々のことを何と呼びますか。

(2) 右の写真を見て、問いに答えなさい。

① (1) の人々が冬に狩りをするためのこの住居の何をいいますか。

② この住居の材料を、次から選びなさい。

[木 石 雪]



(3) 次の文中の () にあてはまる語句を答えなさい。

一年中雪と (①) におおわれ、平均気温が0度以下の期間が長い地域を (②) 帯と呼ぶ。夏にはわずかな草とコケが生える。

(4) 現在の(1)の人々の暮らしについて、次の文の下線ア～エのうち、誤っているものを1つ選び、記号と正しい語句を答えなさい。

カナダ政府が(1)の人々のア定住化を進めた。イ犬ぞりで狩りに出かけ、村には学校ができ、ウ外国産の食べ物も増えた。仕事も資源開発やエ観光の仕事をするようになった。

(5) 「(1)の人々の伝統的な食事の特色」を調査するときに、注目することがらを次から1つ選びなさい。

ア 畑には、どのような農作物が栽培されているか。

イ 家畜としてどのような動物を飼っているのか。

ウ タンパク質やビタミンを、どのようなものからとっているか。

3 次の問いに答えなさい。(1～6 1点 7 2点) 10点

(1) イタリアは、夏にどのような農作物を栽培していますか。次から2つ選びなさい。

(ジャガイモ トマト 米 ぶどう 小麦)

(2) イタリアの住居の特徴を、次から1つ選びなさい。

ア 丸太作りの家で、冬の寒さを防ぐため二重窓になっている。

イ 狩りのときは、動物の皮でつくったテントを利用している。

ウ かべは石づくりで、夏の強い日差しを防ぐため、窓は小さい。

(3) 次の文中の () にあてはまる語句を答えなさい。なお、①は下から選びなさい。

イタリアの町は、中心に (①)、それに面して (②) の大聖堂がある。町全体は古く建物が多く、新しい施設はその周辺にある。

[畑 広場 高層ビル]

(4) イタリアや日本の大部分の気候帯は何ですか。

(5) 右はローマの気温と降水量のグラフです。

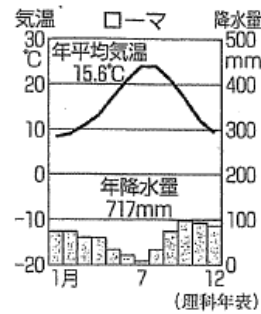
(4) 中のローマの気候を何といいますか。

(6) イタリア中部と同緯度にある日本の場所を、次から
選びなさい。

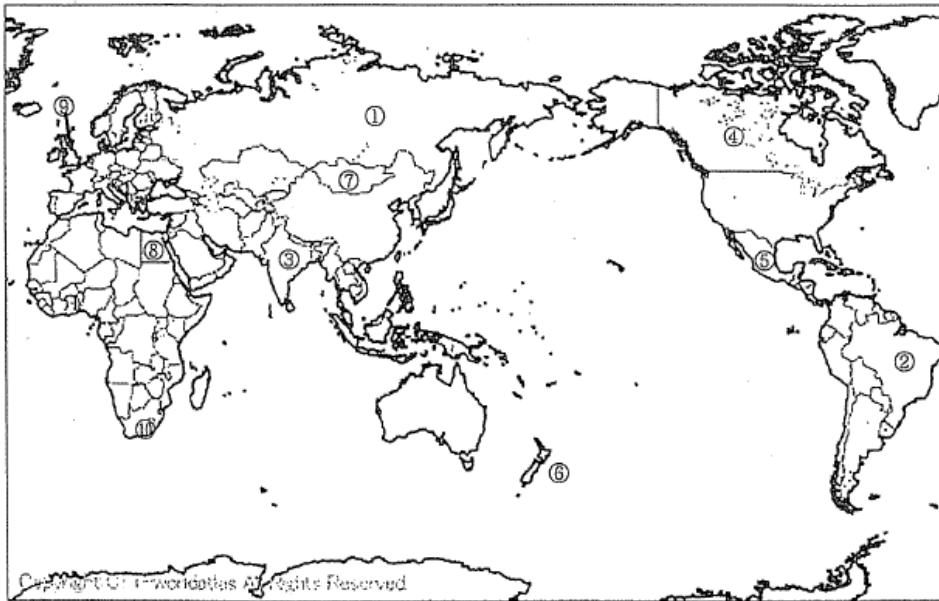
ア 北海道 イ 関東地方 ウ 九州地方

(7) グラフからローマの降水量の特徴を、簡単に
説明しなさい。

① 温帯の気温と降水量



4 次の①~⑩の国名を答えなさい。10点



5 次の問いに答えなさい。12点

(1) サハラさばくや、その南に接するサヘルに広がる、雨がほとんど降らない気候帯を何とい
いますか。



(2) サヘルを撮影した風景写真のタイトルとして適切なものを、次から2つ選びなさい。


ア 広場を中心にした町並み イ 焼き畑を行った農地
ウ 羊ややぎの遊牧をする民族 エ 冬のタイガ

(3) 次の文中の () にあてはまる語句を、下から選びなさい。

さばくで水が得られるのは、地下水がわき出る (①) だけであった。近年は
(②) 設備が整備され、とうもろこしの栽培ができるようになった。

(4) サヘルで砂漠化の環境問題が起こっています。その原因となっていることを1つあげてみ
ましょう。

6 次の問いに答えなさい。20点



(1) 写真A~Cと関係が深い宗教名を、それぞれ答えなさい。

(2) (1)の宗教は、合わせて何と呼ばれていますか。

(3) キリストの教えが書かれている経典を何といいますか。

(4) (1)の宗教のほかヒンドゥー教やユダヤ教があります。これらの宗教の特徴を「特
定」という語句を使って簡単に説明しなさい。

(5) ①イスラム教・②ヒンドゥー教で、宗教のきまりごとから食べることができないものを、次からそれぞれ選びなさい。

ア 乳製品 イ 牛肉 ウ 豚肉 エ 魚介類

(6) イスラム教で9月（ラマダン）になると、1か月の間行う宗教行事は何ですか。

7 次の問いに答えなさい。20点

(1) フィジーなどで一年中暑い地域にみられるうっそうとした森林を何とといいますか。

(2) フィジーで、近年、観光開発などで破壊されつつある、入り江や河口付近に育つ様々な種類の常緑広葉樹をなんとといいますか。

(3) 地図中のAの山脈を何とといいますか。

(4) Aの山脈で飼われている①、②の写真の家畜を、それぞれ何とといいますか。



(5) Aの山脈の周辺で着用されている、右上の③のイラストで示した寒さや風を防ぐための衣服を何とといいますか。

(6) Aの山脈の高地でくらす人々の生活の変化について述べた文を、次から選びなさい。

ア 今もバスは通っていない。 イ 電気が通っていない。


ウ 外国からの観光客が増えた。 エ 舗装道路が完備された。

(7) タイのバンコクを流れる河川を何とといいますか。

(8) (7)の川は重要な交通路です。移動するときの交通手段を1つあげなさい。

(9) 右の写真にあるバンコクの伝統的な住居を見て、この地域

で高床式の住居になっている理由を、簡単に書きなさい。



第1年1学期社会期末テスト

組 氏名		番		紀元後		紀元前		A.D.		3		① 12世紀		② 20世紀					
1	20点	4		① 大化		② 明治		③ 平成		5		① 社会		② 鎌倉					
2	8点	1		イヌイット		2		① イグルー		2		② 雪		3		① 永		② 寒	
4	記号	イ		語句		スノーモービル		5		ウ									
3	10点	1		トマト		2		ウ		3		① 広場		② キリスト教		4		温带	
5	地中	5		地中海性気候		6		ア		7		夏に(周)降水量が少なく、冬に多い。		2点					
4	10点	①		ロシア連邦		② ブラジル		③ インド		④ カナダ		⑤ メキシコ							
6	⑥	ニューゼーランド		⑦ モンゴル		⑧ エジプト		⑨ イギリス		⑩ 南アフリカ共和国									
5	12点	1		乾燥帯		2		イ・ウ		3		① オアシス		② かんがい		4		土地を休ませずに、耕作や放牧をつづけて(まうこと。	
6	20点	1		A キリスト教		B イスラム教		C 仏教		2		三大宗教		3		聖書		特定の民族や地域と強く結びついて信仰されている。	
7	20点	5		① ウ		② イ		6		断食									
1	熱帯	1		熱帯雨林		2		マングローブ		3		アンデス山脈		4		① リャマ		② アルパカ	
5	ホーン	5		ホーンチヨ		6		ウ		7		チャオアラヤ川		8		③ 水上バス			
9	④	雨季の時		川の増水やはんらん		に備えるため。													

合計 100点