

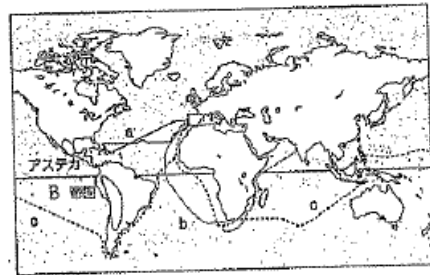
1 次の年表を見て、後の問題に答えなさい。

時代	年	日本のおもなできごと	年	世界のおもなできごと
室 町 時 代	1467年	応仁の乱が起こる	1492年	A <u>ギリシャ、ローマの古代文明を学び なおす学問・芸術がさかんになる</u>
		山城の国一揆がおこる		コロンブスがアメリカに着く
		加賀の一向一揆がおこる		1498年
	1543年	ポルトガル人が(ア)を伝える	1519年	マゼランが世界一周に出発する
安 土 桃 山 代	1549年	ザビエルが(イ)を伝える		
	1573年	(ウ)が豊前幕府をほろぼす		
	1590年	(エ)が全国を統一する		
	1592年	(エ)が朝鮮侵略を始める		

(1) 年表中のア～エにあてはまる語句を、それぞれ書きなさい。

(2) 年表中の下線部Aについて、14、15世紀にヨーロッパでおこったこのような動きを何というか。また、この時期に「モナ・リザ」などの作品をえがいた人物は誰か、人名を書きなさい。

(3) 右の地図中のa～cは、世界へ進出したヨーロッパ人の航路を示している。それぞれあてはまる人物名を年表中より選び、答えなさい。



(4) 地図中のBの帝国名と、この国を武力で征服したヨーロッパの国はどこか、国名を書きなさい。


(5) 年表中ウの戦国大名が、市場の税を免除し座の特権を廃止し、商工業の発展をはかった政策を何というか、書きなさい。

(6) 年表中エの人物が行ったことについて、次の問題に答えなさい。

① この人物は、ものさしやますを統一し、全国の田畑の広さや土地のよし悪しを調べ、予想される生産量をすべて米の体積である石高であらわした。このことを何というか書きなさい。

② この人物は、農民や寺から刀・弓・やりなどの武器を取り上げた。このことを何というか、書きなさい。

③ この人物は、明を攻めるため朝鮮に兵を出した。この戦いで、日本の水軍をうち破り、朝鮮を救った英雄として、現在も朝鮮の各地に像が建てられている武將は誰か、下の語群より選び、答えなさい。



2 次の問題に答えなさい。

(1) 右の資料の説明として最も適切なものを下のア～エから一つ選び、記号で答えなさい。つ選び、記号で答えなさい。

ア 外様大名を幕府から遠い場所に集め、譜代大名を幕府の周辺に配属し、幕府を守る体制を整えた。

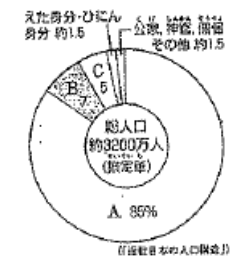
イ 朝廷がある都の周辺に譜代大名を集め、朝廷の警備をさせた。また、幕府の周辺に外様大名を配属し、幕府の警備をさせた。

ウ 幕府の周辺に外様大名を集め、幕府の警備をさせ、譜代大名を幕府から遠い場所に配置した。

エ 幕府は譜代大名・外様大名の関係なく、全国に同じように配置し、支配しやすい体制を整えた。



(2) 右の資料は江戸時代の身分別の人口の割合を示している。資料中のA～Cにあてはまる身分を、下から選び、答えなさい。



【 武士 百姓 町人 】

3 次のA～Cは、江戸時代初期の海外交流を説明した文です。この文をよんで後の問題に答えなさい。

A キリスト教徒への迫害や、重い年貢の取り立てに苦しんだ住民たちが、神の使いとされる少年①天草四郎を大将にして一揆を起こしました。

B 朱印状を発行された日本船は、さかんに海外との貿易のために渡航していきました。その結果、東南アジアの各地に多く(②)ができました。オランダやイギリスとの貿易も始まり、X産の生糸や絹織物が輸入の中心でした。

C 日本からポルトガル人が追放され、オランダ商館が長崎の(③)に移されると、それ以降は、限られた国のみが日本との貿易を行うようになりました。また、琉球、アイヌとの交易もさかんに行われました。

(1) Aの下線部①の人物を中心として起きた、この一揆の名称を答えなさい。

(2) Bの(②)に当てはまるような町が右の地図に●で示されています。このような町を何というか答えなさい。

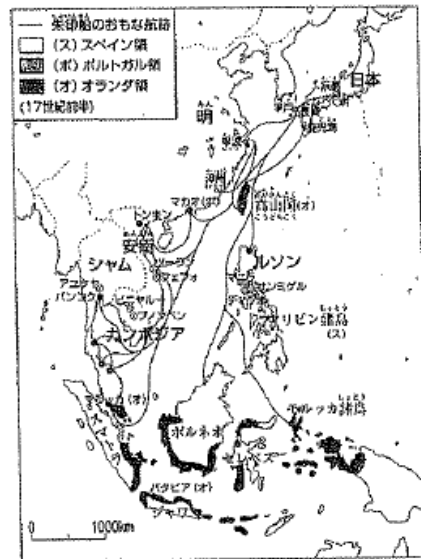
(3) BのXに当てはまる国の名前を、右の地図から選んで答えなさい。

(4) 幕府は、Cの(③)に海外貿易の窓口を限定することによって、どのようなことをめざしたか、当てはまらないものを、下のア～エから一つ選び、記号で答えなさい。また、(③)に適する語句を書きなさい。

- ア 幕府が貿易を独占する。
- イ キリスト教の禁止を徹底する。
- ウ 大名に外国とのつながりを持たせない。
- エ 朱印船貿易を盛んにする。

(5) 鎖国下においても朝鮮などとの交流は続いたが、將軍の代がわりごとに日本を訪れた、朝鮮の使節をなんといい、書きなさい。また、朝鮮との国交の実務を担当するとともに貿易を許され、朝鮮の釜山に設けられた倭館で、銀や銅などを輸出し、木綿や朝鮮人参などを輸入した藩はどこか。

(6) A～Cの文章を、年代の古い順に並べかえなさい。



4 次のI、IIの資料をそれぞれ何というか、書きなさい。

資料I
 一、文武を兼ね備え、弓馬の道にはげまなくてはいけない。
 一、城を修理するときは、かならず届け出よ。新たに城を築いてはならない。
 一、大名は、かつてに婚姻関係を結んではならない。

資料II
 一、朝は早く起きて草を刈り、昼は田畑の耕作をし、晩には縄をない、俵をあみそれぞれの仕事に気をぬくことなくはげむこと。
 一、酒や茶を買ってのまないようにせよ。
 一、百姓は、雑穀を食べ、米を多く食いつぶさぬようにせよ。

5 資料を見て、後の問題に答えなさい。

(1) 18世紀のはじめに人口100万人の大都市となった地図中のXの都市名を書きなさい。



(2) 佐渡金山、生野銀山、足尾銅山の位置を、地図中のア～オから選び、それぞれ記号で答えなさい。

(3) 西陣織の産地の位置を、地図中のア～オから選び、記号で答えなさい。

(4) 年貢米や特産物の保管や販売のために諸藩が大坂に設けた建物を何というか、書きなさい。

(5) 江戸時代に考案された、右の資料Iの農具を何というか。また、この道具は、何をするための道具か、簡単に書きなさい。

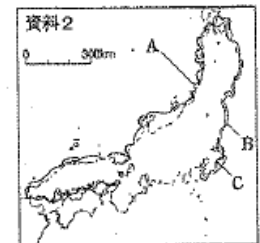


(6) 次の文に通する語句を後の語群より選び、記号で答えなさい。

大坂と江戸の間には、(①)や(②)などの定期船が往復するようになり、(③)・(④)・酒・しょう油など、江戸の住民の日用品が送られるようになった。また、西回り航路や東回り航路が開かれ、東北・北陸地方の米が江戸や大坂に輸送された。

- ア 木綿
- イ 寛永通宝
- ウ 樽廻船
- エ 釜屋廻船
- オ 絹織物
- カ 菜種油

(7) 右の資料2のCの浜でさかんに水揚げされ、食用のほか、干して肥料とされた魚は何か。



6 次の文を読み、以下の問題に答えなさい。

A 「私」は、寺院の建設などに多くの費用をかけ、幕府の財政の不足を補うために、
 (①) を大量に発行した。また、^{おしな} 御書を奨励し、武士に
^{しゅうしやく} 朱子学を学ばせた。^{しゅうしやく} 生類憐みの令を出したのも私である。

B 御三家の一つである (②) 藩から将軍に迎えられた「私」は、幕府の財政を立
 て直すために、(③) を定めて大名の参勤交代を一時ゆるめるかわりに、幕府に
 米を献上させた。また、目安箱を設置したり、法律の整備(公事方御定書)などを行
 ったりした。

- (1) A、Bの「私」はそれぞれ何という人物か、下から選んで書きなさい。
 [徳川吉宗 徳川綱吉 大塚平八郎 水野忠邦 田沼意次 松平定信]
- (2) 悪化した財政を補うために、この人物が行ったことは何か、①に適する文を書きなさい。
- (3) ②について、Bの文の「私」は、徳川御三家のうちの何藩の出身か、藩名を答えなさい。
- (4) Bの人物が行った③に適する語句を書きなさい。また、この人物が行った改革を何というか。

7 文化について、次の問題に答えなさい。

- (1) 壮大な天守閣をもつ城がつくられるなど、大名や大商人の気風を反映した文化が栄え、狩野永徳らは、
 城のふすまなどに障壁画をえがいた。この頃の文化を何というか、答えなさい。
- (2) 次の①～④にあてはまる人物を、後の語群より選び、答えなさい。

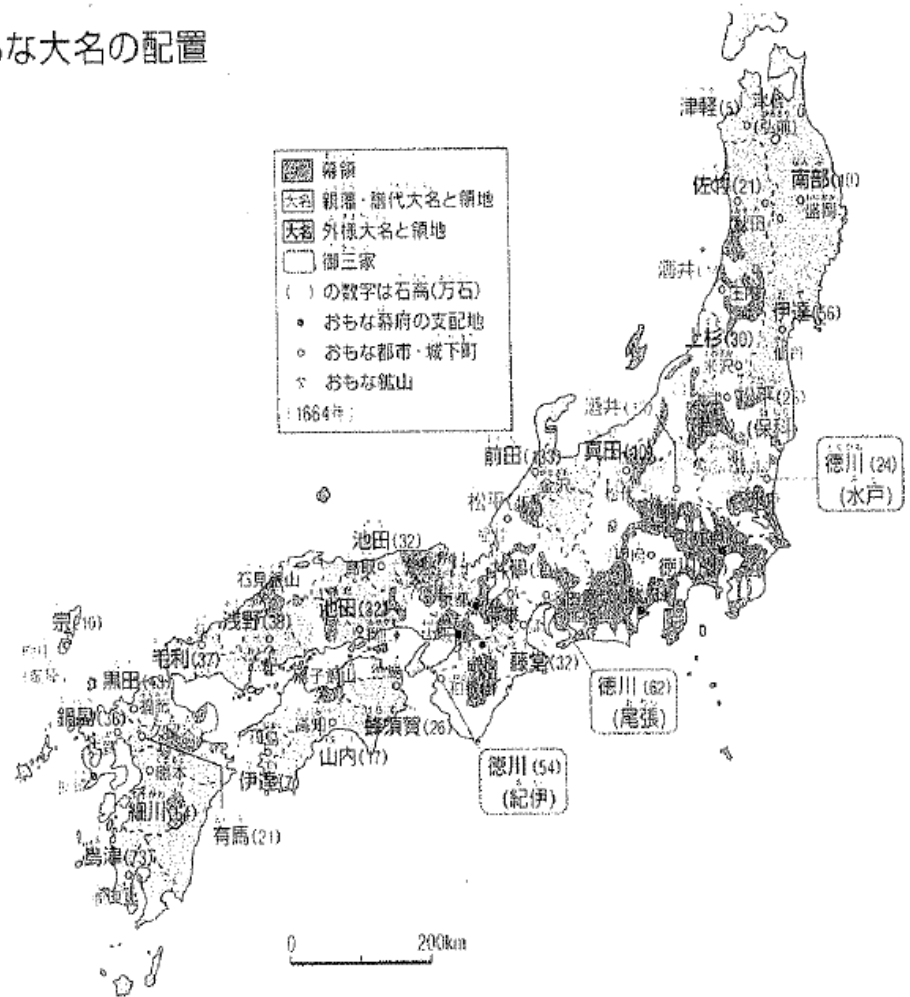
- ① 町人の生活や欲望をもとに浮世草子(小説)を書いた。
 ② 義理と人情の世界に生きる男女の悲劇をなどをもとに、人形浄瑠璃の脚本を書いた。
 ③ 俳諧(俳句)で自己の内面を表現する新しい作風を生み出した。
 ④ 「見返り美人図」などの絵をえがき、浮世絵の祖となった。

坂田藤十郎 市川團十郎 松尾芭蕉 近松門左衛門
 俵屋宗達 尾形光琳 菱川師宣 千利休 井原西鶴

- (3) (2)の文化を何というか、答えなさい。

問題2 「右の資料の説明として・・・」の資料です。問題用紙の資料の印刷が分かりづらか
 ったため、拡大印刷しました。この資料を使って問題を解きなさい。

おもな大名の配置



3年 組 番・氏名

1	(1)	ア 鉄砲	(1)	江戸
	(2)	イ キリスト教	佐渡金山	ア
		ウ 織田信長	生野銀山	オ
		エ 豊臣秀吉	足尾銅山	イ
		ルネサンス	エ	
	(3)	人名 レオナルド・ダ・ヴィンチ	蔵屋敷	
		a コロンブス	農民の名前	千鶴こき
		b パスコ・ダ・ガマ	何をするための道具か	
		c マゼラン	脱穀 (だっこく)	
		インカ 帝國	① ウ	絹不同 各1点
征服した国 ス페인		② エ		
(4)	桑市・桑座	③ ア		
	① 太閤検地	④ カ		
	② 刀狩	絹 (いわし)		
	③ 李舜臣 (イスンシン)	A 徳川綱吉		
(5)	ア	B 徳川吉宗		
	A 百姓	① 質の悪い貨幣		
	B 武士	② 紀伊 藩		
(6)	C 町人	③ 上米の制		
	島原・天草 一揆	改革名 享保の改革		
2	(1)	日本町	(1)	桃山文化
	(2)	明	① 井原西鶴	各1点
		記号 エ	② 近松門左衛門	
	(3)	出島	③ 松尾芭蕉	
		使節 (朝鮮) 通信使	④ 菱川師宣	
	(4)	対馬 藩	(2)	元禄文化
(5)	B → A → C	(3)		
3	資料 I 武家諸法度			
	資料 II 慶安の御触書			