

第2学年社会科後期中間テスト

1. 各問いに答えなさい。

(1) 次の文のうち、18～19世紀のヨーロッパの状況を正しくあらわしていないものを1つ選び、記号で答えよ。

- ア イギリスでは、ヨーロッパ諸国に先駆けて産業革命が進行した。
- イ フランスでは王の権力が絶対であったが、革命がおこり、やがて軍人のナポレオンが権力をにぎった。
- ウ アメリカは、フランスから独立したのち、発展を続けた。
- エ イギリスで始まった産業革命はドイツにもおよび、富国強兵によって、急速に国力をのばしていった。

(2) 次の資料の(a)～(e)にあてはまる語句を下から選んで答えよ。

「人権宣言(人間および市民の権利の宣言)」(部分要約)
 第1条 人は生まれながらに、(a)で(b)な権利をもつ。
 第3条 主権のみなものは、もともと(c)のなかにある。
 第11条 (d)および(e)の自由な発表は人間の最も尊い権利の一つである。

思想 言論 自由 国民 平等

(3) 次のA、Bの文中の()にあてはまる語句を書きなさい。また、A、Bのしくみ考え方の名称をそれぞれ答えよ。

A 産業革命によって利益をめざす競争社会になると、生産のもとでなる資本をもつ者が、(X)をやとって生産するしくみが生まれた。

B 産業革命によって都市の工場で働く(X)が増えると、(Y)の遅や労働災害、公衆衛生などの社会問題が広がった。このため理想の共同体をめざす考え方が生まれた。

(4) 右の写真の人物名を答えなさい。
 また、この人物について簡単に答えよ。



2 各問に答えなさい。

(1) 次の文は幕末のころのようすをあらわしたものです。まちがっているものを1つ選び、記号で答えよ。

- ア 井伊直弼は、水戸藩の浪士などに暗殺された。
- イ 長州藩が外国船を攻撃した報復として、下関の砲台がイギリスなどに占領された。
- ウ 全国で「ええじゃないか」とはやしたてながらおどおどさきわが広がった。
- エ 戊辰戦争に敗れた徳川慶喜は、政権を朝廷に返上した。



(2) 右の写真について答えよ。

- ① 人物名を書け。
- ② この人物の功績を、次から1つ選んで記号で答えよ。

- ア 政権を朝廷に返上した。
- イ 薩摩藩と長州藩に同盟を結ばせた。
- ウ 日米和親条約を結んだ。
- エ 日米修好通商条約を結んだ。

(3) 右の年表を見て各問に答えよ。

- I ①・②に年代を書き入れ、年表を完成させよ。
 - II 年表中のA・Bがおこった場所を、ア～オから選んで答えよ。
- (4) 年表中の年代以前に結ばれた「日米修好通商条約」が、日本にとって不平等な点を2つ正確に書きなさい。

年代	できごと
1860	井伊直弼、暗殺される
1862	生麦事件が起こる——A
1863	長州藩が、外国船を攻撃する
1864	四国艦隊、下関砲台占領——B
①	薩英同盟が結ばれる
1867	大政奉還
1867	主権復古の大号令が出る
②	戊辰戦争が始まる



3. 右の資料を読んで答えなさい。

- (1) これは、明治政府の政治の基本方針だが、何と
いうか。(ひらがなでもよい)
- (2) a、bにあてはまる語句は何か。

— 広ク a] ヲ 興シ 万 民 公 益 ニ 決 ス ベシ
 — b] 心 ヲ ヲ ニ シ テ 庶 民 ニ 種 種 ヲ 行 ク ベシ

4. 右の資料をみて、各問いに答えなさい。

- (1) 資料は、地租改正の時に発行されて、土地所有者に渡された証書である。これを何と
いうか。
- (2) 地租改正で課税の基準は何に
変えられたか。
- (3) 土地の所有者は税金を何で納める
ことにされたか。
- (4) 各地でおきた地租改正反対一揆の結果、
政府は税金の率を何パーセントに引き
下げたか。
- (5) 1873年に出された徴兵令で、兵役の
義務を負わされた人たちは次から1つ選べ
ア 満20才に達した平民の男子
イ 満20才に達した士族の男子
ウ 身分にかかわらず、満20才に達した男子




5. 次の語句は、明治政府が行った政策などである。その中から1つを選び、その内容と目的を簡単に書きなさい。

- 處 藩 置 県 四 民 平 等 文 明 開 化 五 榜 の 掲 示

6. あやこさんとゆうきさんの会話を読んで、次の問に答えよ。

あやこ：アメリカはさまざまな民族がくらししている国だね。
 ゆうき：アメリカには a もともと先住民が住んでいたけど、そこにもヨーロッパからの移民がやってきて、新しい国をつくったみたいだよ。
 あやこ：1620年に、メイフラワー号に乗ってイギリスのアリマスを出発した102人が、移民の始まりだと聞いたよ。
 ゆうき：開発を進めていく中で労働力が不足したために、() の人々が奴隷として連れてこられたみたいだよ。
 あやこ：その後、b アジアの人々も太平洋をこえて、移住するようになったんだ。特に、1970年代からは、アジアからの移民が急速に増えてきたんだって。
 ゆうき：最近では、d メキシコや西インド諸島から移住してきた、スペイン語を話す人々も増えてきているみたいだね。

【資料1】



【資料2】



- ふたりの会話の中の下線部 a ~ c にあてはまる民族を、資料1のア~エからそれぞれ選び、記号で答えよ。
- 会話の中の () にあてはまる大陸名を答えよ。
- ふたりの会話の中の下線部 d の人々が占める割合が多い地域を、資料2のA~Fから1つ選び、記号で答えよ。
- アジア系の移民が増えた理由として、あてはまらないものを次のア~エから1つ選び、記号で答えよ。
 ア 出身国の経済が停滞し、収入が少なかったため。
 イ 出身国が第二次大戦の戦場となったため。
 ウ アメリカ東海岸の開発や工業化が進み、新しい労働力が必要とされたため
 エ 内戦などによって、出身国が混乱して安心して生活できなかったため
- アメリカに多くある、世界各地に支社や子会社をつくり国境を越えて活動している企業を何というか。

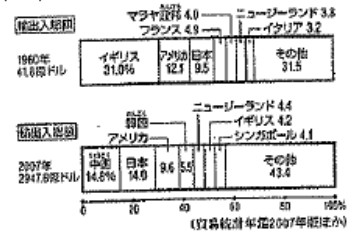
7. 次の①~④は、右の図のA~Dのいずれかの地域について述べたものです。それぞれにあてはまるものを、A~Dの記号で答えよ。

- 五大湖沿岸にあるビッツバーグは鉄鋼業、デトロイトは自動車製造の中心地として発展した。
- ニューヨークには、国際連合の本部がある。また、首都ワシントンDCやボストン、フィラデルフィアなどの大都市がある。
- 太平洋岸に位置するサンノゼ周辺は、ハイテク産業や情報技術産業が集中し、シリコンバレーと呼ばれている。
- サンベルトはもともと農業がさかんであったが、近年は工業地域としても重要になってきている。

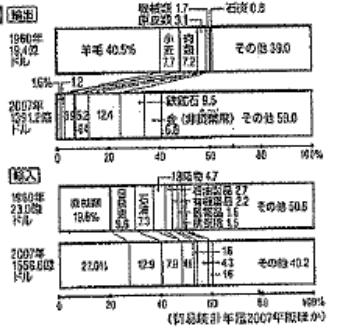


8 次の2つの資料を見て各問に答えよ。

【資料1】

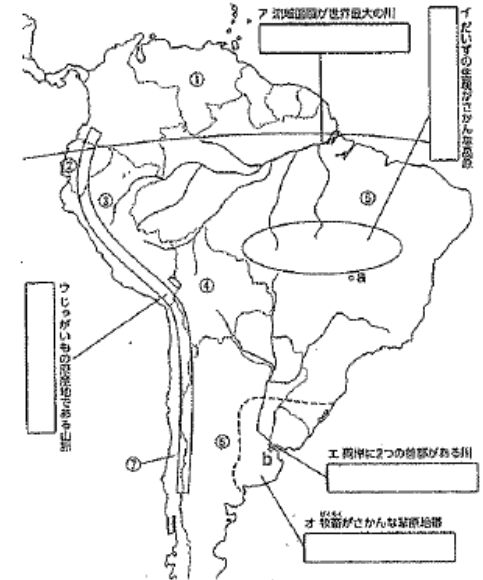


【資料2】



- 貿易相手国はどのように変化したか。資料1をみて、1960年と2007年を比較しながら簡単に答えよ。
- 輸出や輸入の貿易品はどのように変化したか。資料をみて、1960年と2007年を比較しながら簡単に答えよ。

9. 下の地図のア~オの地形名を答えよ。(ヒントをよく読むこと)



10. 「井伊直弼」という人物について、あなたはどのように思いますか。生い立ち、やったことなどを含め、自分の意見を100字以上120字以内で解答用紙ウラの解答欄に書きなさい。

11. 11月のアメリカ大統領選挙で勝利し、2期目をむかえることになったオバマ氏について、次のア~エの中から まちがっているもの を1つ選び、記号で答えよ。

- ア アメリカ初の黒人系大統領である。
- イ 政党は、共和党に所属している。
- ウ 津ヶ谷先生と同じ、1961年生まれである。
- エ 最後まで大統領の座を争ったのは、ロムニー氏である。

1	(1) ウ	(2) 自由	平等	国民	思想	言論
	(3) X 労働者	Y 貧富	A 資本主義	B 社会主義		
	(4) 人権	リニガー	勝者の利による人民のための政治と云って南北戦争で活やくした。			

2	(1) 工	(2) ① 坂本龍馬	② イ
	(3) I ① 1866	② 1868	II A イ
	(4) 領事裁判権を認めた。	関税自主権がない。	

3	(1) 五ヶ条の御誓文	(2) a 養	b 下
---	-------------	---------	-----

4	(1) 地券	(2) 土地所有者	(3) 現金
	(4) 2.5%	(5) ウ	地価

5	選んだ政策 廃藩置県	内容 藩を廃止し県を置き、県令や府令を置く。	目的 中央集権国家を作ったため。
---	---------------	---------------------------	---------------------

6	(1) a イ	b 了	c ウ	(2) アメリカ	大陸	(3) E
	(4) 1	(5) 多国籍企業				

7	① B	② A	③ D	④ 2
---	-----	-----	-----	-----

8	(1) 1960年は、自国産品とロイヤリティの増大が、2007年は、中国などのアジアの国が多くなる
	(2) 輸出は靴が主で、鉄資源が主なり。輸入は機械が主が増えた。

9	ア アライ	川 イ フラシ	高原 ウ 了	山脈 テ
	エ ラ	川 オ ハ	コ	パ

11	イ
----	---

全部2点 漢字で書くべきところは漢字で、ひらがな漢字、誤字は×

10. 横書きで書いてください。句読点(、や。)は、1マスをつけて書くこと。

わたしは、

とても苦勞して、大老まで登りつめ、政權をにぎ、たが、アメリカと不平等な条約を結んだり、野政の大獄でたくさくの人を処罰したり、長年の思いが、からまわりして、まったのかなと思う。私は、井伊直弼は日本の未来のために必要だったと思う。

10
18
64

92

2年 組 番 氏名