

1年社会科 前期期末テスト 問題

1年社会科前期期末テスト問題

はじめに

ページを確認して、テスト問題の冊子をつくりましょう。

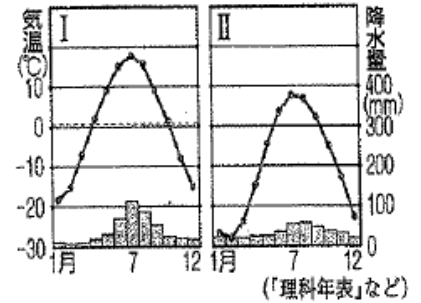
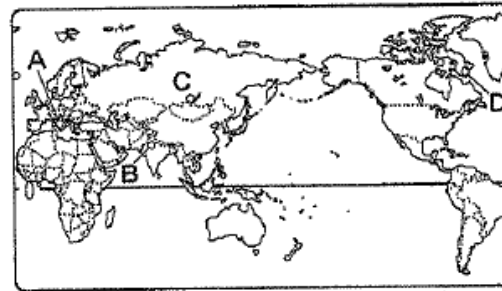
問題用紙と 解答用紙に 名前などを記入しましょう。

1 年 組 番

氏 名

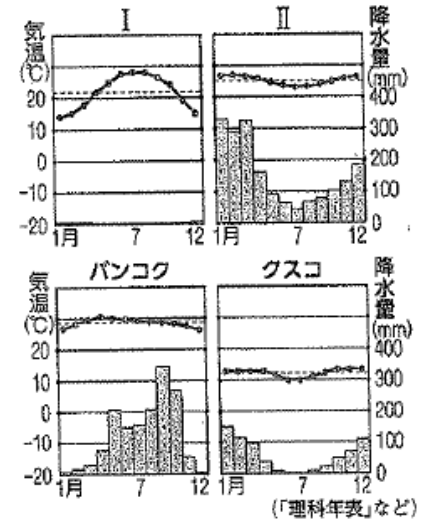
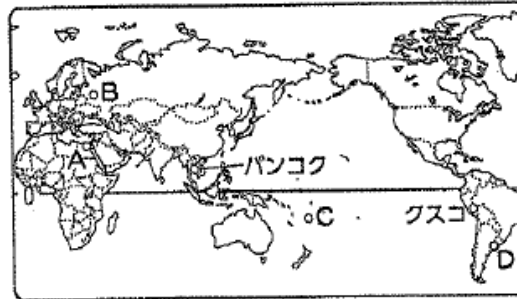
地理の問題

1. 次の地図と雨温図を見て、問いに答えなさい。



- (1) イヌイットと呼ばれる人々が住んでいる都市を地図中のA～Dから選んで記号で書き、その都市の雨温図をI・IIのどちらか答えなさい。
- (2) 冷帯（亜寒帯）にある針葉樹の森林を何と書いて書きなさい。
- (3) 地面の下で、一年中こおりついている土を何と書いて答えなさい。

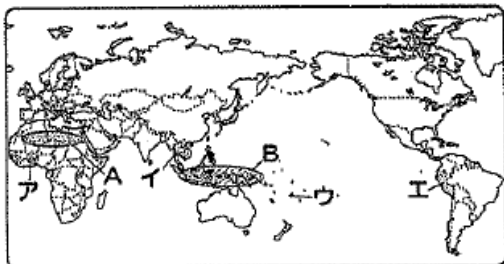
2. 次の地図と雨温図を見て、問いに答えなさい。



- (1) 右のI・IIの雨温図の示す気候の都市を地図中のA～Dから選び、気候帯を答えなさい。
- (2) バンコクの雨温図が表す気候の特徴を答えなさい。
- (3) クスコは、赤道に近いが、年間の平均気温が比較的低い。このような気候を何と書いていますか。

3. 地図を見て、問いに答えなさい。

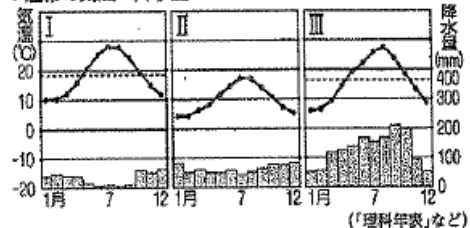
- (1) 地図中Aのさばくなどで、樹木が育つ地下水のわき出るところを何といますか。
- (2) 地図中Bの地域に広がる林のことを何といますか。
- (3) 次の文に適する国を、地図中のア～エから選び記号で答えなさい。



- ① リヤマやアルパカなどの家畜で輸送を行っている。
- ② かんがい設備が整ったが、さばく化という問題もかかえている。

4. 右のグラフは温帯の3つの気候区分のグラフである。各問いに答えなさい。

● 温帯の気温・降水量



- (1) 東京はI～IIIのどれですか。
- (2) イタリアには日本のような梅雨はありません。イタリアのような気候を何といますか。2年前
- (3) 今年オリンピックが開かれるイギリスの気候の特徴を説明しなさい。

5. 次の問いに答えなさい。

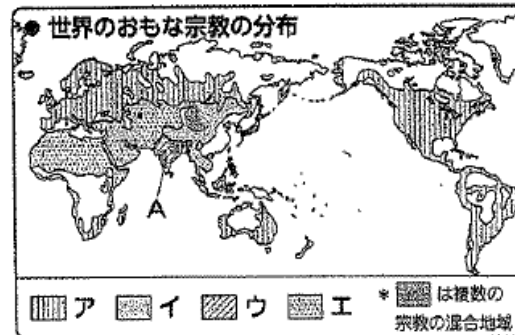
まいさんは、夏休みを利用してオーストラリアへの家族旅行を計画しました。そこで、囲み内にあるように時差と服装について調べようとしてました。どのようなことを調べればよいでしょうか。次のア～オのなかから適切なものを二つ選び、その記号を答えなさい。

- 日本との時差は何時間あるか。
- どのような服装を用意して行ったらよいか。

- ア 日本からの方位と距離
- イ 日本とオーストラリアの緯度と経度
- ウ 日本とオーストラリアの輸出入品目
- エ オーストラリアの年間平均気温と年間降水量
- オ オーストラリアの月別の気温と降水量

6. 右の地図を見て、問いに答えなさい。

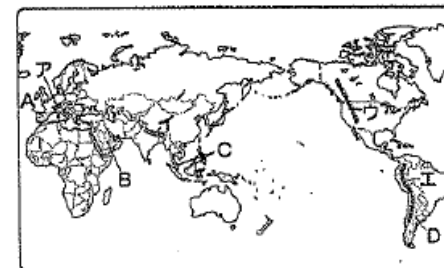
- (1) 地図中のア・イの地域で信仰されている宗教名を書きなさい。
- (2) Aの国で多くの人に信仰されている宗教名を書きなさい。
- (3) 次の文は何という宗教についてのべたものか答えなさい。



「信者は豚肉を食べることを禁じられている。1日5回、聖地に向かって礼拝し、金曜日にはモスクに集まって祈る」

7. 次の問いに答えなさい。

- (1) 右の地図中のイ、エの山脈名を書きなさい。
- (2) 地図中エの山脈の地域で栽培され、世界中に広まった食べ物を、次の語群から2つ選んで書きなさい。
【 トマト オリーブ パナナ フドウ キャッサバ 米 ジャガイモ 】

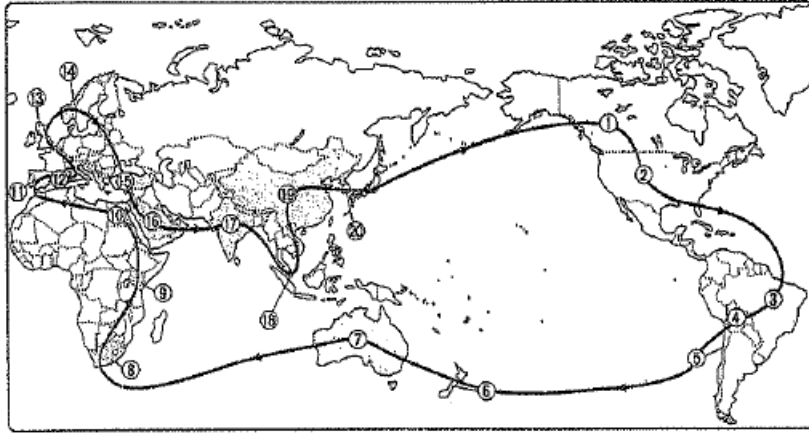


(3) 下の写真①・②と関係の深い国をA～Dの中から1つずつ選び記号で答えなさい。




8. 下の写真(1)～(6)と関係する国を、下の地図をから選び①～⑥の記号で答えなさい。





9. 次の写真は、世界の地域でみられる住居である。この地域の気候に適応するために、写真の住居にはどのようなふうがみられるか。気候の特色に着目して、簡単に書け。

(1) マレーシア



(2) キリシヤ



歴史の問題

1. 西暦についての問題です。次の各問いに答えなさい。

(1) ①紀元前と②紀元後をアルファベットではどう表しますか。正しい組み合わせを下群から選びア～オの記号で答えなさい。

- ア. ①A. B. ②C. D.
 イ. ①B. C. ②D. A.
 ウ. ①C. D. ②A. B.
 エ. ①D. A. ②B. C.
 オ. ①B. C. ②A. D.

(2) 19世紀は西暦でいうと何年～何年ですか。答えなさい。

2. 次の図「人類の進化」について、次の各問いに答えなさい。

(1) A・B・Cの正しい組み合わせはどれか、ア～オの記号で答えなさい。


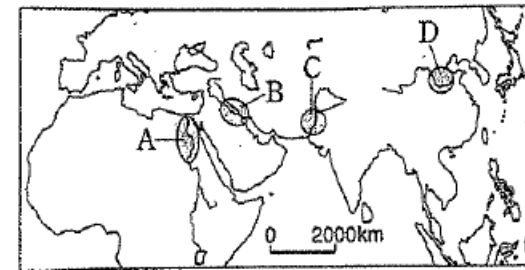


- ア. A・猿人 B・新人 C・原人
 イ. A・新人 B・原人 C・猿人
 ウ. A・原人 B・猿人 C・新人
 エ. A・新人 B・猿人 C・原人
 オ. A・猿人 B・原人 C・新人

(2) 図のCの人類は、狩りや採集をしながら生活をしていました。かれらが使用していた、石を打ち欠いてつくった石器を何といいますか。

(3) ②の時代の後、表面を磨いた石器を用いたり、土器を使うようになった時代を何時代といいますか。

3. 下の図と写真①～④を見て、次の各問いに答えなさい。



(1) 地図のA～Dの地域の共通点を答えなさい。

(2) Aの地域でおこった文明をなんといいいますか。

(3) 次の中国の王朝を古いものから順に、記号を書きなさい。

- ア・漢 イ・殷 ウ・周 エ・秦

- (4) 紀元前6世紀ごろ「孔子」が説いた教で自分の行いを正すことが、国を治めるもとであるとされた新しい思想を何というか。
 (5) 秦の始皇帝にかかわる歴史的なものを①～④の中から1つあげなさい。
 (6) 殷の時代につくられて、漢字のもととなったものは何か答えなさい。

4. 宗教のおこりについてまとめた次の表中の()に適する語句をそれぞれ書きなさい。

宗教	(①)	(②)	地理6(3)の答え
開祖	シャカ(釈迦)	(③)	ムハンマド
時期	紀元前5世紀	紀元前後	7世紀
場所	インド	パレスチナ	アラビア半島
経典	お経	聖書	(④)

5. 次の資料①・②を見て、各問いに答えなさい。



- (1) A・三内丸山遺跡、B・言野ヶ里遺跡は、それぞれ①と②どちらの時代ですか。
 (2) ①の時代の食料を得るおもな方法を書きなさい。
 (3) ②のむらには高いさくや物見やぐらが見られます。②のような設備は何のために設けられましたか、答えなさい。

6. 次の文を読んで、各問いに答えなさい。

紀元前4世紀頃、大陸からやって来た人々により稲作が伝えられた。
 紀元前後、中国の歴史書に日本のことが記録されるようになった。日本の王は、中国の皇帝に貢ぎ物を送り、王の地位を認めてもらおうとした。

- (1) 57年中国の後漢に使者を送り金印をもらった『後漢書』東夷伝（こかんじよ とういでん）に記録のある日本の国は何という国ですか。
 (2) 右資料の『魏志倭人伝』（ぎしよじんでん）に記録のある国と女王の名前を答えなさい。

その国では、もとは男子が王で70～80年がたった。倭国は乱れて長年戦いが続き、1人の女子を立てて王とした。

7. 次の文章と地図・資料を見て、あとの各問いに答え回答欄に記入しなさい。

大和政権の王は、()世紀には九州から東北地方南部にいたる各地の豪族を従えるようになり、大王とよばれるようになった。大王は、A 朝鮮半島の国々と交流をもったり、B 中国の南朝に使いを送ったりしていた。



- (1) 上の文章の()に当てはまる数字を書きなさい。
 (2) 下線部 A について、大和政権は加羅地方の国々のほかには、朝鮮半島のどの国と親交を結んでいたか、書きなさい。
 (3) 大和政権は、(2)の国と結んで、朝鮮半島のどの国と戦ったか、国名を二つ書きなさい。

わたしの祖先は、みずからよるいやかぶとを身につけ、山や川をかけめぐり、東は55国、西は69国、さらに海をわたって95国を平定しました。しかしわたしの使いが陛下のところへ貢ぎ物を持っていくのを、高句麗がじゃまをしません。今度こそ高句麗を破ろうと思いますので、わたしに高い官位をあたえて激励してください。

- (4) 左上の資料の「わたし」は倭の五王のうちの武で、ワカタケル大王と同一人物と考えられています。なぜ、「わたし」は貢ぎ物を持って中国へ使者を派遣したのか答えなさい。
 (5) 朝鮮半島から日本に移り住んだ人々を何というか。

8. 前方後円墳を真上から見たおおよその形を、次の例にならって簡単に書きなさい。
 ※ 例(横から見たおおよその形)の下に、前後を間違えないように書きなさい。

後期期末テスト 社会科

解答用紙

地理	解答欄	思考	技能	知識
1	(1) 記号 D 雨温図 II (2) タイガ (3) 永久凍土		2	
2	(1) I 記号 A 気候は乾燥帯 II 記号 C 気候は熱帯 (2) 雨季と乾季がある 一年中気温が高い (3) 高山 気候	2	2	
3	(1) オアシス (2) 熱帯雨林 (3) ① E ② A	1	1	1
4	(1) III (2) 地中湿性 気候 (3) 一年中、雨が多い	2	2	2
5	I オ	2		
6	(1) A キリスト教 I 仏教 (2) ヒンドゥー教 (3) イスラム教	1	1	2
7	(1) イ ヒマラヤ 山脈 E アンデス 山脈 (2) トマト ジャガイモ (3) ① A ② C	2	2	1
8	(1) 20 (2) 18 (3) 9 (4) 17 (5) 2 (6) 10 (1) 高床式で 風通しをよくしてある (2) 窓を小さくし、夏の強い日差しを防ぐ	1	1	1
9		2		

14:16:30
思考 技能 知識

歴史	解答欄	思考	技能	知識
1	(1) オ (2) 1801~1900 (1) オ (2) 打製石器 (3) 新石器時代 (1) 大きな川の近く (2) エジプト 文明 (3) イ → ウ → E → A (4) 歴史 (簡学) (5) ④ (6) 甲骨文字	2	2	2
2				
3				
4	① 仏教 ② キリスト教 ③ イエス ④ コーラン (1) ① A ② B (2) 狩り 採集 争いで 敵から むらを守る (3)	1	1	1
5				
6	(1) 倭の国 (2) 国 : 邪馬台国 女王 : 卑弥呼 (1) 5 (2) 百濟 (3) 高句麗 新羅	2	2	2
7	(1) ① 疑の王としての地位。 ② 朝鮮半島を軍事的に支配する権利。 (5) 渡来人 (とらひじん) 横から見た形 前 後 真上から見た形 前 後	2	2	2
8				

1 年 組 登

氏名

12:12:26
思考 技能 知識