


I. 日本の成り立ちについて、次の間に答えなさい。

問1. 右の絵を見て、次の間に答えなさい。

(思考・判断・表現)


- (1) 右の①～③を、年代の古い順に並べなさい。  
 (2) ①、③は何のために使われましたか。次のア～エから選び、記号で答えなさい。



- ア. 祭りのための宝飾  
 イ. 古墳の上に置かれた土製品  
 ウ. 大量破壊兵器  
 エ. 食物の豊かさをいのゝるためつくられた物

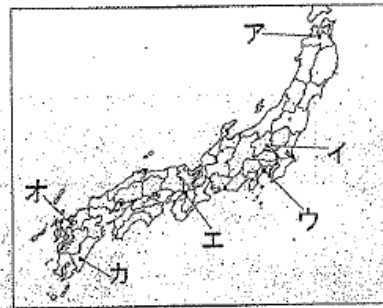
問2. 右の遺跡の写真中の A・B は何ですか。下のア～エの中から選び、記号を書きなさい。(技能)

- ア. 物見やぐら  
 イ. たて穴住居  
 ウ. 高床の倉庫  
 エ. 貝塚



問3. 次の①～③の遺跡のある場所を、右の地図中のア～カの中から選び、記号を書きなさい。(技能)

- ① 岩宿遺跡 (旧石器時代)  
 ② 三内丸山遺跡 (縄文時代)  
 ③ 吉野ヶ里遺跡 (弥生時代)



問4. 下のA～Cは、中国の歴史書です。次の間に答えなさい。

A

<「魏志」倭人伝>  
 魏の皇帝の「倭の女王」(①)に親魏倭王の称号、金印、銅鏡1,00枚などを授ける」との詔書を下された。

B

<「漢書」地理志>  
 このころ日本列島には1,000以上の小さな国々があった。それらの地域を中国の人たちは(②)と呼んだ。

C

<「後漢書」東夷伝>  
 (③)の奴国の王は貢ぎ物を持った使いをわが国(後漢)に送った。光武帝は奴国の王に(③)とひもを与えた。

(1) A～Cの歴史書を、年代の古い順に並べなさい。(思考・判断・表現)

( ㊦ )

(2) ( ① ) ～ ( ③ ) にあてはまる語句を書きなさい。(知識・理解)

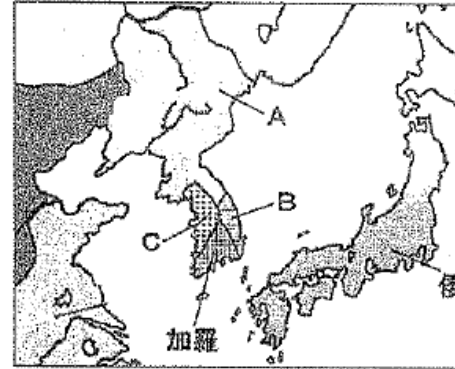


問5. 5世紀の東アジアについて、資料を見て次の間に答えなさい。

(1) 「渡来人」が日本に伝えたものを、次から2つ選んで書きなさい。(知識・理解)

- ア. 漢字      イ. イスラム教      ウ. 須恵器      エ. 甲骨文

(2) 下の地図は5世紀の東アジアの地図です。朝鮮半島のA～Cの国の名前を、ヒントを参考に下の中から選び、記号で答えなさい。(技能)



倭王武の手紙 (部分要約)

わたしの祖先は、みずからよろいやかぶとを身につけ、山や川をかけめぐり、東は55国、西は66国、さらに海を渡って95国を平定しました。しかしわたしの使いが陸下のところに貢ぎ物を持っていくのを、高句麗がじゃまをしています。今度こそ高句麗を破ろうと思いますので、私に高い官位をあたえて激励してください。

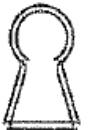
- \*ヒント1 大和政権はCと結んでAやBと戦った。  
 \*ヒント2 倭王武はAを倒したかった。

- ア. 北魏      イ. 新羅      ウ. 百濟      エ. 宋 (南朝)      オ. 高句麗

(3) 「ワカタケル大王 (倭王武)」の名が刻まれた鉄剣が、埼玉県の稲荷山古墳と熊本県の江田船山古墳の両方から出土しました。このことからわかることを、説明しなさい。(思考・判断・表現)



(4) この時代、右のような形をした墓が近畿地方に多数つくられました。この形の墓は何塚と呼ばれるものか、漢字で書きなさい。(知識・理解)



Ⅱ. 古代国家について、次の間に答えなさい。

問1. 聖徳太子について、次の間に答えなさい。

- (1) 右の資料は聖徳太子が604年に定めた「( )条の憲法」です。( ) にあてはまる語句を書きなさい。  
(知識・理解)

一に曰く、和をもって貴しとなし、さからうことなきを宗とせよ。(和をたいせつにし、人といさかいをせぬようにせよ。)  
(以下は現代訳、あらまし)  
2. あつく仏教を信仰せよ。  
3. 天皇の命令をうけたら、かならずそれに従え。  
4. 役人はみな礼儀をものごとの基本とせよ。

- (2) (1)の資料は何を示したものですか。次のア～エから1つ選び、記号で答えなさい。(知識・理解)

ア. 役人の心得	イ. 農民の義務
ウ. 裁判の規程	エ. 武士の法律

- (3) 聖徳太子は、女帝の推古天皇が即位すると摂政になりました。摂政とはどのような職ですか。説明しなさい。  
(思考・判断・表現)

- (4) 右の資料は、聖徳太子が607年に小野妹子らを遣隋使として派遣した時に隋の皇帝に送った手紙です。聖徳太子はどのような目的で遣隋使を派遣しましたか。説明しなさい。  
(思考・判断・表現)

「日出づる処の天子、書を日没する処の天子にいたす。つつがなきや…(太陽の昇る東方の国の天子が、手紙を太陽の沈む西方の天子に差し上げます。お元気ですか)。皇帝はこれを見てよろこばず、外交事務の役人に「外国からの手紙で無礼なものがあれば、今後は耳に入れさせるな。」と言った。  
(『唐書』倭国伝要約)

- (5) 聖徳太子が建立した右の寺院が、日本で最初に世界文化遺産に登録された主な理由は何ですか。「木造」という語句を使い、簡単に書きなさい。  
(思考・判断・表現)



問2. 下の文章について、次の間に答えなさい。(知識・理解)

7世紀中ごろ、国内では( A )の独裁的な政治に不満が高まり、645年( B )が中国で足らんとともに( A )をたおし、新しい政治のしくみをつくる改革を始めました。この改革では、豪族が支配していた土地と人民を、( C )として国家が直接支配することを目指しました。

- (1) 文中の( A )～( C )にあてはまる語句を、次のア～カから選んで、記号で答えなさい。

ア. 中大兄皇子	イ. 大海人皇子	ウ. 蘇我馬子
エ. 公地公民	オ. 班田収授法	カ. 蘇我入鹿

- (2) 文中の下線部の改革は「( )の改新」とよばれています。この( )にあてはまる年号を漢字で書きなさい。

- (3) 672年に起きた( B )の人物のあとつぎをめぐる戦いを次のア～エから選び、記号で答えなさい。

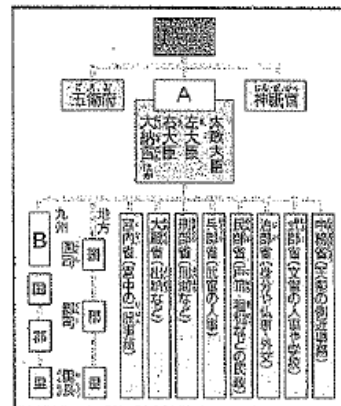
ア. 白村江の戦い	イ. 壬申の乱
ウ. 保元の乱	エ. 文永の役

問3. 律令国家について、次の間に答えなさい。

- (1) 701年に日本でつくられた律令の名称を、漢字で書きなさい。  
(知識・理解)

- (2) 710年につくられた平城京は、唐の都にならってつくられました。モデルとなった唐の都の名称を漢字で書きなさい。(知識・理解)

- (3) 右の図の A と B にあてはまる役所を、それぞれ漢字で書きなさい。  
(技能)



- (4) B が九州に置かれたましたが、B の役割はどのようなものであったか、説明しなさい。  
(思考・判断・表現)

- (5) 748年につくられた「租田永年私財法」により、奈良時代後半に貴族や僧が荘園などを拡大し勢力を伸ばすようになりました。「租田永年私財法」がなぜつくられたのか、「口分田」という語句を用いて説明しなさい。  
(思考・判断・表現)

- (6) 右の表は、律令国家における一般の人々の負担です。下の和歌に關係するものを、A～Cから選んで、記号で答えなさい。  
(知識・理解)

から衣 <sup>ころも</sup>すそに取りつき 泣く子らを  
置きてそ来ぬや <sup>かみ</sup>母なしにして

税	A. 白勞田をたがやす者金匱にわかり、版籍の約3%の租
賦役	B. 成人男子にかかり、地方の特産物や布
租	B. 成人男子にかかり、男役のかむりに布や米
租	成人男子にかかり、田圃のもとで1年間に60日以内の勞務
兵	成人男子数人に1人を、國との防衛で1年間に平均36日勤勞
兵	兵士から選ばれ、1年間郡の守り
役	C. 兵士から選ばれ、3年間北九州の守り



# 1学年 社会科 前期期末試験解答用紙

思 技 知

I 問1	(1)	①	→	③	→	②	
	(2)	①	エ	③	ア		
問2	A	イ	B	ウ			
問3	①	イ	②	ア	③	オ	
問4	(1)	B	→	C	→	A	
	(2)	①	卑弥呼	②	倭	③	金印
問5	(1)	ア	ウ				
	(2)	A	オ	B	イ	C	ウ
	(3)	(例)大和政権の支配が、埼玉県から熊本県までおよんでいたこと。					
	(4)	(漢字) 前方後円 墳					
II 問1	(1)	十七	(2)	ア			
	(3)	(例)天皇が女性や幼少であったりするときに置かれ、天皇の代理として政治を行う。					
	(4)	(例)東アジアの日本の立場を有利にし、中国の進んだ文化を取り入れる。					
	(5)	(例)現存する世界最古の木造建築だから。					
	問2	(1)	A	カ	B	ア	C
	(2)	(漢字) 大化		(3)	イ		

問3	(1)	(漢字) 大宝律令	(2)	(漢字) 長安(西安)					
	(3)	A (漢字) 太政官	B (漢字) 大宰府						
	(4)	(例)九州地方の政治の他、大陸との外交や防衛の拠点。							
	(5)	(例)人口が増加し、口分田が不足してたので、人々に自ら開墾することをすすめるため。							
	(6)	C							
	問4	(1)	①	オ	②	ウ	③	カ	④
(2)		(例)自分の娘を次々と天皇の后にして、幼い孫を天皇にして自ら摂政となり、政治を独占した。							
問5	(1)	Z	→	X	→	Y			
	(2)	X	B	Y	A	Z	B		
III 問1	①	(例)気温が0℃以下の期間が長く、夏も気温が低い。							
	③	(例)夏と冬の気温差が大きい。							
問2	①	問3	記号	③	森林名	タイガ			
組		番号		名前					
思考判断	/30	技能	/30	知識理解	/40	合計	/100		