

1年社会科中間テスト 【問題用紙】

1年 組 番・名前 \_\_\_\_\_

【地理的分野】

1 次のA～Dの文をよんで、後の問題に答えなさい。

A アフリカ北部の広大なサハラさばくの南に接して、わずかに木や草が生えた土地が見られる。ここは、「サハラのふち」という意味の( ① )とよばれている。この地域には、サハラさばくを縦断してものを運んだり、羊ややぎの( ② )を行ったりしてきたトゥアレグ族をはじめさまざまな民族がくらししている。

B 南アメリカの( ③ )山脈中央部にあるペルーには、高度差を利用してくらしている人々がいる。山では標高が上がるにしたがって気温が下がるため、赤道に近いにもかかわらず、一年中すずしい気候である。

C イタリア中部には、丘の上に古くから栄えた町が見られる。町からは、周りに広がるぶどうとオリーブの畑が見渡せる。ぶどうや( ④ )、トマトの栽培には、暑く( ⑤ )した夏が適している。

D 北極海に面したカナダ北部には、( ⑥ )と呼ばれる人々が生活している。( ⑥ )の生活の中心は、狩りだった。あざらしやカリブーの肉、魚は、( ⑥ )の食事の中心となり、肉以外の部分も余すところなく利用されてきた。

(1) A～Dの文中の①～⑥に適する語句を下の語群より選び、書きなさい。

アンデス アルプス イヌイット サヘル 乾燥 遊牧 タイガ オリーブ

(2) Aの文について、

- ① この地域の気候帯名を書きなさい。
- ② サハラさばくなどで、地下水がわき出るところを何というか、書きなさい。
- ③ この地域で行われている、わずかに木が生えた草原を焼きはらって畑を作り、焼いてできた灰を肥料として活用する農業を何というか、書きなさい。

(3) Bの文中の下線部について、ここで行われている農業で、次の作物や放牧を標高の高いところで行われている順に並び替え、記号で答えなさい。

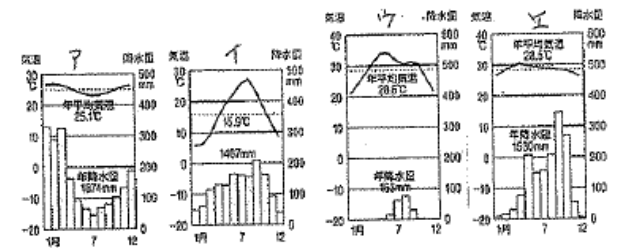
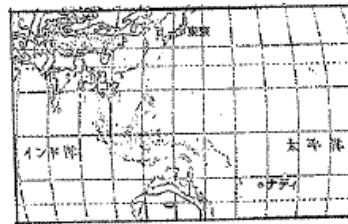
- ア とうもろこしの栽培
- イ リャマ・アルバカの放牧
- ウ かんきつ類・熱帯作物の栽培
- エ いも類の栽培

(4) Cの文について、イタリアの気候帯は、日本と同じ温帯に属するが、気候は日本と大きく異なっている。この気候を何というか、書きなさい。

- (5) Dの文について、右の資料のような、かれらが冬、あざらしを追って海の水の上に雪を固めて積み上げたドーム型の住居を何というか書きなさい。
- また、寒帯なかでも彼らが住むこのあたりの気候は、短い夏に雪や氷がなくなり、わずかに植物が育つ。この気候を何というか、書きなさい。



2 次の地図と気温と降水量のグラフを見て、後の問題に答えなさい。



(1) 地図中に示すバンコクとナディの気温と降水量のグラフを、右のア～エから選び、記号で答えなさい。

(2) バンコクにあたるグラフによると、雨期は、何月から何月までか。

(3) ナディの気候帯の特徴について正しく述べた文を次から選び、記号で答えなさい。

- ア 季節の変化がほとんどない。      イ 雨がほとんど降らない。
- ウ 気温が0℃以下の期間が長い。      エ 一年の気温の差が大きい。

(4) バンコクやナディは同じ熱帯に属するが、それぞれの気候名を書きなさい。

(5) 地図中に示す東京の気温と降水量のグラフを、右のア～エから選び、記号で答えなさい。

【歴史的分野】

1 資料を見て、後の問題に答えなさい。



(1) 上のA～Fの人物の自己紹介文として適切なものを、下のア～カから一つずつ選び、記号で答えなさい。

ア わたしは仏教の制度を整えようとする日本に招かれてやってきました。悉天侯にあったこともあって、やっと奈良の都にたどりついたときには、目が見えなくなっていました。

イ わしは平氏との戦いに勝ち、鎌倉を本拠地にしたんじゃ。家来たちには手がらに依じて領地をあたえてやったので、いざとなったら家来たちもわしのために命がけて戦ってくれたんじゃ。

ウ わたしは小説家として、欧米の文明と接するようになった日本に生きる知識人の姿をえがき、「坊っちゃん」や「吾輩は猫である」などの作品を残しました。

エ わしは尾張の生まれで、鉄砲をうまく使った戦法で周りの大名をたおし、全国統一をめざしていたが、家来におそわれてしまったんじゃ。

オ わたしは、当時の中国の書物では、周りの30くらいの国々を従えた女王として紹介されています。神のお告げを弟に伝える方法で政治を行っていました。

カ わしは、江戸幕府をたおすのに大活躍したが、新しい政府の中で意見が合わず、故郷の鹿児島に帰っていた。そこで政府に対する不満を持つ人たちと、政府に戦いを起こしたが、敗れてしまったんだ。

(2) A～Fの人物を、登場する時期の古い順番に並びかえ、記号で答えなさい。

(3) A～Fの人物の中で、同じ時代に活躍した人物が二人いる。その人物と時代の組み合わせとして正しいものを下のア～エから一つ選び、記号で答えなさい。

	人物	時代
ア	BとF	→ 室町時代
イ	CとD	→ 飛鳥時代
ウ	AとE	→ 明治時代
エ	CとF	→ 鎌倉時代

2 時代や年代のあらし方について、後の問題に答えなさい。

(1) 次のア～オの西暦年を古い順に並びかえ、記号で答えなさい。

ア 1221年    イ 紀元前221年    ウ 794年    エ 紀元前3世紀    オ 1年

(2) 今日、7月2日の西暦年、世紀、年号を書きなさい。

3 次の文を読んで、後の問題に答えなさい。

現在知られている最も古い人類は、今から約700万年から600万年前にアフリカに現れた(①)で、サヘラントロプス・チャデンシスとされている。かれらはすでに後ろあし(足)で立って歩いていたと考えられている。

今から200万年ほど前に出現した(②)は、石を打ち欠いてすどい刃を持つ(③)を作り始め、これを使って、動物をとらえて食べたり、猛獣から身を守ったりするようになった。

やがて、人類は(④)や(⑤)を使うこともできるようになった。今から20万年ほど前には、現在の人類の直接の祖先にあたる a 新人があらわれ、世界中に広がった。狩りや採集を行って移動しながら生活し、(③)を使っていた時代を(⑥)と呼び、1万年ほど前まで続いた。

(1) 文中の①～⑥に適する語句を、次の語群より選び、書きなさい。

打製石器    磨製石器    新石器時代    旧石器時代    猿人    猿    火    道具    言葉

(2) 文中の下線部 a の新人を何とよぶか、書きなさい。

4 次の文を読んで、後の問題に答えなさい。

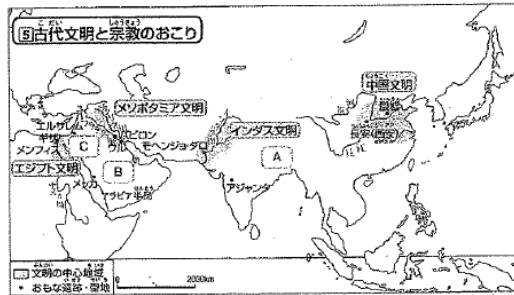
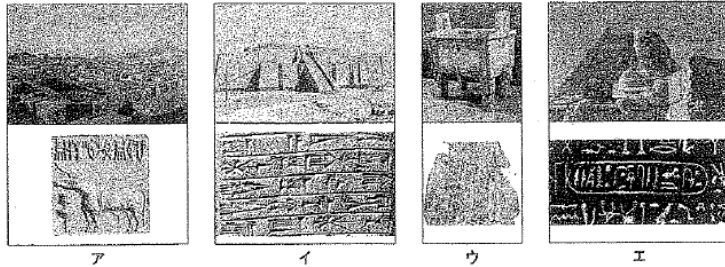
今から1万年ほど前に、気温が上がりはじめ、食用となる木の実が増えた。また、弓と矢を発明したことで、小形ですばやい動物をとらえることができるようになった。これらのものを食料にしていたが、やがて a 粟やあわ、(①)を栽培し、b 牛や羊などの家畜を飼うところもあらわれた。このころ(②)が発明され、食物を煮ることができるようになった。また、表面を磨いた(③)もつくられるようになった。(②)や(③)を使い、農耕や牧畜を始めたこの時代を(④)と呼ぶ。

(1) 文中の①～④に適する語句を、次の語群より選び、書きなさい。

打製石器    磨製石器    新石器時代    旧石器時代    土器    火    道具    米

(2) 文中の下線部 a、bをそれぞれ何とよぶか、文中の語句を使って書きなさい。

5 次の資料を見て、後の問題に答えなさい。



(1) ア～エの資料は、地図中の四つの文明に関係が深いものです。それぞれに関係する文明を地図中から一つずつ選び、文明名を書きなさい。

(2) 次の文は、地図中の四つの文明がおこった地域に共通する内容について述べている。このうち誤っているものはどれか、一つ選んで、記号で答えなさい。

- ア 大きな河の流域におこった。
- イ 太陽暦が使われていた。
- ウ 文字を使用していた。
- エ 農耕を行うのに適した土地であった。

(3) 次の①～③の文章は、世界三大宗教を説明したものです。それぞれの宗教の名称を答え、その宗教がおこった地域を地図中のA～Cから選び、記号で答えなさい。

- ① 紀元前後にパレスチナ地方にあらわれたイエスは「神を信じるものはだれでも救われる」と説き、この教えは「聖書（新約聖書）」にまとめられた。
- ② 紀元前5世紀ごろにインドで生まれたジャカは「心の迷いを取り去ることで、この世の苦しみからのがられる」と説いた。
- ③ 7世紀にアラビア半島に生まれたムハンマドが始めたこの宗教は、唯一の神アラーを信仰する宗教でその教えは「コーラン」に記されている。

(4) 次の文に関係することがらを、下の語群より選び、記号で答えなさい。

- ① ギリシャ人が紀元前8世紀ごろからつくった都市国家。
- ② アレクサンドロス大王の遠征
- ③ 水道や浴場、闘技場などの公共施設やユリウス歴、ラテン語など。
- ④ バルテノン神殿


ア ヘレニズム文化    イ ローマ帝国    ウ ギリシャ文化    エ ポリス

6 次の年表を見て、後の問題に答えなさい。

年	おもなできごと	文化
紀元前16世紀	中国で殷がおこる ----- A	D
紀元前6世紀	( ① ) が儒学の教えを説く	
紀元前221年	秦の ( ② ) が中国を統一する	E
紀元前202年	漢が中国を統一する	
紀元1世紀	倭の王が中国に朝貢する ----- B	
紀元3世紀	倭の女王が中国に朝貢する ... C	

(1) 年表中の ( ① )、( ② ) に適する語句を書きなさい。

(2) 年表中のAについて、この時代につくられ、漢字の元となった下のような文字を何というか。また、この文字のうち、☆印の文字を現在の漢字で書きなさい。



(3) 年表中Bについて、次の文は、その当時の日本の様子を記した中国の歴史書です。文中の ( ) に適する語句を書きなさい。

「後漢書」東夷伝  
建武中元2 (57) 年、倭の ( ) が後漢に朝貢したので、光武帝は印綬（印とそれを結びとめるひも）を送った。...

(4) 年表中Cについて、当時、中国は「魏」・「呉」・「蜀」の三国に分かれ、たがいに争っていた。倭の女王が使いを送り、金印や銅鏡を送られたのはどの国か、書きなさい。

(5) 年表中のD、Eには当時の文化の名がはいります。それぞれの文化の名称を書きなさい。

1年 組 番・氏名 \_\_\_\_\_

得点 \_\_\_\_\_

【地理的分野】

1	(1)	① サヘル	② 遊牧	3	① 猿人	② 原人	
		③ アンデス	④ オリーブ		③ 打製石器	④ 火	
		⑤ 乾燥	⑥ イスラット		⑤ 言葉	⑥ 旧石器時代	
	(2)	① 気候帯名 乾燥帯	オアシス		(2) a	ホモ・サピエンス	
		②	焼畑 農業		(1) ①	① 米	② 土器
2	(3)	高いところから	イ → エ → ア → ウ	(2) a	① 農耕	b 牧畜	
	(4)	地中海性 気候		ア	インダス 文明		
	(5)	住居	イグルー	(1) イ	メソポタミア 文明		
	(1)	バンコク	エ	ウ	中国 文明		
		ナダイ	ア	エ	エジプト 文明		
3	(2)	5月～10月		(2)	イ		
	(3)	ア		番号	宗教名	記号	
	(4)	バンコク	サバナ	①	キリスト教 *	C *	
		ナダイ	熱帯雨林	②	仏教 *	A *	
	(5)	東京	イ	③	イスラム教 *	B *	

【歴史的分野】

1	(1)	A	カ	*	B	エ	*	(1) ①	孔子		*
		C	ア	*	D	オ	*	②	始皇帝		*
		E	ウ	*	F	イ	*	(2) 文字の名称	甲骨 文字		*
2	(2)	D → C → F	→ B → A → E	*			*	現在の漢字	雨		*
	(3)	ウ		*			*	(3)	奴国		*
	(1)	エ → イ → オ → ウ → ア		*			*	(4)	魏		*
3	(2)	西暦年	2013年	*			*	(5) D	縄文 文化		*
		世紀	21世紀	*			*	E	弥生 文化		*
	年号	平成25年	(年まで書くこと) *				*	*印→各1点 それ以外は各2点			