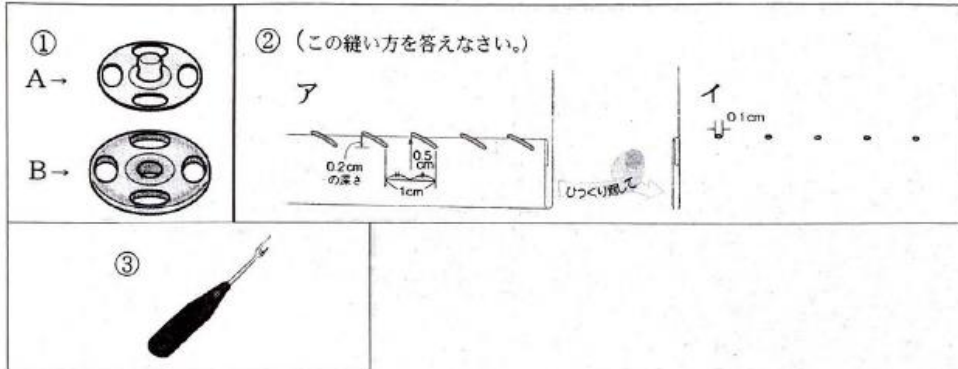


2 学年 技術・家庭科 (家庭分野) 後期 期末テスト

2 年 組 番 氏名 ()

1. 次の問いに答えなさい。

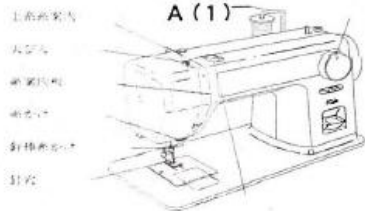
(1) ①～③の名前や縫い方を答えなさい。



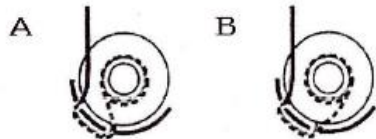
- (2) ①のA、Bのうち、布の下側につける方を答えなさい。
 (3) ①を布にどのようにつけたらよいか縫い終わりの状態の絵と縫い方を言葉で説明しなさい。
 (4) ②のア、イうち、どちらの面が表側になるか答えなさい。
 (5) ②の縫い方はどのような時に使うか答えなさい。

2. ミシンの使い方について下記の問いに答えなさい。

(1) 上糸のかけ方の順番を解答用紙の () に答えなさい。



- (2) Aの名称を答えなさい。
 (3) ボビンの正しい入れ方を選び記号で答えなさい。また、糸の方向について言葉で説明しなさい。



- (4) 針の取り付け方が正しいものを選び記号で答えなさい。
 ア. 針の上部の平らな面を自分側に向けて取り付け。
 イ. 針の上部の平らな面を向こう側に向けて取り付け。
 ウ. 針の上部の平らな面を斜めにして取り付け。

(5) 次の①～④のミシンが調子よく縫えないときの主な原因を説明しなさい。

- ① 針が折れる
- ② 下糸が切れる
- ③ 上糸が切れる
- ④ 針棒が動かない

(6) 下糸の引き出し方について下記の文のa～dにあてはまる言葉を書きなさい。

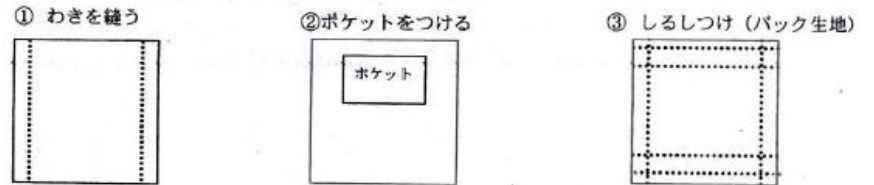
- ① 押さえを上げ、(a)糸を左手で軽く持つ。
- ② 右手ではずみ車を(b)に回し、針がいちばん(c)い位置まで上がったなら(d)糸を手前へ引っ張る。
- ③ 上糸と下糸を、押さえの下から向こう側で1.5cmほど引き出してそろえる。

(7) ミシンで縫う方向をかえる時に、どのようにしたら右の図のようなきれいな直角に縫うことができるか詳しく説明しなさい。



3. エコバック製作について下記の問いに答えなさい。

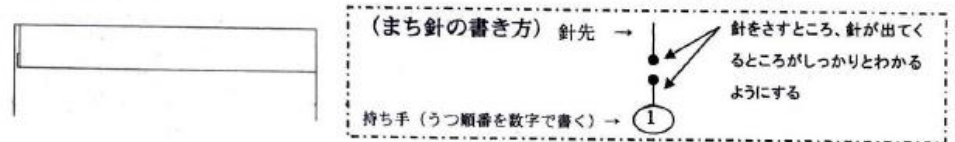
(1) 次の作業を行う場合、布の表・裏のうちどちらを上にして行うか答えなさい。



(2) エコバック製作する際、(1)の①～③をどの順で行うとよいか答えなさい。

(3) ポケット上部の製作について下記の問いに答えなさい。

① ポケット上部を三つ折にした後に端ミシンをかける前にまちな針を3本うつ場合、どのようにうつか絵で示しなさい。また、うつ順番も記入しなさい。(まちな針の○の中に1～3の数字を記入する。)



② 端ミシンをかける場合、どこにどのようにミシンをかけたらよいか、絵と言葉で説明しなさい。

