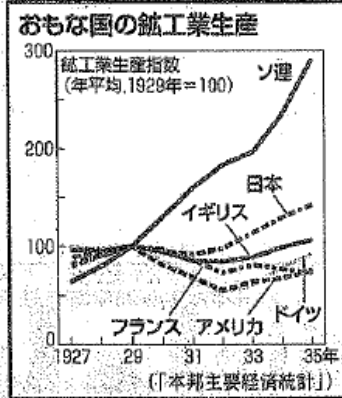



3年1学期期末テスト(社会科)

〔注意〕 答えは全て解答用紙に書きなさい。

1 次のグラフを見て、問いに答えなさい。



写真X



シンボルA



シンボルB

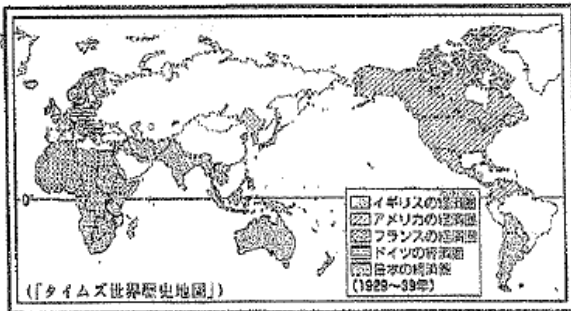


シンボルC



シンボルD

- 問1、①上のグラフで、ソ連以外の国々の鉱工業生産指数が下がり始めたのは、何年ですか。また、②下がり始めたのは、その年に何が起こったからですか。
- 問2、資料ではソ連の生産指数は上がり続けています。これは何という経済政策をしていたからですか。
- 問3、アメリカの生産指数は、1933年ごろから上がっています。これは、①何という政策を実施したからですか。また、②この政策はおもにどのようなことを行いましたか、簡単に書きなさい。
- 問4、資料中のころのイタリアで、ファシスト党を率いて政権をにぎった人物名を答えなさい。
- 問5、資料中のころのドイツで、①ナチス党を率いて政権をにぎった写真Xの人物は誰ですか。また、②この党のシンボルマークを上A～Dから1つ選び、記号で答えなさい。
- 問6、資料中のころのイタリアやドイツのような反民主主義、反自由主義をかかげる全体主義の政治を何といいますか、答えなさい。
- 問7、このころ不況の波は日本経済にも大きな打撃を与えていました。そこで政府は1930年にロンドン海軍軍縮会議で条約に調印しました。①ではなぜ、条約に調印すると経済がよくなるのですか、簡単に書きなさい。また、②その条約を結んだことで右翼の青年に襲われてしまった首相は誰ですか。



- 問8、ドイツやイタリア、日本などがブロック経済に反発したのはなぜですか。右の資料を参考にして簡単に書きなさい。

2 次の図は日本の中国侵略を理解するために整理しようと時代の流れに沿ってまとめたものです。下のA～Fの資料も使って、以下の各問いに答えなさい。



問1、次のAとBのカードはどことこの間に入りますか。数字を2つ答えなさい。



問2、④の調査団の団長の名前は何ですか、名前を答えなさい。

問3、⑥のカードのように、日本はなぜ國連を脱退したのですか。それよりも前のカードの言葉を参考にして、簡単に説明しなさい。

問4、下の写真C～Eの人物はどのカードと関係がありますか。最も関係の深いカードの数字を答えなさい。

問5、写真Eの人物は海軍大将の一人によって暗殺される直前に、「○○○わかる」と言い、武力ではなく解決したいと考えていました。○○○にあてはまる言葉を書きなさい。

問6、右上の地図はカード⑧を説明する資料です。以下の各問に答えなさい。

- ①日中戦争のきっかけとなった武力衝突の起きた都市を、地図中から選びなさい。
- ②この戦争の過程で女性や子どもなど一般の人々や捕虜をふくむ多数の中国人を殺害し、占領した都市を、地図中から選びなさい。
- ③日本に対抗するため、カード⑩の2つが提携して結成した組織をなんといいいますか。

問7、⑩のカードの法律が公布され、国民生活のすべてが戦争に動員されることになった。そこで以下の資料Fのようなスローガンも掲げられるようになった。「ぜいたくは国だ！」の隠された部分に入る言葉を書きなさい。




写真C



写真D



写真E

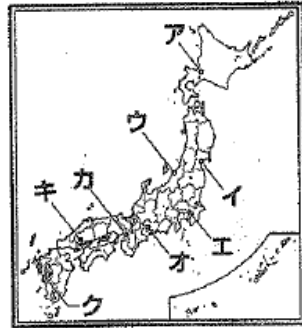


資料F



3 次の年表と地図を見て、以下の各問に答えなさい。

年	できごと
1939	ドイツがポーランドに侵攻する・・・A
1940	日本が東南アジアに進出する・・・B 日独伊三国同盟が結ばれる
1941	日本軍がハワイを攻撃する・・・C
1945	アメリカ軍が日本に上陸した・・・D ポツダム宣言・・・・・・・・・・E



問1、年表中Aのできごとにより、世界を巻き込んで始まった戦争を何というか、答えなさい。

問2、年表中Bについて、日本が東南アジアに進出した理由を簡単に書きなさい。

問3、年表中Bについて、このころになると日米関係が悪化し、アメリカを中心として、石油輸出の禁止など、日本を経済的に封鎖する作戦がとられました。この作戦には中国・イギリスとあとひとつ、どこの国が参加しましたか。国名を答えなさい。

問4、年表中Cについて、これによりアメリカとの間で始まった戦争を何というか、答えなさい。

問5、年表中Dについて、アメリカ軍と地上戦になった場所はどこですか、答えなさい。

問6、原子爆弾が投下された都市を上の地図中ア〜クから2つ選び、それぞれ記号で答えなさい。

問7、年表中Eについて、宣言の内容を簡単に書きなさい。

問8、右の写真は「ラジオで玉音放送を聞く人々」です。このときの人々の気持ちを、考えてあなたなりに書きなさい。



問9、昭和6年(1931)年生まれの祖母が満14歳までのできごとについて、次の各問に答えなさい。

①この時期に勤労動員が行われた背景として最も適当なものを次のア〜エから1つ選び、記号で答えなさい。

- ア 労働組合法が制定され、労働組合の活動が活発になったから。
- イ 多くの人々が戦場に送られ、国内の労働力が不足したから。
- ウ 小学校の就学率がほぼ100%になったから。
- エ 織維などの軽工業を中心に産業革命がおきたから。

②祖母の誕生から満14歳までの出来事を、次のア〜エから1つ選び、記号で答えなさい。

- ア 中華人民共和国の成立
- イ ベルサイユ条約の調印
- ウ ロシア革命の始まり
- エ 日本の国際連盟脱退

4 次の年表を見て、各問に答えなさい。

1945	ポツダム宣言を受諾する	
//	連合国軍の占領が始まる A
//	平和を守るため、(①)ができる	... B
//	日本の民主化が始まる	
1948	朝鮮半島に2つの国ができる C
1949	(②)が東西に分断される	
//	(③)が成立する	
1950	(④)戦争が始まる D
1951	(⑤)平和条約が結ばれる E
1956	日本が(①)に加盟する F
1965	アメリカの介入で(⑥)戦争が激化する	

問1、①〜⑥にあてはまる語句を、次から選んで書きなさい。

- 朝鮮
- 中華人民共和国
- ベトナム
- ロサンゼルス
- 国際連合
- 国際連盟
- ロシア連邦
- ドイツ
- サンフランシスコ

5 次の資料を見て、各問に答えなさい。

資料A




B「投票する女性」



C「日本国憲法公布の祝賀会」



資料D



E「第五播電丸」



F「朝鮮戦争」

問1、資料Aは、戦後改革を実行したGHQの最高司令官です。①最高司令官の名前を書きなさい。また、②GHQの正式名称を日本語で書きなさい。

問2、Bは、戦後改革によって実現した光景です。このような光景が見られるようになったのは、選挙権が与えられる条件がどのように変わったからですか。説明しなさい。

問3、Cの日本国憲法が公布されたことにより、主権はだれからだれに変わりましたか。

問4、Cの憲法に基づいて定められた法律にあてはまらないものを、次のア〜エから1つ選び、記号で答えなさい。

- ア 地方自治法
- イ 教育基本法
- ウ 民法
- エ 治安維持法

問5、Dは、1950年にGHQの命令でつくられた組織です。この組織を何といいいますか。

問6、Eの漁船の事件をきっかけに、原子爆禁止世界大会が開かれるようになり、世界的に核兵器の廃絶がさげばれています。日本は、世界で原爆の被害を受けた唯一の国として非核三原則を国の方針としています。非核三原則を書きなさい。

問7、Fは朝鮮戦争のようすです。この戦争が日本にあたえた経済面での影響を「アメリカ」、「軍需物資」という語句を使い、簡単に書きなさい。

6 以下の資料をみて、以下の各問いに答えなさい。

A 第1条 ①日本国と各連合国との間の戦争状態は、この条約が効力を生ずる日に終了する。

B 第1条 アメリカ合衆国の陸軍・空軍及び海軍を日本国及びその付近に配備する権利を、日本国は降参し、アメリカ合衆国はこれを許諾する。

C 1：日本とソビエト社会主義共和国連邦間の戦争状態は、宣言が効力を生ずる日に終了し、両国間に平和友好関係が回復される。

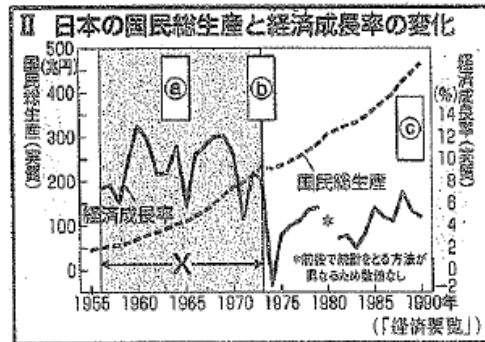
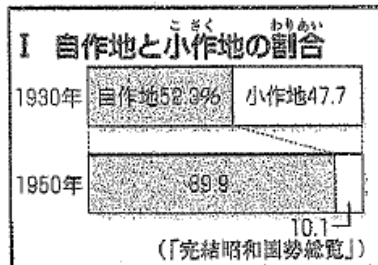
4：ソビエト社会主義共和国連邦は、日本の②への加入に関する申請を支持する。

問1、Aの条約は、下線部①の戦争の講和条約です。何という条約ですか。

問2、アメリカがAの条約に調印し、日本との講和を急いだ理由は何ですか。簡単に書きなさい。

問3、Bの条約は、Aの条約と同時に結ばれました。①何という条約ですか。また、②第1条に関連して、1972年に日本に復帰したあとも、アメリカ軍基地が多く残されている県名を書きなさい。

問4、Cの宣言では、国後島、択捉島、歯舞群島、色丹島の領土問題が解決されませんでした。日本では、この領土を何と呼んでいますか。



問5、グラフIの割合の変化は、何という改革が原因ですか。

問6、IIのXの時期に、日本で続いた世界に類を見ない経済成長のことを何といいますか。

問7、IIの②～③にあてはまる語句を次からそれぞれ選んで、書きなさい。

[石油危機 バブル景気 東京オリンピック]

7 時事問題について、以下の各問いに答えなさい。

問1、

問2、

問3、修学旅行で行った世界最古の木造建築で有名な法隆寺についてです。法隆寺の柱は古代ギリシアの建築方法の影響を受け、中央部でややふくらんでいる。その様子を何というか、書きなさい。

問題は以上です。

3年1学期期末テスト (社会科) 模範解答

3年 組 番 名前

- 1] 問1 ① 1929 年② 世界恐慌 問2 五カ年計画問3 ①ニューディール政策(新規まき直し)
 ②(例)公共事業をおこし、生産を調整し、失業者を助け、労働組合を保護すること。
 問4 ムツリニ 問5 ① ヒトラー ② D 問6 ファシズム
 問7 ① (例)軍備を縮小することで、国民の負担を減らそうと考えられていたから。
 ② 浜口雄幸 問8 (例)イギリスやフランスに比べ、植民地が少なかったから。
 2] 問1 A ①と②の間 B ⑦と⑧の間 問2 リットン
 問3(例)国連において、満州国の建国が認められず、日本軍の撤兵も求められたから。
 問4C ⑨ D ② E ③ 問5「話せばわかる」
 問6 ① 北京 ② 南京 ③ 抗日民族統一戦線 問7 敵
 3] 問1 第二次世界大戦 問2 (例)東南アジアの資源を獲得するため。
 問3 オランダ 問4 太平洋戦争 問5 沖繩
 問6 キ・ク (順不同) 問7 (例)日本が無条件降伏をすること。
 問8(例)「やっと終わった。安心だ。」「まさか日本が負けるなんて、信じられない。」 問9 ① イ ② エ
 4] 問1 ① 国際連合 ② ドイツ ③ 中華人民共和国
 ④ 朝鮮 ⑤ サンフランシスコ ⑥ ベトナム
 5] 問1 ① マッカーサー ② 連合国軍最高司令官総司令部
 問2(例)満20歳以上のすべての男女に選挙権が与えられたから。 問3 天皇 から 国民 に
 問4 エ 問5 警察予備隊 問6 核兵器を「持たず、つくらず、持ちこませず」
 問7(例)アメリカ軍が大量の軍需物資を日本で調達したため、好景気となり、経済復興が早まった。
 6] 問1 サンフランシスコ平和条約 問2 (例)日本を西側陣営の強力な一員にするため。
 問3 ① 日米安全保障条約 ② 沖繩 問4 北方領土
 問5 農地改革 問6 高度経済成長
 問7 a 東京オリンピック ① 石油危機 ② パブル景気

7] 問1 イ 問2 ウ 問3 エンタメ

8

25

21

46

100

その外(印紙) 22人

関心・意欲

思考・判断

資料活用

知識・理解

合計