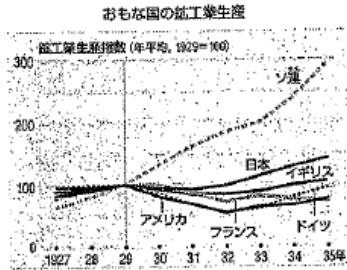


第3学年 1学期期末テスト 社会科

I 次の文とグラフを見て、あとの問いに答えなさい。

1929年以後、各国の鉱工業生産指数が急激に①上がっている。これは②ロンドンの株式市場でとつぜん株価が暴落し、それをきっかけに経済が混乱し、世界の③社会主義運動すべてに影響が広がったためにおこった。これを世界恐慌とよんでいる。



(1) 文中の①～③の部分に正しければ○、まちがってれば正しい語句を書きなさい。

(2) 次の文中の(A)～(C)にあてはまる語句をそれぞれカタカナで書きなさい。

イギリスは本国と植民地との関係を強め、貿易を拡大し、外国商品に対する関税を強めた。これを(A)経済といい、植民地の多いフランスも同じ対策をとった。アメリカではルーズベルト大統領のもと、政府が積極的に公共事業をおこし産業の生産調整を行い補助金を出し、失業者を援助し労働組合を保護した。こうした(B)政策によって、国民の購買力も上向き、民主主義への信頼も回復した。ドイツではヒトラーの率いるナチスが政権をとり、公共事業と軍需産業によって失業者を減らしたが、一方で言論をはじめとする個人の自由をうばい、ユダヤ人を迫害し、秘密警察によって、国民を統制し、イタリアにも増して徹底的な全体主義国家をつくった。こうした反民主主義、反自由主義をかかげた全体主義の政治を(C)という。

II 次のA～Dの各文を読み、あとの問いに答えなさい。

A	北京郊外で起こった日中両軍の武力衝突をきっかけに、華北から華中へと戦火が拡大した。日本軍は首都の南京を占領し、その過程で、一般の人々や捕虜を含む多数の中国人を殺害しました。
B	日本軍は満鉄の線路を爆破し、それを機に軍事行動を開始した。翌年、清朝最後の皇帝を元首とする満州国を建国させた。
C	陸軍の一部の青年将校が反乱をおこし首相官邸や警視庁などを襲撃した。軍事政権をつくって政治を改革しようとするが失敗した。
D	国際連盟総会で満州国の不承認と日本軍の撤兵を決議すると日本は国際連盟を脱退した。

(1) A～Dのできごとを古い順に左から記号で書きなさい。

(2) Cのできごととは何事件と呼ばれているか書きなさい。

(3) 文中の満州国の位置を、次の地図中のア～エから選び、記号を書きなさい



III 次の年表を見て、あとの問いに答えなさい。

西暦年	日本のできごと	世界のできごと
1938	(A) 法が公布される	
1939		ドイツ軍がポーランドに侵入する
1940	ドイツ、イタリアと軍事同盟を結ぶ	
1941	ハワイ真珠湾を奇襲攻撃する	
1943		イタリアが降伏する
1944		アメリカ軍がサイパン島を占領
1945	4月アメリカ軍が(B)に上陸する	5月ドイツが降伏する
	8月8日(C)に原子爆弾が投下される	8日ソ連が満州・朝鮮などを攻撃
	9日(D)に原子爆弾が投下される	

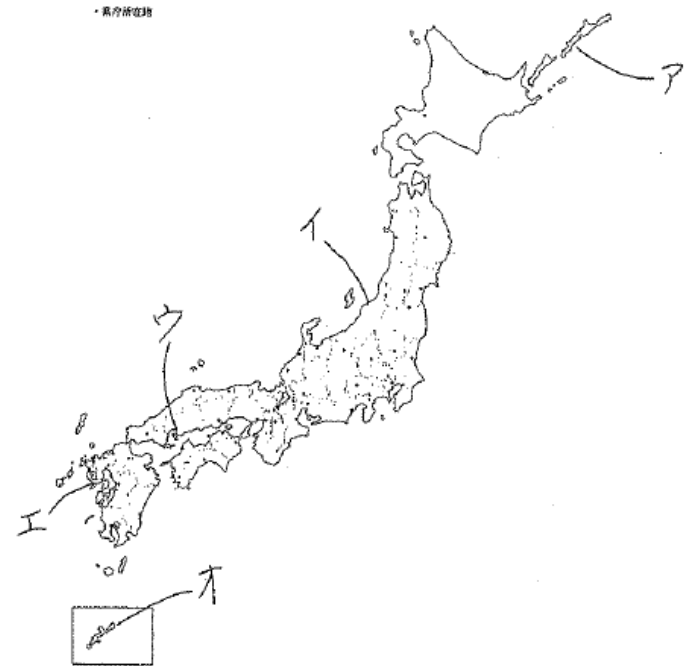
(1) 第二次世界大戦が始まった年を西暦年で書きなさい。

(2) 太平洋戦争が始まった年を西暦年で書きなさい。

(3) 日本が降伏するために受け入れた宣言の名を書きなさい。また、日本の降伏は天皇がラジオ放送で国民に知らせました。それは西暦の何年何月何日のことが書きなさい。

(4) 年表中の(A)法は政府が国の産業・経済から国民生活のすべてにわたって、戦争目的のために動員できるためのものです。この法律名を書きなさい。

(5) 年表中の(B)～(D)の場所を、次の地図のア～オから一つずつ選び、記号を書きなさい。



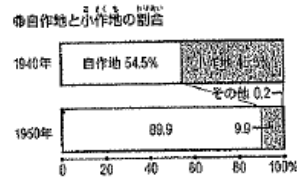
IV 次の年表と資料を見て、各問に答えなさい。

西暦	できごと	
1945	連合国軍に占領される	①
1946	日本国憲法が公布される	②
1950	朝鮮戦争がおこる	③
1951	サンフランシスコ平和条約が結ばれる	④
1956	日ソ共同宣言が発表される	⑤
1964	(A) でオリンピックが開かれる	⑥
1965	(B) と基本条約を結び、賠償問題を解決する	
1972	アメリカに統治されていた (C) が日本に復帰する (D) との国交が正常化する	
1995	阪神・淡路地域が大きな災害をうける	⑦

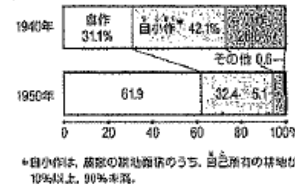
資料 X



資料 Y



自作・小作の農家の割合



- 年表中の () にあてはまるAの都市名、Bの国名、Cの県名、Dの国名を書きなさい。
- 年表中の①の後、占領下の日本の政治はアメリカのマッカーサーを最高司令官とする連合国軍総司令部の指令のもとに進められました。連合国軍最高司令官総司令部の略称をアルファベット3文字で書きなさい。
- 連合国軍最高司令官総司令部の指令のもとに行われた民主化政策の中で、資料Yに関連するものを書きなさい。
- 年表中の②の憲法の3つの原則のうち、資料Xに関連するものを書きなさい。また、次の憲法第1条の () にあてはまる語句を漢字2字で書きなさい。
 () は、日本国の象徴であり日本国民統合の象徴であって、この地位は、主権の存する日本国民の総意に基づく。
- 年表中の③の戦争が日本にあたえた影響について、次の語句を用いて説明しなさい。
 なお、使用した語句には下線(アンダーライン)を引きなさい。
 軍需物資 好景気 管理手調整
- 年表中の④の条約と同時に、日本はアメリカとの間に、日本の安全と東アジアの平和を守るという理由で、アメリカ軍の駐留と、軍事上の施設・区域(軍事基地)の使用を認める条約を結びました。この条約の名称を書きなさい。
- 年表中の⑤の後、日本とソ連の国交は回復されましたが、平和条約は結ばれませんでした。その理由としてあてはまるものを次のア～エから一つ選び、記号を書きなさい。
 ア 貿易問題 イ 領土問題 ウ 賠償金問題 エ 日本の再軍備問題

(8) 年表中の⑥のころの日本は経済が急速に伸びました。この経済発展を一般に何というか、漢字6字で書きなさい。

(9) 日本が国際連合に加盟したのは、年表中の①～⑦のできごとのどの年と同じか、一つ選び、記号を書きなさい。

V 次の文を読んで、各問に答えなさい。

第二次世界大戦後、平和を維持する機関として①国際連合が発足しました。しかし、アメリカとソ連を頂点とする②資本主義国と社会主義国の対立が強まりました。また、長い間、欧米諸国の植民地であった③アジアやアフリカの国々が独立を果たしました。しかし、先進工業国と発展途上国の経済的格差はますます広がる傾向があり、その解決は国際的な課題となっています。

- 下線①の機関のなかで、戦争を防止し平和を維持するために設けられた主要機関の名称を書きなさい。また、その機関は、拒否権が与えられた5つの常任理事国と総会で選ばれた10の非常任理事国から構成されます。
- 下線②の対立は戦争にならないが、戦争寸前のきびしい緊張関係が続きました。この対立関係を何と書くか書きなさい。
- 下線③の国々のうち、1947年イギリスから独立し、独立の混乱の中でガンディーが暗殺された国を書きなさい。

VI 次のA～Dのできごとについて各問に答えなさい。

A	アメリカが南ベトナムを支援するために数十万人の軍隊を送り、ソ連や中国に支援された北ベトナムを攻撃した。
B	第四次中東戦争ではアラブの石油輸出国が原油の値上げと輸出規制を行い、石油の輸入にたよっている先進工業国に大きな打撃を与えた。
C	東ヨーロッパでは政治の改革を要求する市民の運動が高まり、各国の共産党政権が崩壊した。ベルリンの壁が開放され、東西ドイツが統一された。
D	世界貿易センタービルなどに対するテロ攻撃が行われ、多くの犠牲者が発生した。そして、アメリカはテロ組織やそれを支援する組織を攻撃した。

- A～Dを古い順に左から書きなさい。
- A～Dに関連する地域を、それぞれ下の地図のア～エから一つずつ選び、記号を書きなさい。
- Bのできごとで先進工業国が受けた打撃のことを何と書くか書きなさい。



VII 修学旅行に関連する、次の各問いに答えなさい

(1) 東京駅 8 時 13 分発の東海道新幹線に乗車した君たちが、京都駅に到着した時間を、次のア～エから選び、記号を書きなさい。

ア 9 時 32 分 イ 10 時 32 分 ウ 11 時 32 分 エ 12 時 32 分

(2) 東京駅から京都駅まで移動する間に通過したすべての県の名称を、通過した順の通り、左から書きなさい。

(3) 次の A～F の資料を見て、各問に答えなさい。

- ① 法隆寺に関する資料をすべて選び、記号を書きなさい。
- ② 東大寺に関する資料をすべて選び、記号を書きなさい。
- ③ A の資料の金剛力士像を制作した人物の名前を書きなさい。

A



B



C



D




E



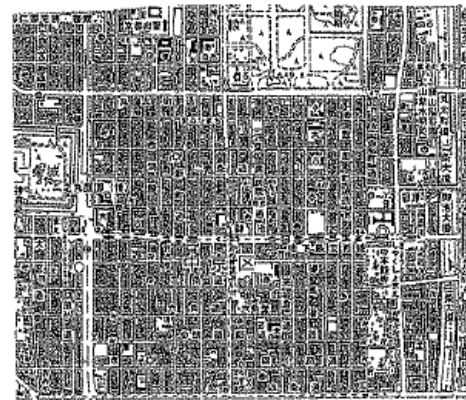
F



(4) 次の資料は、京都市内の八坂神社のそばにあるコンビニエンスストアです。京都市は店の看板、建物の高さ、デザインなどを規制する京都市新景観条例を定めています。この条例を定めた目的を書きなさい。



(5) 宿泊したいろは旅館と二条城では、どちらが北に位置するか書きなさい。また、その答えを導いた理由を、京都の道路の特徴から考えて書きなさい。



京都市の地形図(2万5000分の1地形図「京都東北部」平成17年)

第3学年期末テスト[社会科]

組 _____ 番 氏名 _____

I	(1) ① 下がって	② ニューヨーク	③ 資本主義国	
	(2) A ブロック	B ニューデール	C ファシズム	
II	(1) B → D → C → A ④	(2) ニ・二六 事件	(3) ア	
III	(1) 1939 年 (2) 1941 年 (3) ポツダム 宣言 1944 年 8 月 15 日			
	(4) 国家総動員法	(5) B オ C ウ D エ		
IV	(1) A 東京 B 大韓民国 (韓国) C 沖縄 D (中国) (2) G H Q			
	(3) 農地改革	(4) 原則 平和主義	赤字 天皇	
	アメリカ軍により大量の軍需物資の調達が行われ日本経済は好景気となった。 また、在日アメリカ軍が出兵したため、G H Q の指令により警察予備隊がつくられた。④			
	(6) 日米安全保障条約	(7) イ	(8) 高度経済成長	(9) ⑤
V	(1) 安全保障理事会 (2) 冷たい戦争 (冷戦) (3) インド			
VI	(1) A → B → C → D ③	(2) A イ B ウ C エ D ア	(3) 石油危機 (オイルショック)	
VII	(1) イ (2) 神奈川県・静岡県・愛知県・岐阜県・滋賀県			
	(3) ① B D F	② A C E	③ 運慶	
	歴史的に形成されてきた景観や町並みをそなわないようにするため。④			
	(4) これらの景観や町並みも観光資源であるため。			
	北 理由 東西の道路である二条通より三条通のほうが南にあり、 二条城 いろは旅館は三条通に面している。④			

思 20 投 28 知 52