

3 年 () 組 番号 () 氏名 ()

1 年表を見て、次の各問いに答えなさい。(26 点)

(1) a のように第二次世界大戦後、日本は、連合国軍により占領され、戦後改革が行われました。
①戦後改革を指令した連合国軍最高司令官総司令部の略称を何と
いいますか。また、②その最高司令官はだれですか。

1945	連合国軍最高司令官総司令部の占領が始まる。・・・a
1946	日本国憲法が公布される。・・・b
1951	サンフランシスコ平和条約が結ばれ、翌年独立を回復。・・・c
1956	国際連合に加盟する。・・・d
1964	東京オリンピックが開催される。・・・e
1973	石油危機が起こる。・・・f

(2) 戦後、①アメリカの直接統治のもとに置かれたところ、②ソ連に占領されたところを、次から1つずつ選びなさい。

【 台湾 北海道 朝鮮 北方領土 沖縄 】

(3) b の日本国憲法の三つの基本原理を書きなさい。

(4) 右の写真は1940年4月の衆議院議員総選挙の様子です。写真からわかることを、簡単に



書きなさい。

(5) c の条約を結んだときの首相は誰ですか。名前を書きなさい。

(6) d の国際連合の本部はどこにありますか。下から一つ選び記号で答えなさい。

ア ニューヨーク イ ロンドン ウ 東京 エ ジュネーヴ

(7) d の国際連合に加盟し国際社会に復帰するきっかけとなったソ連との宣言は何ですか。

(8) e の東京オリンピックが開催された頃の日本の様子について正しいものを一つ選び記号で答えなさい。

ア レンガづくりなどの欧米風の建物が増え、道路には人力車や馬車が走っていた。

イ テレビ、洗濯機、冷蔵庫などの家庭電化製品や自動車普及した。

ウ 東京、大阪で始まったラジオ放送は全国に普及し、新聞とならぶ情報源となった。

エ 軍需品の生産が優先され、寺の鐘などが金属として徴収された。

(9) 「のころ、中国との国交正常化に関する日中共同声明を発表しました。その後、

資料 A の中国と結んだ条約は何ですか。

X 資料 A

1 両締約国は、主権及び領土保全の相互尊重、相互不可侵、内政に対する相互不干渉、平等及び互恵並びに平和共存の諸原則の基礎の上に、両国間の恒久的な平和友好関係を発展させるものとする。

2 次の問いに答えなさい。(30 点)

(1) 情報・通信や経済などの分野で世界が一体化することを何といいますか。

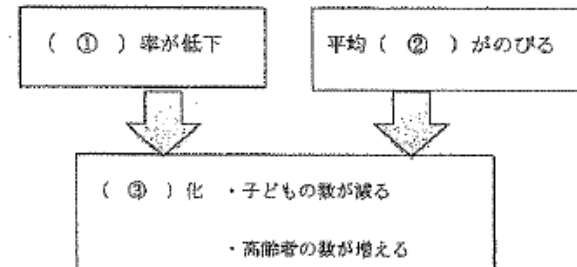
(2) 異なる国や地域が商品の品質や価格などを競い合うことを何といいますか。

(3) 各国がそれぞれの特性に最も適した商品をつくり、貿易を通じてその交換を行うことを何というか。

(4) 現代の日本で進展してきている、さまざまな人や文化が共生する社会を何といいますか。

(5) 右の図中の①～③にあてはまる語句を、次からそれぞれ選びなさい。(各1点)

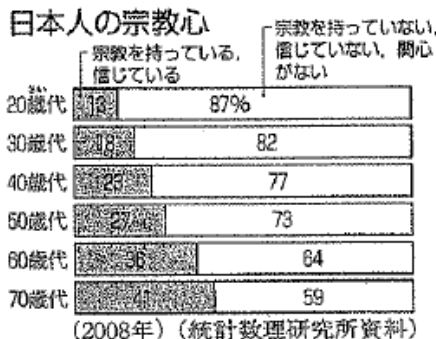
(寿命 少子高齢 育児 出生)



(6) 右の資料から、日本人の宗教心は年齢によってどのような傾向があることがわかりますか。簡単に書きなさい。

(7) 代表的な文化の領域を、宗教のほかに2つ答えなさい。

(8) 文化財のうち、次の①～③をそれぞれ何といいますか。下から選びなさい。(各1点)



①衣食住や信仰、年中行事、民族芸能など ②建築物や絵画 ③芸能や工芸技術

【 民俗文化財 有形文化財 無形文化財 】

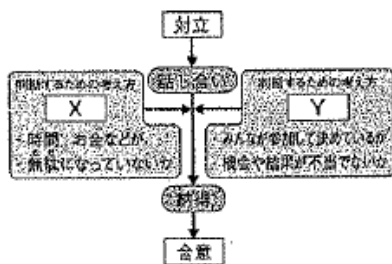
(9) 日本人の価値観をあらわす「もったいない」という言葉は、ごみの減量を示す3Rの考え方をすべてふくんだ言葉として評価されています。3Rとは、リデュース、リサイクルともう1つは何ですか。

(10) 社会を形作っている家族や地域社会、学校や職場などの集団をまとめて何といいますか。

(11) 人間は、いくつかの(10)に所属し、その中でたがいに協力していかなければ豊かな生活を営むことはできません。そのため人間は()的存在であるといわれています。()にあてはまる語句を答えなさい。

(12) 右の図は、(10)における対立の状況から、みんなが納得できる解決策を導き、合意にいたるまでを模式化したものである。図中のX、Yにあてはまる語句を、書きなさい。

(13) 社会生活を円滑に営み、トラブルを未然に防ぐためにはあらかじめ集団内や集団間で何をつくっておく必要がありますか。



3 次の問いに答えなさい。(44点)

(1) 年表中の①～⑥にあてはまる語句を、次からそれぞれ選びなさい。(各1点)

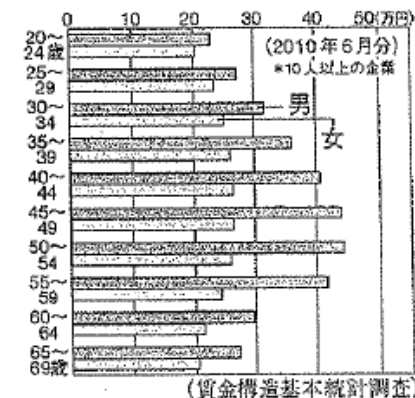
- フランス人権宣言 権利章典
- ワイマール憲法 大日本帝国憲法
- アメリカ独立宣言 マグナ・カルタ

年代	できごと
1215	国王の権利を制限する①が成立②
1689	名誉革命後②が成立③……………A
1776	③でイギリスから独立④……………B
1789	フランス革命で④が出される⑤
1889	日本初の憲法である⑤が出される⑥
1919	初めて生存権を保障した⑥が出される⑦
1946	日本国憲法が公布される⑧
1948	世界人権宣言が出される

注：表中の②はイギリス、③はアメリカ、④はフランス、⑤は日本、⑥はドイツのこと。

- (2) 憲法は、政治権力を制限し、国民の人権を保障するという考え方を、何主義といいますか。
- (3) 警察予備隊を前身に、日本の安全を守るために設立された組織を何といいますか。
- (4) もし他国が日本の領土を攻撃してきたとき、アメリカが共同で防衛することを定めた条約を何といいますか。
- (5) 日本が守ってきた非核三原則を答えなさい。
- (6) 資料1のグラフから、全体的に賃金が高いのは、男性ですか、女性ですか。
- (7) 職場での男女差別をなくすことを目的に、1985年に制定された法律は何ですか。
- (8) 資料2から、20歳代から40歳代の間で、働いている割合が最も低い年齢層は何歳～何歳ですか。
- (9) (8)の年齢の時、社会で働く女性の割合が低くなっている原因として考えられることを2つ答えなさい。

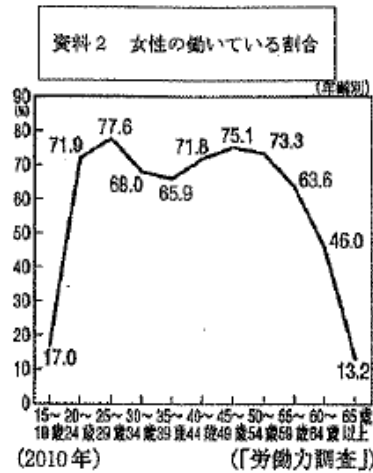
資料1 男女の年齢別賃金



(10) 資料2から、男女共同参画社会の実現のためには、

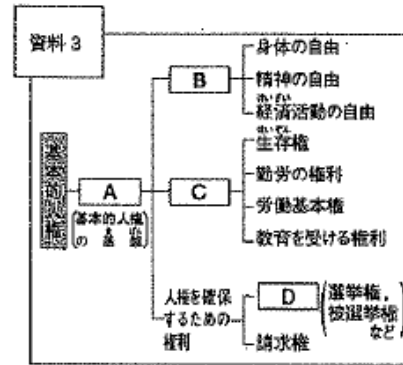
どのような環境づくりが必要ですか。「子育て」「仕事」

の語句を使って説明しなさい。



(11) 右の資料3のA~Dにあてはまる語句を

それぞれ書きなさい。



(12) 次のA~Cの新しい人権について、問いに答えなさい。

A きれいな水や空気、住みよい環境を求める権利。

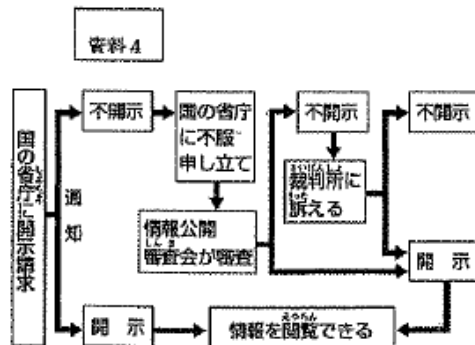
B 国民が主権者として政治に参加するため、さまざまな情報を手に入れる権利

C 表現の自由との関係で問題となる、個人の知られたくない秘密を他人の干渉から守る権利

① A~Cの人権をそれぞれ何といいますか。

② Aが提唱されるきっかけとなった、高度経済成長期に各地で深刻となった大気汚染、水質汚濁、土壌汚染などの問題を何といいますか。

③ Bに関連して、右の資料4は何という制度のしくみをあらわしていますか。



第3年2学期社会中間テスト

組		氏名	
1 ① GHQ	② マッカーサー	2 ① 沖縄	② 北方領土
3 国民主権	基本的人権の尊重	平和主義	4 女性に参政権が与えられたこと。
5 吉田 茂	6 ア	7 日ソ共同宣言	8 イ
		9 日中平和友好条約	
1 グローバル化	2 国際競争	3 国際分業	4 多文化社会
		5 ① 出生率	
② 寿命	③ 少子高齢	6 年代が高くなるほど宗教を持っている、信じている人の割合が大きくなっている。	
7 科学	美術	8 民俗文化財	9 リユース
		有形文化財	無形文化財
10 社会集団	11 社会的	12 X 効率	Y 公正
		13 きまり	
1 ① マグナ・カルタ	② 権利章典	③ アメリカ独立宣言	④ フランス人権宣言
		⑤ 大日本帝国憲法	
⑥ ワイマール憲法	2 立憲主義	3 自衛隊	4 日米安全保障条約
5 核兵器を持たず つくらず 持ち込ませず	6 男性	7 男女雇用機会均等法	
8 35~39 歳	9 結婚	10 仕事と子育てを両立できる環境づくりが必要である。	
11 A 平等権	B 自由権	C 社会権	D 参政権
		12 A 環境権	B 知る権利
C プライバシーの権利	13 公害	14 情報公開制度	

合計 100点