

# 第3学年 1学期期末テスト

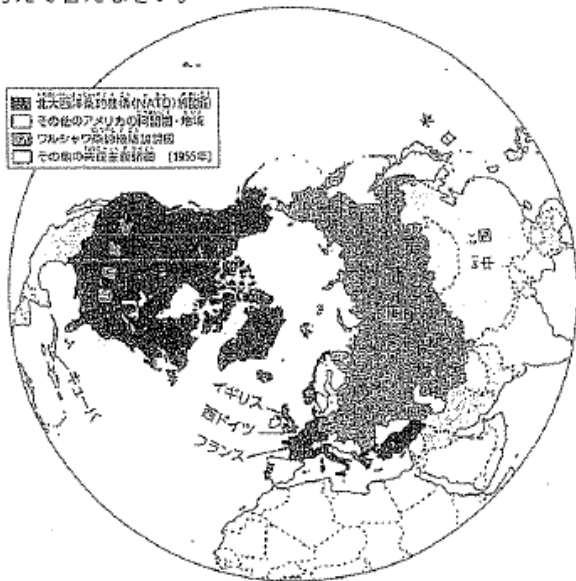
## 歴史的分野

【1】戦後の日本について以下の問に答えなさい。

- (1) 国土から切り離された沖縄や小笠原諸島などを統治することになった国はどこか答えなさい。
- (2) 北方領土を占拠した国はどこか答えなさい。
- (3) 戦争の責任があるとされた軍人や政治家がかけられた、日本で行われた国際軍事裁判をなんというか答えなさい。
- (4) 戦前の体制を経済的に支えたとして解体されたものはなにか答えなさい。
- (5) 民主化をめざす改革の中心として、戦前の憲法を改正してつくられた新しい憲法をなんというか答えなさい。
- (6) (5)の憲法が施行されたのは何年の何月何日か答えなさい。
- (7) (5)の憲法が公布されたのは何年の何月何日か答えなさい。
- (8) (8)の日は現在国民の休日となっている。何という休日か答えなさい。
- (9) 民主主義の教育を基本として小・中学校を義務教育とした法律はなにか。
- (10) 家族関係を民主化するために、男女の平等を基本として改正された法律を答えよ。

【2】占領下の日本について、各問に答えなさい。

- (1) 日本を間接統治し、数々の指令を出した機関をなんというか答えなさい。
- (2) (1)の最高司令官だった人物はだれか答えなさい。
- (3) (1)が実行した多くの改革をまとめてなんというか答えなさい。
- (4) このように(1)の占領政策が変化したのはなぜか、下の地図を参考に、当時の世界の状況から考えて答えなさい。



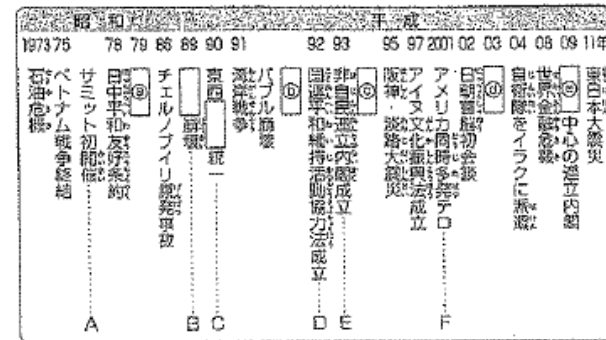
【3】次の年表を見て、各問に答えなさい。

1950年	朝鮮戦争が始まる
1951年	①サンフランシスコ平和条約を結ぶ
1954年	自衛隊が発足する
1956年	②日ソ共同宣言に調印する
1965年	③日韓基本条約を結ぶ
1972年	沖縄が日本に復帰する 日中共同声明により国交が正常化する
1978年	④日中平和友好条約を結ぶ

- (1) 日本が、国際連合に加盟したのは年表中のどのできごとと関係があるか、下線部①～④から選び、番号で答えなさい。
- (2) サンフランシスコ平和条約に調印をした当時の日本の首相は誰か答えなさい。
- (3) サンフランシスコ平和条約と同じ日にアメリカとの間に結ばれた条約を答えなさい。
- (4) 日ソ共同宣言が平和条約として結ばれなかった理由を、現在も続く両国間の問題から考えて答えなさい。


【4】以下の問に答えなさい。

- (1) 年表中の a～e にあてはまるできごとなどを次からひとつずつ選んで記号で答えなさい。



- a EU発足      イ 民主党      ウ ソ連のアフガニスタン侵攻      エ イラク戦争  
 オ EC設立      カ 社会党      コ オソ連解体
- (2) Aのサミットの正式名称を答えなさい。
  - (3) Bの [ ] には冷戦の象徴だった建物名があてはまります。当てはまる建物の名称を答えなさい。
  - (4) Cの [ ] に当てはまる国名を答えなさい。
  - (5) Dについて、「平和維持活動」の略称をアルファベットで答えなさい。
  - (6) Eについて、このとき首相になった人物を次ぎから選んで記号で答えなさい。  
 [ ア 鳩山由紀夫      イ 細川護熙      ウ 村山富市      エ 菅直人 ]
  - (7) Fのとき、テロリストに乗っ取られた飛行機が突入した貿易センタービルがあるアメリカの都市を答えなさい。

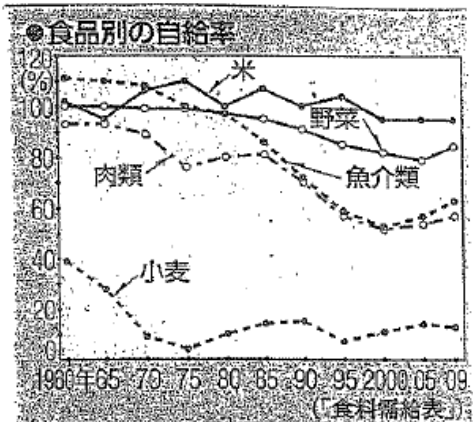
【5】戦後の日本国内の様子を示した資料A~Gを参考に以下の問いに答えなさい。



公民的分野

【10】右の資料を見て以下の問いに答えなさい。

- グラフ中で、1960年の自給率が最も高い食品は何か答えなさい。また、その食品の2009年の自給率は1960年と比べて、どのように変化したか答えなさい。
- 2009年の自給率のまま、外国からの食料輸入が停止した場合、家庭で最も食べる機会が減ると考えられるメニューを次のア~エから記号で選び答えなさい。



ア ハンバーグ イ 野菜炒め ウ うどん エ 煮魚

(3) 今日の国際社会について述べた次の文中の ( ) に適する語句を答えなさい。

貿易が拡大し、商品の価格や品質を国際社会で競い合う( ① )が行われている。また、それぞれの国や地域が競争力のある産業に力を入れ、競争力のないものは輸入する( ② )も行われている。

- Aは戦後作られた警察予備隊がもともになった組織です。
  - この組織をなんというか答えなさい。
  - 警察予備隊がつけられたのは何というできごとが起こったためか答えなさい。
- Bは戦後初の衆議院議員総選挙の様子です。このような様子が見られるようになったのはどのような人たちに選挙権が与えられたからですか、簡単に答えなさい。
- Cは経済の民主化の一つとして農村で行われた改革についてのポスターです。
  - 何という改革か答えなさい。
  - この改革により増えたのはどのような農家が答えなさい。
- Dは最初の安保闘争の様子です。これより後に起こったできごとを次のア~エから一つ記号で答えなさい。
 

ア 教育基本法の制定      イ 東海道新幹線の開通  
ウ 55年体制の始まり      エ 中華人民共和国の成立
- Eは、当時の佐藤栄作首相が、日本に復帰前の沖縄を訪れたときの様子です。これに関連して沖縄復帰の過程で国の方針となった非核三原則の内容を書きなさい。
- Fはある国がビキニ環礁で行った水素爆弾の実験で被爆した日本の漁船です。ある国とはどこか答えなさい。
- Gは戦後作られた新しい憲法公布の祝賀会の様子です。この憲法の公布により、主権は誰から誰に変わったか答えなさい。
- A・B・D・Eの出来事を古い順に並べなさい。
- 資料Hは国外での出来事である。この出来事を(B)で並べ替えたA・B・D・Eに加えるとしたら、どの後に加えればよいか記号で答えなさい。

【11】右のグラフを見て以下の問いに答えなさい。

(1) 現在の日本社会を、1950年頃と比べた場合に正しく述べたものを、グラフを参考にして次にア～エから一つ選び記号で答えなさい。

- ア 子供の割合が増えた。
- イ 15～64歳人口の割合が減った。
- ウ 介護施設が減った。
- エ 子供の割合が減り、高齢者の割合が増えた。

(2) グラフ中の4カ国から2010年に高齢者の割合が最も高い国を選び国名を選びなさい。

(3) (2)の国で今後の課題として考えられるものを次のア～エからひとつ選び記号で答えなさい。


- ア 年金や医療・介護保険の給付が増大し、税金や社会保険料の負担が重くなる。
- イ 富士山型の人口ピラミッドとなり、学校が不足する
- ウ 少子高齢化の影響で、日本で暮らす外国人が増え、他文化社会が進展する。
- エ 年配の人の割合が増えるので経済が活性化する。

【12】さくらさんは、社会科の授業で発表するために発表内容の要点をまとめたカードをつくりました。さくらさんのカードを読んであとの問いに答えなさい。

テーマ：( )の進展

ここ20年ほどで、インターネットや携帯電話などの新しいメディアが急速に発達し、普及した。これらの情報通信技術により、わたしたちの生活は便利になった。しかし、新たな課題も生じてきている。

【資料】



(1) 空欄にあてはまる語句を答えなさい。

(2) 下線部Aについて、上の資料は、インターネットの普及により生まれたある買い物の方法を利用する理由についてのアンケート調査の結果です。この買い物の方法を片仮名で答えなさい。

(3) メディアの情報を利用するにあたって気をつけるべきことを「大量の情報」「取捨選択」の二つの語句を使って簡単に説明しなさい。

(4) 下線部Bについて、コンピューターやインターネットの普及によって生じた課題を(3)で解答したのも以外で二つ答えなさい。

【13】文化について、次の問いに答えなさい。

(1) 代表的な文化の領域として、科学、宗教、芸術があげられます。次の①～④の文化は、科学、宗教、芸術のどの領域にあてはまるかそれぞれ答えなさい。なお、いずれにもあてはまらない場合は×と答えなさい。

- ①食料生産技術や航空技術、医学などが発達する。
- ②腰から丁寧に食事をする、はしを使って食事をする。
- ③コンサートに出かけたり、美術展や演劇を鑑賞したりする。
- ④教会で礼拝をしたり、神社に参拝したりする。

(2) 次のア～エから日本の伝統文化の説明として適切でないものを一つ選び、記号で答えなさい。

- ア 能や歌舞伎、茶道や華道など、一部の専門家の人々によってになわれてきた文化がある。
- イ 日本の伝統文化を保護するために、国は文化財保護法などの法律を制定し、文化財の保存や活用に努めてきた。
- ウ 「おかげさまで」や「もったいない」といった言葉にこめられた価値観や心情も、日本の風土の中で形成された伝統文化である。
- エ 社会の変化の中で、すべての伝統文化は姿や形を変えずに現代に受けつがれている。

【14】次の事例は、ある中学校でのできごとです。この事例および資料1・2を見てあとの問いに答えなさい。

【事例】

野球部で、部長が、部員の意見をまったく聞かずに「用具の準備・かたづけはすべて1年生が行う」というきまりをつくった。

【資料1】ものごとを決定する方法

- ア 全員で話し合って決定
- イ 複数の代表者で話し合って決定
- ウ 一人で決定

【資料2】ものごとを採決する方法

- ア 全員一致
- イ 多数決

(1) 事例のきまりは資料1のア～ウのうち、どの方法で決定したものでしょうか。一つ選び記号で答えなさい。

(2) 資料2のイの方法で採決する場合、どのような点に注意しなければならないか、簡単に説明しなさい。

(3) 事例のきまりは、多くの部員から受け入れられませんでした。その理由を公正の観点から推測して簡単に説明しなさい。

### 3学年 1学期 期末テスト 解答用紙

【1】	(1)	アメリカ合衆国	(2)	ソビエト連邦(ロシア連邦)
	(3)	極東国際軍事裁判(東京裁判)	(4)	財閥
	(5)	日本国憲法	(6)	1947年 5 月 3 日
	(7)	1946年 11 月 3 日	(8)	文化の日
	(9)	教育基本法	(10)	民法
	【2】	(1)	GHQ(連合国軍最高司令官総司令部)	(2)
(3)		戦後改革		
(4)		冷戦が始まり、アメリカは東側陣営に対抗するために日本を西側陣営の強力な一員にしようと考えたから。		
【3】	(1)	②	(2)	吉田 茂
	(3)	日米安全保障条約		
	(4)	北方領土は日本固有の領土であると主張したが、ソ連が応じなかったため。		
【4】	(1)	a ウ b キ o ア d エ e イ		
	(2)	主要国首脳会議	(3)	ベルリンの壁
	(4)	ドイツ	(5)	PKO
	(6)	イ	(7)	ニューヨーク

【5】	(1)	①	自衛隊	②	朝鮮戦争					
	(2)	20歳以上の男女								
	(3)	①	農地改革	②	自作農					
	(4)	イ								
	(5)	(核を)「持たず、つくらず、持ちこませず」								
	(6)	アメリカ合衆国	(7)	天皇 から 国民 へ変わった。						
	(8)	B	→	A	→	D	→	E	(9)	E

【10】	(1)	食品名:	魚介類	変化:	減った。						
	(2)	ウ	(3) ①	国際競争	②	国際分業					
【11】	(1)	エ	(2)	日本	(3)	ア					
【12】	(1)	情報化(ユビキタス社会)	(2)	オンライン・ショッピング (インターネット)ネット・ショッピング							
	(3)	インターネットなどには、大量の情報があふれているので、自分が必要としている情報はなにかということをはっきりさせたうえで、情報を取捨選択する必要がある。									
	(4)	情報の悪用 ・情報の流出 など。									
【13】	(1)	①	科学	②	x	③	芸術	④	宗教	(2)	エ
【14】	(1)	ウ									
	(2)	結論を出す前に十分に話し合い、少数意見を尊重する。									
	(3)	特定の人(1年生)が不当に扱われる内容を部員の意見を聞かずに一人で決定してしまったから。									