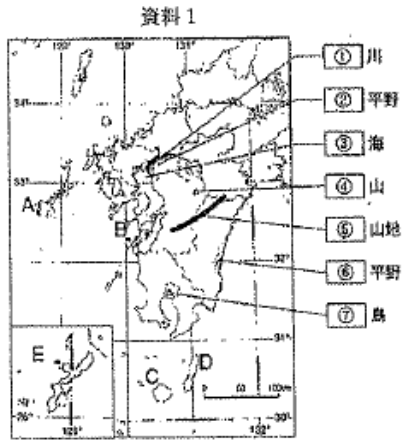


1 下の資料を見て、後の問題に答えなさい。

(1) 資料1の①～⑦にあてはまる語句を次の語群より選び、それぞれ記号で答えなさい。

ア 博多 イ 有明 ウ 八代 エ 宮崎 オ 九州
カ 紀伊 キ 筑後 ク 筑紫 ケ 桜 コ 阿蘇

(2) 資料2の⑧にあてはまる島の名称を書きなさい。また、この島の位置を資料1のA～Eの中から一つ選び、記号で答えなさい。




資料2
⑧島は、大隅半島の南方約60kmに浮かぶ島です。1998年、この島は貴重な自然が残されていることが評価され、世界遺産(自然遺産)に登録されました。近年では、自然に親しみ、その価値を理解してもらうエコツーリズムがさかんになっています。

(3) 九州のほぼ中心には資料1の④山の噴火で火山灰や溶岩がふき出したあとが、くぼんでできた地形が見られる。このような地形を何というか、書きなさい。

(4) 九州の南部には資料1の⑦島などの火山活動にともなう噴出物が長い年月を経て積み重なって生まれた地層が広がっている。このような地層を何というか、書きなさい。

(5) (4)の地層が広がる九州の南部は、土地がやせていて水持ちが悪いため、畑作や畜産がさかんです。右のグラフのa、b、cにあてはまる畜産物名を下から選び、答えなさい。

豚 肉牛 プロイラー

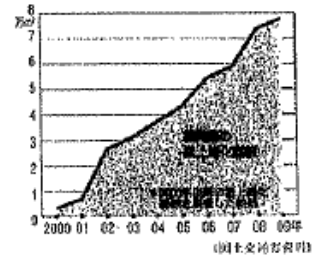


2 次の問題に答えなさい。

(1) 福岡市の特色を説明した文としてあてはまらないものを、次のア～エの中から一つ選び、記号で答えなさい。

- ア 九州地方で最も人口が多い都市である。
- イ 製鉄業を中心に発展した工業都市である。
- ウ 福岡県の県庁が置かれている。
- エ 幕末に外国人居留地が置かれ、今でも異人館などの町並みが残っている。

資料1



(2) 1年間で屋上緑化面積が最も大きく増えたのはいつか、右の資料1を見て、次のア～エの中から一つ選び、記号で答えなさい。

- ア 2001～2002年 イ 2003～2004年
- ウ 2007～2008年 エ 2008～2009年

(3) 都市の中心部の気温が高くなる現象を何というか、答えなさい。

(4) 文中の(①)～(④)にあてはまる語句を下の語群より選び、記号で答えなさい。

九州地方には、明治時代以降、(①)業をはじめ機械工業、化学工業などのさまざまな工業が立地してきた。その結果、各工業都市は、産業活動がもたらす課題にいち早く直面し、また、それを乗り越えてきた。(②)病は、日本の(③)の一つに数えられる。その後、(②)病は人々の努力により安全な海に生まれ変わり、漁業も行われるようになった。民たちは、ごみの分別やリサイクルに積極的に取り組み、2008年には国から(④)に選定された。

語群

ア 水俣 イ 製鉄 ウ 環境モデル都市 エ 四大公害病

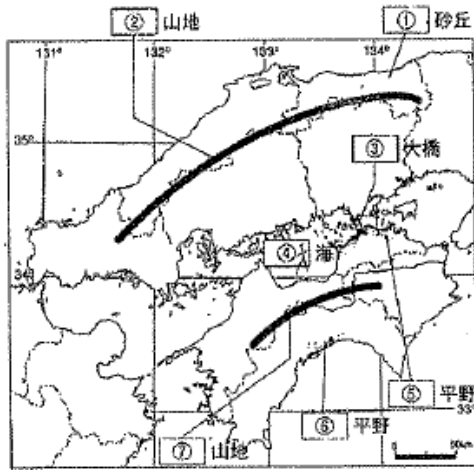
3 中国・四国地方について、資料を見て、後の問題に答えなさい。(資料は次のページにあります)

(1) 資料1の①～⑦にあてはまる語句を次の語群より選び、記号で答えなさい。

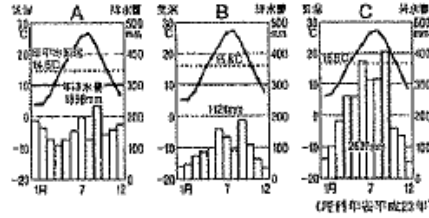
ア 徳島 イ 讃岐 ウ 鳥取 エ 瀬戸 オ 瀬戸内
カ 中国 キ 四国 ク 紀伊 ケ 大阪 コ 高知

(2) 資料1の⑤平野にある都市の気温と降水量のグラフを、資料2のA～Cの中から一つ選び、記号で答えなさい。


資料1



資料2



資料3



【歴史的分野】

1 年表を見て、後の問題に答えなさい。

年	おもなできごと
1600年	関ヶ原の戦いで石田三成らが敗れる A
1603年	徳川家康が征夷大将軍となり江戸に幕府を開く
1615年	大阪の陣がおこり (①) 氏がほろびる 武家法度が定められる
1637年	(②) がおこる
1639年	ポルトガル船の来航を禁止する
1641年	平戸のオランダの館 (③) の出島へ移す。これにより (④) が完成する
1649年	慶安の御胎毒が出される

(1) 年表中の (①) ~ (④) に適する語句を下の語群より選び、答えなさい。

正長の土一揆 島原・天草一揆
参勤交代 豊臣 長崎 鎖国

(2) 幕府は、幕藩体制と呼ばれる政治制度を確立し、全国を支配した。大名の配置には特に配慮したが、この中で古くからの家臣であり、Aの戦い以前から徳川氏に従っていた大名は何とよばれたか、下から選び答えなさい。

親藩 譜代大名 外様大名

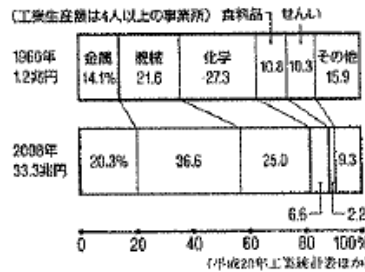
(3) 資料3の図中に、冬の季節風の流れを矢印で示しなさい。(答えは、解答用紙の図に記入しなさい)

(4) 資料1の ⑥ 平野で促成栽培が行われている野菜としてあてはまらないものを、次のア~エの中から一つ選び、記号で答えなさい。

ア きゅうり イ なす ウ ピーマン エ じゃがいも

(5) 資料4は、資料1の ④ 海の両岸に広がる工業地域の工業生産の変化を示している。資料4の内容としてあてはまらないものを、次のア~エの中から一つ選び、記号で答えなさい。

資料4



- ア 機械工業のしめる割合は増えている。
- イ 機械工業の生産額は増えている。
- ウ 化学工業のしめる割合は増えている。
- エ 化学工業の生産額は増えている。

(6) 広島市について説明した次の①~④の文について、下線部が正しければ○、まちがっていれば正しい語句をそれぞれ答えなさい。


- ① 人類最初の被爆地として、平和への願いを世界に発信している。東京ドームは世界遺産である。
- ② 広島市の中心部は、太田川の河口の三角州に広がっている。
- ③ 裁判所や各省庁の出先機関などさまざまな機関、企業の支社、大学などが集まり、中国・四国地方の地方中心都市になっている。
- ④ 自動車関連の企業が立地し、おおぜいの人々が働いている。

2 次のA~Eの文章を読み、以下の問題に答えなさい。

A 「私」は、もと大阪町奉行所の役人であったが、大商人をおそって米や金を貧しい人々に分けようとした。この乱は1日でずめられてしまったが、幕府に大きな衝撃を与えた。

B 低い身分だった「私」は、老中となって幕府の実権をにぎった。私は、大商人を利用して、幕府の財政を立て直すことにし、商工業者が (X) を結ぶことを奨励して、特権を与えるかわりに税を取った。また、町人に出資させて印旛沼などの干拓を行った。

C 「私」は、きびしい儉約令を出して、ぜいたく品を禁止し、出版や風俗を取り締まった。また、物価を下げるために (X) の解散を命じた。江戸・大阪周辺の農村を幕府の領地にしようとしたが、大名や旗本の反対にあい、私の改革は2年余りで失敗した。



D 「私」は、江戸などに出てきていた農民を故郷に帰し、凶作に備えるため、農村に倉を設けて米をたくわえさせ、商品作物の栽培を制限した。また、版本や御家人の借金を帳消しにした。

E 御三家の一つである紀伊藩から將軍を迎えられた「私」は、幕府の財政を立て直すために、上げ米の制を定めて大名の参勤交代を一時ゆるめるかわりに、幕府に米を献上させた。また、目安箱を設置したり、法律の整備（公事方御定書）などを行ったりした。

(1) A～Eの「私」はだれか、それぞれ下の語群から選んで、書きなさい。

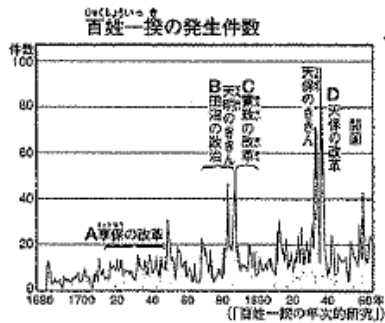
- 徳川吉宗 徳川綱吉 大塩平八郎 水野忠邦 田沼意次 松平定信

(2) 資料Bと資料Cの(X)には同じ語句が入ります。問屋・仲買などの大商人が営業を独占したこの同業者の組織を何というか、書きなさい。


(3) A～Eのできごとを年代の古い順に並び替えなさい。

3 下の資料を見て、後の問題に答えなさい。

資料1



資料2



(1) 資料1の百姓一揆は、どのようなできごとがあったときに多く起きているか、答えなさい。

(2) 資料2について、からかさ連判状が円形に署名されている理由を簡潔に書きなさい。

(3) 百姓一揆が起こったころ、都市では、米の買い占めをした商人が集団で襲撃された。右の資料3に見られるできごとを何というか、答えなさい。

4 次の問題に答えなさい。

(1) 次の①～③の各文にあてはまる人物名を、下から選んで記号で答えなさい。

- ① 西洋の測量術を取り入れて、はじめて全国の沿岸を測り、日本全図をつくった。
- ② 日本の古典を調べ、「古事記伝」をあらわし国学を大成し、日本人には日本人らしい生き方があると主張した。
- ③ 前野良沢とともに、オランダ語の人体解剖書を苦心して翻訳し、1774年に「解体新書」を出版した。

- 堀保己一 伊能忠敬 本居宣長 杉田玄白

5 化政文化について説明した次の①～④の文は、下線部がまちがっています。正しい語句を下の語群より選び、それぞれ記号で答えなさい。

- ① 19世紀初めの文化・文政年間になると、文化の中心は上方に移り、町人を中心とする文化が発達した。
- ② 「東海道中膝栗毛」のようなこっけいな小説が人気を集める一方、近松門左衛門の「南総里見八犬伝」などの長編小説も多くの人に読まれた。
- ③ 俳諧（俳句）では、与謝蕪村が絵のような風景を表現し、松尾芭蕉は、農民の素朴な感情をよんだ。
- ④ 錦絵は大流行し、喜多川歌麿は美人画、俵屋宗達や歌川広重は風景面に優れた作品を残した。

- 語群 ア 樋口一葉 イ 小林一茶 ウ 江戸 エ 京都 オ 十返舎一九
カ 滝沢馬琴 キ 葛飾北斎 ク 尾形光琳 ケ 井原西鶴 コ 庶

