

# 第2学年 社会科 後期中間テスト 問題用紙

2年 組 番 氏名

(16)

1 次のカードをよく読んで、あとの問いに答えなさい。

**ア** 幕府や藩によって、各地で(1)が開発され、耕地面積が増加した。

**イ** 教育への関心が高まり、町や農村では(2)が、諸藩では藩校が作られた。

**ウ** 都市では、大商人が同業者の組織を作り、営業を独占した。

**エ** a 且本の古典についての学問や、b オランダ語での西洋の学問がさかんになった。

**オ** 上方で庶民中心の文化が発達し、**①人形浄瑠璃**・**②歌舞**・浮世絵などが生まれた。

**カ** 江戸で町人中心の文化が発達し、**③浮世草子**の名作が生まれた。

- (1) カード **ア** **イ** の(1)(2)にもっともあてはまる語句を書きなさい。  
 (2) 下線部 a・b を何といいますか。  
 (3) 波線部 **①**~**④** の代表的人物を、次の語群から1人ずつ選んで書きなさい。

小林一茶 近松門左衛門 菱川師宣 松尾芭蕉 歌川広重 井原西鶴 市川團十郎

- (4) ア~カのカードは、2枚ずつ次の3種類に分類できます。このうち「産業」にあてはまるカードを2枚選びなさい。

「産業」「文化」「学問」

(26)

2 次の資料は、江戸時代における政治改革に関する資料です。よく見て、あとの問いに答えなさい。

**カード A**  
**(A) の政治改革**  
**特徴** 徳川家康の政治を理想とし、米中心の経済政策を進めて、経済を立て直しを行った。享保の改革という。  
**おもな内容**  
 ①質素・倹約  
 ②「ア」の制  
 ③人材の登用  
 ④新田の開墾  
 ⑤年貢率の引き上げ  
 ⑥公事方御定書の整備  
 ⑦目安箱の設置  
**結果** a

**カード B**  
**(B) の政治改革**  
**特徴** 幕府の財政を立て直すために、商人の力を利用した改革を行った。  
**おもな内容**  
 ①株仲間の奨励  
 ②株仲間に特権を与えるかわりに税を取る  
 ③長崎貿易を活発に  
 ④銅の専売制  
 ⑤海産物の輸出  
 ⑥学問や芸術が発展  
 ⑦「イ」がさかん  
**結果** b

**カード C**  
**(C) の政治改革**  
**特徴** 徳川吉宗の政治を理想とし、米中心の経済の復活をめざして改革を行った。寛政の改革という。  
**おもな内容**  
 ①農民を故郷に帰す  
 ②農村に倉を設置  
 ③商品作物の栽培を制限  
 ④昌平坂学問所を設置  
 ⑤「ウ」を廃消しに  
 ⑥倹約令  
 ⑦政治批判を禁止  
**結果** c

**カード D**  
**(D) の政治改革**  
**特徴** 幕府の力を回復させるため、米中心の経済を回復させるとともに、幕府権力の強化を図った。  
**おもな内容**  
 ①外国船打払令の緩和  
 ②激しい倹約令  
 ③出版や風俗の取締  
 ④農民のでかせぎを禁止  
 ⑤「エ」を解散  
 ⑥印旛沼の干拓  
 ⑦江戸・大阪周辺の農地を直轄領に  
**結果** d

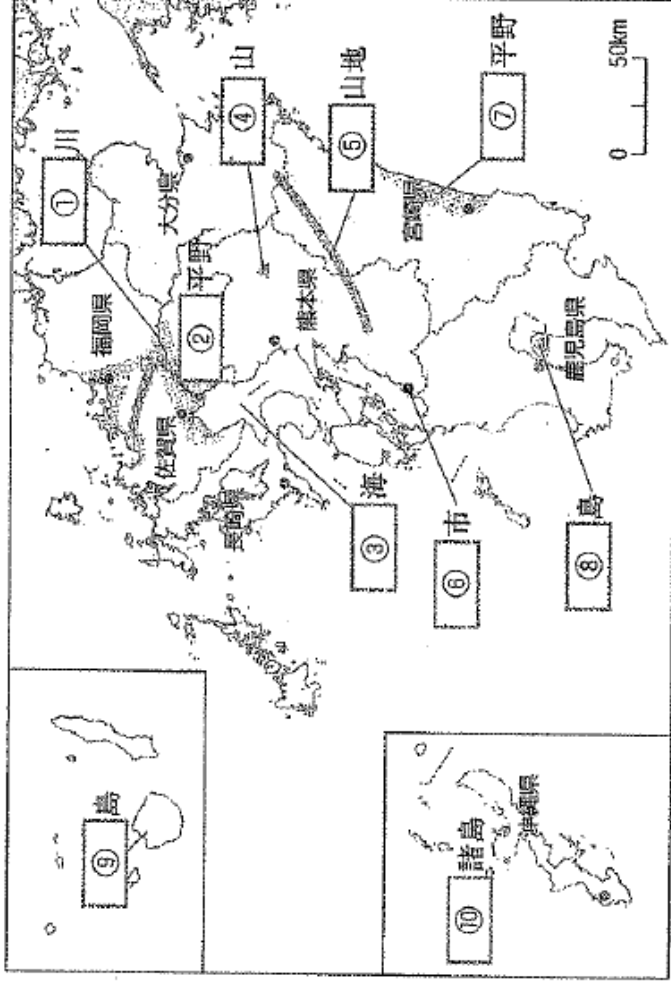
- (1) それぞれのカードA~Dにあてはまる人物の役職名と名前を書きなさい。  
 (2) それぞれのカードの「ア」~「エ」にあてはまる語句を書きなさい。  
 (3) 1837年に起こった「大塩平八郎の乱」が最も影響を与えたといわれる改革はカードA~Dのどれですか。  
 (4) それぞれの改革の結果について、最もあてはまるものを下から選び、記号で答えなさい。

**ア** 地位や利権を求めて政治が乱れ、天明のききんも起こり、失脚した。  
**イ** 大名や旗本の反対にあい、わずか2年あまりで失敗した。  
**ウ** 幕府の収入は増加し、財政はいったん立ち直った。  
**エ** 政治批判を禁じたり、出版を厳しく統制したりしたので、人々の反感をかかった。

(10)

3 次の①～⑩に最もあてはまる語句を答えなさい。

3



(22)

4 地図を見て、あとの問いに答えなさい。

4

(1) 地図中のAは、20世紀初め、我が国で最初の近代的な製鉄所が建設された、日本の近代的な重工業発祥の地です。

①この都市の名前を書きなさい。

②この製鉄所の名前を正確に書きなさい。

③この製鉄所ができた理由が2つありますが、もう1つの理由は何ですか。この輸入が見込まれたからですが、もう1つが発生したところでは、この公害病の名称を答えなさい。

(3) 1960年代、エネルギー源が石炭から石油に変わり、産業や社会に大きな影響をあたえました。このことを何といいますか。

(4) 火山麓の地層が広がり、豪雨や台風の影響で土砂くずれが起りやすい九州地方ですが、土砂や木の流出を防ぐために建設されたダムのことを何といいますか。

(5) 九州地方をはじめとして、都市化の進行によって、都市中心部の気温が高くなる現象が見られます。

①この現象を何といいますか。

②この現象の対策として、都市部で見られる対策方法を書きなさい。

(6) 地図中のAの都市では、エコタウン構想にもとづいて新しい取組が行われています。「循環」「持続可能な社会」という語句を使って、新しい取組について説明しなさい。

(14)

5 資料を見て、あとの問いに答えなさい。

5

(1) 右の資料は、広島市（広島県）と四万十町（高知県）の人口ピラミッドです。

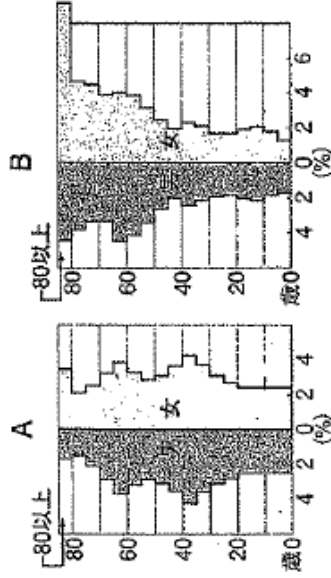
①四万十町の人口ピラミッドはA・Bのどちらですか。

②四万十町は、今後どのような現象がおこると考えられますか。3つ書きなさい。

③広島市は、中国・四国地方の政治や経済・文化の中心的な役割を果たしています。このような都市を何といいますか。

(2) 中国・四国地方の山間部や離島では、人口が減少し、社会生活が困難になっているところが多くあります。このような地域を何といいますか。

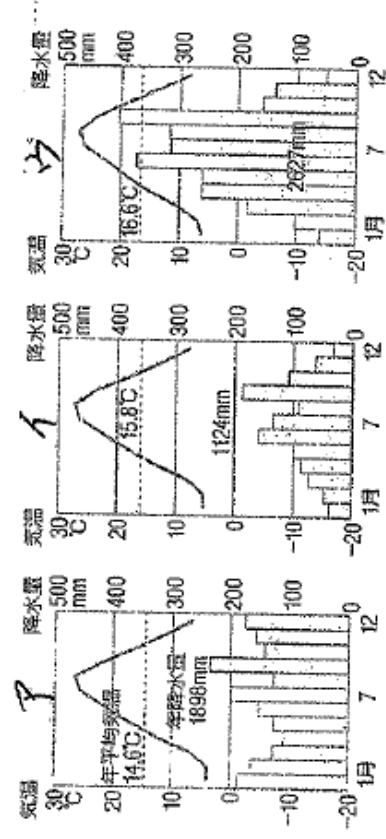
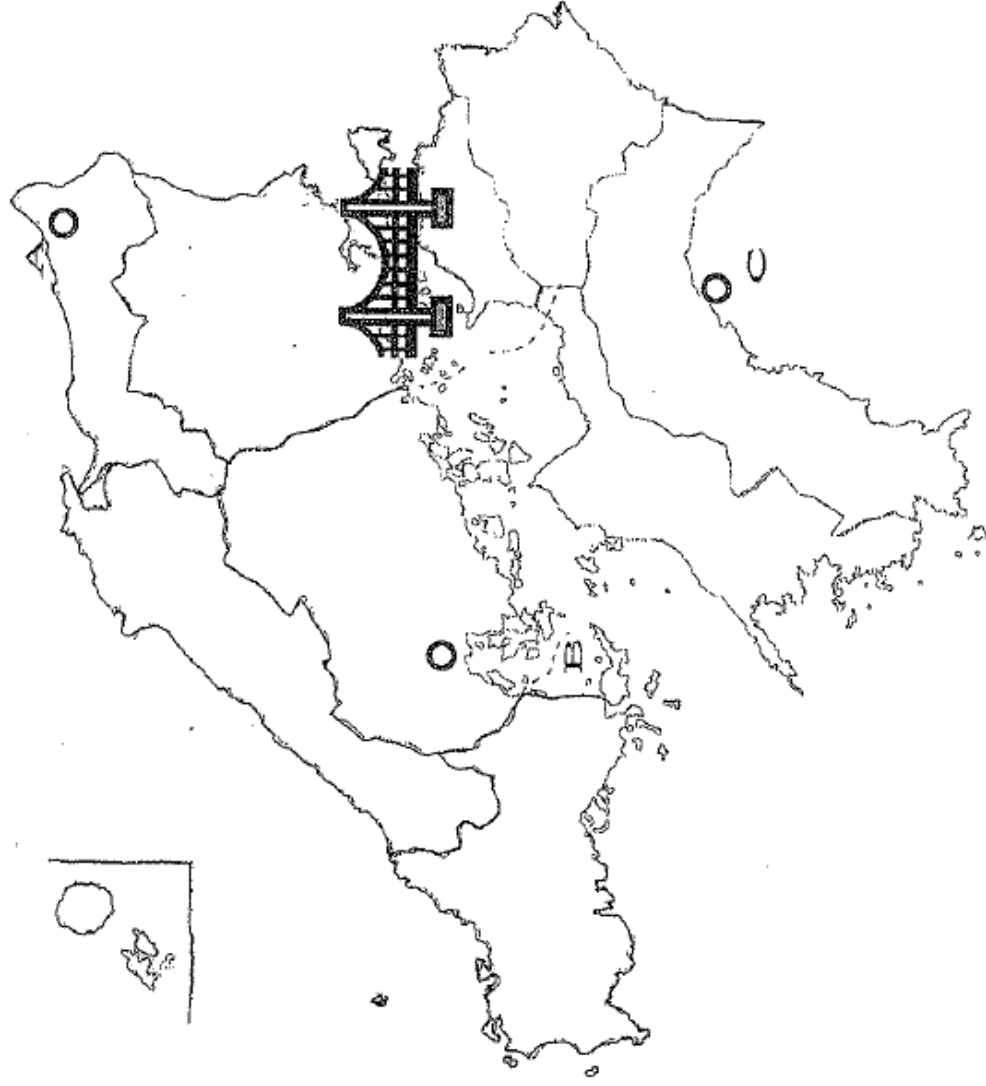
(3) 中国・四国地方の中核都市では過密問題を解消するためにさまざまな対策をとっています。その具体例を1つ書きなさい。



(住民基本台帳人口要覧平成22年版)

右の地図と資料を見てあとの問いに答えなさい。

- (1) Aの都市があるこの地方は、冬の降水量が多いことで知られています。この地方の名称を答えなさい。
- (2) 地図中のBの都市の両温帯はア～ウのどれですか。
- (3) 地図中Bの都市がある果では、ある海産物の養殖がさかんです。この海産物の名称を書きなさい。
- (4) 地図中にある橋は、本州四国連絡橋の1つで岡山県と香川県を結ぶ橋です。この名称を答えなさい。
- (5) (4)の橋ができたことにより、どのような変化が起きましたか。
- (6) (4)の橋とは別に、1998年には、徳島県と兵庫県を結ぶ明石海峡大橋が開通しました。すると、四国から神戸や大阪へ出かける人が増え、大都市へ人が吸い寄せられる現象が起きました。この現象を何といいますか。



④⑤ 各地の気温と降水量 (理科年表平成23年)

得点	平成24年度 第2学年 社会科 後期 中間テスト 解答用紙	第2学年	組	番
92	※解答上の注意 ①問題をよく読み、指示にしたがって解答すること ②ていねいな文字で、解答すること ③最後まであきらめずに努力すること	氏		
		名		

1	(1) 新田	2	寺子屋	(2)	a	国学	b	蘭学
	(3) ア	近松門左衛門	イ	松尾芭蕉	ウ	菱川師宣		
	(4) アとウ							

歌川広重

2	(1) A	將軍	徳川吉宗	B	老中	田沼意次			
	C	老中	松平定信	D	老中	水野忠邦			
	(2) ア	上代米	イ	借金(武蔵)	エ	株仲間			
	(3) D	(4) a	ウ	b	ア	c	エ	d	イ

3	① 筑後	② 筑前	③ 有明	④ 阿蘇	⑤ 九州
	⑥ 水俣	⑦ 宮崎	⑧ 株	⑨ 屋久	⑩ 沖縄

4	(1) ① 福岡県北九州市	② 宮学大警部会館	③ 石炭がとれる筑豊炭田があったから。	④ エネルギー革命	(4) 石炭(方ダ)
	(2) 水俣病	(3) エネルギー革命	(4) 現象	② 屋上の緑化などの取り組みがある。	
	(6) 資源を循環させ、未来に生きる人々によりよい社会(持続可能な社会)の取組(資源を循環させる産業を育て、持続可能な社会を実現する取組)を取組				

すぐ近くに筑豊炭田があった。

5	(1) ① B	② 高齢者の増加	少年化が進む	人口の減少
	(2) ③ 地方中核都市	(2) 過疎	地域	(過疎地)
	(3) 都市の人にIT・ユニ・Uターニを進め、問題の解消に対策をとっている。			

交通網の整備をしている。都市の再開発をしている。(セーフティ)

6	(1) 山陰地方	(2) 1	(3) 水(可利)	(4) 瀬戸大橋
	(5) 中国、四国地方が短時間で結ばれ、交流が深まった。			
	(6) ストローク現象			瀬戸大橋を利用して、通勤、通学する人が増えた。