

第2学年 前期 社会科期末テスト

1 次の地図や資料を見て、各問に答えなさい。

(1) 次の①～⑦の名称を答えなさい。

- ①の川 ②の台地 ③の砂丘
- ④の平野 ⑤の山地
- ⑥の湾 ⑦の川

(2) 地図の▲の山は、世界一のカルデラ火山です。何といますか。

(3) 宮崎や④の平野では温暖な気候を利用して、出荷時期を早める野菜の栽培方法が行われています。

I：この栽培方法を何といますか。

II：次の中からこの栽培にあてはまらない野菜を2つ記号で選びなさい。

- (ア)：キャベツ (イ)：ピーマン
- (ウ)：キュウリ (エ)：ラッキョウ
- (オ)：ナス

III：「近郊農業」とはどんな農業なのか説明しなさい。



(4) 右の雨温図は「那覇」「宮崎」「高松」「舞鶴」のいずれかを示しています。①「高松」と②「舞鶴」にあてはまる雨温図をグラフのA～Eから選びなさい。

(5) 地図中のA～Bは中国地方と四国地方をつなげる高速道路です。

I：これらをまとめて何といますか。

II：「しまなみ海道」をA～Cの中から記号で選びなさい。

III：これらの高速道路ができて良かった点、悪くなった点をしてきなさい。

(6) 右の元気なおばあちゃんは四国山地の上勝町に暮らしています。



I：この地域では人口が流出する状態が続いています。このことを何といますか。


II：このおばあちゃんは「いろどり」というところで働いています。どんなことをしているのか説明しなさい。

(7) 次の写真について。

I 1：資料Aの都市を何といますか
2：資料Bのような海岸線を何といますか。

II 右の2つの写真があらわす場所を、解答用紙の地図の中に赤線で示しなさい。

III 資料Aの都市や九州の福岡のように各地方の政治・経済・文化の中心的役割を果たしている都市を何といますか。



部か入り口では、買物の繁華が行われています。

2 次の資料を見て、各問に答えなさい。

資料I プロイラーと豚の県別生産量の割合

プロイラー		豚	
A	B	岩手	その他
17.9%	17.2	14.4	40.6
豚		豚	
A	B	千葉	その他
19.5%	9.2	6.5	57.3
豚		豚	
茨城	群馬		
6.7	6.3		
(2009年) (2011/12年度) (日本豚肉協会)			

(1) 資料Iについて。

① グラフのA、Bにあてはまる県名を次の中から記号で選びなさい。

- ア：宮崎県 イ：佐賀県 ウ：鹿児島県
- エ：熊本県 オ：長崎県 カ：福岡県

② 「プロイラー」について説明しなさい。

(2) 資料IIについて。水俣市が24種類ものごみの分別をしている理由を、「環境」「公害」のこたばを使って説明しなさい。

資料II 水俣市のごみ分別パンフレット



3 次の各問に答えなさい。

(1) 次のA～Cの明治時代の改革名を書きなさい。

資料A

- ・ 広く会議をおこし、万機公論に決すべし。
- ・ 知識を世界にもとめ、大いに皇基をしんぎすべし。

資料B

……今後は身分を問わず、必ず村に不学の家がなく、家に不学の人がいないようにする……

資料C

……海陸2軍を備えて、20歳以上の男子すべてを兵隊に入れて戦争に備える

(2) 次の文章は「地租改正」について説明しています。まちがった内容の文章を記号で選びなさい。

- ア：改正後の納税者は、土地所有者になった。
- イ：課税基準は収穫高から地価になった。
- ウ：地価は3%から後に0.5%引き下げられた。
- エ：納税方法は村単位で金納することになった。

(3) 次の資料を読んで答えなさい。

1871年、政府は東京に薩摩藩、長州藩、土佐藩の兵1万人を集めた。その後、知藩事を東京に集め、天皇の一方的な命令として()を強行した。261藩が廃止され、3府302県1市となった。

① ()にあてはまる改革は何ですか。

② なぜ、この改革の時に「兵1万人」が必要だったのか説明しなさい。

③ 資料の ~~~ のように、当時の政府は特定の藩出身者が中心でした。このことを批判し自由民権運動をはじめた人物は何という人ですか。

④ 次の自由民権運動の展開を、時代の古い順に並びかえなさい。

- ア：秩父事件がおこる イ：開拓使官物払下げ事件 ウ：集会条例がでる
- エ：国会開設の勅諭が発表される

4 次の年表や資料を見て、各問に答えなさい。

a	
1889	(I) 憲法の発布
b	
1894	日清戦争
c	
1895	(II) 条約を結ぶ
d	
1902	(III) を結ぶ
e	
1904	日露戦争
f	
1905	ポーツマス条約を結ぶ
g	
1910	韓国を併合する
h	

- (1) 年表のⅠ～Ⅲにあてはまることばを書きなさい。
 (2) 次のできごとがおきた時代を、年表のa～hから記号で選びなさい。

ア：日比谷焼き打ち事件がおこる イ：三国干渉を受ける
 ウ：関税自主権を回復する エ：甲辰農民戦争がおこる


- (3) 次の条約の中で、「ポーツマス条約」にあてはまるものを、記号で2つ選びなさい。

ア：韓国における日本の優越権を認める。
 イ：旅順・大連の租借権、長春以南の鉄道を日本にゆずる。
 ウ：リャオトン半島、台湾を日本にゆずる。
 エ：賠償金2億テールを日本に支払う。
 オ：朝鮮の独立を認める。

ア：森 鴎外 イ：北里柴三郎 ウ：滝廉太郎 エ：田中正造 オ：黒田清輝
 カ：野口英世 キ：狩野芳崖 ク：夏目漱石 ケ：樋口一葉 コ：小松原聡

(4) 次の資料A、Bを見て答えなさい。

資料A



資料B



- ①この2つの絵の作者は何という人物ですか。
 ②資料Aのマンガを4つの箇名を入れて説明しなさい。
 ③資料Bは、日本の何という政策をひにくっていますか。

資料C



- (5) 資料Cは「君しにたまふことなかれ」という詩を発表した人物です。この人の氏名とこの人の考えを書きなさい。

(6) 次のA～Cの人物名を、右のア～ケから選び、記号で答えなさい。

○Aの人物…私はフランスに留学し、洋画を学びました。

右の絵が「舞子」という作品です。

○Bの人物…私は東京大学の出身です。次の文章は「草枕」の冒頭部です。

山道を登りながらこう考えた。智に働けば角が立つ。情にさおさせば流される。意地を遣せば窮屈だ。とかく人の世は住みにくい。

○Cの人物…私はドイツに留学し、細菌学者コッホの指導を受け、破傷風の血清療法を発見しました。



第2学年 前期 社会科期末テスト

1 次の地図や資料を見て、各問に答えなさい。

(1) 次の①～⑦の名称を答えなさい。

- ①の川 ②の台地 ③の砂丘
④の平野 ⑤の山地
⑥の湾 ⑦の川

(2) 地図の▲の山は、世界一のカルデラ火山です。何といますか。

(3) 宮崎や④の平野では温暖な気候を利用して、出荷時期を早める野菜の栽培方法が行われています。

I：この栽培方法を何といますか。促成

II：次の中からこの栽培にあてはまらない野菜を2つ記号で選びなさい。

- ⑦：キャベツ イ：ピーマン
ウ：キュウリ エ：ラッキョウ
オ：ナス

III：「近郊農業」とはどんな農業なのか説明しなさい。



(4) 右の雨温図は「那覇」「宮崎」「高松」「舞鶴」のいずれかを示しています。①「高松」と②「舞鶴」にあてはまる雨温図をグラフのア～エから選びなさい。①ア ②イ

(5) 地図中のA～Bは中国地方と四国地方をつなげる高速道路です。I：これらをまとめて何といますか。本州四国連絡橋

II：「しまなみ海道」をA～Cの中から記号で選びなさい。A

III：これらの高速道路ができて良かった点、悪くなった点をしきなさい。

(6) 右の元気なおばあちゃんは四国山地の上勝町に暮らしています。I：この地域では人口が流出する状態が続いています。このことを何といますか。過疎

II：このおばあちゃんは「いろいろ」というところで働いています。どんなことをしているのか説明しなさい。

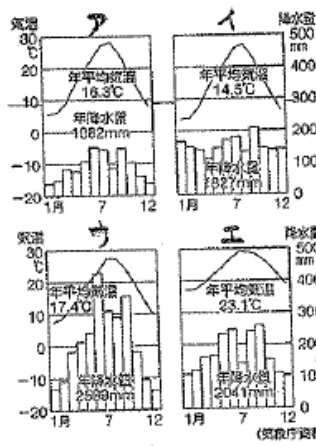

(7) 次の写真について。

I：資料Aの都市を何といますか。大馬

II：資料Bのような海岸線を何といますか。リアス海岸

III：右の2つの写真があらわす場所を、解答用紙の地図の中に赤色で示しなさい。

IV：資料Aの都市や九州の福岡のように各地方の政治・経済・文化の中心的な役割を果たしている都市を何といますか。地方中核都市




2 次の資料を見て、各問に答えなさい。

資料I プロイラーと豚の県別生産量の割合

プロイラー		豚	
生産額 5.7	生産額 4.2		
1.1億羽	17.9%	17.2	14.4
	A	B	その他
	13.8%	57.8	28.4%
	9.2	千頭 6.5	
	6.7	千頭 6.3	
	(2006年)	(2011/12年産)	(日本豚飼育会)

資料II 水俣市のごみ分別パンフレット



(1) 資料Iについて。

①グラフのA、Bにあてはまる県名を次の中から記号で選びなさい。

- ア：宮崎県 イ：佐賀県 ウ：鹿児島県
エ：熊本県 オ：長崎県 カ：福岡県

②「プロイラー」について説明しなさい。

(2) 資料IIについて、水俣市が24種類ものごみの分別をしている理由を、「環境」「公害」のこたばを使って説明しなさい。

3 次の各問に答えなさい。

(1) 次のA～Cの明治時代の改革名を書きなさい。

資料A 五箇条の御誓文

資料B 学割

- ・広く会議をおこし、万機公論に決すべし。
- ・知識を世界にもとめ、大いに皇基をしんきすべし。

……今後は身分を問わず、必ず村に不学の家がなく、家に不学の人がいないようにする……

資料C 徴兵令

…海陸2軍を備えて、20歳以上の男子すべてを兵籍に入れて戦争に備える

(2) 次の文章は「地租改正」について説明しています。まちがった内容の文章を記号で選びなさい。

- ア：改正後の納税者は、土地所有者になった。 イ：課税基準は収穫高から地価になった。
ウ：地価は3%から後に0、5%引き下げられた。 エ：納税方法は村単位で金納することになった。

(3) 次の資料を読んで答えなさい。

1871年、政府は東京に薩摩藩、長州藩、土佐藩の兵1万人を集めた。その後、知藩事を東京に集め、天皇の一方向的な命令として()を強行した。261藩が廃止され、3府302県1市となった。

①()にあてはまる改革は何ですか。廃藩置縣

②なぜ、この改革の時に「兵1万人」が必要だったのか説明しなさい。元、大老が反乱を企てたため

③資料の〰のように、当時の政府は特定の藩出身者が中心でした。このことを批判し自由民権運動をはじめた人物は何という人ですか。板垣退助

④次の自由民権運動の展開を、時代の古い順に並びかえなさい。

- ア：秩父事件がおこる イ：開拓使官有物払下げ事件 ウ：集会条例がでる
エ：国会開設の勅諭が発表される

ウ → イ → エ → ア

資料Bの入り口付近は、資料Cの行方を行っています。

4 次の年表や資料を見て、各問に答えなさい。

a	大正帝制
1889	(I) 憲法の発布
b	
1894	日清戦争
c	下関
1895	(II) 条約を結ぶ
d	日露
1902	(III) を結ぶ
e	
1904	日露戦争
f	
1905	ポーツマス条約を結ぶ
g	
1910	韓国を併合する
h	

- (1) 年表の I ~ III にあてはまることばを書きなさい。
 (2) 次のできごとがおきた時代を、年表の a ~ h から記号で選びなさい。

ア：日比谷焼き打ち事件がおこる イ：三国干渉を受ける
 ウ：関税自主権を回復する エ：甲辰農民戦争がおこる

- (3) 次の条約の中で、「ポーツマス条約」にあてはまるものを、記号で2つ選びなさい。

ア：韓国における日本の優越権を認める。g
 イ：旅順・大連の租借権、長春以南の鉄道を日本にゆずる。h
 ウ：リアオト半島、台湾を日本にゆずる。d
 エ：賠償金2億ドルを日本に支払う。b, c
 オ：朝鮮の独立を認める。f

(4) 次の資料A、Bを見て答えなさい。

資料A



資料B



- ①この2つの絵の作者は何という人物ですか。
 ②資料Aのマンガを4つの国名を入れて説明しなさい。
 ③資料Bは、日本の何という政策をひにくっていますか。

資料C



- (5) 資料Cは「君しにたまふことなかれ」という詩を発表した人物です。この人の氏名とこの人の考えを書きなさい。

与謝野晶子

- (6) 次のA~Cの人物名を、右のA~ケから選び、記号で答えなさい。

○Aの人物…私はフランスに留学し、洋画を学びました。右の絵が「舞子」という作品です。

○Bの人物…私は東京大学の出身です。次の文章は「草枕」の冒頭部です。

山道を登りながらこう考えた。智に働けば角が立つ。情にさおさせば流される。意地を通せば窮屈だ。とかく人の世は住みにくい。

○Cの人物…私はドイツに留学し、細菌学者コッホの指導を受け、破傷風の血清療法を発見しました。



ア：森 鷗外 ①：北里柴三郎 ウ：滝廉太郎 エ：田中正造 ②：黒田清輝
 カ：野口英世 キ：狩野芳崖 コ：夏目漱石 ケ：樋口一葉 ク：小松原聡