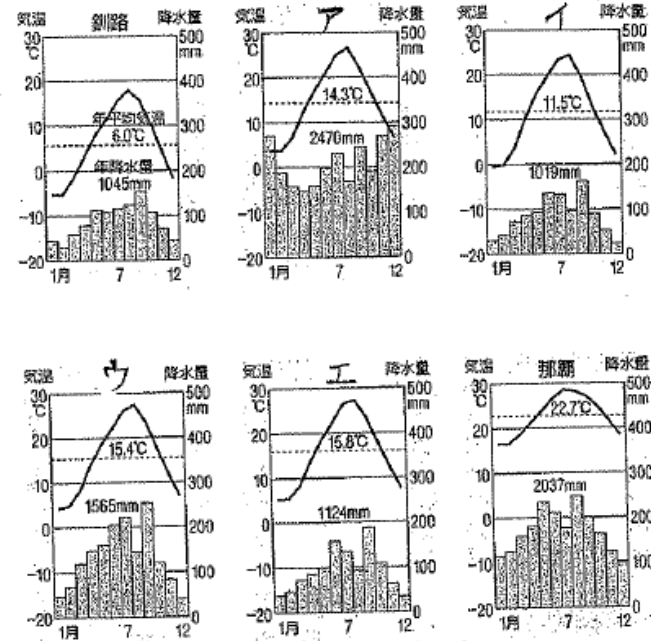


I 江戸幕府の政治に関する次の資料を見て、各問に答えなさい。

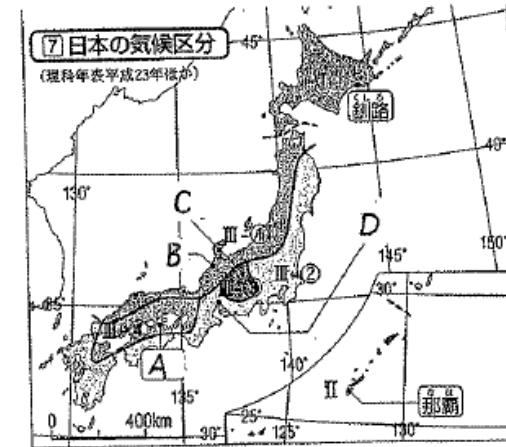
A	水野忠邦の政治 ・俵約令を出して、派手な風俗や政治批判などを厳しく取りしめる。 ・江戸に出稼ぎに来ている農民を、故郷の村に返す。 ・株仲間を解散させる。
B	徳川吉宗の政治 ・裁判の基準である(X)を定める。 ・参勤交代で江戸にいる期間を短縮するかわりに、米を納めさせる。 ・庶民の意見を聞くために、目安箱を設置する。
C	田沼意次の政治 ・商工業者が株仲間をつくることを奨励する。 ・長崎での貿易を活発にする。
D	松平定信の政治 ・江戸に出てきていた農民を故郷に帰す。 ・凶作やききんに備えるため、農村に倉を設けて米を蓄えさせる。 ・蔵本、御家人の札差からの借金を帳消しにする。

- 資料中の(X)にあてはまる語句を書きなさい。
- 資料中のA～Dを年代の古い順に並べ、記号を書きなさい。
- 資料中Aの政治を歴史的に「()の改革」といいます。()にあてはまる語句を書きなさい。
- 「白河の清きに魚の住みかねて、もとのにごりの田沼こひ(い)しき」という狂歌は、資料中A～Dのどの政治を批判したものか、記号を書きなさい。
- 資料中のCの政治は、他の政治と政策にちがいがありません。そのちがいを次の二つの語句を使って説明しなさい。
[年貢 商工業者]

II 次のア～エの気温図は地図中のA～Dの都市のもので、各問に答えなさい

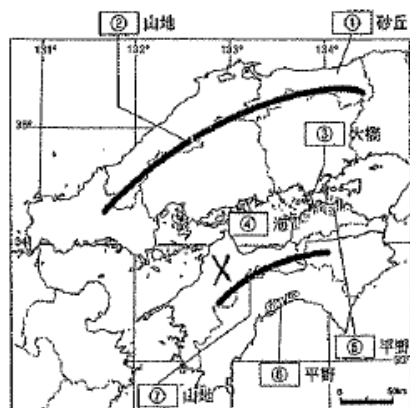


⑩ 各地の気温と降水量 (理科年表平成23年)




- 地図中のBの都市の気温図をア～エから選び、記号を書きなさい。また、その気温図を選んだ理由を書きなさい。
- 地図中のCの都市の気温図をア～エから選び、記号を書きなさい。また、その気温図を選んだ理由を書きなさい。

III 次の地図と資料を見て、各問に答えなさい



【資料1】

(工業生産額は4人以上の事業所) 食料品 せんい



【資料2】 岡山県・香川県間の通勤・通学者数の変化

通勤・通学者の流れ	1990年	2005年
岡山県から香川県へ	541人	2193人
香川県から岡山県へ	834人	1884人

(平成17年国勢調査報告ほか)

【資料3】

ある果物の県別生産割合



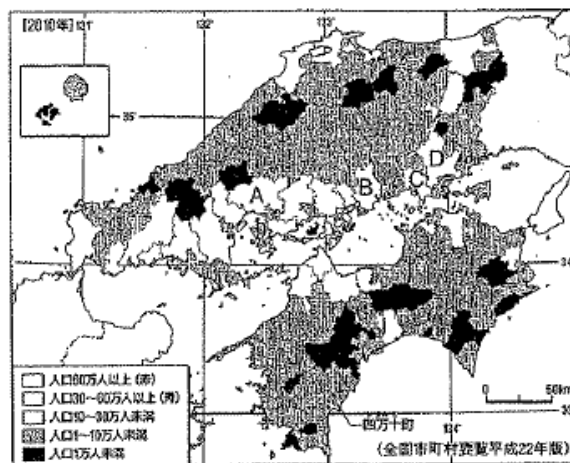
- 地図中の②の山地、④の海、⑦の山地の名前を書きなさい。
- 地図中の⑤の平野で促成栽培が行われている野菜としてあてはまらないものを、次のア～エから一つ選び、記号を書きなさい。
ア きゅうり イ ビーマン ウ なす エ じゃがいも
- 地図中の④の海は穏やかな海域が多く、いけすの中でかきやまだいを育て、大きく育ててから出荷している。このような漁業を何と書きなさい。
- 資料1は地図中の④の海の両岸に広がる工業地域の工業生産の変化を示している。資料1の内容としてあてはまらないものを、次のア～エから一つ選び、記号を書きなさい。
ア 機械工業のしめる割合は増えている。 イ 機械工業の生産額は増えている。
ウ 化学工業のしめる割合は増えている。 エ 化学工業の生産額は増えている。
- 地図中の③の大橋は1988年に開通しました。この橋が開通したことにより岡山県と香川県の間の通勤・通学者数はどのように変化したのか、資料2から読み取れることを書きなさい。

(6)交通網が整備された結果、大都市に人々が吸いよせられて、地方経済が衰退してしまう現象を何と書きなさい。

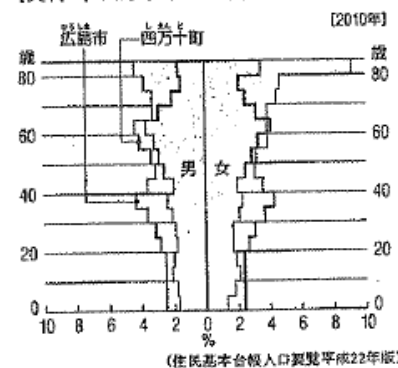
(7)資料3で示した果物の名前を書きなさい。

IV 次の地図と資料を見て、各問に答えなさい

中国・四国地方の市町村別人口

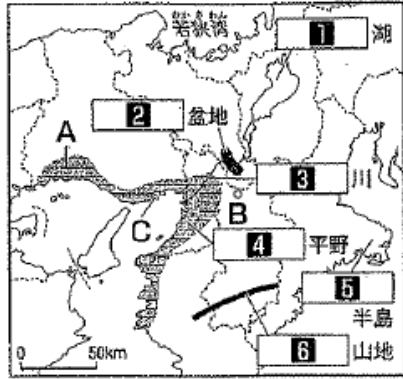


【資料1】 四万十町と広島市の人口ピラミッド



- 地図中のA～Dから、広島市にあてはまるものを選び、記号を書きなさい。
- 広島市について述べた次の文を読み、(①)～(④)にあてはまる語句を書きなさい。
第二次世界大戦では、1945年8月6日、アメリカ軍によって世界で最初の(①)が投下され、多くの犠牲者が出ました。戦後は(②)都市として、世界に平和の尊さをアピールしています。広島市には、裁判所や各省庁の出先機関、企業の支社や大学などが集まっています。広島市のように各地方の政治、経済、文化の中心的役割を果たしている都市を(③)都市といいます。
- 資料を見て、四万十町の人口構成の特色として読み取れることを書きなさい。

V 次の地図を見て、各問いに答えなさい。




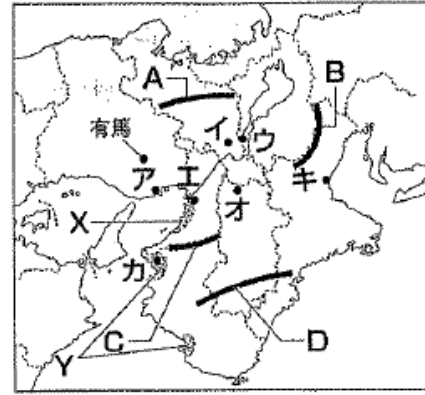
(1) 1の湖、3の川、6の山地の名前を書きなさい。

(2) 若狭湾や5の半島の海岸線のように入り組んだ海岸線を何というか書きなさい。

(3) Aの地域に広がる工業地帯を何というか書きなさい。



VI 次の地図と資料を見て、各問いに答えなさい。



京都市を訪れる観光客数の変化(京都市観光調査年報平成21年)

(1) 次のA～Hの文はそれぞれ神戸、大阪、奈良、京都について書かれたものです。

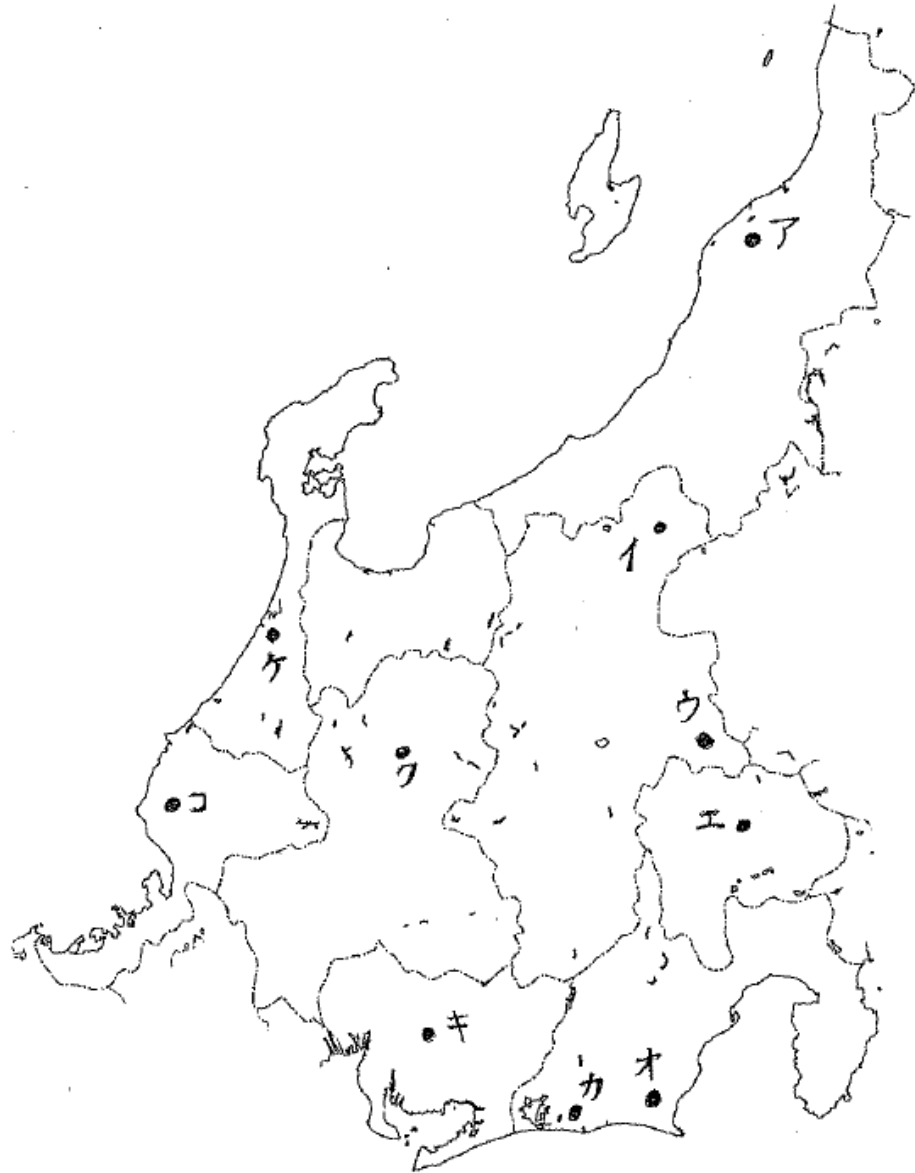
- A 710年に平城京がつけられ、東大寺、唐招提寺などの多くの寺院がある。
- B 794年に平安京がつけられ、その後、1869年まで都が置かれた。
- C 江戸時代には「天下の台所」とよばれ、経済の中心地として栄えた。
- D 西陣織や友禅染が伝統工芸品として受けつがれている。
- E 洋服や食品などをあつかう問屋街が形成され、卸売業の中心となっている。
- F 条例によって店の看板、建物の高さ、デザインなどを規制し、歴史的な景観や町並み壊さないようにしている。
- G 幕末からの貿易港であり、異人館や中華街などが残っている。
- H 丘陵地を切り開きニュータウンを建設し、丘陵をけずってえられた土を沿岸の埋め立てに利用し、ポートアイランドを建設した。

- ① A～Hの文から神戸にかかわる文をすべて選び、記号を書きなさい。また、神戸を地図中のア～キから選び、記号を書きなさい。
- ② A～Hの文から大阪にかかわる文をすべて選び、記号を書きなさい。また、大阪を地図中のア～キから選び、記号を書きなさい。
- ③ A～Hの文から奈良にかかわる文をすべて選び、記号を書きなさい。また、奈良を地図中のア～キから選び、記号を書きなさい。
- ④ A～Hの文から京都にかかわる文をすべて選び、記号を書きなさい。また、京都を地図中のア～キから選び、記号を書きなさい。

(2) 奈良や京都の文化財の多くは、歴史的価値が評価されて、ユネスコの何に登録されているの書きなさい。

(3) 資料を見ると京都を訪れる観光客数が、1995年に減少しています。その原因となった近畿地方に大きな被害を出した自然災害は何か書きなさい。

VII 次の①～⑧の文にあてはまる場所を、地図中のア～コから一つずつ選び、記号を書きなさい。



- ①盆地の周辺の扇状地では、ぶどうやももなどの果樹栽培がさかんに行われている
- ②八ヶ岳のふもとでは、夏でも冷涼な気候を生かし、レタスやはくさいなどの高原野菜の栽培がさかんである
- ③明治時代になってから開墾が進められ、茶の栽培が始まりました。
- ④越後平野は日本を代表する水田地帯となっています。早稲米の産地で有名です。おいしい米の栽培に力を入れています。
- ⑤南中学校の現2年生が、1年生のときにスキー教室を実施しました。
- ⑥めがねのフレームづくりは、雪におおわれる冬に家の中でできる副業として始まりました。
- ⑦トヨタ自動車の本社があります。町の名前も1959年に挙母市から豊田市に変わりました。
- ⑧さまざまなことに前向きに取り組む「やまいか」という心意気が市民の間に広まっています。二輪車やピアノの生産が発達し、工業がさかんな都市になっています。また、政令指定都市になっています。

I (1) 公事方御定書 (2) B → C → D → A (3) 天保 (4) D
 (御定書百箇条)
 農業から得る年貢によって収入を増やすのではなく、商工業者の力を利用して税を取
 (5) ることで、財政を立て直そうとしている。 (4)

14

II (1) ア (2) イ (3) 理由
 冬の降水量が多い (2) 降水量が少ない
 年平均気温が低い (冬が低温) (2)

8

III (1) ② 中国 山地 ④ 瀬戸内 海 ⑦ 四国 山地 (2) エ (3) 養殖 (4) ウ (2)
 岡山県から香川県への、香川県から岡山県への
 (5) 通勤・通学者がともに増えている。 (4) (6) ストロー 現象 (7) みかん (2)

20

IV (1) A (2) ① 原子爆弾 (2) 平和記念 (3) 65歳以上の高齢者の割合が高く、若い人たちの割合が低い。 (4)
 (原爆)

12

V (1) I 琵琶湖 3 淀川 6 紀伊 山地 (2) リアス 海岸 (3) 阪神 工業地帯

10

VI (1) ① G H (2) C E A (3) 文 文 文 文 文 文 文 文 文 文
 文 B D F (2) 世界(文化)遺産 (3) 阪神淡路大震災

7-C

VII ① エ ② ウ ③ オ ④ ア ⑤ イ ⑥ ニ ⑦ キ ⑧ カ

16

思ハ 板ニ 知ル