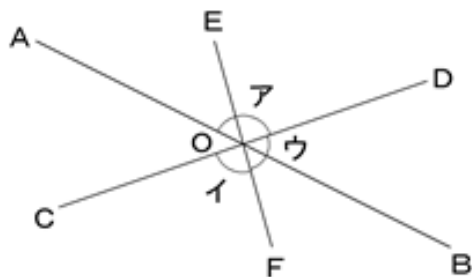


角度の表し方 ドリルプリント

(1) 下の図について、次の問いに答えよ。

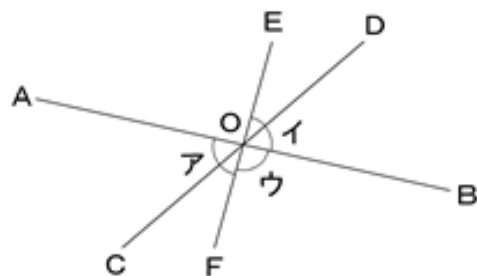


① アの角の記号を \angle を用いて表せ。

② イの角の記号を \angle を用いて表せ。

③ ウの角の記号を \angle を用いて表せ。

(2) 下の図について、次の問いに答えよ。

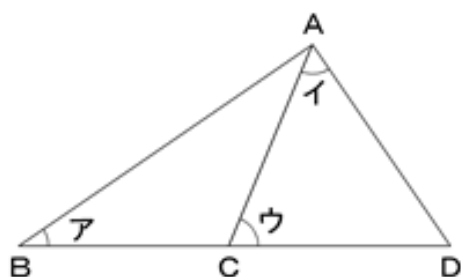


① アの角の記号を \angle を用いて表せ。

② イの角の記号を \angle を用いて表せ。

③ ウの角の記号を \angle を用いて表せ。

(3) 下の図について、次の問いに答えよ。

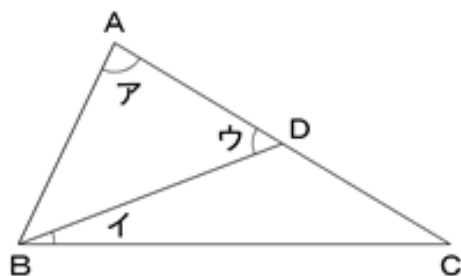


① アの角の記号を \angle を用いて表せ。

② イの角の記号を \angle を用いて表せ。

③ ウの角の記号を \angle を用いて表せ。

(4) 下の図について、次の問いに答えよ。



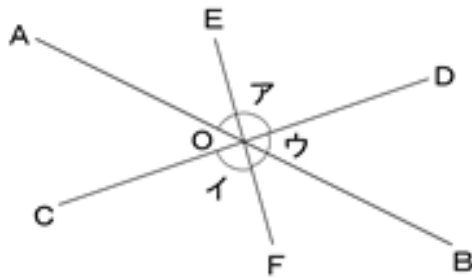
① アの角の記号を \angle を用いて表せ。

② イの角の記号を \angle を用いて表せ。

③ ウの角の記号を \angle を用いて表せ。

解答

(1) 下の図について、次の問いに答えよ。



① アの角の記号を \angle を用いて表せ。

★

答 $\angle AOD$ ($\angle DOA$)

② イの角の記号を \angle を用いて表せ。

★

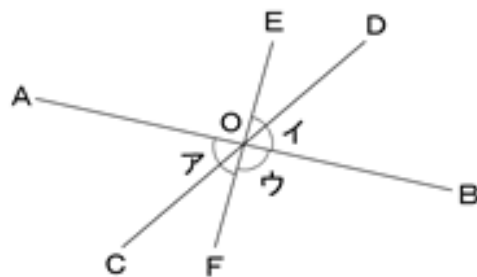
答 $\angle OOF$ ($\angle FOOC$)

③ ウの角の記号を \angle を用いて表せ。

★

答 $\angle BOD$ ($\angle DOB$)

(2) 下の図について、次の問いに答えよ。



① アの角の記号を \angle を用いて表せ。

★

答 $\angle AOF$ ($\angle FOA$)

② イの角の記号を \angle を用いて表せ。

★

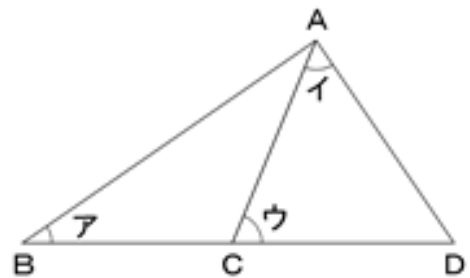
答 $\angle BOE$ ($\angle EOB$)

③ ウの角の記号を \angle を用いて表せ。

★

答 $\angle BOF$ ($\angle FOB$)

(3) 下の図について、次の問いに答えよ。



① アの角の記号を \angle を用いて表せ。

★

答 $\angle ABC$
($\angle CBA, \angle ABD, \angle DBA$)

② イの角の記号を \angle を用いて表せ。

★

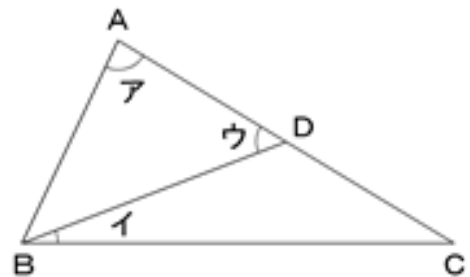
答 $\angle CAD$ ($\angle DAC$)

③ ウの角の記号を \angle を用いて表せ。

★

答 $\angle ACD$ ($\angle DCA$)

(4) 下の図について、次の問いに答えよ。



① アの角の記号を \angle を用いて表せ。

★

答 $\angle BAC$
($\angle CAB, \angle BAD, \angle DAB$)

② イの角の記号を \angle を用いて表せ。

★

答 $\angle CBD$ ($\angle DBC$)

③ ウの角の記号を \angle を用いて表せ。

★

答 $\angle ADB$ ($\angle BDA$)