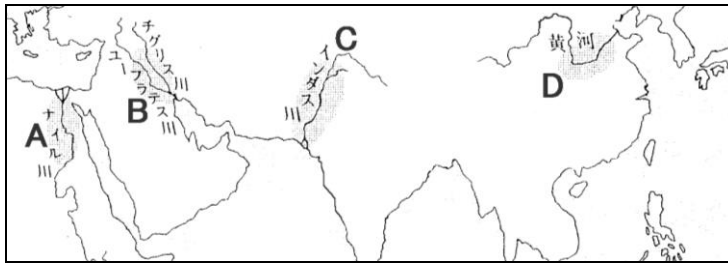


文明のおこり②【解説】教科書の重要キーワードをチェックした後、問題へ！

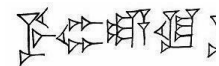
紀元前 3000 年 4大文明 → 川の流域で発達する



A エジプト 文明 (ピラミッド・象形文字・太陽暦など)



B メソポタミア 文明 (くさび文字・太陰暦)



C インダス 文明 (モヘンジョ・ダロ遺跡など)



D 中国(黄河) 文明 (甲骨文字など)



紀元前 1500 年 ① 殷 という国ができる

周のあと、春秋・戦国時代になる。② 孔子 が儒学(儒教)をおこす

紀元前 221 年 ③ 秦 が中国を統一。始皇帝は万里の長城をつくる。始皇帝の墓の跡から兵馬俑が見つかる

紀元前 202 年 始皇帝の死後、④ 漢 が中国を統一



西アジアとは⑤ シルクロード でつながり交易が盛んになる

1 世紀初め イエスが⑥ キリスト 教をおこす。その後 4 世紀にローマ帝国で認められ、広まる

● ここも大切！表をうめて、世界三大宗教をまとめよう！

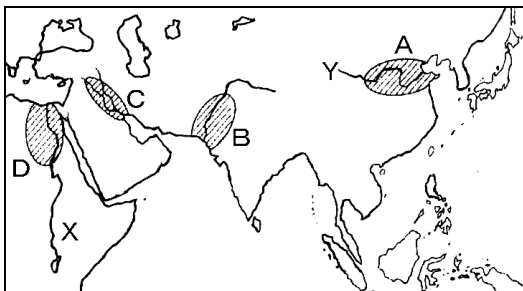
	仏教(紀元前 5 世紀)	キリスト教(1 世紀)	イスラム教(7 世紀)
ひらいた人物	① <u>シャカ</u>	② <u>イエス・キリスト</u>	③ <u>ムハンマド</u>
教典	④ <u>経</u>	⑤ <u>聖書</u>	⑥ <u>コーラン</u>

【教科書の重要語句】《一問一答》問題文ごと暗記しよう！

- | | |
|---------------------------------|---------|
| ① ナイル川流域に発達した文明を何というか。 | ① |
| ② ①の文明の遺跡である王の墓を何というか。 | ② |
| ③ チグリス川・ユーフラテス川流域に発達した文明を何というか。 | ③ |
| ④ インダス川流域に発達した文明を何というか。 | ④ |
| ⑤ 黄河流域に発達した文明を何というか。 | ⑤ |
| ⑥ ⑤の文明で発明された文字を何というか。 | ⑥ |
| ⑦ 中国で戦国時代に孔子の説いた教えを何というか。 | ⑦ |
| ⑧ 紀元前 221 年に中国を統一した国を何というか。 | ⑧ |
| ⑨ ⑧を統一した人物は何とよばれていたか。 | ⑨ |
| ⑩ ⑨が北方の遊牧民の侵入を防ぐために作らせたものは何か。 | ⑩ |
| ⑪ ⑨の死後に中国を統一した国は何か。 | ⑪ |
| ⑫ ヨーロッパと西アジアと中国を結んだ道を何というか。 | ⑫ |
| ⑬ キリスト教を開いた人物はだれか。 | ⑬ |





B

次のA～Dの地域でおこった文明と、XとYの川の名前を書きなさい。



- | | | | |
|---------|----|---------|----|
| A | 文明 | B | 文明 |
| C | 文明 | D | 文明 |
| X | | Y | |

C 問いに答えなさい。

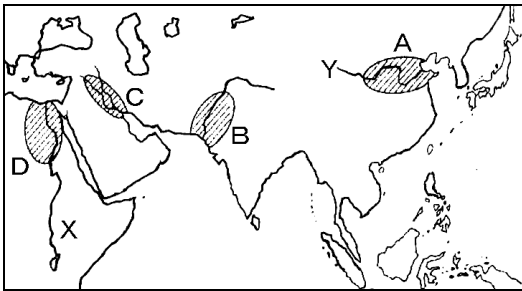
- | | | | |
|---|---|--|---|
| ①  | ②  | ③  | ④  |
| 何か？ | 遺跡名は？ | 文字名は？ | 人形を何というか？ |
| | | | |

解答 文明のおこり②

- | | |
|---------------------------------|------------|
| ① ナイル川流域に発達した文明を何というか。 | ① エジプト文明 |
| ② ①の文明の遺跡である王の墓を何というか。 | ② ピラミッド |
| ③ チグリス川・ユーフラテス川流域に発達した文明を何というか。 | ③ メソポタミア文明 |
| ④ インダス川流域に発達した文明を何というか。 | ④ インダス文明 |
| ⑤ 黄河流域に発達した文明を何というか。 | ⑤ 中国文明 |
| ⑥ ⑤の文明で発明された文字を何というか。 | ⑥ 甲骨文字 |
| ⑦ 中国で戦国時代に孔子の説いた教えを何というか。 | ⑦ 儒学(教) |
| ⑧ 紀元前 221 年に中国を統一した国を何というか。 | ⑧ 秦 |
| ⑨ ⑧を統一した人物は何とよばれていたか。 | ⑨ 始皇帝 |
| ⑩ ⑨が北方の遊牧民の侵入を防ぐために作らせたものは何か。 | ⑩ 万里の長城 |
| ⑪ ⑨の死後に中国を統一した国は何か。 | ⑪ 漢 |
| ⑫ ヨーロッパと西アジアと中国を結んだ道を何というか。 | ⑫ シルクロード |
| ⑬ キリスト教を開いた人物はだれか。 | ⑬ イエス |


B

次のA～Dの地域でおこった文明と、XとYの川の名前を書きなさい。




- | | | | |
|----------|----|--------|----|
| A 中国 | 文明 | B インダス | 文明 |
| C メソポタミア | 文明 | D エジプト | 文明 |
| X ナイル川 | | Y 黄河 | |

C 問いに答えなさい。



何か？

ピラミッド



遺跡名は？

モヘンジョ・ダロ遺跡



文字名は？

甲骨文字



人形を何というか？

兵馬俑