

世界と日本の人口

【解説】流れ 教科書の重要キーワードをチェックした後、下の問題へ！

● 世界の人口

① 80 億人・・・2022年11月現在の世界の人口

② アジア・・・世界の人口の6割が集中する地域

★アジア州 > アフリカ州 > ヨーロッパ州 > 北アメリカ州 > 南アメリカ州 > オセアニア州

③ 人口爆発・・・②やアフリカなどの発展途上国で急激に人口が増えている現象。食糧不足

④ 少子高齢化・・・日本など先進工業国では平均寿命が伸び、出生率が下がってきている
→ 医療技術の進歩や出産の高齢化などにより、進行

● 日本の人口

① 約1億2300万 人・・・日本の人口

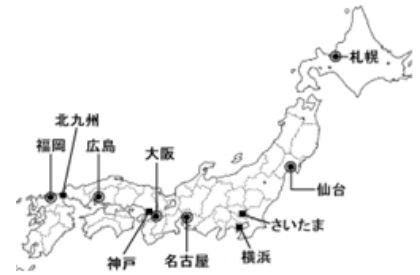
② 三大都市圏・・・東京・大阪・名古屋を中心とする大都市圏

③ 地方中枢都市・・・札幌・仙台・広島・福岡など、各地方の中心となる都市

④ 過密 地域・・・人口が集中しすぎる地域。交通混雑や大気汚染など

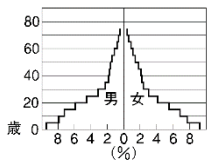
⑤ ドーナツ化現象・・・中心部の人口が減り、郊外の人口が増加する現象。近年は都心回帰現象へ

⑥ 過疎 地域・・・人口の減少と高齢化により、地域社会を維持するのが困難な地域。山間部や離島
自然や伝統文化を活用した村おこし



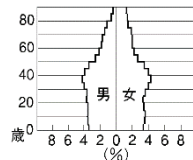
● 人口ピラミッド

① 富士山 型




アフリカなど。多産多死

② つりがね 型



アメリカやオーストラリアなど

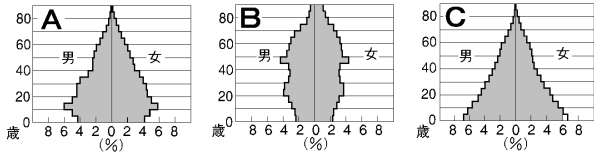
③ つぼ 型



日本やヨーロッパなど。少産少死

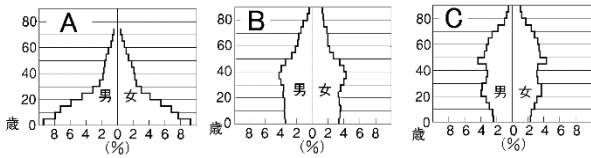
【教科書の重要語句】《一問一答》問題文ごと暗記しよう！

① 次のA～Cは日本の人口ピラミッドの移り変わりをしめしたものである。年代の古い順に並べかえなさい。



→ _____ →

② 次は日本、オーストラリア、アフリカのエチオピアのいずれかの人口ピラミッドである。A～Cにあたる国を書きなさい。



A _____ B _____

C _____

③ ②のA～Cの人口ピラミッドはそれぞれ何型とよばれているか、書きなさい。

A _____ 型 B _____ 型 C _____ 型

④ 世界の人口は、1年で1億人増加している。2011年現在でおよそ_____億人である。 ④ _____

⑤ 世界で人口増加率が最も高い地域は_____で、ついでアフリカが高い。 ⑤ _____

⑥ アジアやアフリカなどで人口が急激に増える現象を_____という。 ⑥ _____

⑦ 子どもの数が減少し、高齢者の割合が増えていく現象を_____化という。 ⑦ _____

⑧ ⑦の原因の1つは_____技術の進歩だ。 ⑧ _____

⑨ ⑦の原因のもう1つは女性の出産年齢の_____だ。 ⑨ _____

⑩ 人口の集中しすぎる地域を_____地域という。 ⑩ _____

⑪ 東京・_____・大阪を中心とした都市圏を三大都市圏という。 ⑪ _____

⑫ 札幌や仙台、広島、福岡などの都市を_____都市といい、人口が集中している。 ⑫ _____

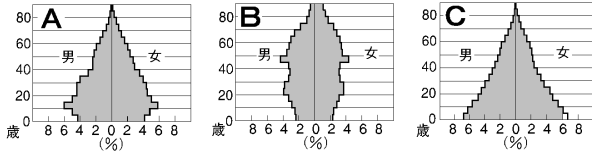
⑬ 大都市の周辺では_____とよばれる大規模な住宅の開発がおこなわれてきた。 ⑬ _____

⑭ 都市部の人口が周辺に移動する現象を_____現象という。 ⑭ _____

⑮ 人口が減少し、社会生活を維持するのが難しい地域を_____地域という。 ⑮ _____

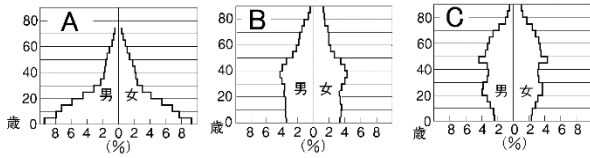
解答 【教科書の重要語句】《一問一答》問題文ごと暗記しよう！

① 次のA～Cは日本の人口ピラミッドの移り変わりをしめしたものである。年代の古い順に並べかえなさい。



C → A → B

② 次は日本、オーストラリア、アフリカのエチオピアのいずれかの人口ピラミッドである。A～Cにあたる国を書きなさい。



A エチオピア

B オーストラリア

C 日本

③ ②のA～Cの人口ピラミッドはそれぞれ何型とよばれているか、書きなさい。

A 富士山型

B つりがね型

C つぼ型

④ 世界の人口は、1年で1億人増加している。2011年現在でおよそ_____億人である。

④ 80

⑤ 世界で人口増加率が最も高い地域は_____で、ついでアフリカが高い。

⑤ アジア

⑥ アジアやアフリカなどで人口が急激に増える現象を_____という。

⑥ 人口爆発

⑦ 子どもの数が減少し、高齢者の割合が増えていく現象を_____化という。

⑦ 少子高齢

⑧ ⑦の原因の1つは_____技術の進歩だ。

⑧ 医療

⑨ ⑦の原因のもう1つは女性の出産年齢の_____だ。

⑨ 上昇

⑩ 人口の集中しすぎる地域を_____地域という。

⑩ 過密

⑪ 東京・_____・大阪を中心とした都市圏を三大都市圏という。

⑪ 名古屋

⑫ 札幌や仙台、広島、福岡などの都市を_____都市といい、人口が集中している。

⑫ 地方中枢

⑬ 大都市の周辺では_____とよばれる大規模な住宅の開発がおこなわれてきた。

⑬ ニュータウン

⑭ 都市部の人口が周辺に移動する現象を_____現象という。

⑭ ドーナツ化

⑮ 人口が減少し、社会生活を維持するのが難しい地域を_____地域という。

⑮ 過疎