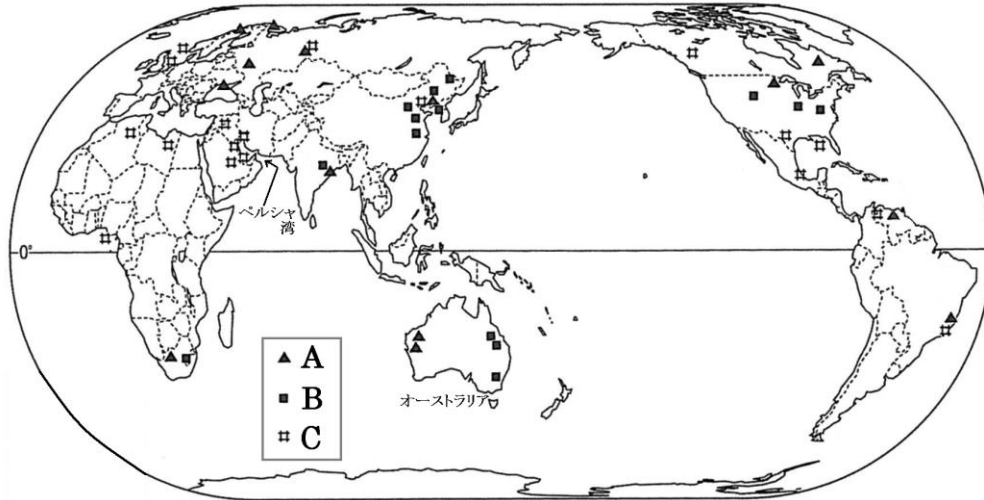


# 世界の資源と日本

## 【解説】流れ 教科書の重要キーワードをチェックした後、下の問題へ！

### ● かたよる資源の分布



オーストラリアの左側に分布

A 鉄鉱石

オーストラリアの右側に分布

B 石炭

ペルシヤ湾に集中

C 石油(原油)

### ● おもな資源の産出上位国 → 特色ある国をチェックしよう

石油 42.3億kL	ロシア	13.4%	12.2	6.8	
	サウジアラビア				

石炭 49.4億t	中国	51.1%	10.2	9.2	
	アメリカ				

鉄鉱石 9.5億t	ブラジル	22.3%	20.5	18.1	
	オーストラリア				

石油は2008、石炭は2007、鉄鉱石は2006年



### ● 日本の資源の輸入先 → 産出上位国との違いに注目！

石油 122788億円	サウジアラビア	28.7%	25.3	11.6	10.6	6.9
	カタール					

石炭 17405億円	オーストラリア	62.5%	13.7	8.1	
	インドネシア				

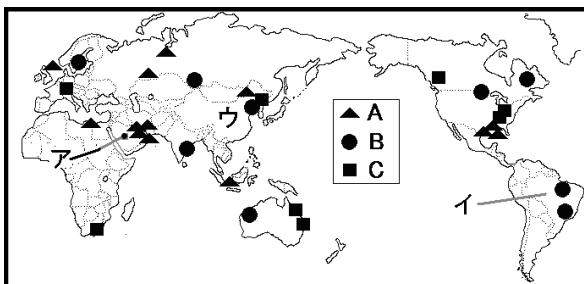
鉄鉱石 10375億円	オーストラリア	52.4%	25.4	6.1	
	ブラジル				



# 【教科書の重要語句】《一問一答》問題文ごと暗記しよう！

- ① オーストラリアの東側(右側)に多く分布している資源は\_\_\_\_\_である。 ① \_\_\_\_\_
- ② 西アジアのペルシヤ湾で多く産出される資源は\_\_\_\_\_である。 ② \_\_\_\_\_
- ③ 鉄鉱石の産出量が世界一の国は\_\_\_\_\_である。 ③ \_\_\_\_\_
- ④ 石油の産出量が世界一の国は\_\_\_\_\_である ④ \_\_\_\_\_
- ⑤ 石炭の産出量が世界一の国は\_\_\_\_\_である。 ⑤ \_\_\_\_\_

⑥ 次の地図A～Cは主な資源の分布図、ア～ウは主な資源の産出量が世界有数の国である。A～Cの資源名とア～ウにあてはまる国名をそれぞれ書きなさい。

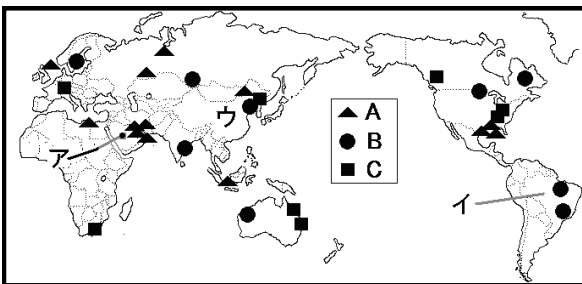


- A \_\_\_\_\_ B \_\_\_\_\_
- C \_\_\_\_\_
- ア \_\_\_\_\_ イ \_\_\_\_\_
- ウ \_\_\_\_\_

- ① 日本がオーストラリア・ブラジル・インドなどから多く輸入している鉱産資源は\_\_\_\_\_である。 ① \_\_\_\_\_
- ② オーストラリア・インドネシア・中国・南アフリカなどから輸入している鉱産資源は\_\_\_\_\_である。 ② \_\_\_\_\_
- ③ サウジアラビア・アラブ首長国連邦などから輸入している鉱産資源は\_\_\_\_\_である。 ③ \_\_\_\_\_

# 解答 【教科書の重要語句】《一問一答》問題文ごと暗記しよう！

- ① オーストラリアの東側(右側)に多く分布している資源は\_\_\_\_\_である。 ① 石炭
- ② 西アジアのペルシヤ湾で多く産出される資源は\_\_\_\_\_である。 ② 石油
- ③ 鉄鉱石の産出量が世界一の国は\_\_\_\_\_である。 ③ ブラジル
- ④ 石油の産出量が世界一の国は\_\_\_\_\_である ④ ロシア
- ⑤ 石炭の産出量が世界一の国は\_\_\_\_\_である。 ⑤ 中国
- ⑥ 次の地図A～Cは主な資源の分布図、ア～ウは主な資源の産出量が世界有数の国である。A～Cの資源名とア～ウにあてはまる国名をそれぞれ書きなさい。



- A 石油 B 鉄鉱石
- C 石炭
- ア サウジアラビア イ ブラジル
- ウ 中国

- ① 日本がオーストラリア・ブラジル・インドなどから多く輸入している鉱産資源は\_\_\_\_\_である。 ① 鉄鉱石
- ② オーストラリア・インドネシア・中国・南アフリカなどから輸入している鉱産資源は\_\_\_\_\_である。 ② 石炭
- ③ サウジアラビア・アラブ首長国連邦などから輸入している鉱産資源は\_\_\_\_\_である。 ③ 石油（原油）