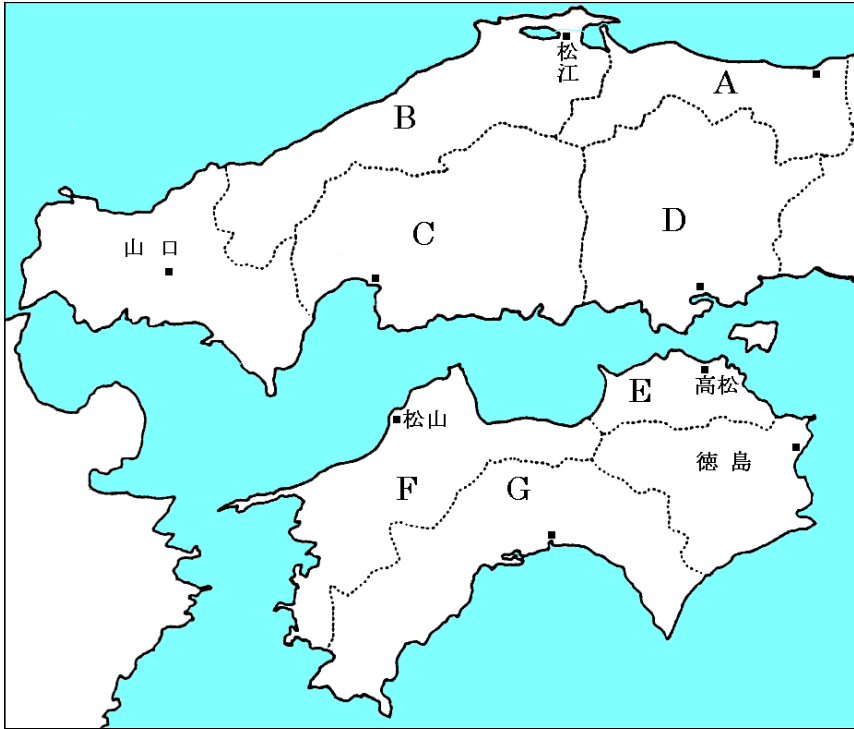


中国・四国地方

【解説】流れ 教科書の重要キーワードをチェックした後、問題へ！

● 県名の確認



A 人口が最も少ない

鳥取県

B A県と同様、過疎化が進む

島根県

C 中国・四国地方の中心県

広島県

D 臨海部で工業が発達

岡山県

E 面積が一番小さい

香川県

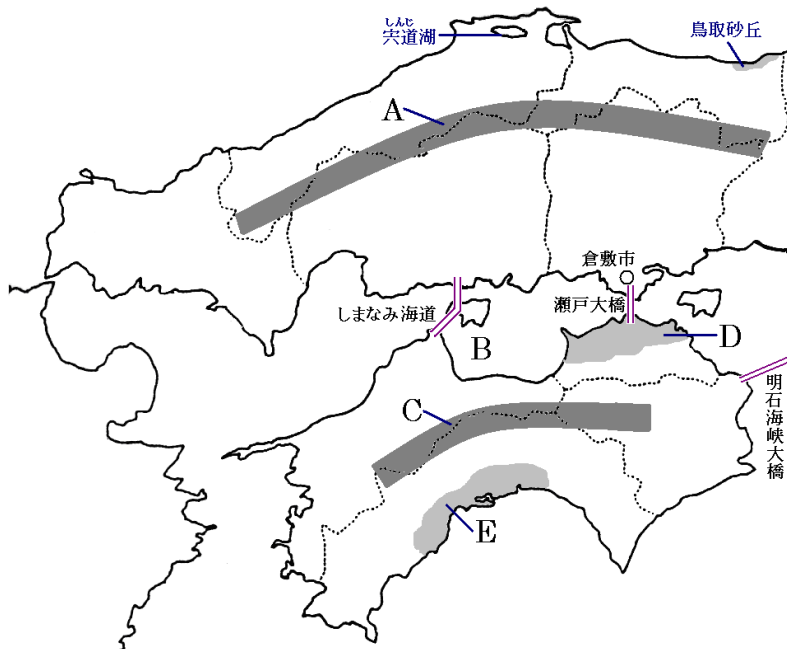
F みかんの生産がさかん

愛媛県

G 野菜の促成栽培が盛ん

高知県

● 主な地形



A この山地を境に山陽と山陰に分かれる

中国

山地

B 波のおだやかな海

瀬戸内海

C 四国地方の山地

四国

山地

D 降水量の少ない

讃岐

平野

E 温暖な気候で野菜の栽培が盛んな平野

高知

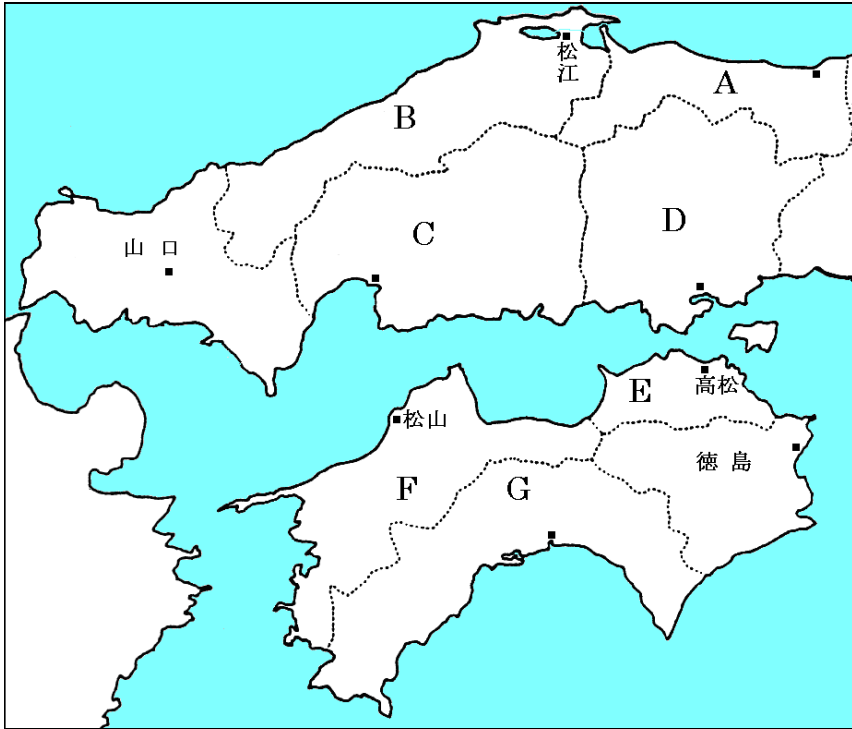
平野

F しまなみ海道・瀬戸大橋・明石海峡の3つをあわせて

本州四国連絡橋

【教科書の重要語句】《一問一答》問題文ごと暗記しよう！

● 県名の確認



A 人口が最も少ない

B A県と同様、過疎化が進む

C 中国・四国地方の中心県

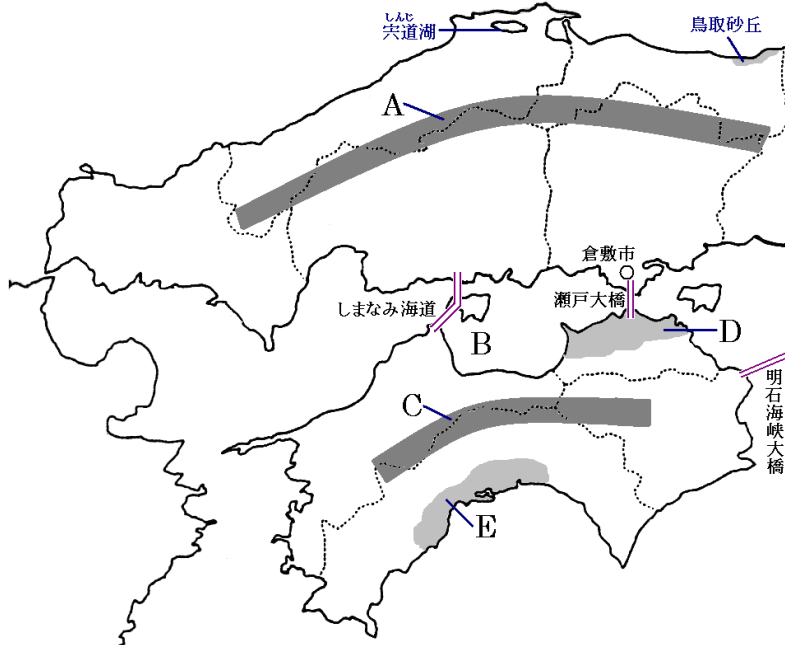
D 臨海部で工業が発達

E 面積が一番小さい

F みかんの生産がさかん

G 野菜の促成栽培が盛ん

● 主な地形



A この山地を境に山陽と山陰に分かれる

山地

B 波のおだやかな海

山地

C 四国地方の山地

D 降水量の少ない

平野

E 温暖な気候で野菜の栽培が盛んな平野

平野

F しまなみ海道・瀬戸大橋・明石海峡の3つをあわせて

解答 前のページそのまま

中国・四国地方②

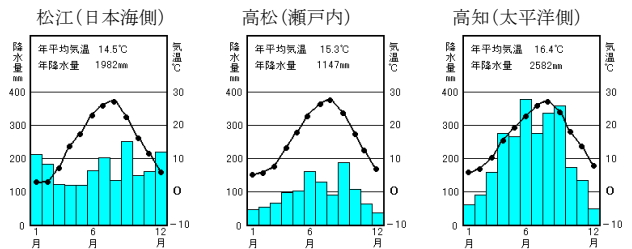
【解説】流れ 教科書の重要キーワードをチェックした後、問題へ！



● 中国四国地方の気候の違い

島根県松江市と香川県高松市、高知市を比べてみよう！

グラフを見ると、高松(讃岐平野)にため池が多い理由がわかる



● 中国四国地方の産業

・**農業**・・・鳥取の梨やらっきょう、岡山のぶどう、愛媛の① みかん、高知でナスなどの② 促成 栽培

・**漁業**・・・瀬戸内海は波が穏やかなのでいけすによる③ 養殖 が盛ん。広島④ かき は有名

・**工業**・・・⑤ 瀬戸内工業地域・・・1960年代に阪神工業地帯の工場が広い用地をもとめて移転
倉敷市の水島地区に⑥ 石油化学コンビナート が建設される

● その他

・① 過疎 化・・・高齢者の割合が多く、生活が困難になる現象。山間部や離島で進行

・② 広島 市・・・中国・四国地方の中心となる地方中枢都市。過密問題に直面

・③ ストロー 現象・・・交通網の整備の結果、大都市へ人が吸いよせられる現象。本州四国連絡橋開通の影響

【教科書の重要語句】《一問一答》問題文ごと暗記しよう！

- ① 愛媛県では_____の栽培が盛んで全国でも上位である。 ① _____
- ② 高知ではナスなどの野菜の_____栽培が盛んだ。 ② _____
- ③ 瀬戸内海は波が穏やかなので_____が盛んにおこなわれている。 ③ _____
- ④ ③の中でも、広島県の_____は有名だ。 ④ _____
- ⑤ 瀬戸内海沿岸の工業地帯を_____工業地域とよぶ。 ⑤ _____
- ⑥ 倉敷市の水島地区では_____が建設された。 ⑥ _____
- ⑦ 高齢者の割合が多く、生活が困難になる現象を_____という。 ⑦ _____
- ⑧ 中国・四国地方の地方中枢都市は_____市ある。 ⑧ _____
- ⑨ 瀬戸大橋・明石海峡大橋・しまなみ海道をまとめて_____という。 ⑨ _____
- ⑩ 交通網の整備の結果、大都市へ人が吸い寄せられる現象を_____現象という。 ⑩ _____
- ⑪ 中国地方の日本海側は_____の降水量が多い。 ⑪ _____
- ⑫ 瀬戸内海沿岸は年間を通して降水量が_____。 ⑫ _____

解答

- ① みかん
② 促成
③ 養殖
④ かき
⑤ 瀬戸内
⑥ 石油化学コンビナート
⑦ 過疎化
⑧ 広島
⑨ 本州四国連絡橋
⑩ ストロー
⑪ 冬
⑫ 少ない