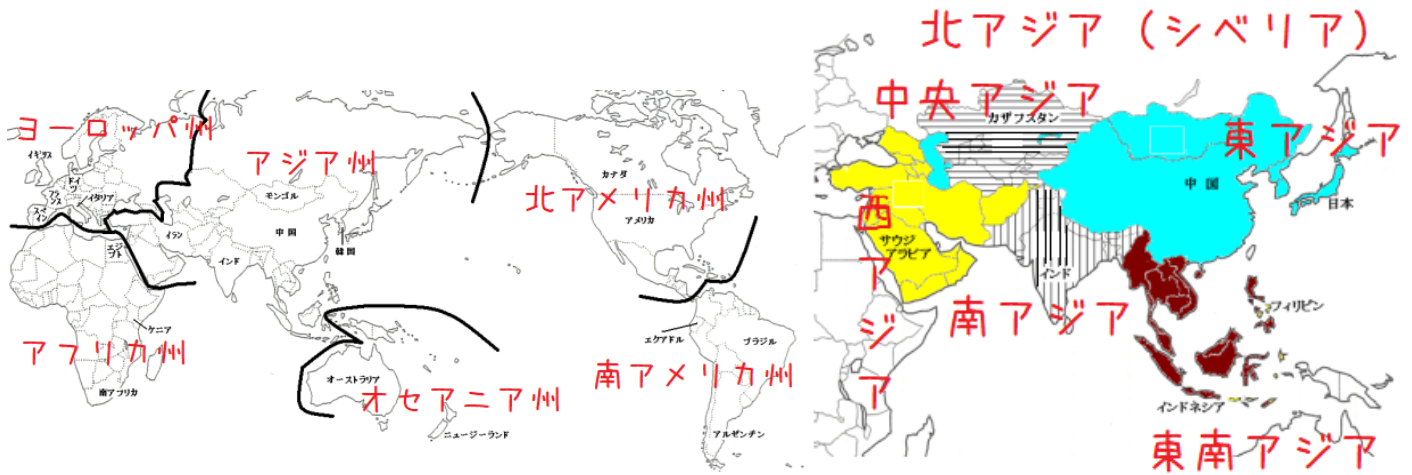


単元:世界の州

【解説】教科書の重要キーワードをチェックした後、問題へ！

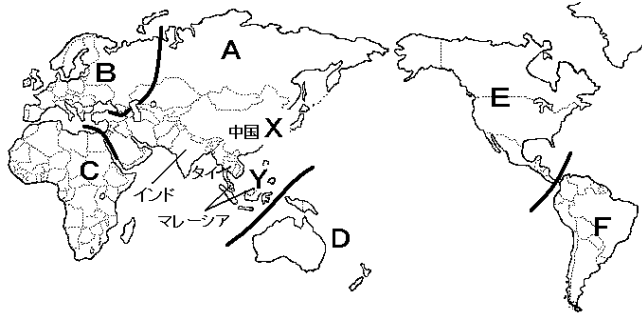


● 世界の国のまとめ

- 面積の広い国ベスト5 →① ロシア・カナダ・アメリカ・中国・ブラジル
- 人口の多い国ベスト3 →② 中国・インド・アメリカ
- ニュージーランドのように周りを海に囲まれた国を③ 海洋国 (島国) という
- モンゴルのように海に面していない国を④ 内陸国 という
- エジプトは⑤ 緯線 と 経線 で国境が引かれている。理由は 19～20 世紀にヨーロッパに植民として、分割支配されたため。

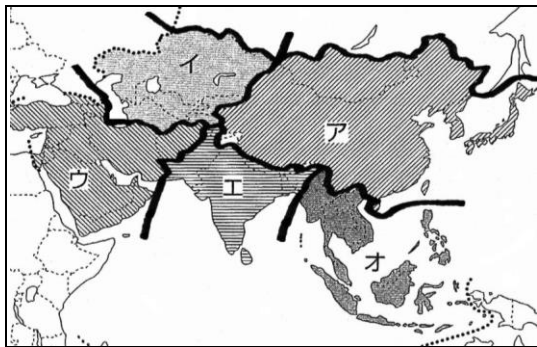
【一問一答】問題文ごと暗記しよう！《教科書の重要語句》

① 次のA～Fの州名を答えなさい。また、Aの州を細かく分けた場合、XとYの地域は何とよばれるか、書きなさい。



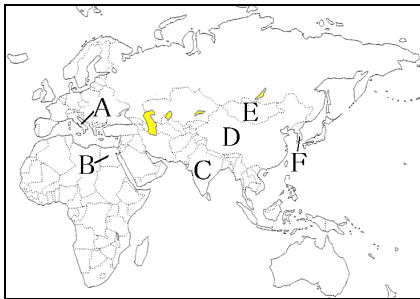
A B
 C D
 E F
 X Y

② アジア州をこまかく分けたとき、次のア～オの地域は何とよばれるか、それぞれ書きなさい。



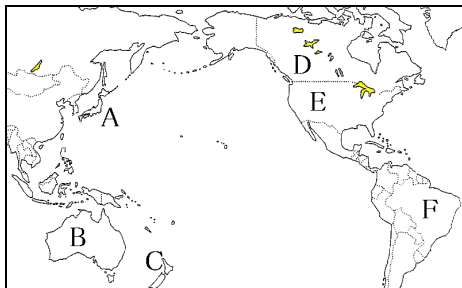
ア イ
 ウ エ
 オ

③ 次のA～Fの国名を答えなさい。



A B
 C D
 E F

④ 次のA～Fの国名を答えなさい。



A B
 C D
 E F

⑤ フィリピンやニュージーランドのように周りを海で囲まれた国を_____という。

⑧

⑥ スイスやモンゴルのように海に面していない国を_____という。

⑨

⑦ アフリカの国境は自然によるものではなく、_____で引かれている場合が多い。

⑩

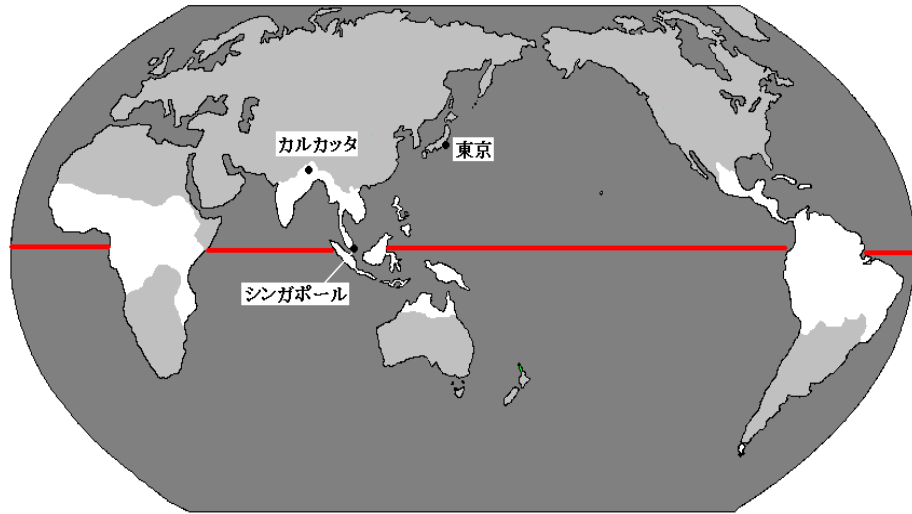
⑧ ⑦の理由は、19世紀～20世紀前半に_____の国々がアフリカを分割支配したためだ。

⑪

単元：世界の気候(熱帯)

【解説】教科書の重要キーワードをチェックした後、問題へ！

熱帯の地域をチェック



●位置の特徴

① 赤道 の周辺

●気候の特徴

②年間を通して、
(気温が高い 気温が低い)

③年間の降水量が、
(多い 少ない)

●テストによく出る写真・資料

A 熱帯雨林



B サバナ



乾季があるので森林は発達しない

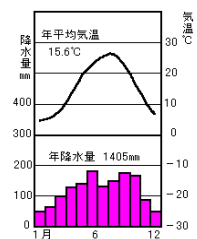
C 熱帯の住居



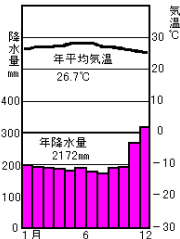
D 服(インドのサリー)



東京(比較用)

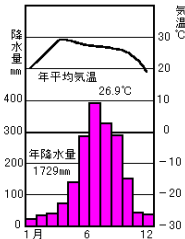


シンガポール



熱帯雨林気候

カルカッタ



サバナ気候
(乾燥する時期がある)

【一問一答】問題文ごと暗記しよう！《教科書の重要語句》

① 年間を通して気温が高く、降水量が多い気候を_____という。

① _____

② ①の気候はアフリカ・東南アジア・南アメリカの_____付近で見られる。

② _____

③ ①の気候を2つに分けたとき、年間を通して降水量が多い気候を_____という。

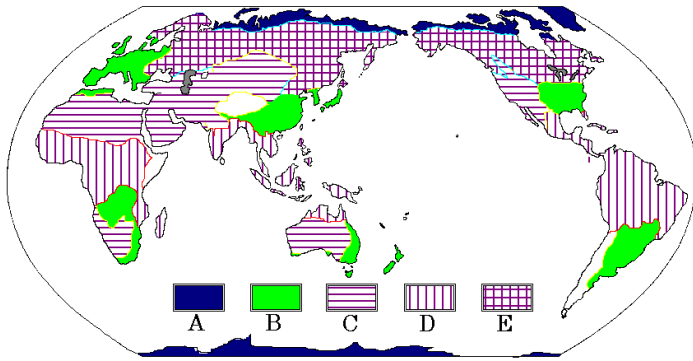
③ _____

④ ①の気候を2つに分けたとき、乾燥する時期がある気候を_____という。

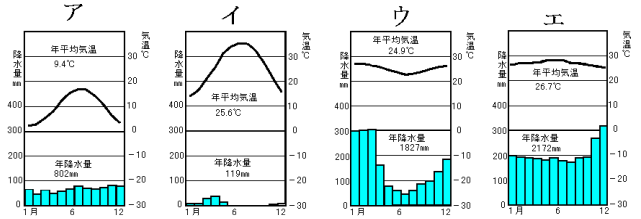
④ _____

B 地図と資料を見て答えなさい。

地図



資料



① 地図のA～Eの中から、熱帯の地域にあてはまるものを選びなさい。

① _____

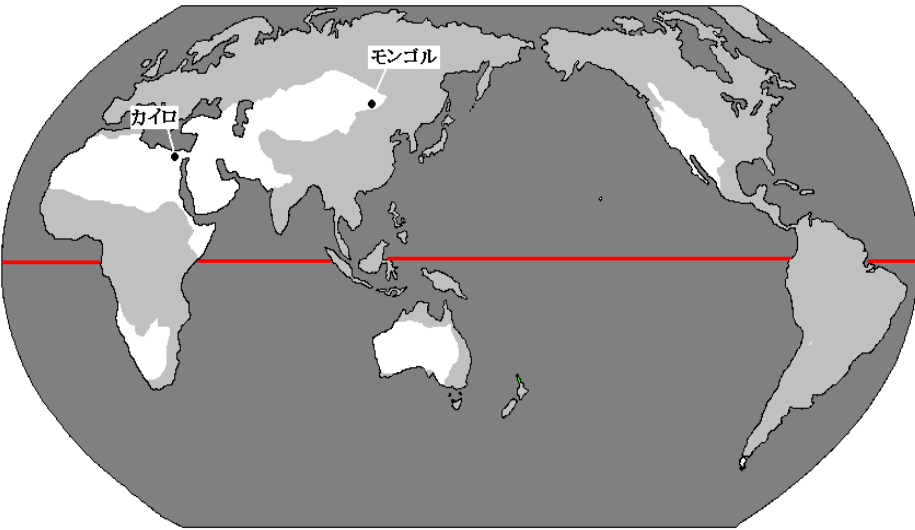
② 資料のア～エの中から、熱帯の気温と降水量のグラフを2つ、選びなさい。

② _____ と _____

単元：世界の気候(乾燥帯)

【解説】教科書の重要キーワードをチェックした後、問題へ！

乾燥帯の場所をチェック



●位置の特徴

① 熱帯 の周辺

●気候の特徴

暑い地域と寒い地域に分かれるが、とにかく年間の降水量が、

② (多い 少ない **非常に少ない**)

● テストによく出る写真・資料

A 砂漠とオアシス



B 乾燥帯の住居



C モンゴルの住居(ゲル)



D 家畜



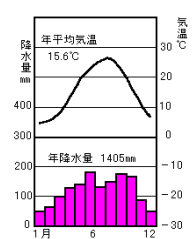
●人々の生活

① ゲルモンゴルの伝統的な住居。移動式のテント

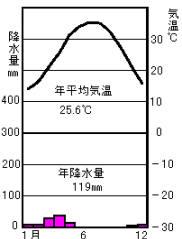
② 日干しレンガ砂漠地方の住居の材料

③ 遊牧(ゆうぼく)家畜を飼って生活すること。乾燥帯は農業に向かない

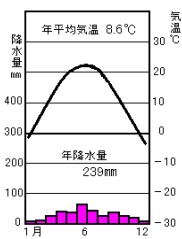
東京(比較用)



カイロ



モンゴルのある都市



【一問一答】問題文ごと暗記しよう！《教科書の重要語句》

① 年間の降水量が非常に少ない気候を_____という。

① _____

② ①の気候は砂漠気候と_____気候に分かれる。

② _____

③ モンゴルの伝統的な住居を_____という。

③ _____

④ 砂漠気候の住居の材料は_____で作られたものが多い。

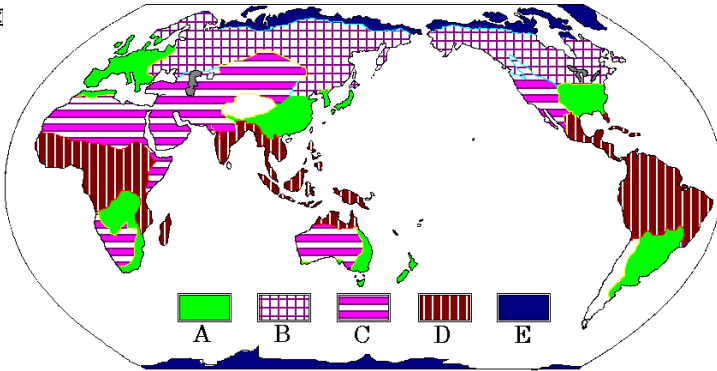
④ _____

⑤ 家畜を飼いながら移動する生活を_____という。

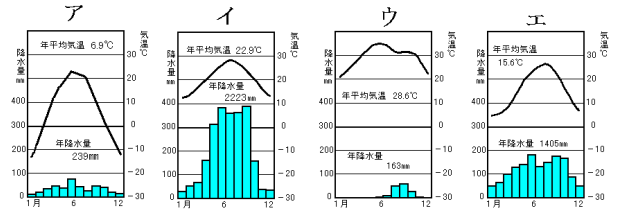
⑤ _____

D 地図と資料を見て答えなさい。

地区



資料



① 地図の A～E の中から、乾燥帯の地域にあてはまるものを選びなさい。

① _____

② 資料のア～エの中から、乾燥帯の気温と降水量のグラフを2つ、選びなさい。

② _____ と _____

単元：世界の気候(冷帯と寒帯)

【解説】教科書の重要キーワードをチェックした後、問題へ！

冷帯と寒帯の地域をチェック

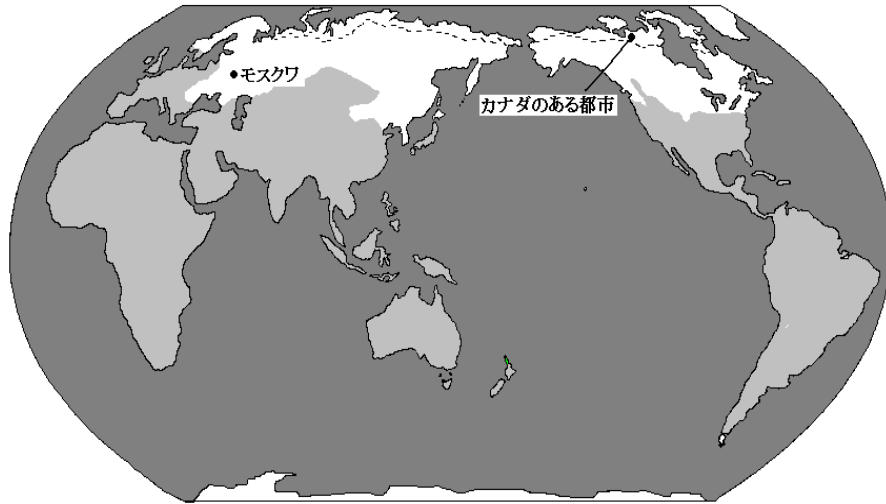
●位置の特徴

- ① ロシア と、
- ② カナダ の大部分の国土

●気候の特徴

冷帯は冬の気温が低い
夏と冬の③ 気温差 が激しい

・寒帯は④ 夏 の間だけ0度以上





● テストによく出る写真・資料

A こけの生えた土地

B 寒帯の住居(イグルー)

C 冷帯の針葉樹林(タイガ)

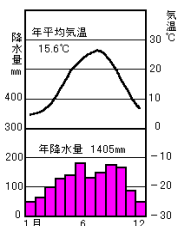
D ロシアの住居



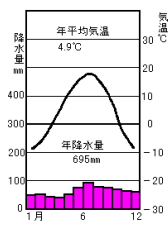
●重要語句

- ① ツンドラ ……寒帯の大地。夏の間、わずかにコケが生える。1年じゅう凍っている土地を永久凍土という
- ② インUIT ……カナダの寒帯で生活している人々。エスキモーと昔はよんだ。
- ③ イグルー ……雪や氷でつくった移動式の家
- ④ タイガ ……冷帯の針葉樹林
- ⑤ 白夜 ……北極に近い高緯度地域で見られる、日が沈まない現象

東京(比較用)

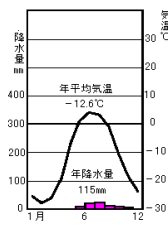


モスクワ



冷帯(亜寒帯)

カナダのある都市



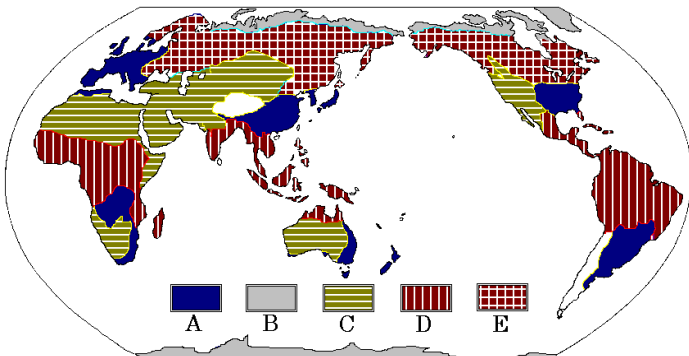
寒帯

【一問一答】問題文ごと暗記しよう！《教科書の重要語句》

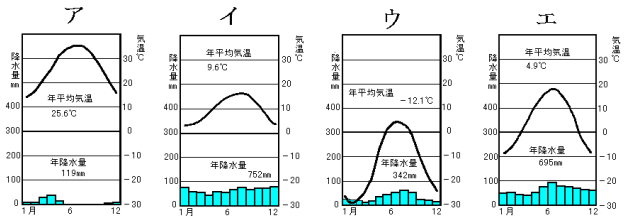
- ① 冬の寒さが厳しく、夏と冬の温度の差が激しい気候帯を_____という。 ① _____
- ② 寒帯の大地で夏の間わずかにコケ類が生える土地を_____という。 ② _____
- ③ 寒帯の大地で一年中凍りついている大地を_____という。 ③ _____
- ④ カナダなどの寒帯の地域でアザランなどをとって生活している人を_____という。 ④ _____
- ⑤ ④の人たちが狩りの時に一時的に生活する雪でできた家を_____という。 ⑤ _____
- ⑥ 冷帯の針葉樹林を_____とよぶ。 ⑥ _____
- ⑦ 冷帯の住居は主に_____で作られる。 ⑦ _____

地図と資料を見て答えなさい。

地図




資料



- ① 地図のA～Eの中から、冷帯の地域と寒帯の地域をそれぞれ選びなさい。 ① 冷帯 _____ 寒帯 _____
- ② 資料のア～エの中から、冷帯の地域と寒帯の地域をそれぞれ選びなさい。 ② 冷帯 _____ 寒帯 _____

次の①～④の中から冷帯と寒帯の地域に見られる風景を1つずつ選びなさい。

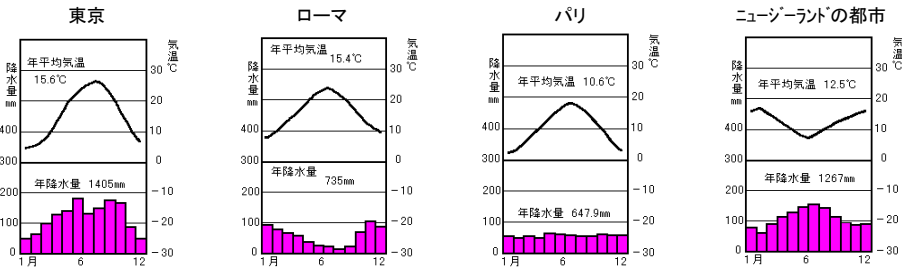


- 冷帯 _____
- 寒帯 _____

単元:世界の気候(温帯)

【解説】教科書の重要キーワードをチェックした後、問題へ！

どのような気候なのか確認



地中海沿岸の家

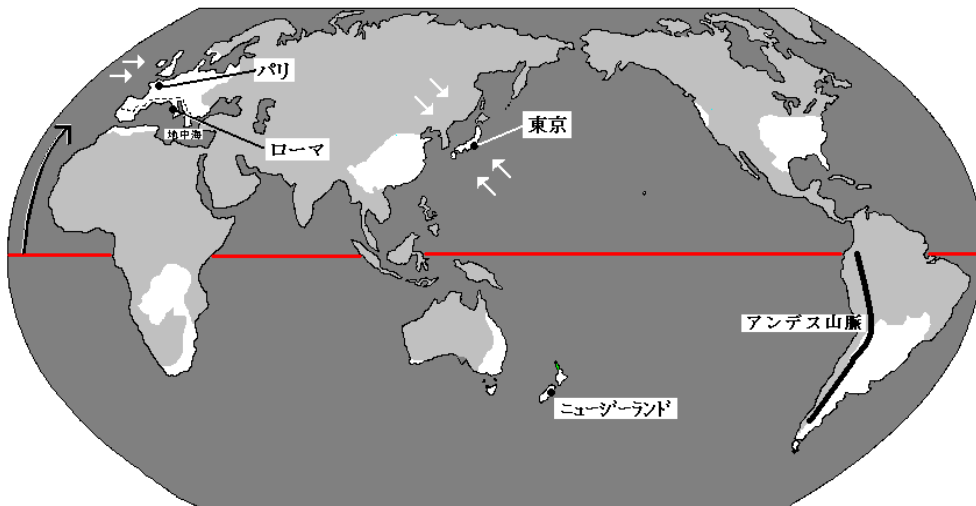


● 温帯の気候

- ① 温帯湿潤 (温暖湿潤) 季節風の影響により、夏に降水量が多い気候。日本やアジア、アメリカ東部など
- ② 地中海性気候 夏に乾燥する気候。ぶどうやオリーブなど乾燥に強い作物を栽培。イタリアなど地中海沿岸
- ③ 西岸海洋性気候 偏西風と暖流の影響で年間を通して降水量の変化が少ない。ヨーロッパ西部

南半球の温帯..... 季節が北半球と逆になる

温帯の地域をチェック



● 山に暮らす人々

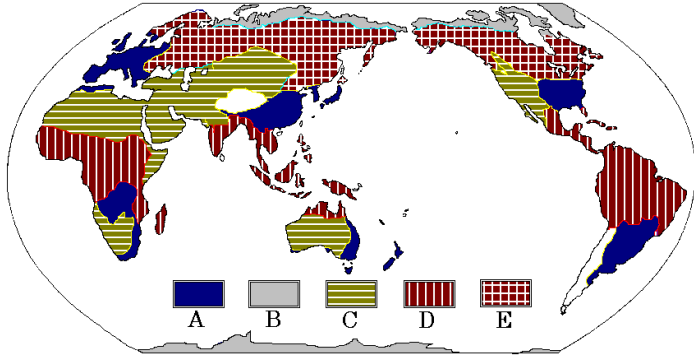
- ① アンデス山脈 南アメリカ大陸の西部の山脈。標高が高くなるほど気温は低い
- ② アルパカ アンデスで飼われている家畜。他、リャマなど
- ③ ポンチョ アンデスの伝統的な衣装。急な冷えこみに対応



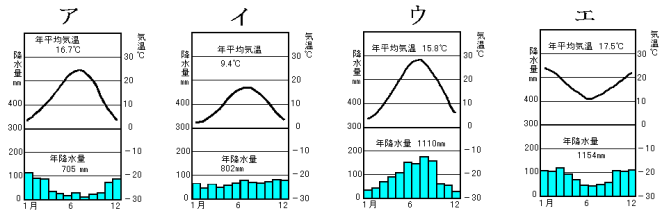
女性に人気

【一問一答】問題文ごと暗記しよう！《教科書の重要語句》

次の地図と資料を見て、各問いに答えなさい。



資料 温帯の気温と降水量のグラフ



- ① 資料の A～E のうち、温帯は_____である。 ① _____
- ② 資料のア～エのうち、南半球の気温と降水量をあらわすグラフは_____である。 ② _____
- ③ アのグラフは、夏に乾燥していると考えられるので、温帯の_____気候である。 ③ _____
- ④ イは年間を通して降水量に変化がみられないことから、温帯の_____気候である。 ④ _____
- ⑤ ウは夏の降水量が多いことから、温帯の_____気候である。 ⑤ _____

- ① 日本などで見られる温帯湿潤気候で夏に降水量が多いのは_____の影響である。 ① _____
- ② 西岸海洋性気候は北大西洋海流と_____の影響により、冬の気温が高めである。 ② _____
- ③ 地中海性気候は夏の時期を利用してぶどうやオレンジ、_____の栽培が盛んだ。 ③ _____
- ④ 地中海性沿岸の住居は_____色の壁が多い。強い日差しを反射させるためだ。 ④ _____

- ① 南アメリカ大陸には南北につらなる_____がある。 ① _____
- ② 一般に標高が高くなるほど、気温は_____なる。 ② _____
- ③ アンデス山脈の高地で生活する人々の伝統的な衣装は_____である。 ③ _____
- ④ アンデス山脈ではリャマや_____が飼育されている。 ④ _____

単元：世界の宗教

【解説】教科書の重要キーワードをチェックした後、問題へ！

● 分布

- ① 信者23億人。最も信者が多い

キリスト教

- ② 信者15億人。北アフリカ～西アジアやインドネシアに分布

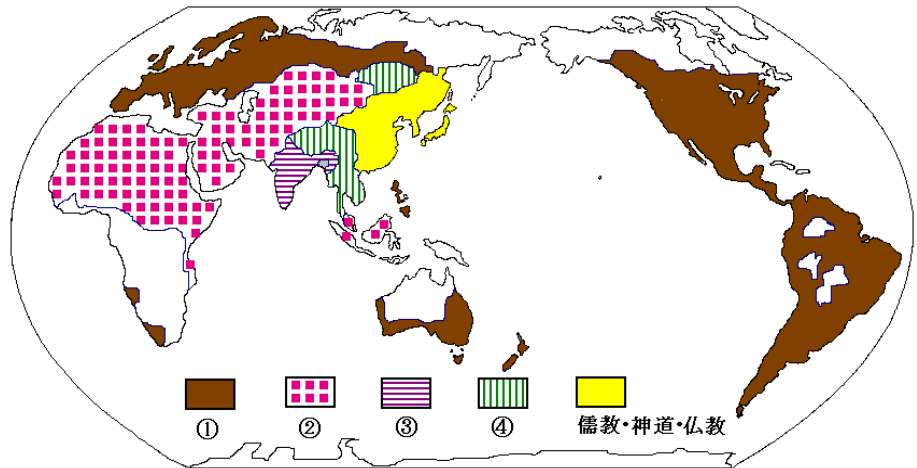
イスラム教

- ③ インドの民族宗教。約9億人が信仰

ヒンドゥー教

- ④ 信者5億人。東・東南アジアに分布

仏教



● 各宗教の特色

・キリスト教

- ① 聖書キリスト教の教典。日曜日は祝日で、教会に行き礼拝する

・イスラム教

- ② コーランイスラム教の教典。決まりごとが多くある



豚肉・酒の禁止。1日5回の礼拝。イスラム暦の9月(ラマダン)に断食

- ③ チャドルイスラム教の女性が着用する衣服。砂やほこりを防ぐためでもある



・仏教

釈迦しゃかが開いた。教典は経いんが(お経)。物事には必ず因果(原因と結果)がある

・ヒンドゥー教

- ④ 牛大切にされている家畜。食べてはいけない。



その他、頭をなでない。左手をなるべく使わない。

ガンジス川もくよくで沐浴する、など



● 日本は？

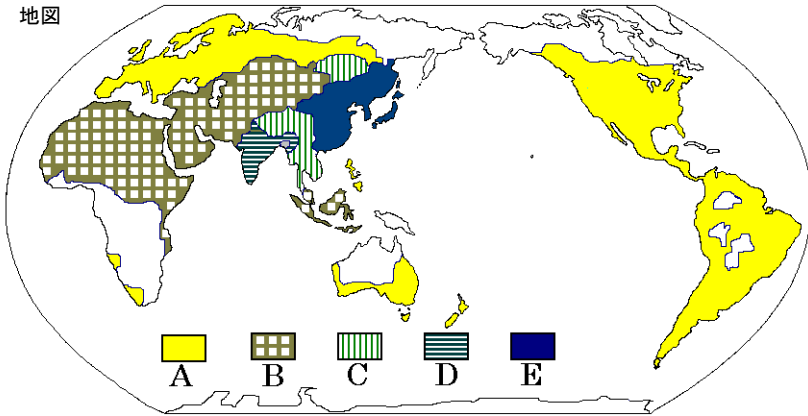
さまざまな宗教をとりいれている人が多い。七五三しんとうは神道。結婚式はキリスト教。葬式は仏教などの行事

【一問一答】問題文ごと暗記しよう！《教科書の重要語句》

- ① ヨーロッパや南北アメリカなど、世界中に約 23 億人の信者がいるのは_____教である。 ① _____
- ② インドを中心に約 9 億人の信者がいるのは_____教である。 ② _____
- ③ 西アジアや北アフリカ・インドネシアを中心に約 15 億人の信者がいるのは_____教だ。 ③ _____
- ④ 釈迦が開いた宗教を_____という。 ④ _____
- ⑤ イスラム教の教典を_____という。 ⑤ _____
- ⑥ キリスト教の教典を_____という。 ⑥ _____
- ⑦ イスラム教の女性信者が身につける衣服を_____という。 ⑦ _____
- ⑧ ヒンドゥー教では_____は神の使いとされ、大切に扱われている。 ⑧ _____
- ⑨ イスラム教では_____は不浄な生き物とされ、食することが禁止されている。 ⑨ _____

次の地図と資料を見て、各問いに答えなさい。

地図



資料1



資料2



資料3

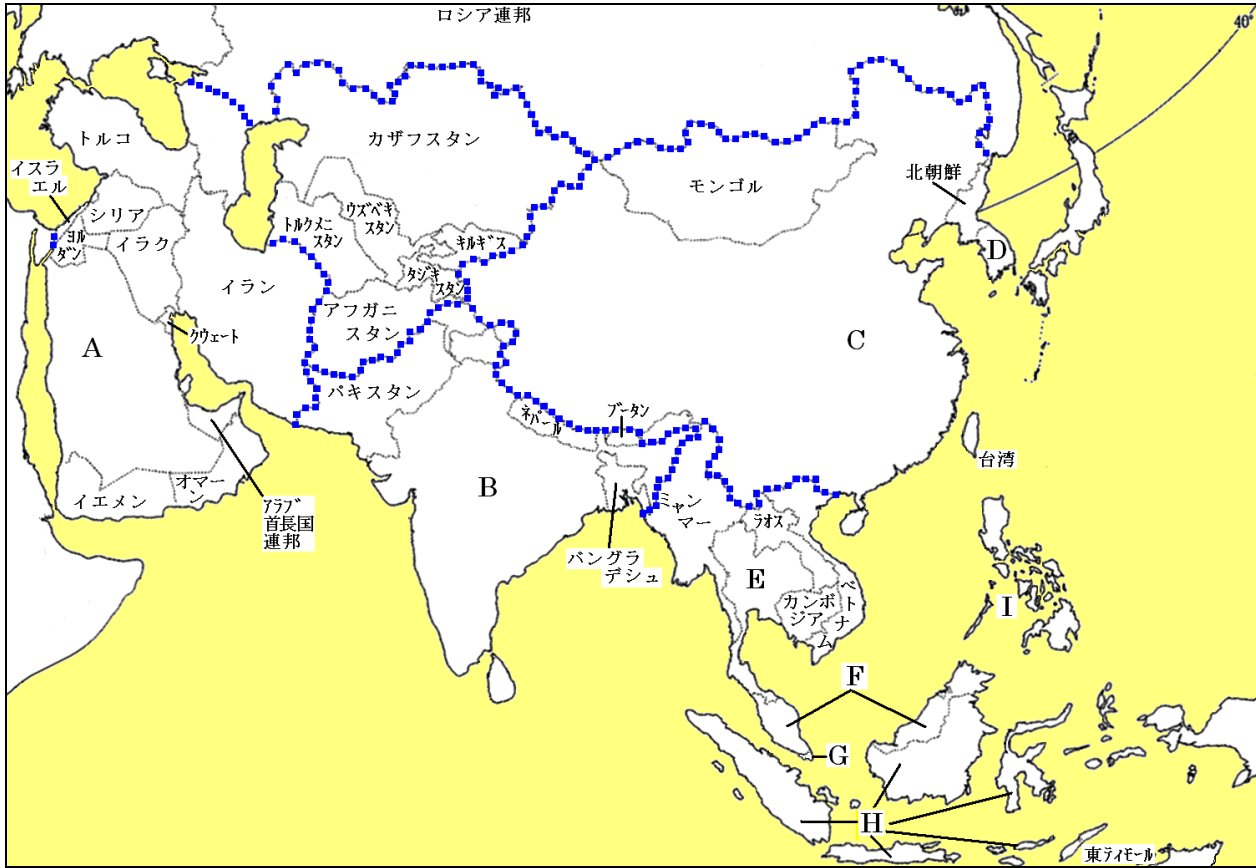


- ① 地図の A～E のうち、イスラム教の分布は_____である。 ① _____
- ② 地図の A～E のうち、キリスト教の分布は_____である。 ② _____
- ③ 地図の A～E のうち、仏教の分布は_____である。 ③ _____
- ④ 地図の A～E のうち、ヒンドゥー教の分布は_____である。 ④ _____
- ⑤ 地図の A～E のうち、資料1のような光景が見られるのは_____である。 ⑤ _____
- ⑥ 地図の A～E のうち、資料2のような光景が見られるのは_____である。 ⑥ _____
- ⑦ 地図の A～E のうち、資料3のような光景が見られるのは_____である。 ⑦ _____

単元：アジア州①

【解説】教科書の重要キーワードをチェックした後、問題へ！

● 地図で確認 国名



- | | | |
|-----------------------------------|----------------------------|--------------------------------------|
| A 石油の産出量が多い国
サウジアラビア | B 人口世界2位。BRICsの1つ
インド | C 人口世界1位。世界の工場といわれている。BRICsの1つ
中国 |
| D アジア NIESの1つ。工業が発達
韓国 | E 米の輸出货量世界一。仏教を信仰
タイ | F イスラム教を信仰。工業が発達
マレーシア |
| G せまいがアジア NIESの1つ。工業が発達
シンガポール | H イスラム教を信仰。資源が豊富
インドネシア | I バナナが有名。島国
フィリピン |

● 人口

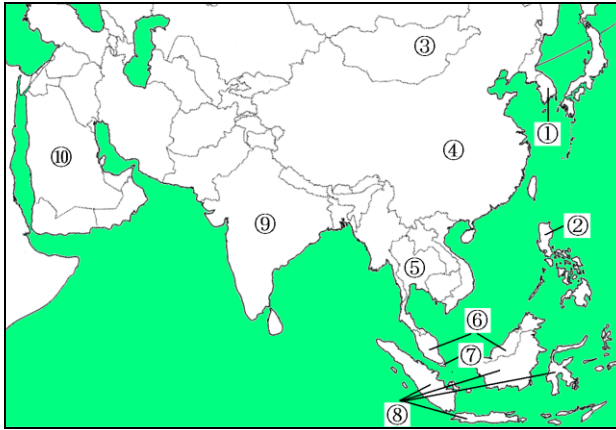
→ 世界の約① 6 割の人々が生活。人口10億人以上の国は② 中国 と③ インド

● 国や地域どうしの結びつき

- ④ ASEAN 東南アジア諸国連合の略。タイやマレーシアなど東南アジアの国々が結成
- ⑤ NIES 新興工業経済地域の略。韓国やシンガポール、台湾などは工業が急速に発達
- ⑥ OPEC 石油輸出機構の略。サウジアラビアなどが加盟

【一問一答】問題文ごと暗記しよう！《教科書の重要語句》

国名の確認



- | | | | |
|---|-------|---|-------|
| ① | | ② | |
| ③ | | ④ | |
| ⑤ | | ⑥ | |
| ⑦ | | ⑧ | |
| ⑨ | | ⑩ | |

- | | | |
|--|---|-------|
| ① 2011年時点で、世界の人口は70億人で、その_____割をアジアでしめる。 | ① | |
| ② 人口が10億人以上の国は中国と_____である。 | ② | |
| ③ タイやマレーシア、インドネシアなどをつくる東南アジア諸国連合の略は_____である。 | ③ | |
| ④ 韓国、台湾、シンガポールなどアジアの中で工業が急速に発達した地域を_____という。 | ④ | |
| ⑤ サウジアラビアやアラブ首長国連邦などが加盟する石油輸出国機構の略を_____という。 | ⑤ | |

単元：アジア州②

【解説】教科書の重要キーワードをチェックした後、問題へ！

● 主な地形

A 中国の大河の1つ。世界5位の長さ

黄河

B 長さ世界3位

長江

C 東南アジアで最も長い川

メコン川

D ヒンドゥー教の聖なる川

ガンジス川

E 世界で最も高い山脈

ヒマラヤ山脈

F Eの山脈の前に広がる高原

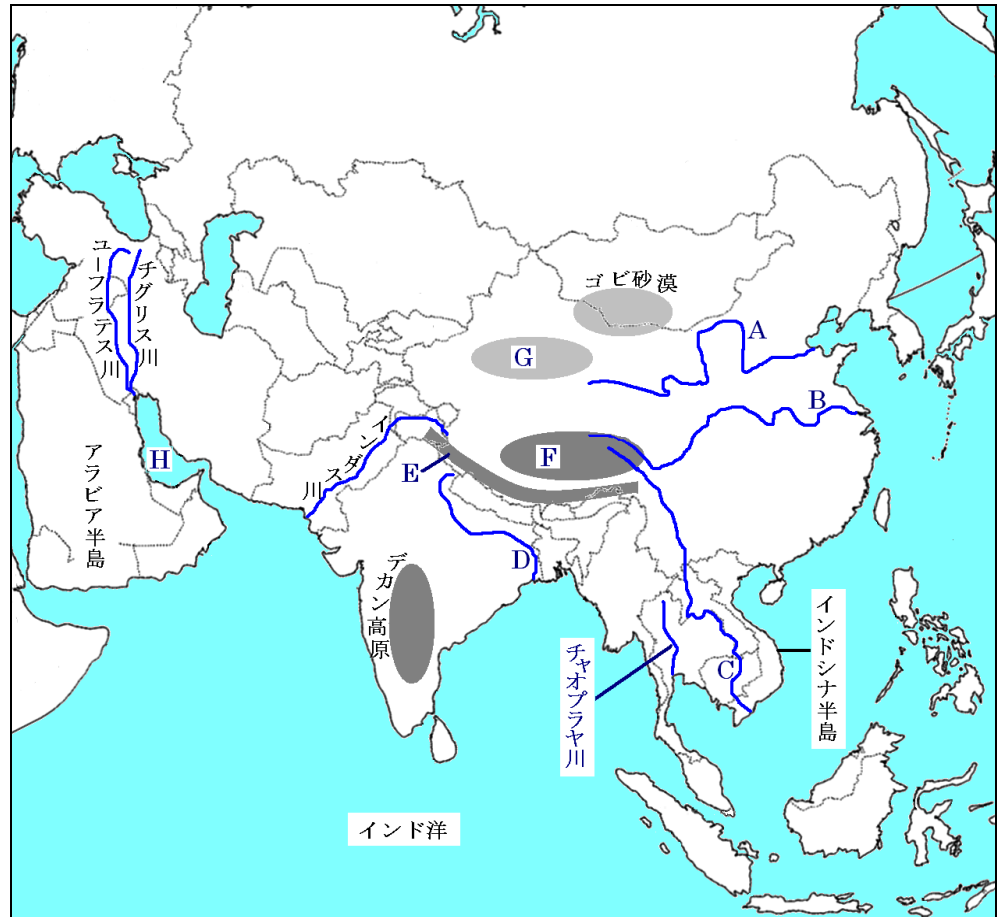
チベット高原

G 中国の西部に広がる砂漠

タクラマカン砂漠

H 大量の石油が眠っている湾

ペルシャ湾



● 覚えよう

① 経済特区 ……中国が工業の発展のために外国企業を受け入れるための特別区。シェンチェンなど

② 華人 ……東南アジアなどで活躍する中国系の人々

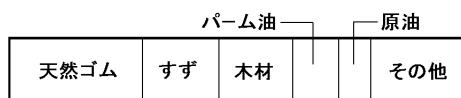
③ プランテーション ……東南アジアに見られる、欧米人が経営する輸出用の農園。ゴムやコーヒー、近年は油やし

④ 成長が著しいアジア ……アジアは人件費が安く、人口も多いため、ほとんどの国で工業化がすすんでいる。

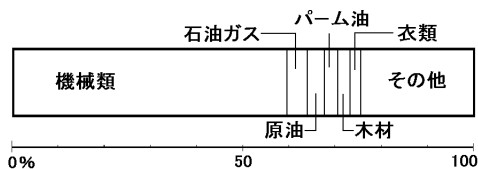
貿易品目のグラフはよくテストにできる

マレーシアの輸出品目の推移

1972年

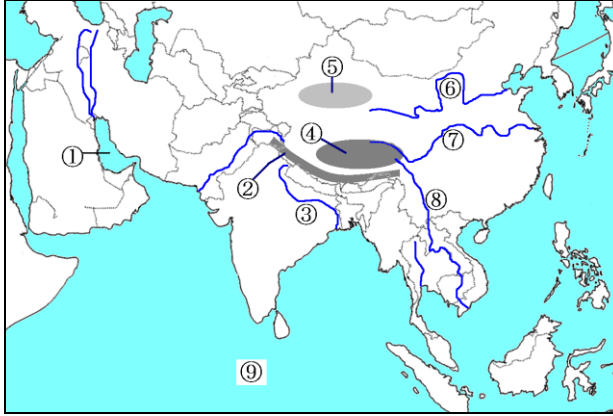


2006年



【一問一答】問題文ごと暗記しよう！《教科書の重要語句》

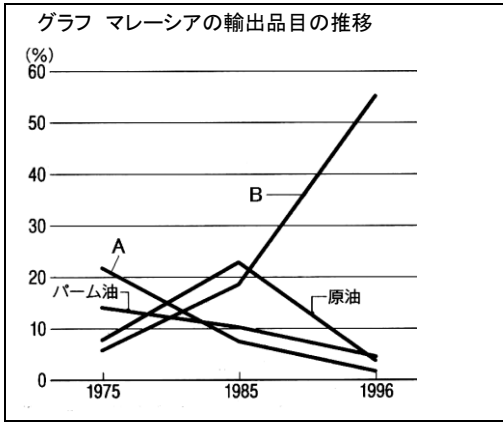
地形



- ①
- ②
- ③
- ④
- ⑤
- ⑥
- ⑦
- ⑧
- ⑨

- ① 中国が外国企業を受け入れるための特別区を_____という。 ①
- ② 東南アジアで活躍する中国系の人々を_____という。 ②
- ③ 東南アジアに見られる欧米人が経営する輸出用の農園を_____という。 ③
- ④ アジアは_____が安く、人口も多いため、外国の企業が進出している。 ④

2 次のグラフをみて、あとの各問いに答えなさい。



- (1) グラフのAはかつてマレーシアをはじめとして東南アジア各国で多く輸出されていたものである。これにあてはまるものを1つ選んで記号を書きなさい。 (1)
- ア 石炭 イ ダイヤモンド ウ オリーブ エ 天然ゴム
- (2) グラフのBにあたるものを1つ選んで記号を書きなさい。 (2)
- ア 鉄鋼 イ 機械類 ウ 石油化学製品 エ 食料品

単元：ヨーロッパ①

【解説】教科書の重要キーワードをチェックした後、問題へ！

● 地図で確認 国名



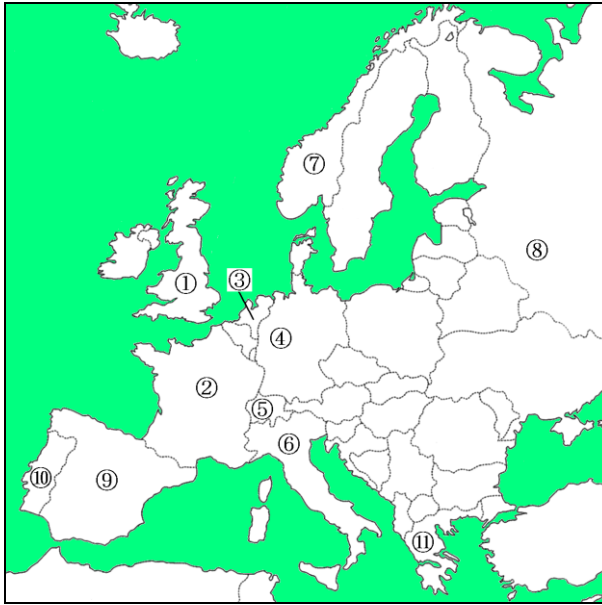
- A フィヨルドや白夜が見られる国。首都オスロ
ノルウェー
- B 経度0度の線が通る国。首都ロンドン
イギリス
- C 国土の4分の1は干拓地。首都アムステルダム
オランダ
- D ヨーロッパ最大の工業国。首都ベルリン
ドイツ
- E ヨーロッパ最大の農業国。首都パリ
フランス
- F 永世中立国。首都ベルン
スイス
- G ブドウやオリーブの生産が盛ん。首都ローマ
イタリア
- H 世界1広い国。資源が豊富。首都モスクワ
ロシア

● 人種と宗教

- ① ゲルマン 系……イギリスやドイツなどの北西部。キリスト教の宗派はプロテスタントが多い
- ② ラテン 系……フランスやイタリアなど。キリスト教の宗派はカトリックが多い
- ③ スラブ 系……ロシアやポーランドなど。キリスト教の宗派は正教会が多い

【一問一答】問題文ごと暗記しよう!《教科書の重要語句》

国名の確認



- | | |
|---------|---------|
| ① _____ | ② _____ |
| ③ _____ | ④ _____ |
| ⑤ _____ | ⑥ _____ |
| ⑦ _____ | ⑧ _____ |
| ⑨ _____ | ⑩ _____ |
| ⑪ _____ | |

- | | |
|--|---------|
| ① ノルウェーでは氷河によって海岸線がけずられた地形である_____が見られる。 | ① _____ |
| ② ノルウェーでは6月頃、一日中日が沈まない_____という現象が見られる。 | ② _____ |
| ③ _____の国土のおよそ4分の1は干拓地である。 | ③ _____ |
| ④ _____はヨーロッパで最も工業が発達している国である。 | ④ _____ |
| ⑤ _____はヨーロッパで最も農業がさかんな国である。 | ⑤ _____ |
| ⑥ アルプス山脈に面した_____は中立国という立場をとっている。 | ⑥ _____ |
| ① ドイツやイギリスなどヨーロッパ北部には、_____系の民族が多く住んでいる。 | ① _____ |
| ② ①系の民族はキリスト教の宗派では_____を信仰する人が多い。 | ② _____ |
| ③ スペインやイタリアなどのヨーロッパ南部には、_____系の民族が多く住んでいる。 | ③ _____ |
| ④ ③系の民族はキリスト教の宗派では_____を信仰する人が多い。 | ④ _____ |
| ⑤ ロシアなどの地域には_____系の民族が多く生活している。 | ⑤ _____ |

単元:ヨーロッパ②

【解説】教科書の重要キーワードをチェックした後、問題へ！

● 主な自然・地形

A 赤道付近から北上する海流

北大西洋海流

B 西から吹く風

偏西風

C 沿岸は夏に高温になり、乾燥する

地中海

D 石油を産出

北海

E 各国が水運に利用する河川

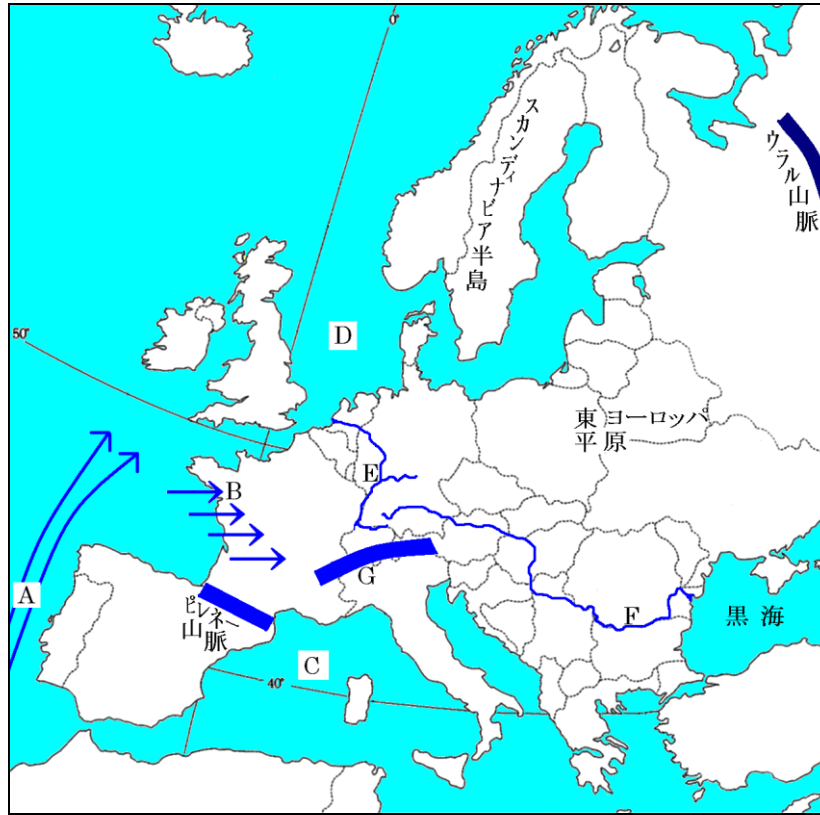
ライン川

F 河川

ドナウ川

G ヨーロッパを代表する険しい山脈

アルプス山脈



● 地域により異なる農業

① 地中海式農業 夏に乾燥する気候をいかしオリーブ・オレンジ・ブドウなどを栽培。イタリアなど

② 混合農業 小麦などの穀物栽培と家畜の飼育を組み合わせた農業。フランスやドイツなど

③ 酪農 家畜を飼育し、乳製品を生産する。ヨーロッパ北部で盛ん

● 国境を超えた統合

① EU ヨーロッパ連合の略称。現在 27 カ国が加盟。本部はベルギーの首都ブリュッセルにある

② ユーロ 共通の通貨



加盟国間のできること 国境の通過が自由。関税がかからない。仕事の資格、電気製品の規格も統一を進めている

課題点 加盟国ごとの経済格差。豊かな国とそうでない国で 10 倍以上の格差



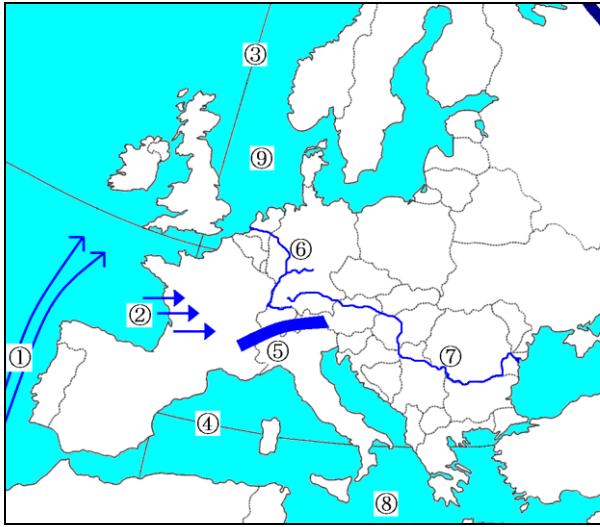
● 環境問題

① 酸性雨 工場や車から排出される硫酸化物や窒素酸化物が原因。偏西風にのり森林を枯らす

環境への取り組み リサイクルの徹底・パークアンドライド方式の導入・風力発電などの自然エネルギーの利用など

【一問一答】問題文ごと暗記しよう！《教科書の重要語句》

地形その他



① 海流名

.....

③ 0度の経線

.....

⑤ 山脈名

.....

⑦ 河川名

.....

⑨ 海の名称

.....

② 風の名称

.....

④ 北緯何度の線？

.....

⑥ 河川名

.....

⑧ 海の名称

.....

① フランスなどで見られる穀物栽培と家畜の飼育を合わせた農業を_____という。

①

② 家畜を飼育しチーズなどの乳製品を生産する農業を_____という。

②

③ イタリアなどで見られる夏に乾燥する気候をいかした農業を_____という。

③

① ヨーロッパ連合の略称は_____である。

①

② 加盟国の多くでは_____という共通の通貨を使用している。

②

③ 加盟国どうしでは貿易品にかかる_____がかからない。

③

④ 加盟国どうしでは_____の通過が自由だ。

④

⑤ ヨーロッパ連合の本部は_____のブリュッセルにある。

⑤

① 車や工場からの窒素や硫黄の酸化物が雨となり森林を枯らす環境問題は_____だ。

①

② ①は_____の影響で東部に大きな被害をもたらす。

②

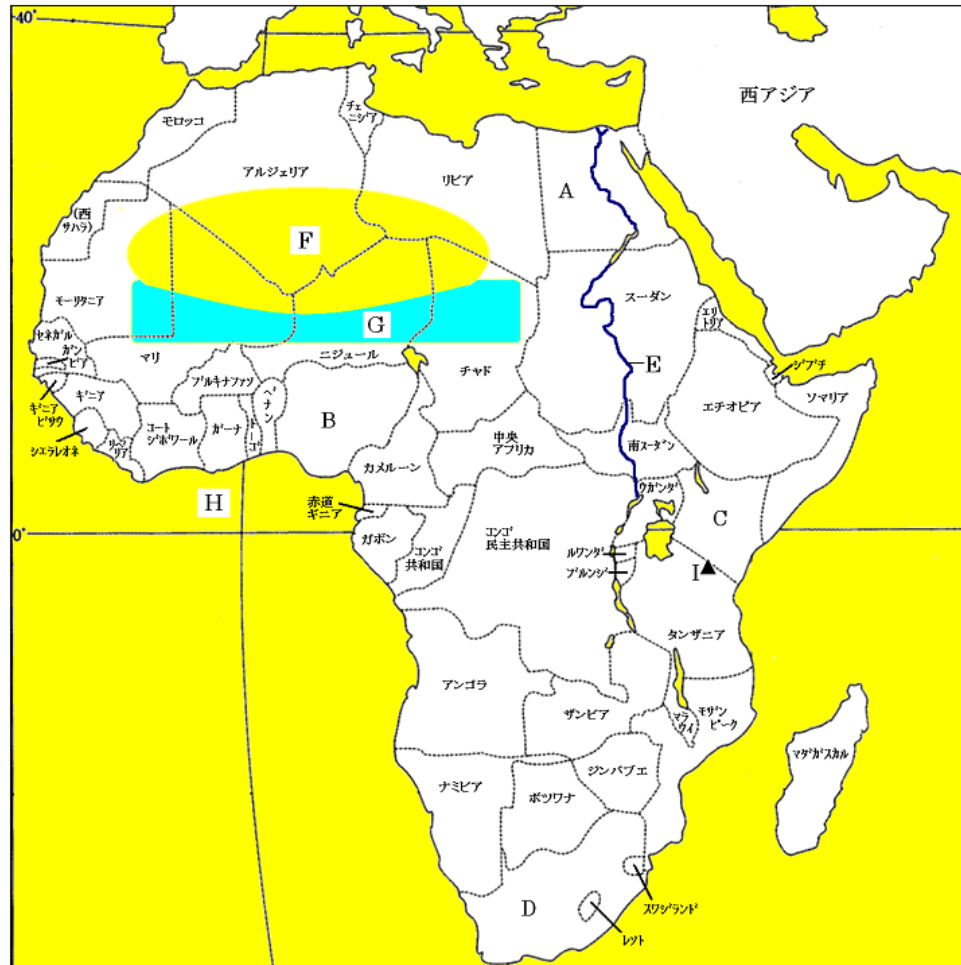
③ 郊外の駐車場に駐車し市内へは公共交通機関を利用する_____方式がよくみられる。

③

単元： アフリカ州

【解説】 教科書の重要キーワードをチェックした後、問題へ！

● 地図で確認 国名と地形



- A ピラミッドが有名。首都カイロ
エジプト
- B アフリカで人口が最も多い国。石油を多く産出
ナイジェリア
- C 野生動物が多く生息する国
ケニア
- D ダイヤモンド・金など資源が豊富。人種差別があった
南アフリカ
- E 世界一長い河川
ナイル川
- F 世界最大の砂漠
サハラ砂漠
- G 砂漠化が進行している地域
サヘル地帯
- H 赤道と本初子午線が交わる湾
ギニア湾
- I アフリカで一番高い山
キリマンジャロ山

● アフリカの歴史

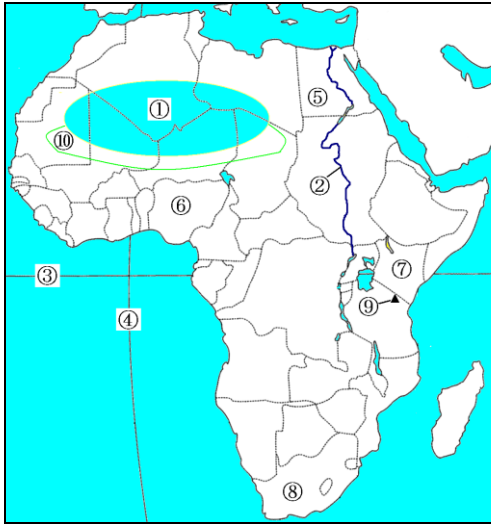
- ① アウストラロピテクス ……最古の人類。人類はアフリカで誕生したと考えられている
- ② アフリカの国境に直線が多いわけ …… ヨーロッパの国々が緯線・経線で国境を引いたため
- ③ アフリカの年 ……1960年は多くの国が独立をはたしたため、こうよばれている
- ④ アパルトヘイト ……南アフリカでかつておこなわれていた人種隔離政策。現在は廃止された

● 資源にたよる経済

- ① レアメタル ……産出量が少なく、価値のある金属のこと。アフリカには豊富にある
- ② モノカルチャー経済 ……特定の農作物や資源にたよる経済のこと。コートジボワールのカカオ豆やナイジェリアの石油など

【一問一答】問題文ごと暗記しよう！《教科書の重要語句》

A 国名と地形



① 砂漠名

.....

③ 緯度0度の線

.....

⑤ 国名

.....

⑦ 国名

.....

⑨ 火山名

.....

② 河川名

.....

④ 経度0度の線

.....

⑥ 国名

.....

⑧ 国名

.....

⑩ 砂漠化が進行

.....

B

① アフリカで発見された最古の人類を_____という。

①

② アフリカでおよそ20の国が独立し「アフリカの年」といわれているのは_____年だ。

②

③ アフリカの国境は_____や_____で引かれているところが多いため、直線が多い。

③

④ ③の理由は 20 世紀初頭に_____の国々が民族分布を無視して分割したためである。

④

⑤ 南アフリカでおこなわれていた人種隔離政策を_____という。

⑤

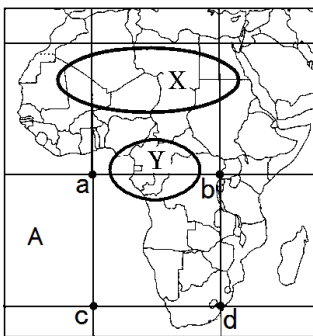
⑥ 産出量が少ない、価値のある金属を_____という。

⑥

⑦ 特定の資源や農作物の輸出にたよる経済を_____という。

⑦

2 次の地図をみて、あとの各問いに答えなさい。



(1) 地図のAは三大洋の一つである。Aの海洋の名称を書きなさい。

(1)

(2) 地図において、本初子午線と赤道が交わる点を1つ選んで記号を書きなさい。

(2)

(3) 地図の○で囲まれたXとYの地域の気候帯を書きなさい。

(3) X

Y

(4)

(4) 地図の国境線のなかには、かつてヨーロッパの国々が、そこに住む人々の生活範囲とは関係なく領土を分割していたことによる特徴がみられるものがある。その特徴とはどのようなことか、書きなさい。

.....

.....

単元:北アメリカ州①

【解説】教科書の重要キーワードをチェックした後、問題へ！

● 地図で確認 国名と都市

A 面積世界第二位の国

カナダ

B 国名

アメリカ

C とうもろこしが主食

メキシコ

D 険しい山脈

ロッキー山脈

E なだらかな山脈、石炭がとれる

アパラチア山脈

F 長さが世界第4位の河川

ミシシッピ川

G 5つの湖をまとめてこうよぶ

五大湖

H 石油が産出する湾

メキシコ湾

a 世界経済の中心地

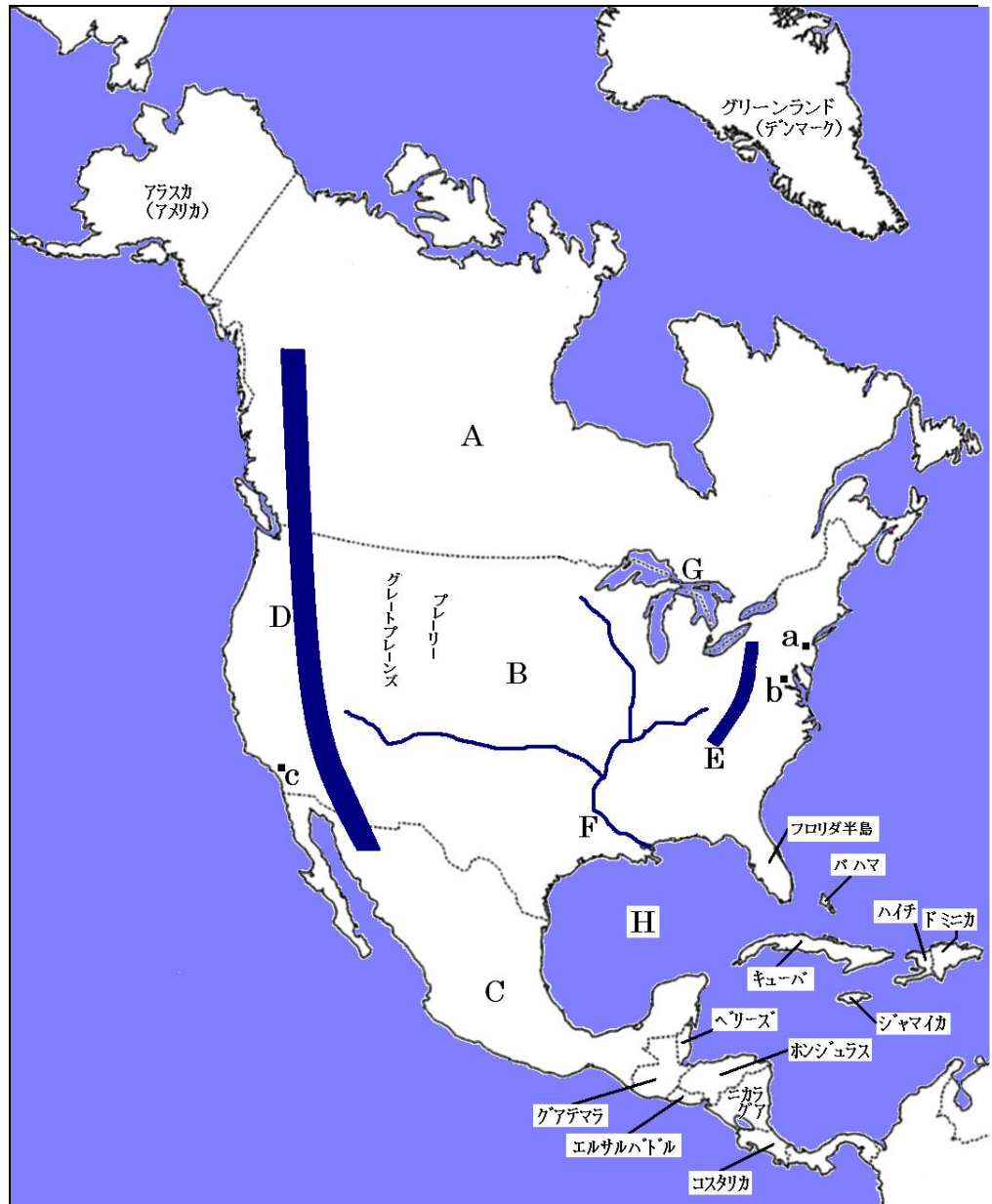
ニューヨーク

b アメリカの首都

ワシントン

c アメリカで2番目に大きい都市

ロサンゼルス



● 国どうしの結びつき

① NAFTA北米自由貿易協定の略称。

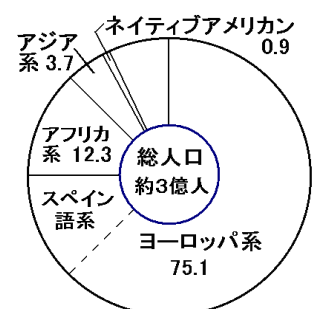
関税をなくし、貿易を活発におこなうことが目的

● アメリカで生活する人々

② ヒスパニックヨーロッパ系の人のうち、スペイン語を話す人々

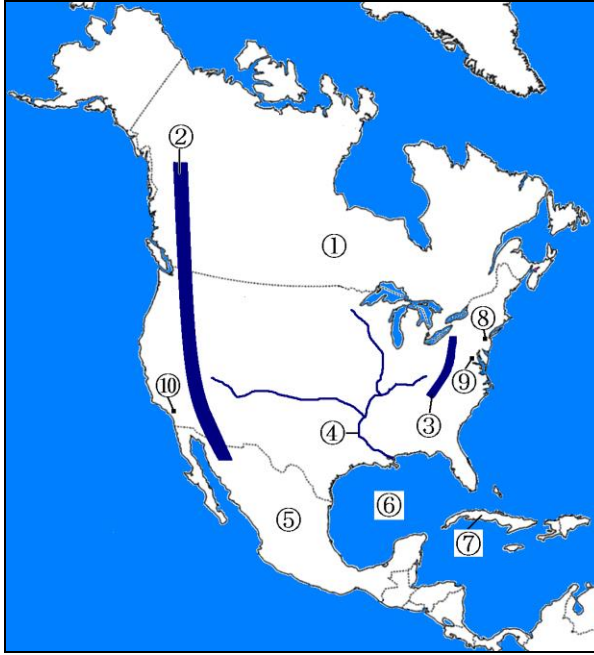
③ アフリカ 系黒人。昔奴隷として連れてこられた。人口の約10%

④ 多民族国家世界各地から移民が集まる国。多民族多文化社会。お互いの文化を尊重しあうことが大切



【一問一答】問題文ごと暗記しよう！《教科書の重要語句》

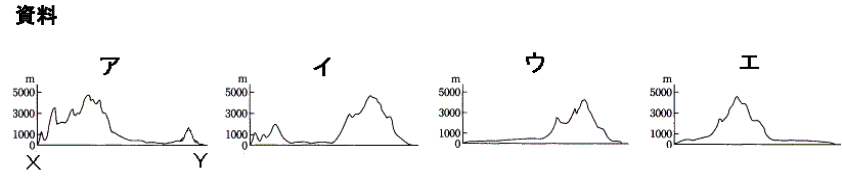
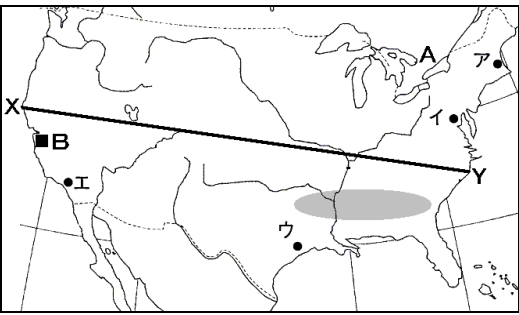
国名と地形



- ① 国名
.....
- ② 山脈名
.....
- ③ 山脈名
.....
- ④ 河川名
.....
- ⑤ 国名
.....
- ⑥ 湾名
.....
- ⑦ 国名
.....
- ⑧ 都市名
.....
- ⑨ 都市名
.....
- ⑩ 都市名
.....

- ① アメリカの首都は_____である。 ①
- ② アメリカ・カナダ・メキシコは関税をなくして活発に貿易をするために_____を結成した。 ②
- ③ アメリカで生活するスペイン語を話す人々を_____という。 ③
- ④ 黒人は奴隷として_____から連れてこられた人々の子孫である。 ④
- ⑤ 多くの移民からなる国を_____という。 ⑤

次の地図を見て、あとの各問いに答えなさい。



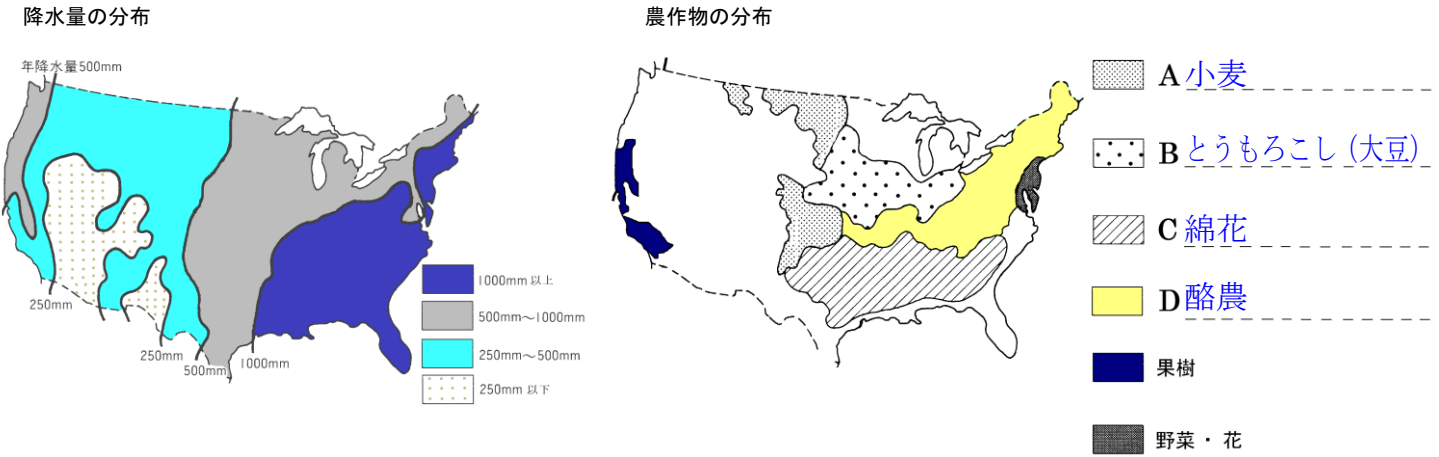
- (1) 地図中のX-Y間の断面として正しいものを上のア～エの中から1つ選びなさい。 (1)
- (2) アメリカの首都の位置として正しいものを、地図中のア～エから1つ選びなさい。 (2)

単元:北アメリカ州②

【解説】教科書の重要キーワードをチェックした後、問題へ！

● アメリカの農業

① 適地適作自然条件など、環境に適した農作物を大規模に栽培する農業



② 企業的 な農業.....少ない人手で広い耕地を大型の機械を使って農業をしているので、農作物価格が安い

→ 世界の③ 食料庫といわれ、世界中に農作物を輸出

④ バイオテクノロジー生命工学 →医療・食料・環境・エネルギーなどの分野。
クローン技術や遺伝子組み換え作物など。



地下水をくみ上げて地上にまいている

センターピボット



大規模な牛の飼育場

フィードロット



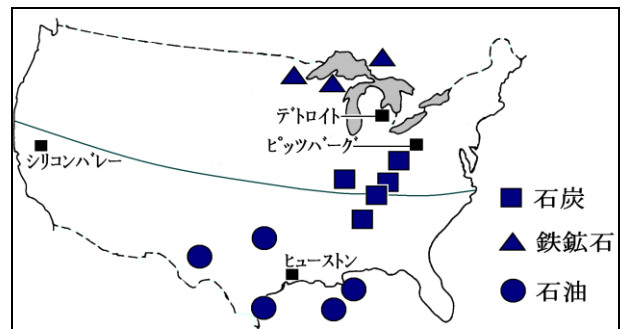
大型の機械を使った農業

● アメリカの工業

豊富な資源をいかした工業.....鉄鉱石や石炭、石油など多く産出。

古くは五大湖沿岸や大西洋岸で工業が発達

デトロイトの自動車など



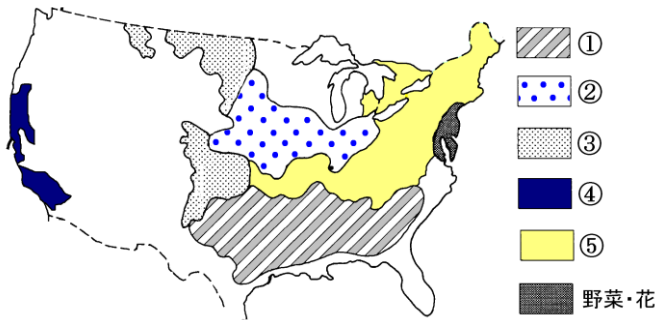
① サンベルト北緯 37 度以南の地域。ハイテク・情報産業が発達

② シリコンバレーサンフランシスコ郊外。世界的に有名な企業が集中

③ 多国籍企業世界に生産拠点・販売拠点をもつ大企業

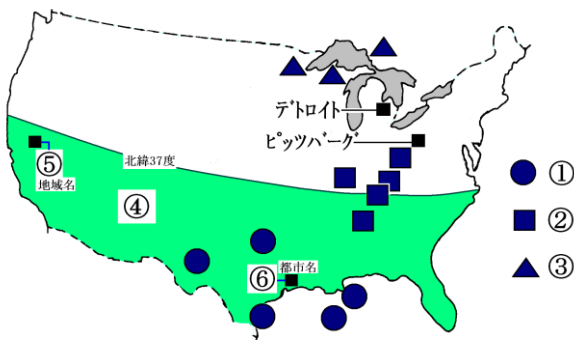
【一問一答】問題文ごと暗記しよう！《教科書の重要語句》

①～⑤の地域で盛んなものを(小麦・とうもろこし・酪農・果樹・綿花)の中からそれぞれ選んで書きなさい。



- ① _____
- ② _____
- ③ _____
- ④ _____
- ⑤ _____

C 鉱産資源名や都市・地域名を書きなさい。④は北緯 37 度以南の地域をさす。



- ① _____
- ② _____
- ③ _____
- ④ _____
- ⑤ _____
- ⑥ _____

- ① 自然条件にあった農作物を大規模に栽培する農業を_____という。 ① _____
- ② アメリカで農業にたずさわる人は(多い 少ない) ② _____
- ③ アメリカの農家の1人あたりの耕地面積は(広い せまい) ③ _____
- ④ アメリカの農作物の価格は(安い 高い) ④ _____
- ⑤ アメリカは世界中に農作物を輸出することから_____といわれている ⑤ _____
- ⑥ アメリカで発達している生命工学を_____という。 ⑥ _____

- ① アメリカの農業で、地下水をくみ上げて地上に散布する方式を_____という。 ① _____
- ② アメリカのとうもろこし地帯で肉牛や豚を大規模に飼育するところを_____という。 ② _____
- ① アメリカは鉄鉱石や石炭などの資源に恵まれ、古くから_____周辺や大西洋岸で工業が発達した。 ① _____
- ② アメリカで北緯 37 度以南のハイテク・情報産業が発達した地域を_____という。 ② _____
- ③ コンピュータ関連産業が発達しているサンフランシスコ郊外の地域を_____という。 ③ _____

単元：南アメリカ州

【解説】教科書の重要キーワードをチェックした後、問題へ！

● 地図で確認 国名

A 南半球で最大の国。BRICsの1つ

ブラジル

B 赤道直下の国

エクアドル

C 高地で暮らす人が多い

ペルー

D 南北に細長い国

チリ

E 日本から見て地球の反対側の国

アルゼンチン

F 6000m級の険しい山脈

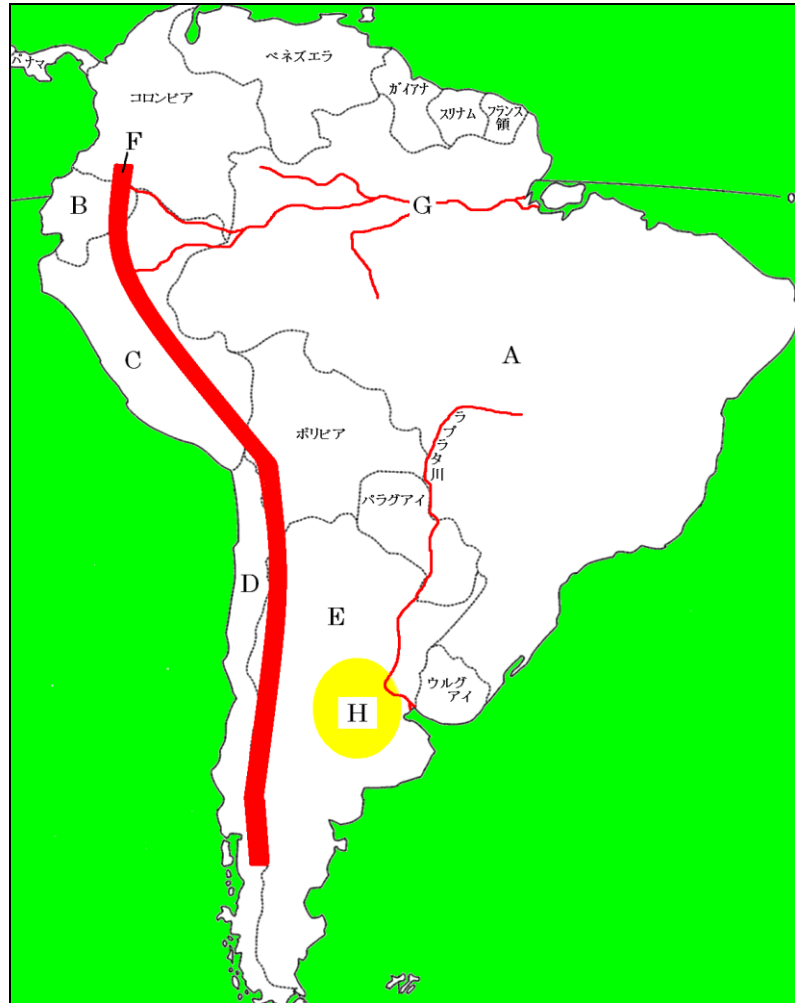
アンデス山脈

G 世界で2番目に長い川

アマゾン川

H 大草原

パンパ



● 人種

① ラテンアメリカ南アメリカはスペインやポルトガルの植民地だった。文化が似ていることからこうよばれる

② インディオ南アメリカの先住民

③ メスチソヨーロッパ系と先住民の混血

主な言語.....ブラジルは④ ポルトガル語、その他の国は⑤ スペイン語

日系人.....日本から南アメリカに移住した人々

● ブラジル

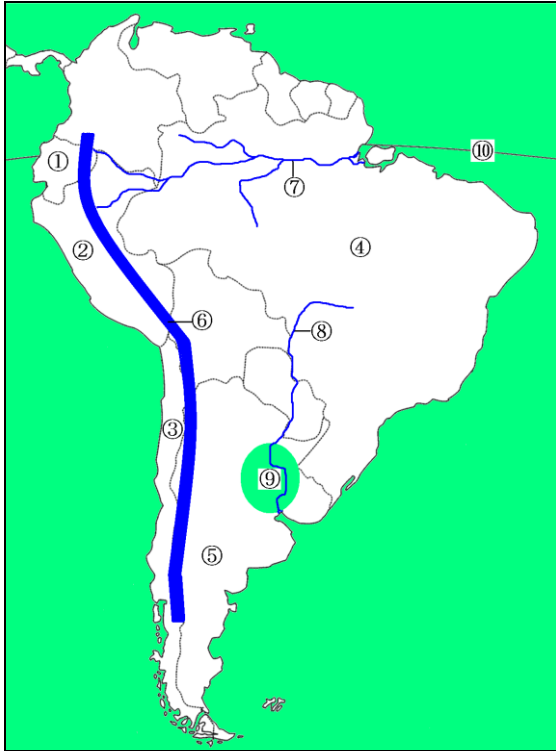
かつては農業・資源中心の経済.....コーヒー・鉄鉱石など。焼畑農業

現在は工業化が進む.....機械や自動車の輸出が多くなった。① BRICsの1つ

② バイオエタノールサトウキビなどから作るアルコール燃料

【一問一答】問題文ごと暗記しよう！《教科書の重要語句》

国名と地形



①

②

③

④

⑤

⑥

⑦

⑧

⑨

⑩

① 南アメリカは昔、スペインやポルトガルの植民地であったことから_____といわれる。

①

② 南アメリカの原住民を_____という。

②

③ 先住民と白人の混血を_____という。

③

④ ブラジルは_____語を公用語にしている。

④

⑤ その他の南アメリカの国は_____語を公用語にしている。

⑤

① かつてブラジルは_____などの農作物の輸出が盛んだった。

①

② ブラジルは_____などの資源が豊富で輸出量も多い。

②

③ アマゾン川流域では森林を焼いてそこで農業をする_____農業も見られた。

③

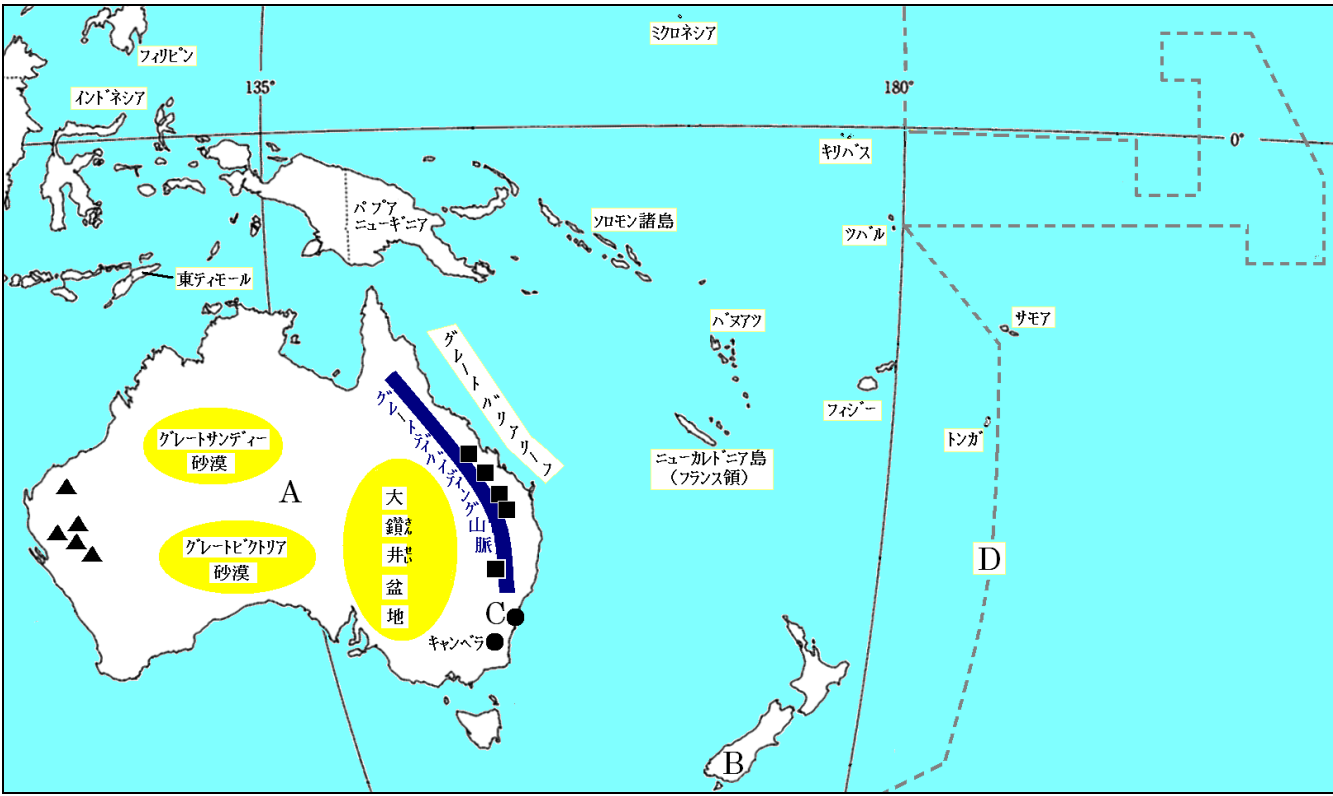
④ サトウキビなどから作られるアルコール燃料を_____という

④

単元： オセアニア州

【解説】 教科書の重要キーワードをチェックした後、問題へ！

● 地図で確認 国名その他



A 大陸が1つの国

オーストラリア

B 島国

ニュージーランド

C 大陸最大の都市

シドニー

D 日付が変わる線

日付変更線

▲ 日本にも多く輸出している資源

鉄鉱石

■ 日本にも多く輸出している資源

石炭

● 文化

① アボリジニ (一)オーストラリアの先住民。ニュージーランドの先住民はマオリ

② イギリスオーストラリアやニュージーランドを植民地としていた国。昔はつながりが強かった

→ 現在は日本や中国など、③ アジア とのつながりが深くなってきている

● 産業

① 羊オーストラリア・ニュージーランドで飼育が盛んな家畜

国旗

イギリス



オーストラリア

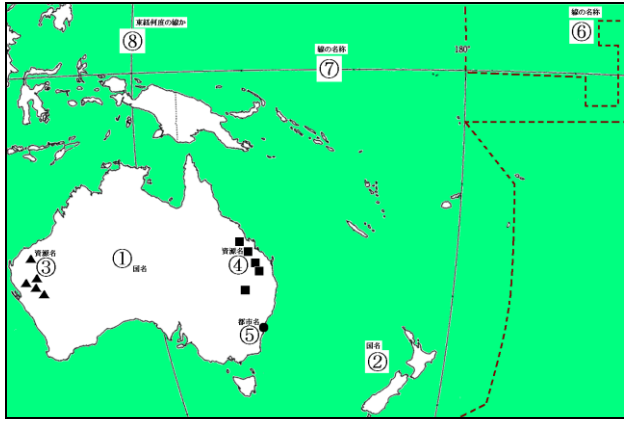


観光産業.....グレートバリアリーフで② さんご礁 が発達

農業.....オーストラリアは③ 小麦 の輸出が盛ん。→ 南半球なので気候上、北半球と出荷の時期が逆。

他、トンガ産のかぼちゃなど

【一問一答】問題文ごと暗記しよう！《教科書の重要語句》



- ① _____
- ② _____
- ③ _____
- ④ _____
- ⑤ _____
- ⑥ _____
- ⑦ _____
- ⑧ _____

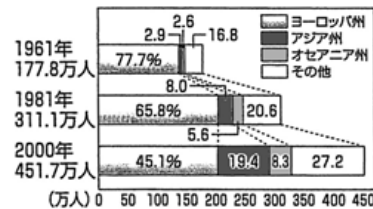

- ① オーストラリアやニュージーランドなどがある州を_____という。
- ② オーストラリアやニュージーランドはもともと_____の植民地であった。
- ③ オーストラリアの先住民を_____という。
- ④ オーストラリアは昔、②の国との関係が深かった。現在は_____や_____、アジアとの関係が深い。
- ⑤ オーストラリアやニュージーランドは_____の飼育が盛んである。
- ⑥ 観光地として有名なグレートバリアリーフは_____が発達している。
- ⑦ オーストラリアは日本に_____などの農作物を多く輸出している。気候が逆なので有利だ。
- ⑧ トンガ産の_____は、日本では収穫が難しい冬の時期に日本へ出荷している

- ① _____
- ② _____
- ③ _____
- ④ _____ や _____
- ⑤ _____
- ⑥ _____
- ⑦ _____
- ⑧ _____

2 他地域との結びつきについて、あとの各問いに答えなさい。

資料1 オーストラリアとニュージーランドの国旗

資料2 オーストラリアの地域別移民の推移



資料3 オーストラリアの貿易相手国の変化

オーストラリアの輸出先

オーストラリアの輸入先

年	アメリカ (%)	イギリス (%)	日本 (%)	中国 (%)	インド (%)	その他 (%)
1960年	14	26	8	52		
2008年	8	22	15	8	6	49

年	アメリカ (%)	イギリス (%)	日本 (%)	中国 (%)	シンガポール (%)	その他 (%)
1960年	6	36	16	6	42	
2008年	7	15	12	9	7	57

- (1) オーストラリアの先住民を、次から一つ選んで書きなさい。
[イヌイト アボリジニ マオリ]
- (2) オーストラリアやニュージーランドは、かつてヨーロッパのある国の植民地であった。その国はどこか、資料1を参考にして、その国名を書きなさい。
- (3) 資料2は、オーストラリアの地域別移民の推移を示している。近年、オーストラリアで増加しているのは、どの地域からの移民か、書きなさい。
- (4) 資料3は、オーストラリアの貿易相手国の変化を示している。1960年と2008年を比べると、オーストラリアの貿易相手国はどのように変化しているか、資料3からわかることを簡潔に書きなさい。

- (1) _____
- (2) _____
- (3) _____
- (4) _____