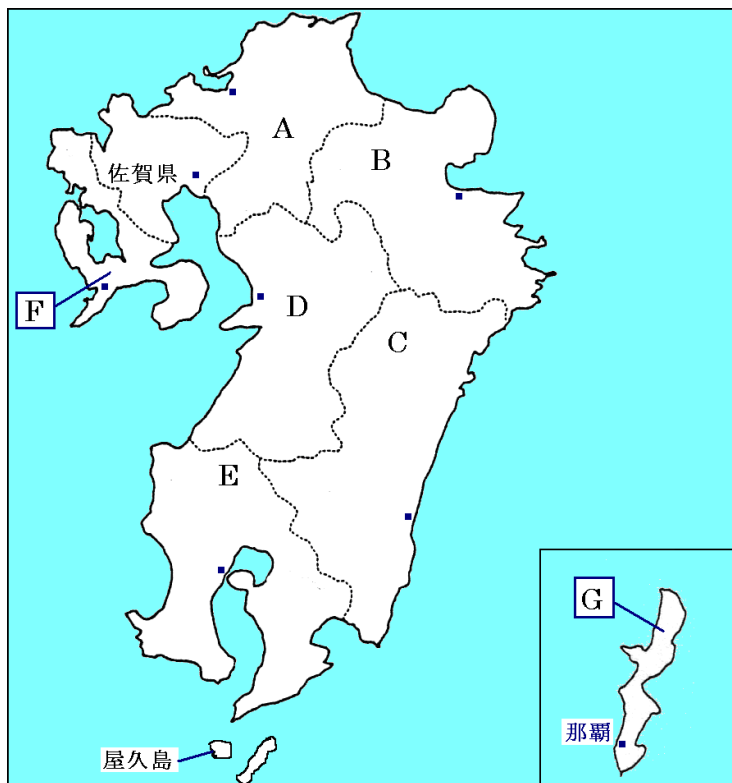


# 九州地方

## 【解説】流れ 教科書の重要キーワードをチェックした後、問題へ！

### ● 主な都道府県の確認



- A 九州の中心となる県  
福岡県

---

- B 臨海部で工業が発達  
大分県

---

- C 野菜の促成栽培が盛ん。畜産も盛ん  
宮崎県

---

- D かつて水俣病がおこった  
熊本県

---

- E 畜産がとても盛ん。  
鹿児島県

---

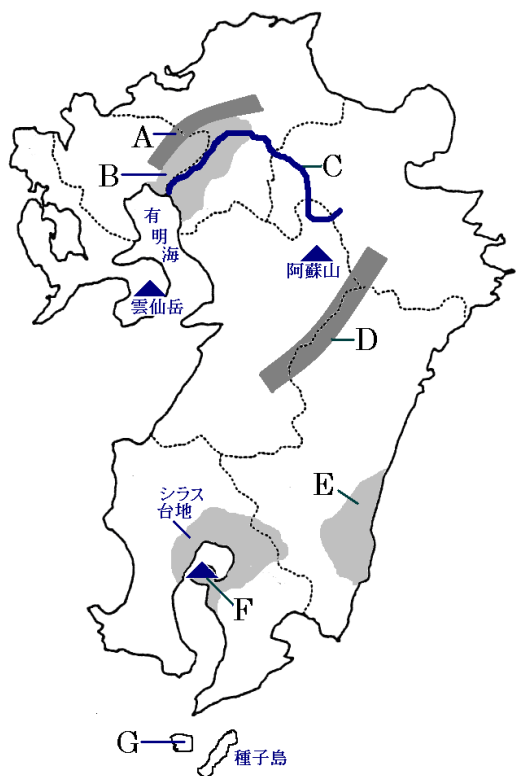
- F 海岸線の長さは全国2位。  
長崎県

---

- G アメリカに占領されていた。今も基地が残る  
沖縄県

---

### ● 主な地形



- A なだらかな山地  
筑紫 山地

---

- B 稲作地帯  
筑紫 平野

---

- C 有明海にそそぐ河川  
筑後 川

---

- D 九州地方の中心にある山地  
九州 山地

---

- E 温暖な気候で野菜の栽培が盛んな平野  
宮崎 平野

---

- F 現在も活動している火山  
桜島

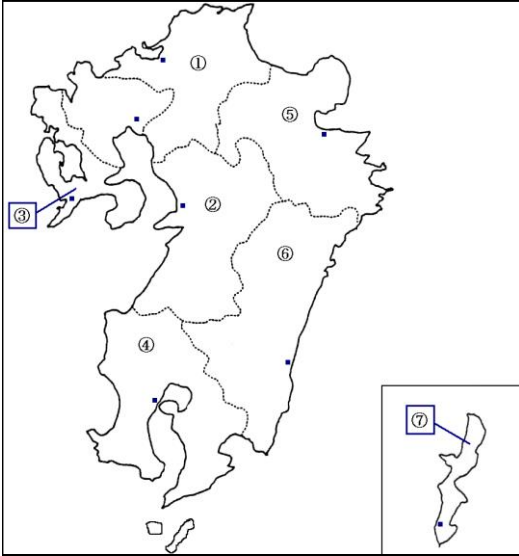
---

- G 世界遺産の島  
屋久島

---

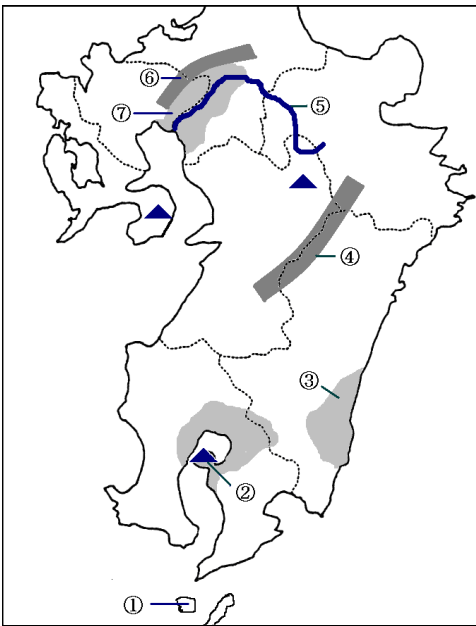
# 【教科書の重要語句】《一問一答》問題文ごと暗記しよう！

都道府県名を書きなさい。



- ① .....
- ② .....
- ③ .....
- ④ .....
- ⑤ .....
- ⑥ .....
- ⑦ .....

地形名を書きなさい。



- ① .....
- ② .....
- ③ .....
- ④ .....
- ⑤ .....
- ⑥ .....
- ⑦ .....

## 解答

①から順に  
 福岡県、熊本県、長崎県、鹿児島県、大分県、宮崎県、沖縄県  
 屋久島、桜島、宮崎平野、九州山地、筑後川、筑紫山地、筑紫平野

## 【解説】流れ 教科書の重要キーワードをチェックした後、問題へ！



### ● 九州の農業

#### ・筑紫平野

・・・① 稲作 が盛ん

#### ・宮崎平野

・・・野菜の② 促成 栽培が盛ん。

キュウリやピーマンを出荷の時期をずらして

大都市へ出荷

#### ・シラス台地

・・・土地が農業にあまり向かない。

③ 畜産 がとても盛ん

#### ・南西諸島

・・・パイナップルやサトウキビ・花の栽培が盛ん

### ● 九州の工業

・① 八幡製鉄所 ・・・1901年に北九州市に建

設された官営の製鉄所。中国の鉄鉱石と九州の石炭を使用

・② エネルギー革命 ・・・1960年代、主なエネルギ

ーが石炭から石油に変化したことをこうよぶ

・③ 機械 工業が中心になる・・・現在は

IC(集積回路)工場や自動車工業などが発達

・公害対策・・・熊本県水俣市で水俣病が発生。北九州市で

は大気汚染や海水汚染が発生。現在は環境と開発を両立

# 【教科書の重要語句】《一問一答》問題文ごと暗記しよう！

- ① 筑紫平野では\_\_\_\_\_が盛んである。 ① \_\_\_\_\_
- ② 宮崎平野では野菜の\_\_\_\_\_栽培が盛んだ。 ② \_\_\_\_\_
- ③ 鹿児島県のシラス台地では\_\_\_\_\_がとても盛んである。 ③ \_\_\_\_\_
- ④ 沖縄など、南西諸島では花・サトウキビのほか、\_\_\_\_\_の栽培が盛んだ。 ④ \_\_\_\_\_
- ⑤ 1901年、官営の\_\_\_\_\_が建設された。 ⑤ \_\_\_\_\_
- ⑥ 1960年代、主要なエネルギーが石炭から\_\_\_\_\_に変わった。 ⑥ \_\_\_\_\_
- ⑦ ⑥を\_\_\_\_\_とよぶ。 ⑦ \_\_\_\_\_
- ⑧ 現在の九州は\_\_\_\_\_工業が中心になる。 ⑧ \_\_\_\_\_
- ⑨ 空港や高速道路沿いに\_\_\_\_\_工場が建設された。 ⑨ \_\_\_\_\_
- ⑩ 1960年代、4大公害の1つである\_\_\_\_\_病が熊本県で発生した。 ⑩ \_\_\_\_\_

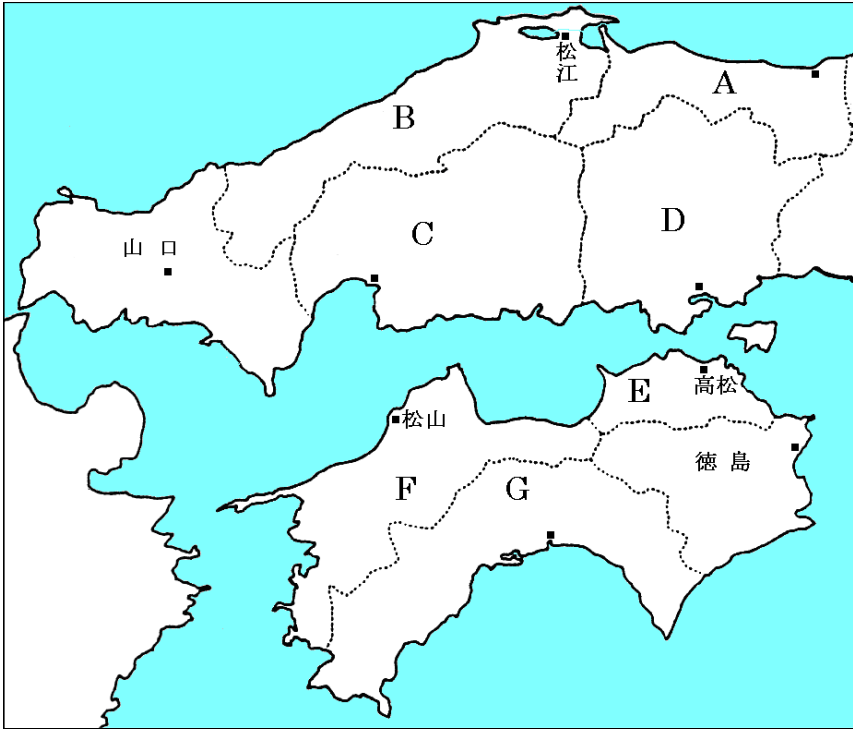
## 解答

- ① 稲作 \_\_\_\_\_
- ② 促成 \_\_\_\_\_
- ③ 畜産 \_\_\_\_\_
- ④ パイナップル \_\_\_\_\_
- ⑤ 八幡製鉄所 \_\_\_\_\_
- ⑥ 石油 \_\_\_\_\_
- ⑦ エネルギー革命 \_\_\_\_\_
- ⑧ 機械 \_\_\_\_\_
- ⑨ IC（集積回路） \_\_\_\_\_
- ⑩ 水俣 \_\_\_\_\_

# 中国・四国地方

## 【解説】流れ 教科書の重要キーワードをチェックした後、問題へ！

### ● 県名の確認



A 人口が最も少ない

鳥取県

B A県と同様、過疎化が進む

島根県

C 中国・四国地方の中心県

広島県

D 臨海部で工業が発達

岡山県

E 面積が一番小さい

香川県

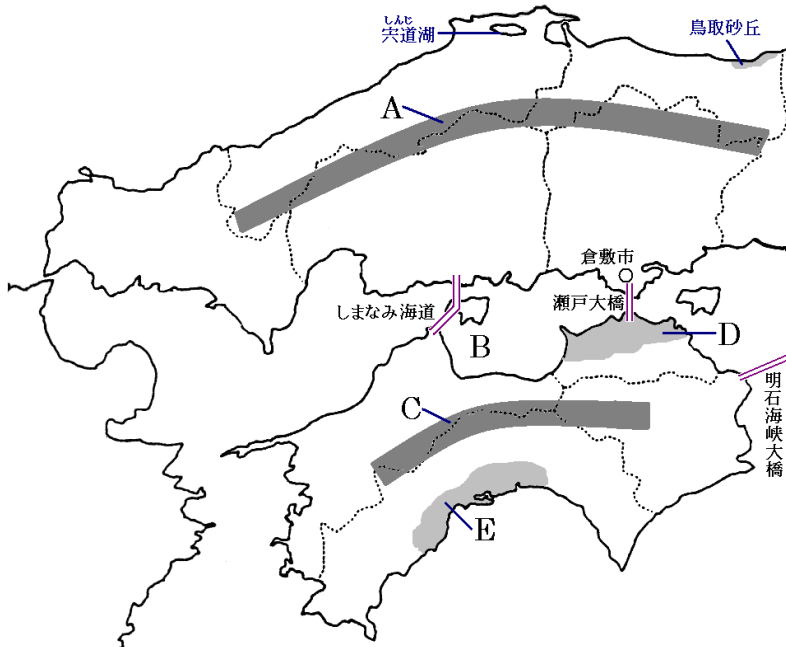
F みかんの生産がさかん

愛媛県

G 野菜の促成栽培が盛ん

高知県

### ● 主な地形



A この山地を境に山陽と山陰に分かれる

中国

山地

B 波のおだやかな海

瀬戸内海

C 四国地方の山地

四国

山地

D 降水量の少ない

讃岐

平野

E 温暖な気候で野菜の栽培が盛んな平野

高知

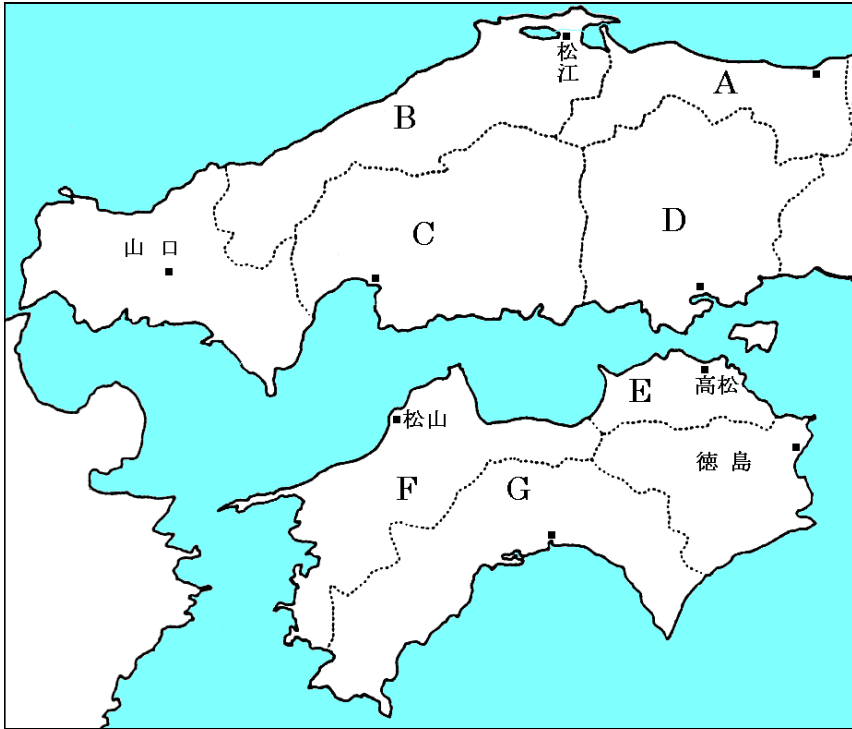
平野

F しまなみ海道・瀬戸大橋・明石海峡の3つをあわせて

本州四国連絡橋

# 【教科書の重要語句】《一問一答》問題文ごと暗記しよう！

## ● 県名の確認



A 人口が最も少ない

B A県と同様、過疎化が進む

C 中国・四国地方の中心県

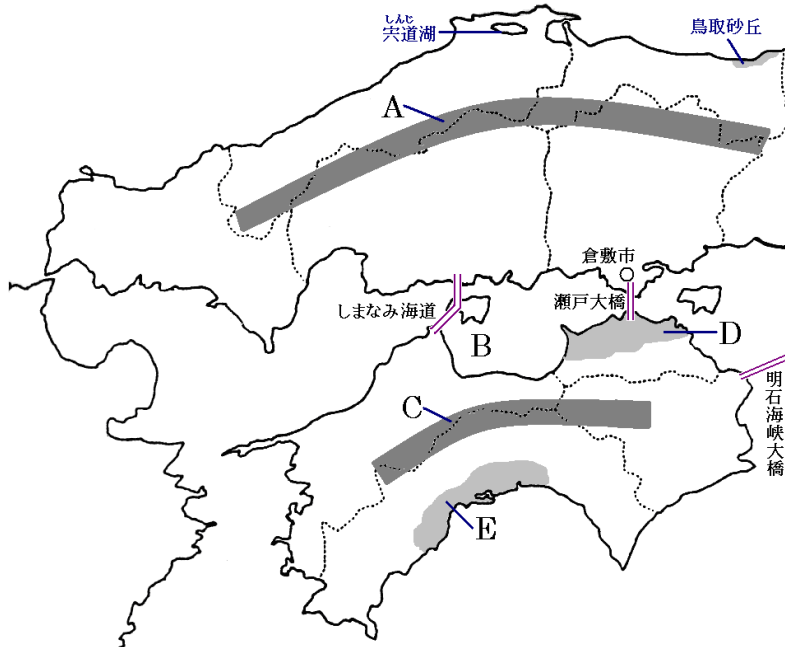
D 臨海部で工業が発達

E 面積が一番小さい

F みかんの生産がさかん

G 野菜の促成栽培が盛ん

## ● 主な地形



A この山地を境に山陽と山陰に分かれる

山地

B 波のおだやかな海

C 四国地方の山地

山地

D 降水量の少ない

平野

E 温暖な気候で野菜の栽培が盛んな平野

平野

F しまなみ海道・瀬戸大橋・明石海峡の3つをあわせて

**解答** 前のページそのまま

# 中国・四国地方②

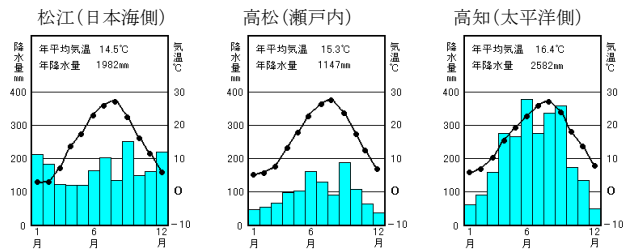
【解説】流れ 教科書の重要キーワードをチェックした後、問題へ！



● 中国四国地方の気候の違い

島根県松江市と香川県高松市、高知市を比べてみよう！

グラフを見ると、高松(讃岐平野)にため池が多い理由がわかる



● 中国四国地方の産業

・**農業**・・・鳥取の梨やらっきょう、岡山のぶどう、愛媛の① みかん、高知でナスなどの② 促成 栽培

・**漁業**・・・瀬戸内海は波が穏やかなのでいけすによる③ 養殖 が盛ん。広島④ かき は有名

・**工業**・・・⑤ 瀬戸内工業地域・・・1960年代に阪神工業地帯の工場が広い用地をもとめて移転  
倉敷市の水島地区に⑥ 石油化学コンビナート が建設される

● その他

・① 過疎 化・・・高齢者の割合が多く、生活が困難になる現象。山間部や離島で進行

・② 広島 市・・・中国・四国地方の中心となる地方中枢都市。過密問題に直面

・③ ストロー 現象・・・交通網の整備の結果、大都市へ人が吸いよせられる現象。本州四国連絡橋開通の影響

# 【教科書の重要語句】《一問一答》問題文ごと暗記しよう！

- ① 愛媛県では\_\_\_\_\_の栽培が盛んで全国でも上位である。 ① \_\_\_\_\_
- ② 高知ではナスなどの野菜の\_\_\_\_\_栽培が盛んだ。 ② \_\_\_\_\_
- ③ 瀬戸内海は波が穏やかなので\_\_\_\_\_が盛んにおこなわれている。 ③ \_\_\_\_\_
- ④ ③の中でも、広島県の\_\_\_\_\_は有名だ。 ④ \_\_\_\_\_
- ⑤ 瀬戸内海沿岸の工業地帯を\_\_\_\_\_工業地域とよぶ。 ⑤ \_\_\_\_\_
- ⑥ 倉敷市の水島地区では\_\_\_\_\_が建設された。 ⑥ \_\_\_\_\_
- ⑦ 高齢者の割合が多く、生活が困難になる現象を\_\_\_\_\_という。 ⑦ \_\_\_\_\_
- ⑧ 中国・四国地方の地方中枢都市は\_\_\_\_\_市ある。 ⑧ \_\_\_\_\_
- ⑨ 瀬戸大橋・明石海峡大橋・しまなみ海道をまとめて\_\_\_\_\_という。 ⑨ \_\_\_\_\_
- ⑩ 交通網の整備の結果、大都市へ人が吸い寄せられる現象を\_\_\_\_\_現象という。 ⑩ \_\_\_\_\_
- ⑪ 中国地方の日本海側は\_\_\_\_\_の降水量が多い。 ⑪ \_\_\_\_\_
- ⑫ 瀬戸内海沿岸は年間を通して降水量が\_\_\_\_\_。 ⑫ \_\_\_\_\_

## 解答

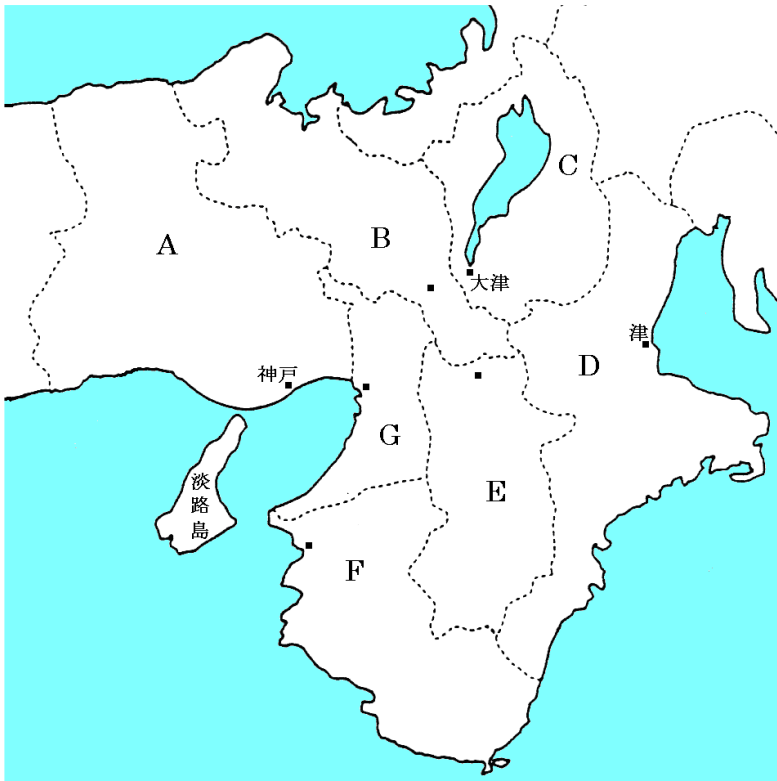
- ① みかん  
② 促成  
③ 養殖  
④ かき  
⑤ 瀬戸内  
⑥ 石油化学コンビナート  
⑦ 過疎化  
⑧ 広島  
⑨ 本州四国連絡橋  
⑩ ストロー  
⑪ 冬  
⑫ 少ない



# 近畿地方

## 【解説】流れ 教科書の重要キーワードをチェックした後、問題へ！

### ● 主な府県名



A 県庁所在地は日本有数の港湾都市

兵庫県

B かつて都があった

京都府

C 日本最大の湖がある

滋賀県

D かつて四日市ぜんそくが発生。松坂牛が有名

三重県

E 平城京があった

奈良県

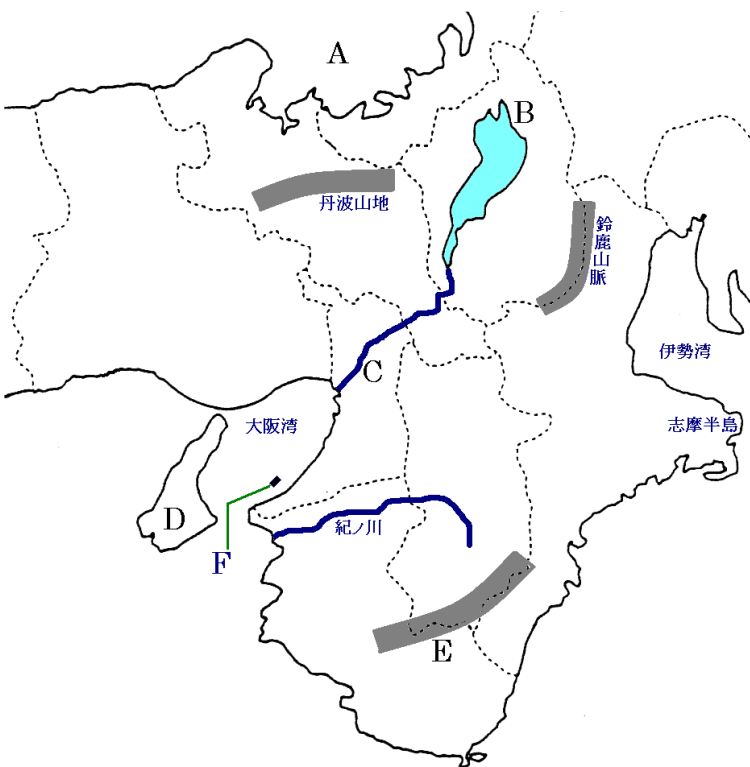
F 果実の生産額全国1位

和歌山県

G 近畿地方の中心。江戸時代は天下の台所

大阪府

### ● 主な地形



A 原子力発電所が集中する湾

若狭

湾

B 近畿地方の水がめ

琵琶

湖

C 滋賀県では瀬田川、京都では宇治川

淀

川

D 1995年に震災で被害

淡路

島

E 温暖多雨なので樹木の生長がはやい。林業が発達

紀伊

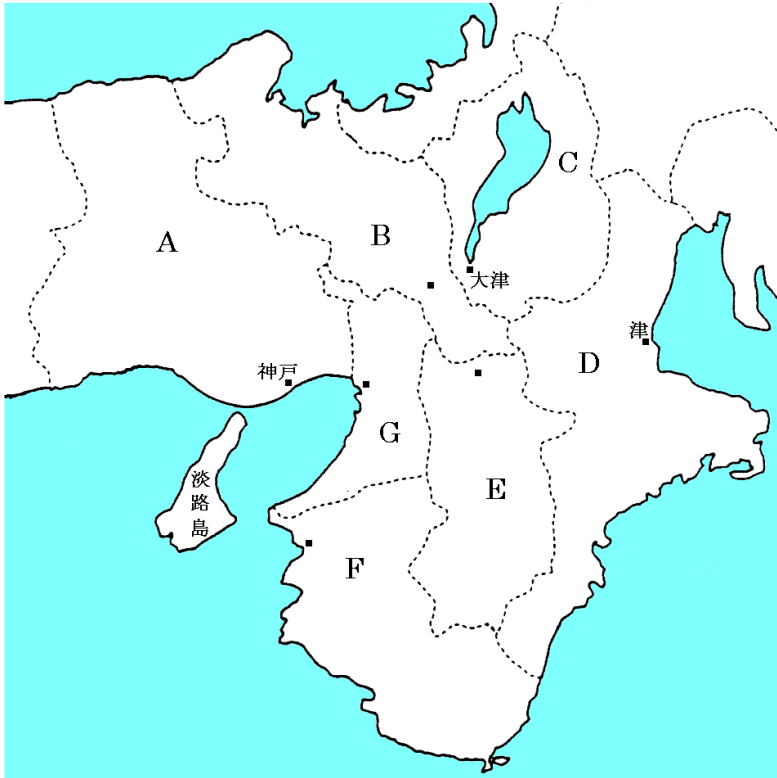
山地

F 24時間、発着が可能な空港

関西国際空港

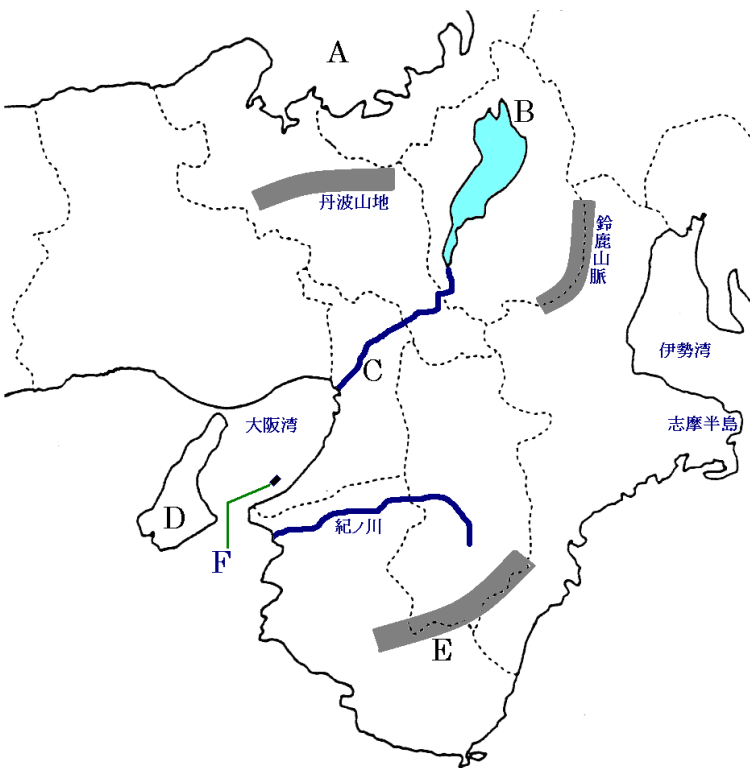
# 【教科書の重要語句】《一問一答》問題文ごと暗記しよう！

## ● 主な府県名



- A 県庁所在地は日本有数の港湾都市  
.....
- B かつて都があった  
.....
- C 日本最大の湖がある  
.....
- D かつて四日市ぜんそくが発生。松坂牛が有名  
.....
- E 平城京があった  
.....
- F 果実の生産額全国1位  
.....
- G 近畿地方の中心。江戸時代は天下の台所  
.....

## ● 主な地形



- A 原子力発電所が集中する湾  
..... 湾
- B 近畿地方の水がめ  
..... 湖
- C 滋賀県では瀬田川、京都では宇治川  
..... 川
- D 1995年に震災で被害  
..... 島
- E 温暖多雨なので樹木の生長がはやい。林業が発達  
..... 山地
- F 24時間、発着が可能な空港  
.....

**解答** 前のページそのまま

## 近畿地方②

【解説】流れ 教科書の重要キーワードをチェックした後、問題へ！



### ● おもな都市

・① 大阪.....市・・・大阪大都市圏の中心都市。周辺から通勤通学で人が集中する

・② 神戸.....市・・・日本有数の港湾都市。異人館や中華街など外国とのつながりが深い

埋め立てにより、ポートアイランド(人工の島)なども建設

・③ 京都.....市・・・平安京があった。寺社などの文化財が世界遺産に登録される

歴史的な町並みを残すよう、京都市新景観条例を制定。西陣織などの伝統工芸品も有名

・④ 奈良.....市・・・平城京があった。寺社などの文化財が世界遺産に登録

・⑤ 東大阪.....市・・・阪神工業地帯の中心都市のひとつ。金属加工業が発達。高い技術力を持つ中小企業が多い

### ★工業について

阪神工業地帯:金属工業の割合が高い

京都府の伝統工芸品:西陣織

福井県の若狭湾で原子力発電所が集中

### ★農業について

和歌山県のみかんは生産量多い

# 【教科書の重要語句】《一問一答》問題文ごと暗記しよう！

- |  |          |
|--|----------|
| ① 日本最大の湖は_____である。                             | ① 琵琶湖    |
| ② 福井県の_____沿岸は原子力発電所が多く建設されている。                | ② 若狭湾    |
| ③ 海上にある、_____は24時間離発着が可能である。                   | ③ 関西国際空港 |
| ④ 兵庫県の県庁所在地は_____市である。                         | ④ 神戸     |
| ⑤ かつて平安京があり寺社などの文化財が世界遺産に登録されているのは_____市だ。     | ⑤ 京都     |
| ⑥ かつて平城京があったのは_____市だ。                         | ⑥ 奈良     |
| ⑦ 阪神工業地帯の中心都市の1つで、高い技術をもつ金属工業が発達しているのは_____市だ。 | ⑦ 東大阪    |
| ⑧ 日本有数の港湾都市で、外国とのつながりが深いのは_____市だ。             | ⑧ 神戸     |
| ⑨ かつて、_____県の四日市市で四日市ぜんそくが発生した。                | ⑨ 三重     |

## ★工業について

阪神工業地帯: 工業の割合が高い

京都府の伝統工芸品: が有名

福井県の若狭湾で 発電所が集中

## ★農業について

和歌山県の が生産量多い

## 解答

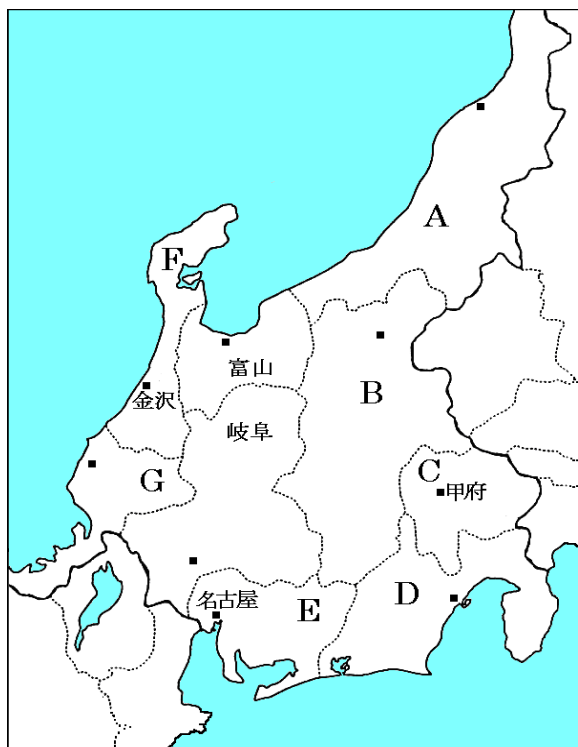
- |          |
|----------|
| ① 琵琶湖    |
| ② 若狭湾    |
| ③ 関西国際空港 |
| ④ 神戸     |
| ⑤ 京都     |
| ⑥ 奈良     |
| ⑦ 東大阪    |
| ⑧ 神戸     |
| ⑨ 三重     |

金属工業  
西陣織  
原子力発電所  
みかん

# 中部地方

## 【解説】流れ 教科書の重要キーワードをチェックした後、問題へ！

### ● 県名の確認



A 稲作が盛ん。ロシア・韓国・中国など日本海を囲む国との結びつきが強くなる

新潟県

B 高冷地農業が盛ん。果樹の生産も多い

長野県

C ぶどう・ももの生産が全国1位

山梨県

D お茶の栽培がさかん。工業も発達

静岡県

E 中部地方の中心県。工業が非常に発達

愛知県

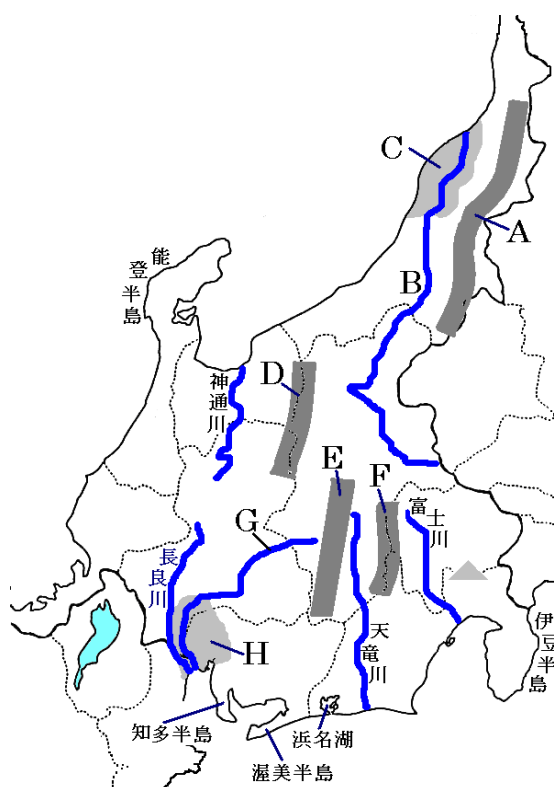
F 冬の降水量が多い

石川県

G 原子力発電所がたくさんある

福井県

### ● 主な地形



A 新潟県の旧国名をとった山脈

越後

山脈

B 日本一長い河川

信濃

川

C 新潟県の旧国名をとった平野。稲作がさかん

越後

平野

D 日本アルプスの1つ。北アルプス

飛騨

山脈

E 日本アルプスの1つ。中央アルプス

木曾

山脈

F 日本アルプスの1つ。南アルプス

赤石

山脈

G 下流で輪中が見られる

木曾

川

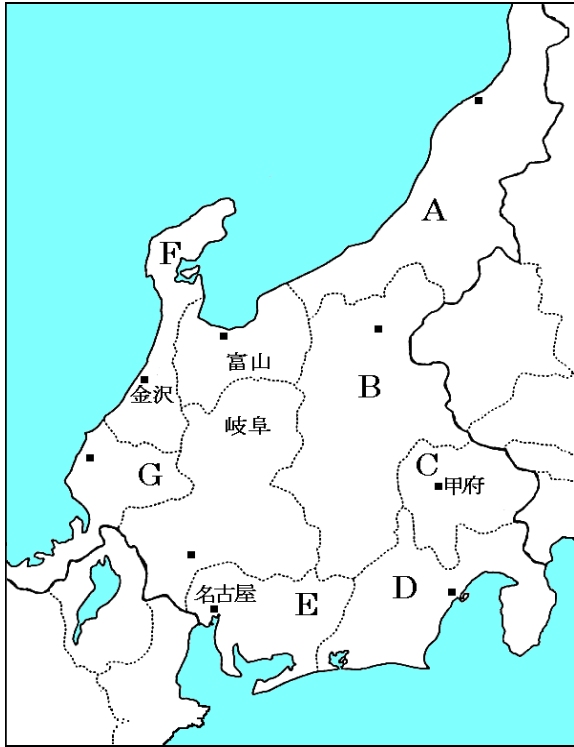
H 愛知と岐阜をまたぐ平野

濃尾

平野

# 【教科書の重要語句】《一問一答》問題文ごと暗記しよう！

## ● 県名の確認



A 稲作が盛ん。ロシア・韓国・中国など日本海を囲む国との結びつきが強くなる

.....

B 高冷地農業が盛ん。果樹の生産も多い

.....

C ぶどう・ももの生産が全国1位

.....

D お茶の栽培がさかん。工業も発達

.....

E 中部地方の中心県。工業が非常に発達

.....

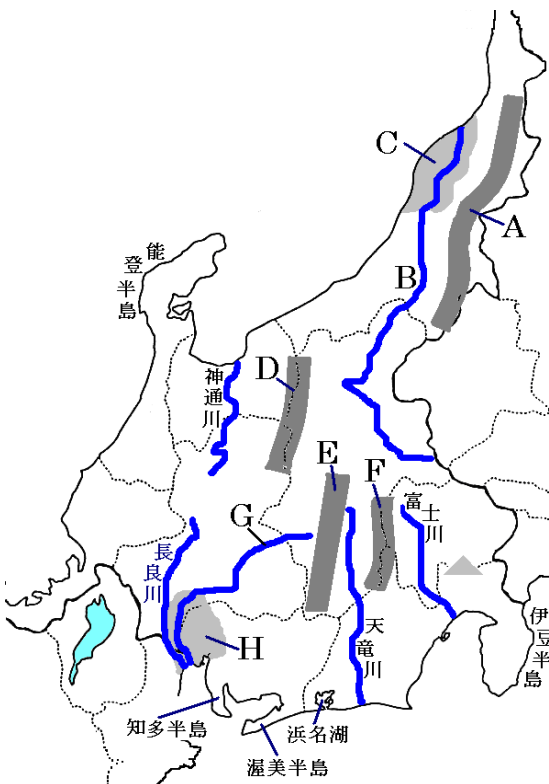
F 冬の降水量が多い

.....

G 原子力発電所がたくさんある

.....

## ● 主な地形



A 新潟県の旧国名をとった山脈

山脈

.....

B 日本一長い河川

川

.....

C 新潟県の旧国名をとった平野。稲作がさかん

平野

.....

D 日本アルプスの1つ。北アルプス

山脈

.....

E 日本アルプスの1つ。中央アルプス

山脈

.....

F 日本アルプスの1つ。南アルプス

山脈

.....

G 下流で輪中が見られる

川

.....

H 愛知と岐阜をまたぐ平野

平野

.....

**解答** 前のページそのまま

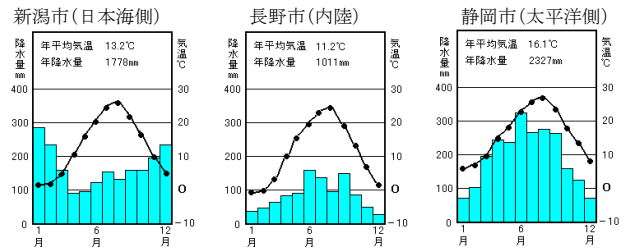
# 中部地方②

【解説】流れ 教科書の重要キーワードをチェックした後、問題へ！



● 3つの気候

新潟市と長野市と静岡市を比較しよう



● 中部地方の農業

- ・長野の高冷地・・・夏でも涼しい気候をいかし、① レタス やキャベツを生産
- ・長野や山梨の盆地・・・長野は② リンゴ が日本で2位、山梨はもと③ ぶどう が全国1位
- ・静岡・・・温暖な気候をいかし、台地でみかんや④ 茶 の生産が盛ん
- ・新潟・富山などの北陸・・・平野部で⑤ 稲 の生産が盛ん。日本を代表する栽培地域
- ・愛知・・・知多半島や渥美半島は河川がなく水不足だった。それぞれ愛知用水・豊川用水を引き、花やメロンなどを栽培 (施設園芸農業)

● 中部地方の工業

- ・① 中京 工業地帯・・・愛知県中心の工業地帯。豊田市の自動車をはじめとして工業が発達
- ・② 東海 工業地域・・・静岡県中心の工業地域。木材・パルプや楽器などが盛ん
- ・③ 北陸 工業地域・・・新潟・富山・石川・福井などの雪国の工業地域。伝統工業が盛ん

# 【教科書の重要語句】《一問一答》問題文ごと暗記しよう！

- |  |          |
|--|----------|
| ① 中部地方で、ロシアや韓国・中国などと最もつながりが深いのは_____県である。    | ① 新潟     |
| ② 長野県の高冷地では夏でも涼しい気候をいかし、_____やキャベツを生産        | ② レタス    |
| ③ 山梨県はもともと_____の生産が全国1位である。                  | ③ ぶどう    |
| ④ 静岡県は温暖な気候をいかし台地でみかんや_____の生産が盛んである。        | ④ 茶      |
| ⑤ 新潟・富山などの平野部では_____の生産が盛んである。               | ⑤ 稲      |
| ⑥ 愛知県中心の工業地帯を_____工業地帯といい、豊田市の自動車工業が有名である。   | ⑥ 中京     |
| ⑦ 静岡県中心の工業地域を_____工業地域といい、木材・パルプや楽器などが盛んである。 | ⑦ 東海     |
| ⑧ 新潟・富山・石川・福井などの雪国の工業地域を_____工業地域という。        | ⑧ 北陸     |
| ⑨ ⑦の地方は冬に農業が出来ないので、_____工業が盛んである。            | ⑨ 伝統     |
| ⑩ 飛騨・木曾・赤石山脈は_____とよばれている。                   | ⑩ 日本アルプス |
| ⑪ 日本で一番長い河川は_____だ。                          | ⑪ 信濃川    |
| ⑫ 中部地方の日本海側は_____の降水量がとても多い。                 | ⑫ 冬      |
| ⑬ 長野県の平野部は山地に囲まれているため年間を通して降水量が_____。        | ⑬ 少ない    |

★中部地方は、上から順に、さらに3つの地域に分かれる。それが、地方、高地、地方と呼ばれる。

## 解答

- |          |
|----------|
| ① 新潟     |
| ② レタス    |
| ③ ぶどう    |
| ④ 茶      |
| ⑤ 稲      |
| ⑥ 中京     |
| ⑦ 東海     |
| ⑧ 北陸     |
| ⑨ 伝統     |
| ⑩ 日本アルプス |
| ⑪ 信濃川    |
| ⑫ 冬      |
| ⑬ 少ない    |

中部地方は、上から順に、さらに3つの地域に分かれる。それが、北陸地方、中央高地、東海地方と呼ばれる。



# 関東地方

## 【解説】流れ 教科書の重要キーワードをチェックした後、問題へ！

### ● 主な都道府県の確認



A 人口600万。臨海部で工業。内陸部では近郊農業が盛ん

千葉県

B 近郊農業がさかん

茨城県

C いちご・かんぴょう日本一

栃木県

D こんにやくいも日本一

群馬県

E 総人口700万人。ただし屋の人口は600万人

埼玉県

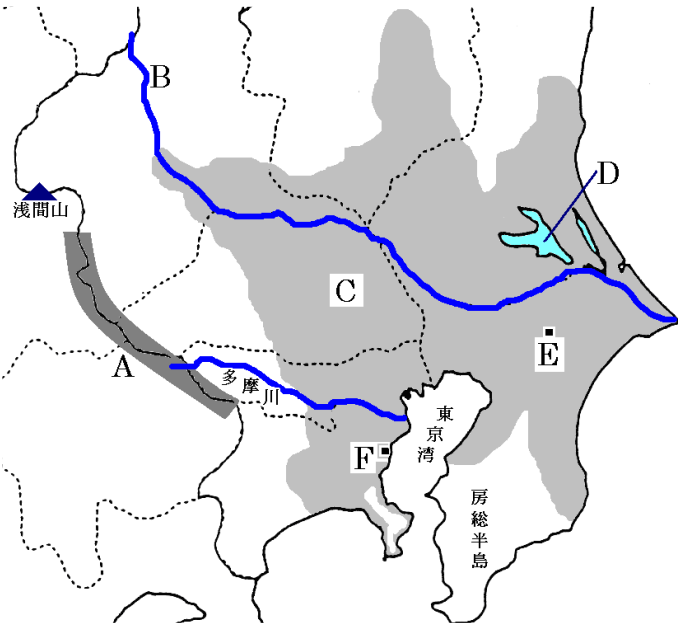
F 日本の首都。政治・経済・文化の中心。人口1200万人

東京都

G 人口900万人。横浜港は最大の貿易港

神奈川県

### ● 主な地形



A 山地

関東

山地

B 日本で二番目に長い

利根

川

C 日本最大の平野

関東

平野

D 日本で二番目に広い湖

霞ヶ浦

E 世界と日本を結ぶ空の玄関

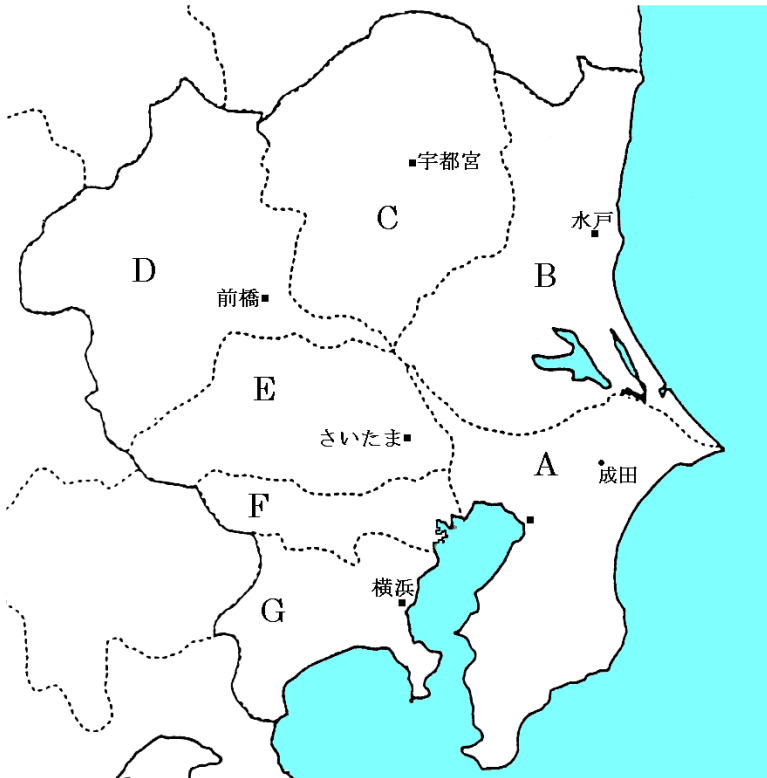
成田国際空港

F 日本有数の貿易港

横浜港

# 【教科書の重要語句】《一問一答》問題文ごと暗記しよう！

## ● 主な都道府県の確認



A 人口600万。臨海部で工業。内陸部では近郊農業が盛ん

.....

B 近郊農業がさかん

.....

C いちご・かんぴょう日本一

.....

D こんにゃくも日本一

.....

E 総人口700万人。ただし屋の人口は600万人

.....

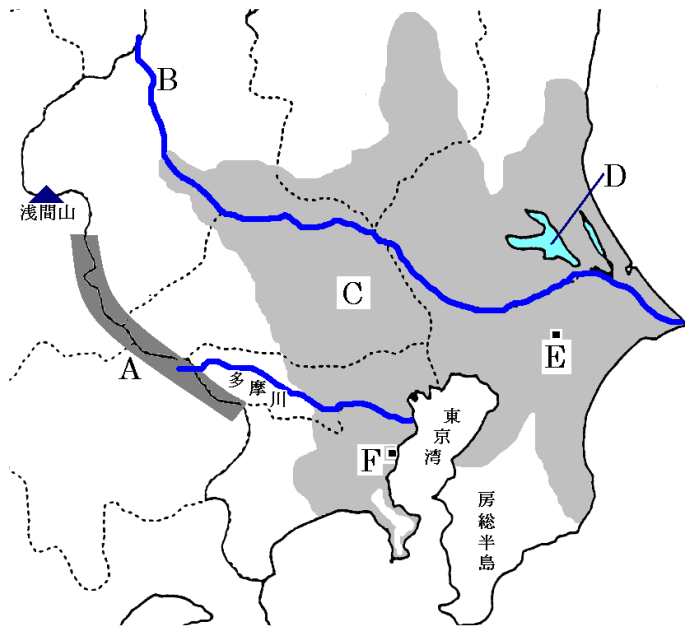
F 日本の首都。政治・経済・文化の中心。人口1200万人

.....

G 人口900万人。横浜港は最大の貿易港

.....

## ● 主な地形



A 山地

..... 山地

B 日本で二番目に長い

..... 川

C 日本最大の平野

..... 平野

D 日本で二番目に広い湖

.....

E 世界と日本を結ぶ空の玄関

.....

F 日本有数の貿易港

.....

**解答** 前のページそのまま

## 関東地方②

【解説】流れ 教科書の重要キーワードをチェックした後、問題へ！



### ● 東京

• 日本のお都……政治・経済・文化の中心

• ① 過密……人口が集中しすぎるこ。地価の高騰・ごみ問題など

• ② ドーナツ化現象……都心部の人口が減り、郊外の人口が増加する現象。

→ 近年は都心で再開発が進められ、都心部の人口が増加傾向にある

• ③ ニュータウン……郊外に建設された大規模な住宅地

• 昼夜間人口……周辺から東京に④ 通勤 ・ 通学 する人が多いため、東京は昼の人口が多い

### ● 関東地方の農業

• ① 近郊農業……大都市の周辺で大都市向けに野菜などを出荷する農業。千葉・茨城・群馬は農業が盛ん

• ② 輸送園芸農業……遠い地域から保冷トラックで大都市向けに農作物を出荷する農業。

群馬県嬬恋村のキャベツなど

### ● 関東地方の工業

• ① 京浜……工業地帯……東京・神奈川の臨海部に発達する工業地帯

• ② 京葉……工業地域……千葉の臨海部に発達する工業地域。石油化学工業が盛ん

• 内陸部……高速道路沿いに工業団地が発達。③ 機械 工業が発達

# 【教科書の重要語句】《一問一答》問題文ごと暗記しよう！

- ① 人口が集中しすぎることを\_\_\_\_\_という。 ① \_\_\_\_\_
- ② 都心部の人口が減り、郊外の人口が増加する現象を\_\_\_\_\_という。 ② \_\_\_\_\_
- ③ ②の結果、郊外に建設された大規模な住宅地を\_\_\_\_\_という。 ③ \_\_\_\_\_
- ④ 東京は昼は周りの地域から\_\_\_\_\_や通学をする人が多いため、昼間人口が多い。 ④ \_\_\_\_\_
- ⑤ 大都市の周辺で大都市向けに野菜などを出荷する農業を\_\_\_\_\_という。 ⑤ \_\_\_\_\_
- ⑥ 遠い地域から保冷トラックで大都市向けに農作物を出荷する農業を\_\_\_\_\_という。 ⑥ \_\_\_\_\_
- ⑦ 東京・神奈川の臨海部に発達する工業地帯を\_\_\_\_\_という。 ⑦ \_\_\_\_\_
- ⑧ 千葉の臨海部に発達する工業地域を\_\_\_\_\_という。 ⑧ \_\_\_\_\_
- ⑨ 栃木や群馬など関東地方の内陸部では\_\_\_\_\_が発達している。 ⑨ \_\_\_\_\_
- ⑩ 日本最大の空港は\_\_\_\_\_だ。 ⑩ \_\_\_\_\_
- ⑪ 神奈川県の本庁所在地は、\_\_\_\_\_市だ ⑪ \_\_\_\_\_

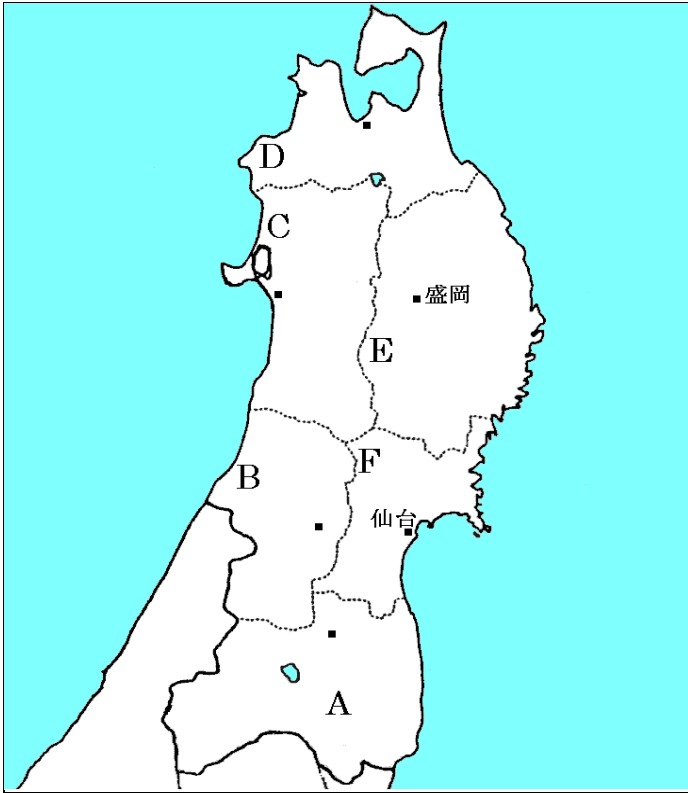
## 解答

- ① 過密
- ② ドーナツ化現象
- ③ ニュータウン
- ④ 通勤
- ⑤ 近郊農業
- ⑥ 輸送園芸農業
- ⑦ 京浜工業地帯
- ⑧ 京葉工業地域
- ⑨ 機械工業
- ⑩ 成田国際空港
- ⑪ 横浜

# 東北地方

## 【解説】流れ 教科書の重要キーワードをチェックした後、問題へ！

### ● 主な都道府県の確認



A 東北地方では最も工業が盛ん

福島県

B さくらんぼ(おうとう)日本一

山形県

C 稲作が盛ん

秋田県

D リンゴ日本一

青森県

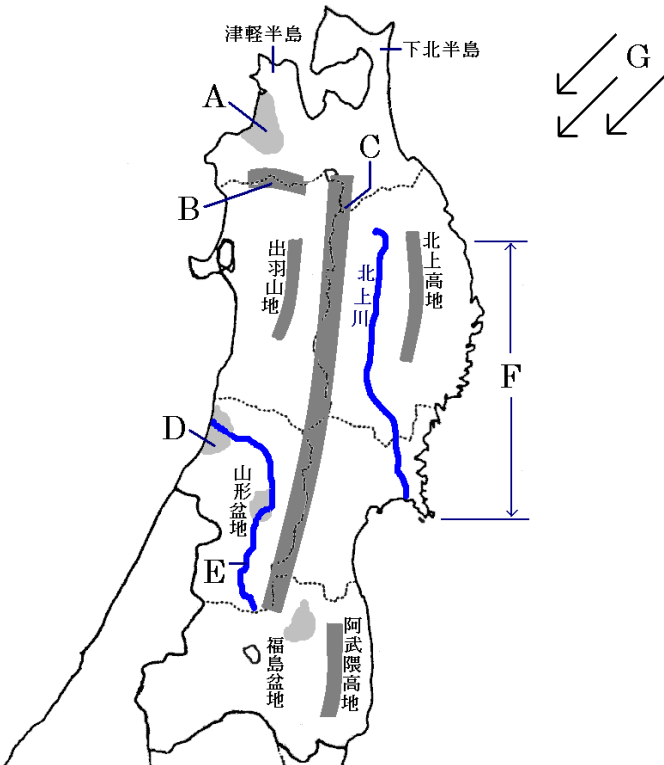
E 面積日本二位

岩手県

F 東北地方の中心となる県

宮城県

### ● 主な地形



A リンゴの栽培が盛ん

津軽

平野

B 世界遺産。天然のブナ林

白神

山地

C 日本一長い山脈

奥羽

山脈

D 稲作が盛んな

庄内

平野

E 松尾芭蕉の俳句でも有名

最上

川

F 大地が沈んで出来たリアス海岸

三陸

海岸

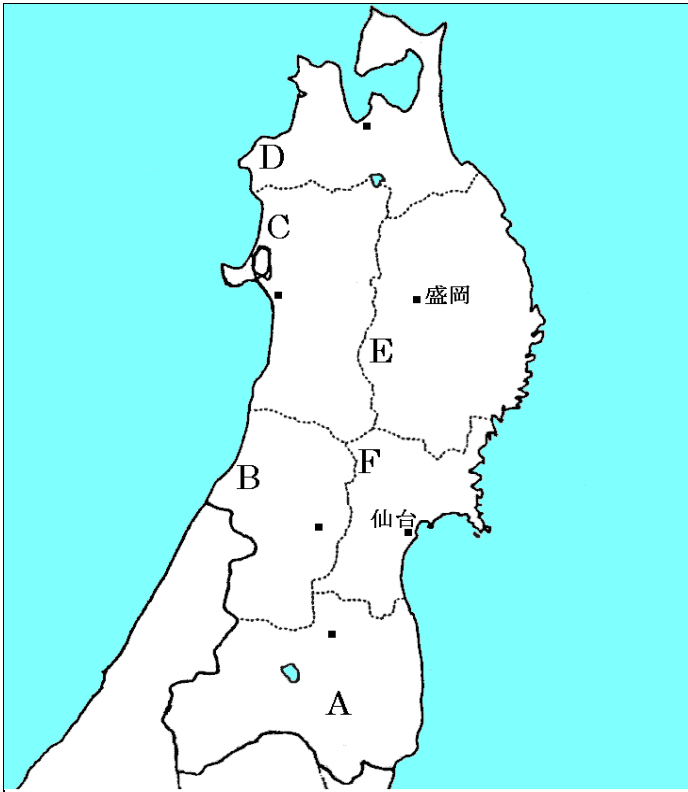
G 夏に吹く北東からの風。冷害をひきおこす

やませ

\* 関東地方の冬の風は、「からっ風」

# 【教科書の重要語句】《一問一答》問題文ごと暗記しよう！

## ● 主な都道府県の確認



A 東北地方では最も工業が盛ん

.....

B さくらんぼ(おうとう)日本一

.....

C 稲作が盛ん

.....

D リンゴ日本一

.....

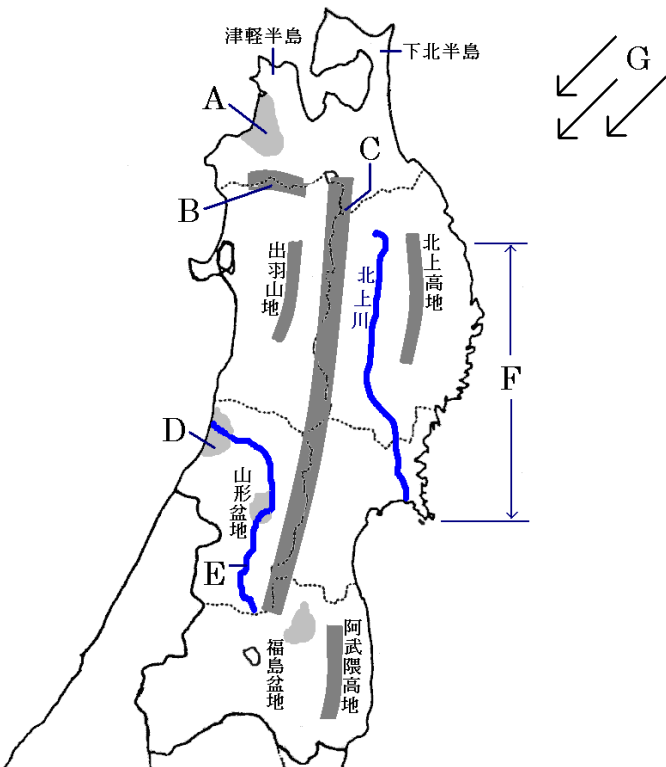
E 面積日本二位

.....

F 東北地方の中心となる県

.....

## ● 主な地形



A リンゴの栽培が盛ん

..... 平野

B 世界遺産。天然のブナ林

..... 山地

C 日本一長い山脈

..... 山脈

D 稲作が盛んな

..... 平野

E 松尾芭蕉の俳句でも有名

..... 川

F 大地が沈んで出来たリアス海岸

..... 海岸

G 夏に吹く北東からの風。冷害をひきおこす

.....

\* 関東地方の冬の風は、「からっ風」

**解答** 前のページそのまま

## 東北地方②

【解説】流れ 教科書の重要キーワードをチェックした後、問題へ！



### ● 東北地方の農業

- 日本の穀倉地帯……稲作が盛んで、各地で① 銘柄米(ブランド米) の生産が盛ん  
あきたこまち(秋田)、はえぬき(山形)、ひとめぼれ(宮城)、つがるロマン(青森)
- 津軽平野……② リンゴ の生産が盛ん \*リンゴの生産2位は長野県
- 山形盆地、福島盆地……山形盆地では③ おうとう(さくらんぼ)、福島盆地ではももの生産が盛ん
- 北上高地……④ 酪農(畜産) が盛ん

### ● 漁業

- ① 潮目 ……暖流と寒流がぶつかる場所。好漁場
- ② リアス(式)海岸 ……大地が沈んで出来た海岸。湾内は波が穏やかである
- ③ 養殖 ……いけすの中で育てて出荷する漁業。三陸海岸沖ではわかめやこんぶが盛ん

### ● 工業

- ① 伝統工業 ……地元の木材や鉱産資源で工芸品をつくる産業。岩手の南部鉄器や山形の天童将棋駒
- 高速道路沿い……IC 工業や電子機械工業が進出

# 【教科書の重要語句】《一問一答》問題文ごと暗記しよう！

- ① 東北地方は日本の穀倉地帯で米の中でも\_\_\_\_\_の生産が盛んである。 ① \_\_\_\_\_
- ② 津軽平野では\_\_\_\_\_の生産が盛んだ。 ② \_\_\_\_\_
- ③ \_\_\_\_\_山地は天然のブナ林で世界遺産に登録された。 ③ \_\_\_\_\_
- ④ 山形は\_\_\_\_\_の栽培がととも盛んで、全国一である。 ④ \_\_\_\_\_
- ⑤ 暖流と寒流がぶつかる場所を\_\_\_\_\_という。 ⑤ \_\_\_\_\_
- ⑥ 大地が沈んで出来た海岸をリアス海岸とよび、岩手県の\_\_\_\_\_が有名である。 ⑥ \_\_\_\_\_
- ⑦ ⑥の海岸では、わかめや昆布などの\_\_\_\_\_が盛んにおこなわれている。 ⑦ \_\_\_\_\_
- ⑧ 東北地方の夏にふく冷たい風を\_\_\_\_\_という。 ⑧ \_\_\_\_\_
- ⑨ 東北地方では高速道路の近くに\_\_\_\_\_工場が建設された。 ⑨ \_\_\_\_\_
- ⑩ 地元の資源で工芸品を作る工業を\_\_\_\_\_といい、岩手の南部鉄器などが有名だ。 ⑩ \_\_\_\_\_

## 解答

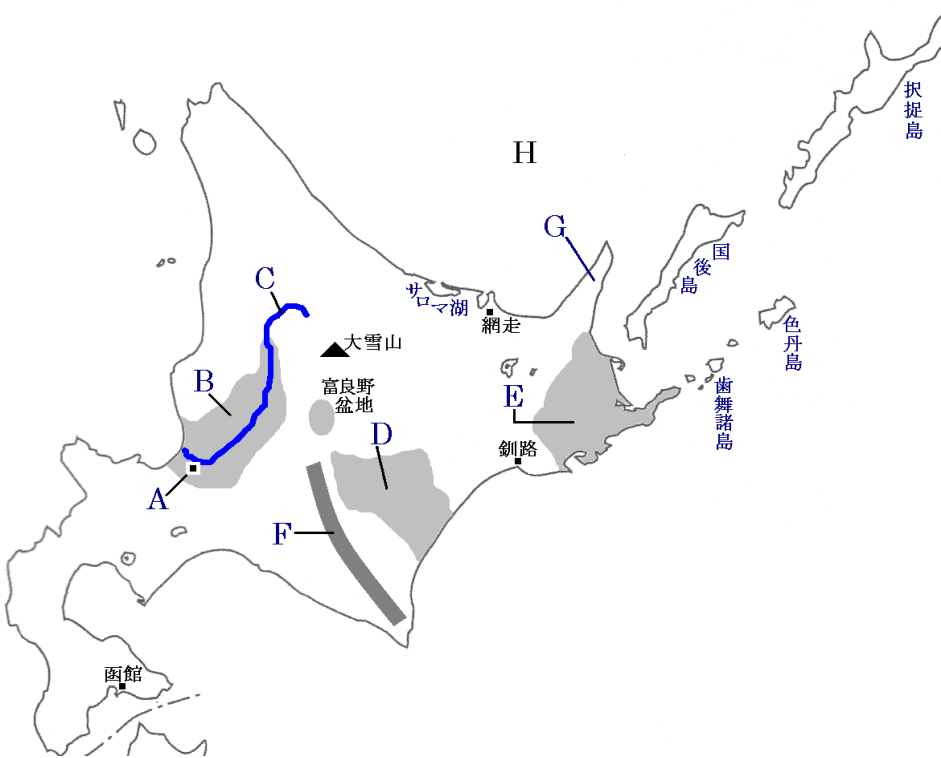
- ① 銘柄米(ブランド米)  
② リンゴ  
③ 白神  
④ おうとう(さくらんぼ)  
⑤ 潮目  
⑥ 三陸海岸  
⑦ 養殖  
⑧ やませ  
⑨ IC(電子機械)  
⑩ 伝統工業



# 北海道地方

## 【解説】流れ 教科書の重要キーワードをチェックした後、問題へ！

### ● 地形



A 北海道の道庁所在地

札幌市

B 客土により稲作が可能になった平野

石狩平野

C 北海道を流れる大河

石狩川

D ジャガイモなど、畑作が中心

十勝平野

E 酪農が盛んな台地。濃霧もよく発生

根釧台地

F 険しい山脈

日高山脈

G 世界遺産に登録された半島

知床半島

H 流水が流れる海

オホーツク海

### ● 北海道の歴史

① アイヌ民族 ……北海道の先住民族

② 屯田兵 ……明治時代に大規模な開拓をおこなった兵士兼農民

### ● 北海道の農業

① 主業農家 ……農業収入中心の農家。北海道は大規模な農家が多い

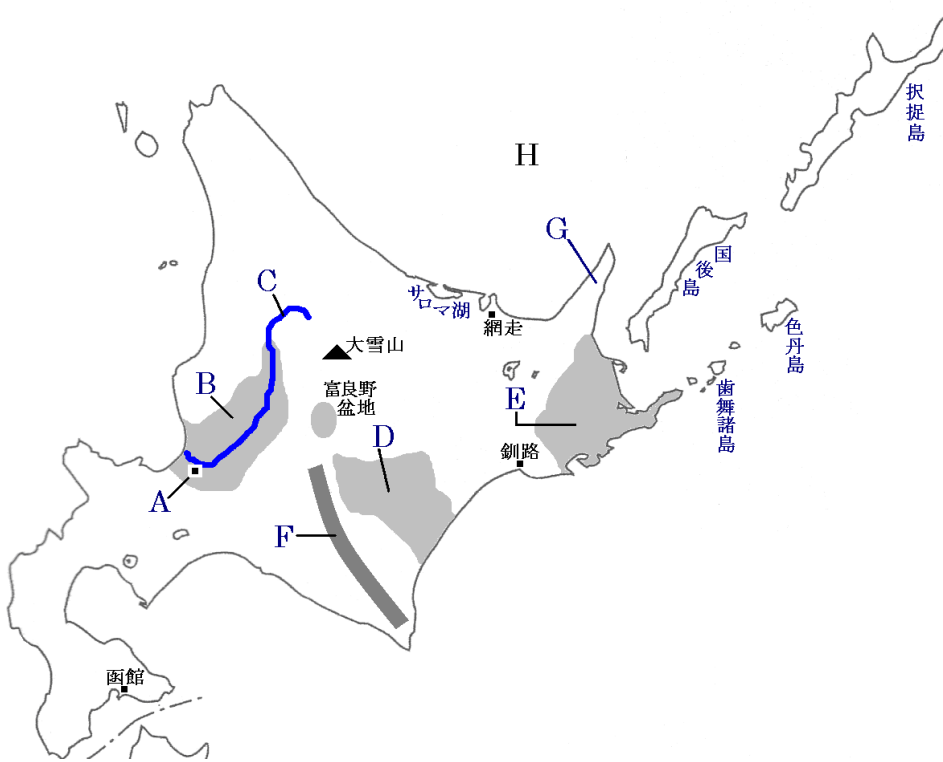
② 輪作 ……同じ土地で年や時期ごとに異なる野菜を順番につくる

(理由: 同じ作物ばかりだと土の同じような栄養分が奪われるため、連続して作れないため)

石狩平野……稲作、 十勝平野……畑作 根釧台地……酪農

# 【教科書の重要語句】《一問一答》問題文ごと暗記しよう！

## ● 地形



A 北海道の道庁所在地

B 客土により稲作が可能になった平野

C 北海道を流れる大河

D ジャガイモなど、畑作が中心

E 酪農が盛んな台地。濃霧もよく発生

F 険しい山脈

G 世界遺産に登録された半島

H 流水が流れる海

① 北海道の道庁所在地は\_\_\_\_\_である。

① \_\_\_\_\_

② 世界遺産に登録された半島は\_\_\_\_\_である。

② \_\_\_\_\_

③ 北海道の\_\_\_\_\_平野流域では稲作が盛んである。

③ \_\_\_\_\_

④ 十勝平野では\_\_\_\_\_が盛んだ。

④ \_\_\_\_\_

⑤ 根釧台地では家畜を飼って乳製品を出荷する\_\_\_\_\_が盛んだ。

⑤ \_\_\_\_\_

⑥ 北海道の先住民族は\_\_\_\_\_民族である。

⑥ \_\_\_\_\_

⑦ 明治時代に大規模な開拓をおこなったのは\_\_\_\_\_とよばれる人たちである。

⑦ \_\_\_\_\_

⑧ 北海道は、他の日本の地域と比較して\_\_\_\_\_な農家が多い。

⑧ \_\_\_\_\_

⑨ 農業を主としている農家を\_\_\_\_\_という。

⑨ \_\_\_\_\_

⑩ 同じ土地で年や時期ごとに異なる野菜を順番につくることを\_\_\_\_\_という。

⑩ \_\_\_\_\_

⑪ 北方領土を占領しているのは\_\_\_\_\_である。

⑪ \_\_\_\_\_

# 解答

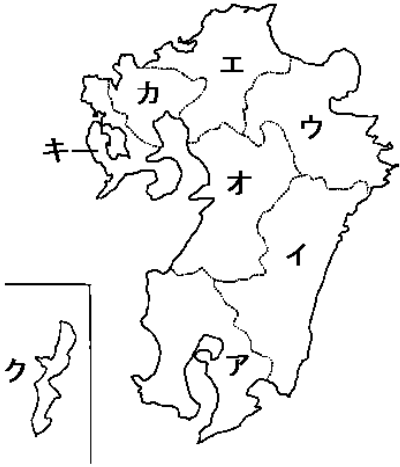


- |  |        |
|--|--------|
| ① 北海道の道庁所在地は_____である。                  | ① 札幌市  |
| ② 世界遺産に登録された半島は_____である。               | ② 知床半島 |
| ③ 北海道の_____平野流域では稲作が盛んである。             | ③ 石狩   |
| ④ 十勝平野では_____が盛んだ。                     | ④ 畑作   |
| ⑤ 根釧台地では家畜を飼って乳製品を出荷する_____が盛んだ。       | ⑤ 酪農   |
| ⑥ 北海道の先住民族は_____民族である。                 | ⑥ アイヌ  |
| ⑦ 明治時代に大規模な開拓をおこなったのは_____とよばれる人たちである。 | ⑦ 屯田兵  |
| ⑧ 北海道は、他の日本の地域と比較して_____な農家が多い。        | ⑧ 大規模  |
| ⑨ 農業を主としている農家を_____という。                | ⑨ 主業農家 |
| ⑩ 同じ土地で年や時期ごとに異なる野菜を順番につくることを_____という。 | ⑩ 輪作   |
| ⑪ 北方領土を占領しているのは_____である。               | ⑪ ロシア  |

# 都道府県マスター

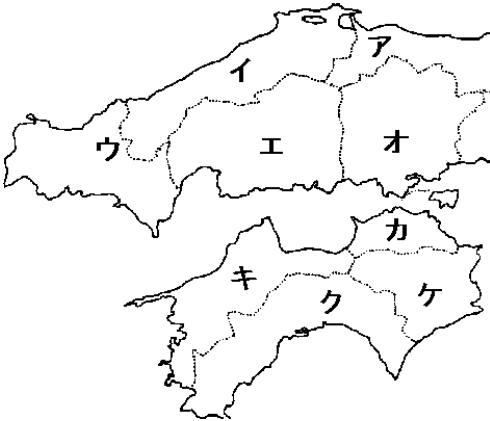
次の各地方の都道府県名を書きなさい。(都道府県と県庁所在地が異なるものだけ、県庁所在地を書きなさい。)

## ① 九州地方



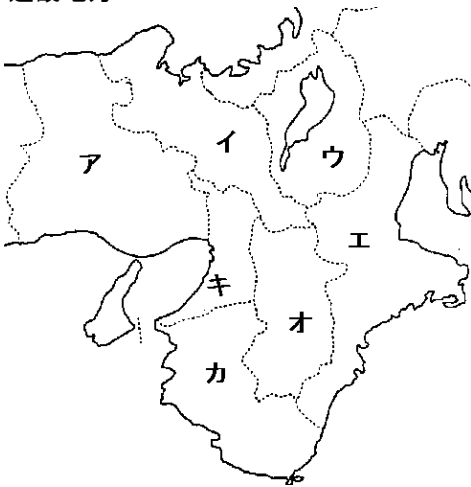
ア	.....	イ	.....
ウ	.....	エ	.....
オ	.....	カ	.....
キ	.....	ク	.....

## ② 中国・四国地方



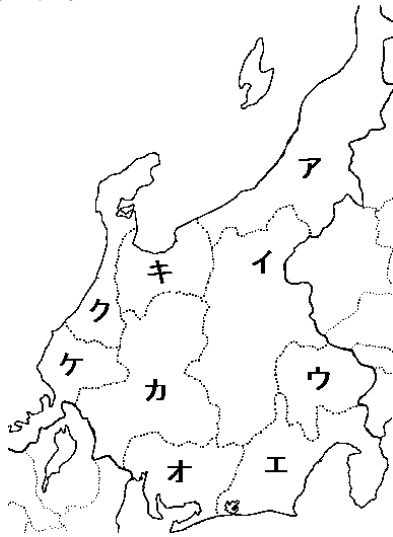
ア	.....	イ	.....
ウ	.....	エ	.....
オ	.....	カ	.....
キ	.....	ク	.....
ケ	.....		

## ③ 近畿地方



ア	.....	イ	.....
ウ	.....	エ	.....
オ	.....	カ	.....
キ	.....		

④ 中部地方



ア ..... イ .....

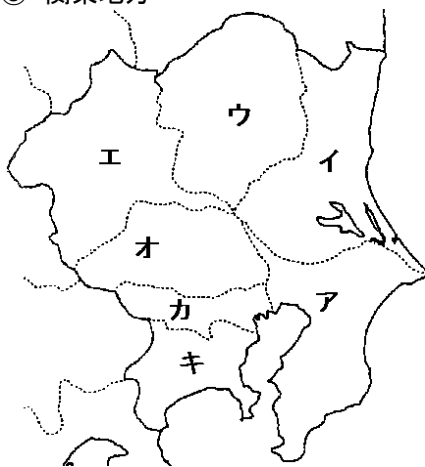
ウ ..... エ .....

オ ..... カ .....

キ ..... ク .....

ケ .....

⑤ 関東地方



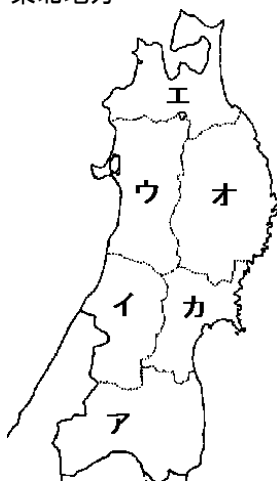
ア ..... イ .....

ウ ..... エ .....

オ ..... カ .....

キ .....

⑥ 東北地方



ア ..... イ .....

ウ ..... エ .....

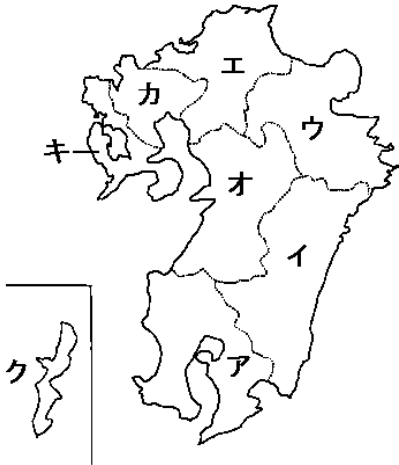
オ ..... カ .....

⑦ 北海道地方の道庁所在地は？ \_\_\_\_\_

# 解答

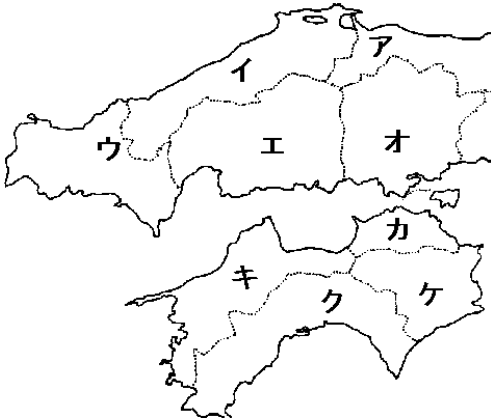
都道府県を暗記をするコツ:直接白地図に書き込むと良いです。場所をイメージできます。

## ① 九州地方



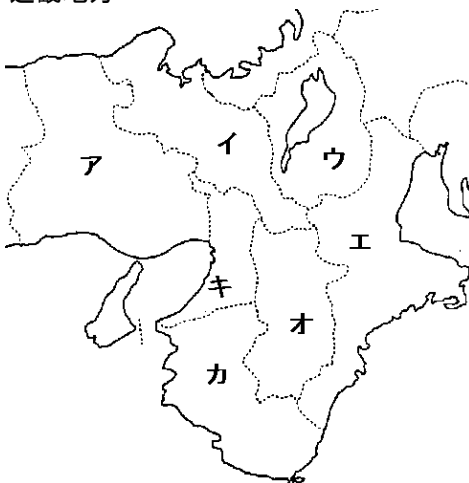
- |   |     |   |        |
|---|-----|---|--------|
| ア | 鹿児島 | イ | 宮崎     |
| ウ | 大分  | エ | 福岡     |
| オ | 熊本  | カ | 佐賀     |
| キ | 長崎  | ク | 沖縄(那覇) |

## ② 中国・四国地方



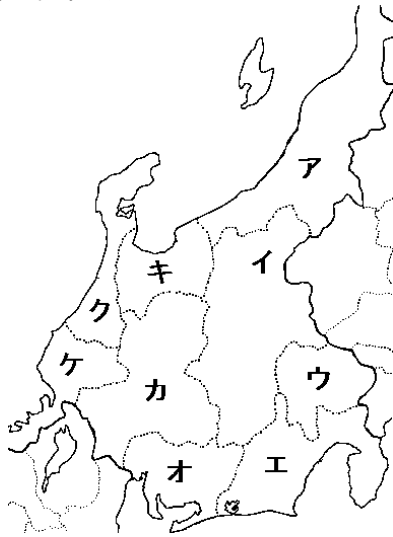
- |   |        |   |        |
|---|--------|---|--------|
| ア | 鳥取     | イ | 島根(松江) |
| ウ | 山口     | エ | 広島     |
| オ | 岡山     | カ | 香川(高松) |
| キ | 愛媛(松山) | ク | 高知     |
| ケ | 徳島     |   |        |

## ③ 近畿地方



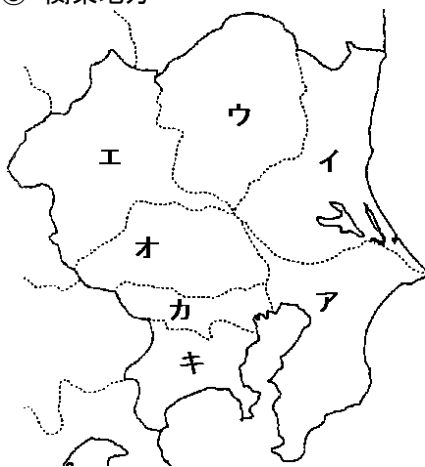
- |   |        |   |       |
|---|--------|---|-------|
| ア | 兵庫(神戸) | イ | 京都    |
| ウ | 滋賀(大津) | エ | 三重(津) |
| オ | 奈良     | カ | 和歌山   |
| キ | 大阪     |   |       |

④ 中部地方



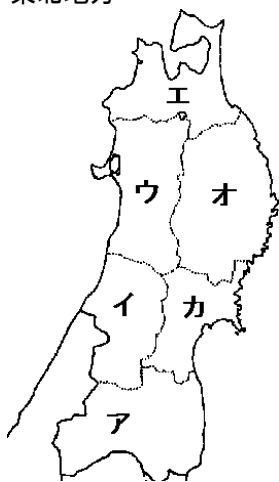
- |   |         |   |        |
|---|---------|---|--------|
| ア | 新潟      | イ | 長野     |
| ウ | 山梨(甲府)  | エ | 静岡     |
| オ | 愛知(名古屋) | カ | 岐阜     |
| キ | 富山      | ク | 石川(金沢) |
| ケ | 福井      |   |        |

⑤ 関東地方



- |   |          |   |        |
|---|----------|---|--------|
| ア | 千葉       | イ | 茨城(水戸) |
| ウ | 栃木(宇都宮)  | エ | 群馬(前橋) |
| オ | 埼玉(さいたま) | カ | 東京     |
| キ | 神奈川(横浜)  |   |        |

⑥ 東北地方



- |   |        |   |        |
|---|--------|---|--------|
| ア | 福島     | イ | 山形     |
| ウ | 秋田     | エ | 青森     |
| オ | 岩手(盛岡) | カ | 宮城(仙台) |

⑦ 北海道地方の道庁所在地は？ 札幌市