

中学歴史の基礎すべて

☆歴史を勉強するときのコツ

キーワード → **時代名(年号)** 言えるように!

令和4年 入試問題

3 次のI～Vは、Mさんが、五つの異なる時代の仏教に関することについて調べ、まとめたものです。これを見て、問1～問5に答えなさい。(16点)

I	仏教や儒教の考え方を取り入れた十七条の憲法が定められ、天皇を中心とする政治にはげむよう、役人の心構えが示された。
II	中国の僧である鑑真は、何度も航海に失敗し、失明しながらも日本に渡って、仏教の教えを広めた。また、行基は一般の人々の間で布教し、人々とともに橋や用水路をつくった。
III	日蓮は、法華経の題目を唱えれば、人も国も救われると説いた。また、中国に渡った栄西や道元は、座禅による厳しい修行で自ら悟りを開こうとする禅宗を日本に伝えた。
IV	禅僧は、幕府の使者として中国・朝鮮に派遣され、政治や外交で重要な役割を果たした。また、足利義政が建てた銀閣の東求堂阿仁齋には、書院造が取り入れられた。
V	幕府は、キリスト教を禁じる禁教令を出した。また、宗門改で仏教徒であることを寺に証明させ、葬式も寺で行われるようになった。

問1 Iの時代における日本と中国との関係について述べた文として正しいものを、次のア～エの中から一つ選び、その記号を書きなさい。(2点)

- ア 孫馬台国の卑弥呼は、倭の30ほどの小さな国々を従え、魏の都に使者を送り、魏の皇帝から「親魏倭王」という称号と金印を授けられた。 *孫生時代*
- イ 日本は、小国に分かれた中国を統一した宋とは正式な国交を結ばなかったが、民間の商人による貿易は行われた。 *日宋貿易 = 平安時代*
- ウ 南北朝を統一した隋との国交を開き、進んだ文化を取り入れようとして、小野妹子らが使者として派遣された。 *飛鳥時代*
- エ 日本から唐にたびたび使者などが送られるなか、阿倍仲麻呂は、日本に帰国せず、唐で一生を終えた。 *奈良時代*







上の入試問題を見ればわかる通りに、教科書の太文字レベルの重要キーワードを見たら、その時代名が言えるようにしよう!

これから時代ごとに教科書の太文字キーワードを学習していきます。

【解説ページ】 歴史流れ

軽くチェックした後、次のページで一問一答に挑戦しよう！
文明のおこり

● 年表で確認 1

約 700～600 万年前	最古の人類である① ^{えんじん} 猿人 がアフリカ大陸にあらわれる。 → 直立歩行し、② 道具 を使用する	
約 250 万年前	^{ひょうが} 氷河時代に入る。このあと ^{おんだん} 温暖な時期 (間氷期) と氷期がくり返される。	
約 200 万年前	中国やジャワ島で③ ^{げんじん} 原人 があらわれる。 → ほら穴に住み、言葉や④ 火 を使用する 石をうち欠いた⑤ ^{だせいせつき} 打製石器 を使う。	 
約 20 万年前	クロマニヨン人など人類の直接の祖先である⑥ ^{しんじん} 新人 があらわれる 以上の時代を石器にちなんで⑦ ^{きゆうせつき} 旧石器 時代という。ナウマン象などを食べて生活 群馬県の⑧ ^{いわじゆく} 岩宿 遺跡が有名。相沢忠洋さんが発見	 
約 1 万年前	氷河期が終わり、気温が上がる。 → 植物がよく育ち、動物も増える 表面をみがいた⑨ ^{ませいせつき} 磨製石器 や、食物を煮るための⑩ ^{どき} 土器 が発明される → ここからの時代を⑪ ^{しんせつき} 新石器 時代という	

【一問一答ページ】教科書の太文字キーワードを暗記！！

●● 確認問題 1

A

- ① 最古の人類を何というか。 ①
- ② ①の人類は直立歩行のほかに何が出来るようになったか。 ②
- ③ 250 年前に、地球は____期に入った。____にあてはまる語句を書け。 ③
- ④ 200 万年前に中国の北京やインドネシアのジャワ島で発見された人類を何というか。 ④
- ⑤ ④の人類は言葉のほかに何を使用したか。 ⑤
- ⑥ 石をうち欠いて作った石器を何というか。 ⑥
- ⑦ 20 万年前にあらわれた、現在の人類の直接の祖先を漢字2字で何というか。 ⑦
- ⑧ 人々が⑥の石器を使用していた時代を何時代とよぶか。 ⑧
- ⑨ 群馬県にある⑧の遺跡を何というか。 ⑨

B

- ① 表面を磨いた石器を何というか。 ①
- ② 食物を煮るためにつくられたものは何か。 ②
- ③ 約一万年前から、①の石器を使用していた時代を何というか。 ③

C

①



何か

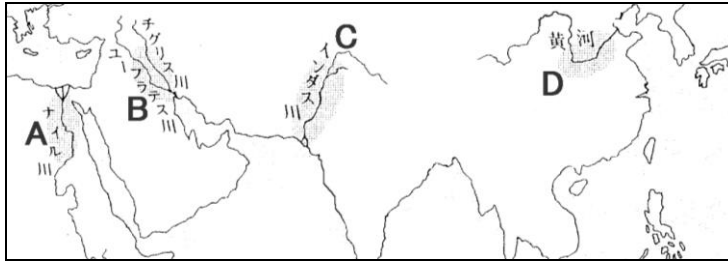
②



何か

● 年表で確認 2

紀元前 3000 年 4大文明 → 川の流域で発達する

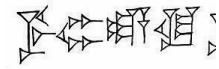


A. **エジプト** 文明 (ピラミッド・象形文字・太陽暦など)



Aの文字

B. **メソポタミア** 文明 (くさび文字・太陰暦)



C. **インダス** 文明 (モヘンジョ・ダロ遺跡など)



Bの文字

D. **中国(黄河)** 文明 (甲骨文字など)



Dの文字



紀元前 1500 年 ① **殷** という国ができる

周のあと、春秋・戦国時代になる。② **孔子** が儒学(儒教)をおこす

紀元前 221 年 ③ **秦** が中国を統一。始皇帝は万里の長城をつくる。始皇帝の墓の跡から兵馬俑が見つかる

紀元前 202 年 始皇帝の死後、④ **漢** が中国を統一



西アジアとは⑤ **シルクロード (絹の道)** でつながり交易が盛んになる

1 世紀初め イエスが⑥ **キリスト** 教をおこす。その後 4 世紀にローマ帝国で認められ、広まる

● ここも大切！表をうめて、世界三大宗教をまとめよう！

	仏教(紀元前 5 世紀)	キリスト教(1 世紀)	イスラム教(7 世紀)
ひらいた人物	① シャカ	② イエス・キリスト	③ ムハンマド
教典	④ 経	⑤ 聖書	⑥ コーラン

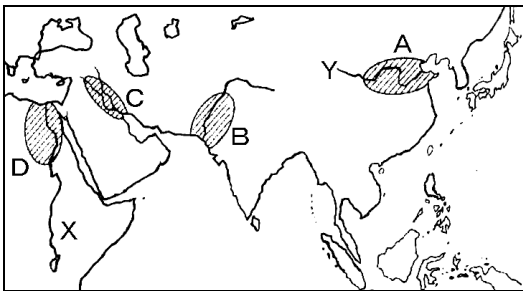
●● 確認問題 2

A

- ① ナイル川流域に発達した文明を何というか。 ① _____
- ② ①の文明の遺跡である王の墓を何というか。 ② _____
- ③ チグリス川・ユーフラテス川流域に発達した文明を何というか。 ③ _____
- ④ インダス川流域に発達した文明を何というか。 ④ _____
- ⑤ 黄河流域に発達した文明を何というか。 ⑤ _____
- ⑥ ⑤の文明で発明された文字を何というか。 ⑥ _____
- ⑦ 中国で戦国時代に孔子の説いた教えを何というか。 ⑦ _____
- ⑧ 紀元前 221 年に中国を統一した国を何というか。 ⑧ _____
- ⑨ ⑧を統一した人物は何とよばれていたか。 ⑨ _____
- ⑩ ⑨が北方の遊牧民の侵入を防ぐために作らせたものは何か。 ⑩ _____
- ⑪ ⑨の死後に中国を統一した国は何か。 ⑪ _____
- ⑫ ヨーロッパと西アジアと中国を結んだ道を何というか。 ⑫ _____
- ⑬ キリスト教を開いた人物はだれか。 ⑬ _____





B

次のA～Dの地域でおこった文明と、XとYの川の名前を書きなさい。



- A _____ 文明 B _____ 文明
- C _____ 文明 D _____ 文明
- X _____ Y _____

C 問いに答えなさい。

- ①  何か? _____
- ②  遺跡名は? _____
- ③  文字名は? _____
- ④  人形を何というか? _____

縄文時代と弥生時代

● 年表で確認 1

1 万年前

日本列島ができる。 → 縄文時代


代表的な遺跡・・・青森県のさんないまるやま三内丸山遺跡

① **たて穴住居** に住み、狩りや採集をして生活

② **じょうもんどき 縄文土器**縄目の文様の土器

③ **どぐう 土偶**魔よけにつかう

④ **かいづかどぐう 貝塚土偶**食べ物の残りかすを捨てた



紀元前4C ごろ
(2300年前)

大陸から⑤ **いなさく 稲作**や金属器が伝わる → 弥生時代

代表的な遺跡・・・よしのがり吉野ヶ里遺跡(佐賀)

⑥ **たかゆかそうこ 高床倉庫**稲をたくわえる

⑦ **どうたく 銅鐸**祭りの宝物

貧富の差がうまれて国ができる



57 年

100 余りの国の一つ、⑧ **なこく 奴国**が漢に使いを送り、きんいん金印をもらう



239 年

やまたいこく邪馬台国の女王、⑨ **ひみこ 卑弥呼**が魏に使いを送る

邪馬台国の王はもともと男であったが、戦乱が続いたので、30 余りの国が協力して女の卑弥呼を王に立てた。彼女は神に仕え、夫はなく、弟がたすけて国を治めている。

(魏志倭人伝)

●● 確認問題 1

A

- ① 現在の日本列島が出来たのはおよそ何年前か。 ① _____
- ② 縄文時代の人々が住んでいた住居を何というか。 ② _____
- ③ 縄文時代の人々が魔よけに使用していたものは何か。 ③ _____
- ④ 縄文時代の人々が食べ物の残りかすを捨てていた場所を何というか。 ④ _____
- ⑤ 青森県にある縄文時代の代表的な遺跡を書け。 ⑤ _____
- ⑥ 2300 年前に大陸から伝わったものは金属器と何か。 ⑥ _____
- ⑦ 弥生時代に稲をたくわえた倉庫を何というか。 ⑦ _____
- ⑧ 57 年に漢(中国)に使いを送った国はどこか。 ⑧ _____
- ⑨ ⑧の国は漢の皇帝から何を授かったか。 ⑨ _____
- ⑩ 239 年に魏(中国)に使いを送った国はどこか。 ⑩ _____
- ⑪ ⑩の国の王は誰か。 ⑪ _____
- ⑫ 佐賀県にある弥生時代の代表的な遺跡を何というか。 ⑫ _____
- ⑬ 次の A～C を何というか。 ⑬ _____



- A _____
- B _____
- C _____

古墳時代

弥生時代、貧富の差がおこり各地に国ができた

古墳時代

300 年頃

近畿地方の① **大和政権 (ヤマト王権)** が全国に支配を広げる

② **大王** ……①の支配者。支配者はのちに③ **天皇** とよばれる

その一人、武は中国 (宋・南朝) に使いを送った

わたしの祖先は、みずからよろいやかぶとを身につけ、山や川をかけめぐり、東は 55 国、西は 66 国、さらに海をわたって 95 国を平定しました。高句麗がじゃまをしています。わたしに高い官位をあたえてください。(武の手紙)

④ **前方後円墳** ……代表的な古墳の形



⑤ **はにわ** ……古墳の出土品



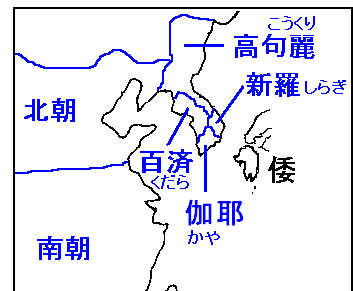
400 年頃

大陸から⑥ **渡来人** が日本に来る。漢字などを伝える

538 年

百済から⑦ **仏教** が伝わる

数十年後、聖徳太子が広める



●● 確認問題 2

A

- ① 300年～400年に近畿地方でおこった強大な国を何というか。
- ② ①の支配者を何というか。
- ③ ②はやがて何とよばれるようになったか。
- ④ 古墳から出土される素焼きの土器を何というか。
- ⑤ 大陸から日本にやってきた人を何というか。
- ⑥ ⑤の人々が日本に伝えたものを1つ書け。
- ⑦ 次のAを何というか。また、Bの古墳の形を何というか。

①

②

③

④

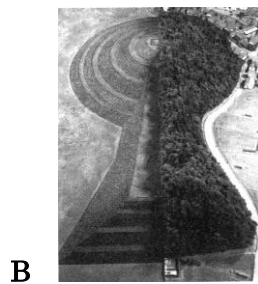

⑤

⑥

⑦

A

B

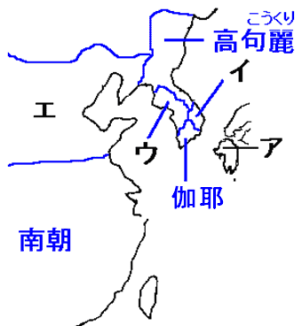


- ⑧ 538年に百済より日本に伝わったものは何か。

⑧

B

次は5世紀ごろの東アジアの様子である。ア～エの国名(王朝名)を書きなさい。



ア

イ

ウ

エ

飛鳥時代

● 年表で確認

593年

A

^{しょうとくたいし}
聖徳太子

……推古天皇の摂政となる



一に曰く、和をもって貴しとなし、逆らうことなきを宗とせよ。
二に曰く、あつく三宝を敬え。三宝とは仏、法、僧なり。
三に曰く、詔(みことり=天皇の命令)をうけたまわりては必ずつつしめ。

①

^{かんいじゅうにかい}
冠位十二階

……身分に関係なく役人にとりたてる

②

^{じゅうしちじょう けんぼう}
十七条の憲法

……役人の心得をしめす

③

^{けんずいし}
遣隋使

……小野妹子を派遣

④

^{ほうりゅうじ}
法隆寺

……飛鳥文化を代表する世界最古の木造建築。世界遺産



618年

隋が減び、唐がおこる

645年

⑤

^{たいか かいしん}
大化の改新

……中大兄皇子(後の天智天皇)と中臣鎌足が蘇我氏を倒して始めた改革

⑥

^{こうちこうみん}
公地公民

……土地と人民を国が直接支配

⑦

^{はんでんしゅうじゅほう}
班田収授法

……戸籍を作り、6歳以上の男女に口分田をわたす



663年

⑧

^{はくそんこう}
白村江の戦い

……百済を助けるため、唐・新羅連合軍と戦う

672年

⑨

^{じんしん らん}
壬申の乱

……^{てんじてんのう}天智天皇の死後、大海人皇子と大友皇子による跡継ぎ争い

701年

⑩

^{たいほうりつりょう}
大宝律令

……唐の法律にならう。全国を支配するしくみができる

●● 確認問題

A

- ① 聖徳太子は、_____の摂政となった。 ① _____
- ② 聖徳太子は才能や功績のある人物を役人に取り立てるために_____をだした。 ② _____
- ③ 聖徳太子は役人の心構えを示すために_____を出した。 ③ _____
- ④ 東アジアで日本の立場を有利にし、進んだ制度を取り入れるため_____使を派遣した。 ④ _____ 使
- ⑤ ④には_____が派遣された。 ⑤ _____
- ⑥ 聖徳太子が建てた_____は世界最古の木造建築として有名である。 ⑥ _____
- ⑦ 中国では618年に隋が滅び、かわって_____がおこった。 ⑦ _____

B

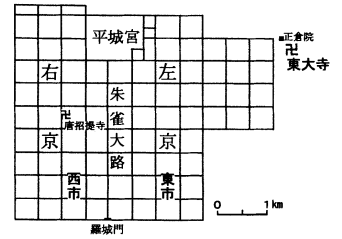
- ① 聖徳太子の死後、蘇我氏が勢力をふるったが、_____と中臣鎌足らによって倒された。 ① _____
- ② 豪族が持っていた土地と人々を国家の支配のもとにおくことを_____という。 ② _____
- ③ 6歳以上の男女に口分田をわたし、税を負担させるしくみを_____という。 ③ _____
- ④ 645年にはじまったこれらの改革を_____という。 ④ _____
- ⑤ 中大兄皇子は_____天皇に即位した。 ⑤ _____
- ⑥ 日本は百済を救済するために唐、_____連合軍と戦った。 ⑥ _____
- ⑦ この戦いを_____という。日本は^{おおのじょう}大野城や^{みずき}水城などの^{ぐんじしせつ}軍事施設を作り、^{らいしゅう}来襲に備えた。 ⑦ _____
- ⑧ 天智天皇の死後、大海人皇子と大友皇子による争いを_____という。 ⑧ _____
- ⑨ この争いに勝った大海人皇子は_____天皇となり、政治改革をすすめた。 ⑨ _____
- ⑩ 701年、_____が制定され、全国を支配する仕組みがととのった。 ⑩ _____

奈良時代

● 年表で確認

710年 ① ^{へいじょうきょう}平城京唐の都長安をまねる。都ははなやか
農民の負担はきびしかった

種類	内容
② ^そ 租	稲の収穫の3%をおさめる
③ ^{ちょう} 調	地方の特産物を都まで運んで納める
④ ^{よう} 庸	労役のかわりに布を納める
⑤ ^{さきもり} 防人	三年間、北九州の守りにつく



人並みにせつせと働いているのに海草のような服しか着られず、つぶれそうな傾いた家のなかで、地べたにわらを敷いて父母は枕の方に、妻や子は足の方に、寝ころんだ私に身を寄せて嘆き悲しんでいる。ご飯をたくかまどもにも蜘蛛が巣をはってしまった。それなのにむちを持った里長が、税を出せと戸口でわめいている。こんなにもつらいものなのか。この世に生きていくのは。



724年 A ^{しやう ひてんのつ}聖武天皇仏教の力で国を治めようとした。


⑥ ^{こくぶ}国分 寺・ ^{こくぶんに}国分尼 寺諸国に建てる。都には東大寺。 ^{ぎやうき}行基などの名僧もあらわれる

743年 ⑦ ^{こんでんえいねんしざいほう}墾田永年私財法新しく開墾した土地の私有を認める法。公地公民がくずれる

→ ⑧ ^{しやうえん}荘園の発生

奈良時代の文化

⑨ ^{てんぴやう}天平文化西アジアや唐の影響をうけた国際色豊かな文化



⑩ ^{しやうそういん}正倉院聖武天皇の愛用品が納められている。
(東大寺の中にある)

B ^{がんじん}鑑真盲目になりながらも来日。 ^{とうしやうだいじ}唐招提寺



⑪ ^{まんやうしゅう}万葉集最古の和歌集。他、古事記や日本書紀などの歴史書もつくられる

●● 確認問題

A

- ① 710年、唐の都の長安にならって_____がつくられ、奈良時代がはじまった。 ① _____
- ② 地方の特産物を納める税を_____という。 ② _____
- ③ 労役のかわりに布を負担する税を_____という。 ③ _____
- ④ 稲の収穫の3%を納める税を_____という。 ④ _____
- ⑤ 兵役では、3年間北九州の警備につく_____があった。 ⑤ _____
- ⑥ 奈良時代、_____は仏教の力によって国を治めようとした。 ⑥ _____
- ⑦ ⑥の天皇は国ごとに_____や国分尼寺をたてた。 ⑦ _____
- ⑧ ⑥の天皇は都には_____をたてた。 ⑧ _____
- ⑨ 口分田が不足してきたため、743年、_____が制定された。 ⑨ _____
- ⑩ ⑨の法が制定されたため、土地は国のものであるという_____の原則がくずれた。 ⑩ _____
- ⑪ ⑨の法の制定後にできた、貴族や寺社の私有地を_____という。 ⑪ _____

B

- ① 奈良時代の文化を_____文化という。 ① _____
- ② 東大寺の_____には聖武天皇の愛用品が納められている。 ② _____
- ③ 奈良時代には神話や伝承を記録にまとめるうごきがおこり古事記や_____が作られた。 ③ _____
- ④ 奈良時代には初めての和歌集である_____も作られた。 ④ _____
- ⑤ _____は盲目になりながらも来日し、仏教の発展につくした。 ⑤ _____

平安時代

● 年表で確認

794年	A	^{かんむてんのう} 桓武天皇 が、① ^{へいあんきょう} 平安京 に都を移す……仏教勢力が強まり、政治が混乱したため	
	B	^{さかのうえのたむらまる} 坂上田村麻呂 …… ^{えみしとうばつ} 蝦夷討伐のため ^{せいゑいだいしやうぐん} 征夷大將軍に任命される	
	C	^{さいちやう} 最澄 …… ^{てんだいしやう} 天台宗を広める。 ^{ひえいざんえんりやくじ} 比叡山延暦寺	
	D	^{くわかい} 空海 …… ^{しんごんしやう} 真言宗を広める。 ^{こうやさんこんごうみねじ} 高野山金剛峯寺	
894年	②	^{けんとうし} 遣唐使 の停止…… ^{すがわらのみわざね} 菅原道真が提案。唐の力がおとろえたため	
	平安時代の文化		
	③	^{こくふうぶんか} 国風文化 …… ^{とう} 唐の文化をもとにしたわが国独自の文化	
	④	^{かなもじ} 仮名文字 ……漢字をもとにしたわが国独自の文字	
	⑤	^{しんでんづくり} 寝殿造 ……貴族の邸宅のつくり。広い庭や池がある	
	⑥	^{げんじものがたり} 源氏物語 (紫式部)・ ^{まくらのそうし} 枕草子 (清少納言)……平安時代を代表する文学作品	
	⑦	^{こきんわかしゆう} 古今和歌集 ……(紀貫之)らが編集	
1016年	E	^{ふじわらのみちなが} 藤原道長 ……4人の娘をすべて天皇のきさきにする	
	⑦	^{せつかんせいじ} 摂関政治 …… ^{まつしやう} 摂政、 ^{かんぱく} 関白となって天皇のかわりに政治をおこなうこと	
	F	^{ふじわらよりみち} 藤原頼通 ……Eの息子。 ^{びやうどういんほうおうどう} 平等院鳳凰堂をたてる	
	⑧	^{じやうとしんこう} 浄土信仰 …… ^{あみだぶつ} 阿彌陀仏にすがれば ^{ごくらくじやうど} 極楽浄土にいけるといふ考え	
10世紀	⑧	^{ぶし} 武士 がおこる……やがて家来をまとめて武士団になる。源氏と平氏が力をつける	
1086年	G	^{しらかわじやうこう} 白河上皇 ……天皇の位をゆずって、⑨ ^{いんせい} 院政 をおこなう。武士を ^{とうりやう} 登用	
1156年		^{ほうげん} 保元の乱・ ^{へいじ} 平治の乱	
	G	^{たいらのきよもり} 平清盛 ……武士としてはじめて ^{だいいじやうだいじん} 太政大臣になる。 ^{にっそうばうえき} 日宋貿易をおこなう	

●● 確認問題

A

- ① 仏教勢力によって政治が混乱したため、794年、_____天皇は都を移した。 ① _____
- ② 移された都を_____という。 ② _____
- ③ 朝廷から_____は征夷大將軍に任命され、蝦夷を討伐した。 ③ _____
- ④ 平安時代の初期、_____は比叡山延曆寺ひえい えんりやくじで天台宗を開いた。 ④ _____
- ⑤ 平安時代の初期、_____は高野山金剛峯寺こうや こんごう ぶじで真言宗を開いた。 ⑤ _____
- ⑥ 894年、_____を停止した。 ⑥ _____
- ⑦ ⑥は_____の進言による。 ⑦ _____
- ⑧ 平安時代は唐の文化をもとに日本の風土や生活にあった_____が発達した。 ⑧ _____
- ⑨ 漢字をもとにして作られた日本独自の文字を_____という。 ⑨ _____
- ⑩ 紫式部は長編小説_____をあわらした。 ⑩ _____
- ⑪ 清少納言は随筆_____をあらわした。 ⑪ _____
- ⑫ 平安時代の貴族の屋敷は_____造とよばれている。 ⑫ _____ 造
- ⑬ 紀貫之らは_____を編集した。 ⑬ _____

B

- ① 自分の娘4人を天皇のきさきにして権力をふるったのは_____である。 ① _____
- ② 藤原氏は摂政・関白として天皇の代わりに政治をおこなう。この政治を_____政治という。 ② _____
- ③ 京都の宇治にある平等院鳳凰堂は_____がたてた。 ③ _____
- ④ 平安時代の貴族たちは死後に極楽浄土へ生まれかわることを願う_____が盛んだった。 ④ _____
- ⑤ 「この世をば わが世とぞおも 望月の……」と歌ったのは_____である。 ⑤ _____

C

- ① 10世紀のはじめに地方の豪族と中央の武官が結びつき、_____がおこる。 ① _____
- ② ①は平氏と_____の勢力が有力となった。 ② _____
- ③ 白河天皇は天皇の位をゆずって上皇となり、武士を重く用いて_____をおこなった。 ③ _____
- ④ 1156年の_____の乱と1159年の平治の乱によって平氏が源氏との争いに勝利した。 ④ _____
- ⑤ 1167年、_____は、武士として初めて太政大臣の位についた。 ⑤ _____
- ⑥ 彼は兵庫(神戸)の港を整備し、当時の中国と貿易をおこなう。この貿易を_____という。 ⑥ _____

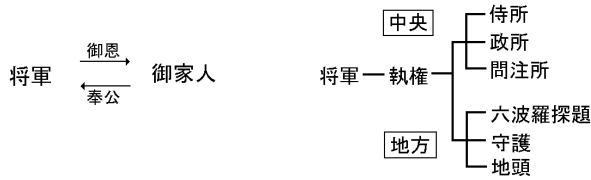
鎌倉時代



● 年表で確認

1185年 平氏が壇ノ浦で滅びる。

1192年 A **源頼朝** が征夷大将軍になり、鎌倉幕府をひらく



1219年 源氏が3代で滅ぶ。北条氏が幕府の実権をにぎる

1221年 ① **承久の乱** ……後鳥羽上皇が幕府を倒すためにおこした反乱

みなもの者、よく聞きなさい。これが最後の言葉です。頼朝公が朝廷の敵をたおし、幕府を開いて、その恩は山より高く、海より深いものでした。名誉を大事にする者は、京都に出陣し、逆臣を討ち取り、幕府を守りなさい。

② **六波羅探題** ……①の乱のあと、朝廷の監視のために設置

1232年 ③ **御成敗式目** ……最初の武家法。北条泰時が制定

一、諸国の守護の職務は、京都の御所の警護と、犯罪人の取りしまりに限る。
一、武士が20年、実際に土地を支配しているならば所有を認める。
一、女子にも土地の相続を認める


1274年 ④ **元寇** (文永の役) ……フビライ・ハン率いる元が博多湾に上陸。執権は北条時宗
元寇 (弘安の役) ……暴風雨によって元は撤退



1297年 ⑤ ……幕府が貧しくなった御家人を救うために出した法

1333年 鎌倉幕府が滅びる

鎌倉文化 ……素朴で力強い



⑥ **東大寺南大門** ⑦ **金剛力士像**

<鎌倉新仏教> ……多くの人に広まった

人物	宗派	特徴
法然	浄土宗	南無阿弥陀仏と念仏唱える
親鸞	浄土真宗	
日蓮	日蓮宗	南無妙法蓮華経と唱える
一遍	時宗	踊りながら念仏を唱える
道元	曹洞宗	座禅を組み、悟りをひらく (禅宗)
栄西	臨済宗	

●● 確認問題

A

- ① 源頼朝は、1192年に_____に任命され、幕府を開いた。 ① _____
- ② 源頼朝の妻は_____である。 ② _____
- ③ 将軍の家来の武士を_____という。 ③ _____
- ④ 将軍と家来は_____（領地支配を認める）と、_____（戦に出陣）の主従関係を結んだ。 ④ _____
- ⑤ 将軍の補佐役として_____がおかれ、他に侍所や、政所、問注所がおかれた。 ⑤ _____
- ⑥ 地方の国ごとには_____が配置され、荘園や公領には地頭がおかれた。 ⑥ _____
- ⑦ 源頼朝の死後、幕府の実権は_____氏に移った。 ⑦ _____
- ⑧ 1221年、_____は朝廷の勢力回復をねらって承久の乱をおこした。 ⑧ _____
- ⑨ この乱の後、幕府は朝廷と西国の武士を監視するために_____を設置した。 ⑨ _____
- ⑩ 1232年、最初の武家法である_____が制定された。 ⑩ _____
- ⑪ この法を制定したのは_____である。 ⑪ _____

B

- ① モンゴル帝国の5代目の皇帝_____は国号を元とあらため、日本に服従を求めた。 ① _____
- ② 幕府の執権_____はこれを退けた。 ② _____
- ③ 元は集団戦法とすぐれた_____を使って日本を苦しめた。 ③ _____
- ④ 元の2度にわたる来襲をあわせて_____という。 ④ _____
- ⑤ 幕府は元を退けるも御家人に恩賞を与えられなかったので1297年に_____を出した。 ⑤ _____

C


- ① 東大寺の_____は焼けてしまったため、鎌倉時代に再建された。 ① _____
- ② 東大寺南大門には運慶・快慶が彫った_____がある。 ② _____
- ③ 親鸞は_____を開き、「南無阿弥陀仏」と唱えれば誰でも極楽浄土にいけるとした。 ③ _____
- ④ 栄西や道元の宗派は_____とよばれている。 ④ _____
- ⑤ 一遍は踊り念仏を唱える_____を開いた。 ⑤ _____
- ⑥ 「南無妙法蓮華経」と題目を唱えれば救われると説いたのは_____である。 ⑥ _____

室町時代

● 年表で確認 1

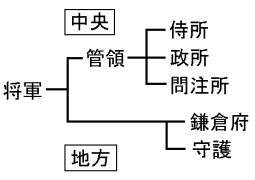
1333年 鎌倉幕府が滅びる。

① **建武の新政** ……後醍醐天皇の政治。2年で失敗



1338年 ② **室町幕府** が開かれる……足利尊氏は新たに天皇をたてる(北朝)。後醍醐天皇は吉野へ(南朝)


③ **南北朝** 時代……天皇が2人いた時代
この時期守護が力をつけ、守護大名に成長




```

    graph LR
      中央[中央] --- 侍所[侍所]
      中央 --- 政所[政所]
      中央 --- 問注所[問注所]
      地方[地方] --- 管領[管領]
      地方 --- 鎌倉府[鎌倉府]
      地方 --- 守護[守護]
      將軍[將軍] --- 管領
      將軍 --- 侍所
      將軍 --- 政所
      將軍 --- 問注所
  
```

A **足利義満** ……幕府の3代將軍。南北朝を統一する



④ **日明貿易** ……足利義満が明とおこなった貿易。勘合という合札を使う



民衆や産業の発達



- 農村……牛馬耕が広まり、米と麦の二毛作が広まる
- ⑤ **惣** とよばれる団結。⑥ **寄合** を開き、おきてを定めた

1428年 ⑦ **正長の土一揆** ……日本初の一揆

- 運送業……⑧ **馬借** や⑨ **問(問丸)** が活躍
- 金融業……⑩ **土倉** や⑪ **酒屋** が高利で貸し付けをおこなう
- 商業……⑫ **座** とよばれる団体が営業を独占。博多などでは町衆が自治をおこなう

室町時代の外国の様子

- 沖縄……⑬ **琉球王国** ……尚氏が統一。中継貿易で栄える
- 中国……⑭ **明** ……元を滅ぼして建国。勘合貿易
- 朝鮮半島……⑮ **朝鮮国** ……李成桂が建国。ハングル
- 北海道……アイヌ民族

●● 確認問題 1

A

- ① 1333年鎌倉幕府が滅んだあと、_____は天皇中心の政治をおこなおうとした。 ① _____
- ② この政治を_____という。しかし2年で失敗する。 ② _____
- ③ 北朝をたてた_____は征夷大将軍になり、幕府を開いた。室町時代の始まりである。 ③ _____
- ④ 室町時代の中でも天皇が2人いた時期を_____時代ということもある。 ④ _____
- ⑤ 幕府の仕組みについて将軍の補佐役には_____が置かれた。 ⑤ _____
- ⑥ 鎌倉時代からの有力な守護は、室町時代初期に力をつけて_____とよばれた。 ⑥ _____
- ⑦ 幕府の3代将軍は_____である。 ⑦ _____
- ⑧ 彼は_____と貿易をおこなった。 ⑧ _____
- ⑨ この貿易のさい、正式な貿易船と倭寇を区別するために_____という合札を使った。 ⑨ _____

B

- ① 室町時代の農村では有力な農民のもとで_____とよばれる自治組織ができた。 ① _____
- ② ①では_____が開かれて、村ごとにおきてなどが定められた。 ② _____
- ③ 1428年、農民たちが集団で高利貸しをおそう_____がおこった。日本初の一揆である。 ③ _____
- ④ 室町時代にはいり商工業が発達した。_____や酒屋は高利貸しを営んで栄えた。 ④ _____
- ⑤ 商工業者は_____とよばれる団体をつくって営業を独占した。 ⑤ _____
- ⑥ 運送業も発達し、問(問丸)や_____とよばれる業者が活躍した。 ⑥ _____
- ⑦ 都市でも自治がおこなわれ、堺や博多では_____とよばれる有力な町民があらわれた。 ⑦ _____
- ⑧ 室町時代は牛馬耕が広まり、米と麦をつくる_____が普及した。 ⑧ _____

C

- ① 中国では元が滅び、_____が建国された。 ① _____
- ② 朝鮮半島では高麗にかわって李成桂によって、_____が建国された。 ② _____
- ③ この国は_____という文字を作り出した。 ③ _____
- ④ 沖縄は尚氏が_____を作り、日本や明との中継貿易で栄えた。 ④ _____
- ⑤ 北海道では_____民族が独自の生活をしていた。 ⑤ _____

● 年表で確認 2

1467年 ① **応仁の乱**8代将軍足利義政の跡継ぎ争いがもとでおこった戦乱。京都は焼け野原になる

② **戦国**時代.....幕府の力がなくなり、各地で戦乱が起こった時代

③ **下剋上**身分の低いものが上のものを倒す風潮

④ **分国法**大名が自国を治めるために定めた法

- 一、今川家の家臣はかつてに他国の者と結婚をしてはならない。
- 一、けんかをしたら、その理由をとわず、両方を罰すること。(今川仮名目録)
- 一、許しを得ないで、他国に手紙をだしてはいけない。(甲州法度)

1485年 山城の国一揆.....京都で起こった一揆

1488年 ⑤ **(加賀の)一向一揆**加賀(石川県)で起こった浄土真宗の信者による一揆



室町時代の文化




⑦ **能**観阿弥・世阿弥が完成させた芸

⑥ **金閣**

⑧ **おとぎぞうし 御伽草子**浦島太郎や一寸法師など。広く読まれた




⑨ **銀閣**



何造か

⑩ **書院造**



こういう絵を

⑪ **水墨画**という
(雪舟)

●● 確認問題 2

A

- ① 1467年、京都で守護大名や管領の対立がもとで_____がおこった。 ① _____
- ② この乱のあとを_____時代とよぶ。 ② _____
- ③ 1485年には山城国一揆がおこり、また1488年には加賀で_____がおこった。 ③ _____
- ④ 身分の低いものが高いものを実力で倒す風潮を_____という。 ④ _____
- ⑤ これによって大名になったものを_____という。 ⑤ _____
- ⑥ 各大名は④を防ぎ、武士や農民の行動をとりしめるために_____をさだめた。 ⑥ _____

B

- ① 足利義満が建てた公家の文化と武家の文化の融合が美しい建物は_____である。 ① _____
- ② 観阿弥・世阿弥親子は_____を大成させた。 ② _____
- ③ 室町時代の後半は簡素で気品のある文化である。足利義政の建てた_____が有名だ。 ③ _____
- ④ ③の東求堂の内部は_____とよばれ、床の間など現代の和室のもととなっている。 ④ _____
- ⑤ 雪舟らによって描かれた墨一色の絵画を_____という。 ⑤ _____
- ⑥ 浦島太郎などの_____も読まれた。 ⑥ _____

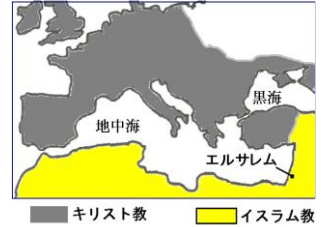
ヨーロッパとの出会い

● 年表で確認

中世ヨーロッパ

- キリスト教会が勢力をのぼす・・・カトリック教会と正教会がヨーロッパの国王と結びつく
- イスラム教も勢力をのぼす・・・北アフリカや西アジアに広まる → キリスト教の聖地エルサレムを奪う

- ① **十字軍**エルサレムをとりもどすために編成され、イスラムと戦う
イスラム文化がヨーロッパにもたらされる



- 14世紀
～15世紀
- ② **ルネサンス** (文芸復興).....古代の芸術・学問を見なおす動き。文化が発達する

宗教面

- ③ **免罪符**教会が乱売する罪をのがれられる



ローマ大聖堂 豪華なつくり



ルターとカルバンがおこす

- 1517年 ④ **宗教改革**北ヨーロッパに広まる
- ⑤ **プロテスタント**とよばれる



- 1534年 ⑥ **イエズス会**カトリック内の改革派信者獲得のため世界へ



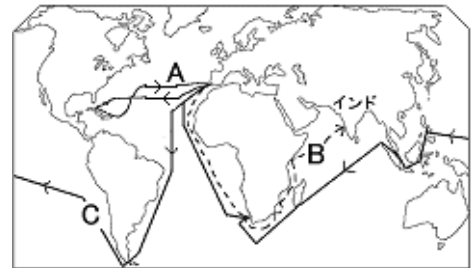
- 1549年 D **フランシスコ・ザビエル**キリスト教を伝えるために鹿児島に上陸する。
日本にやってくるポルトガル人やスペイン人を南蛮人とよぶ

生活面

- ⑦ **香辛料**インド産。肉の調理に使う非常に高価



陸路ではなく、船でインドを目指す



航海した人物

- A **コロンブス**アメリカ大陸を発見 (1492年)

- B **バスコ・ダ・ガマ**インドに到着 (1498年)

- C **マゼラン**世界一周に成功する (1522年)



船で世界じゅうに行けることがわかる

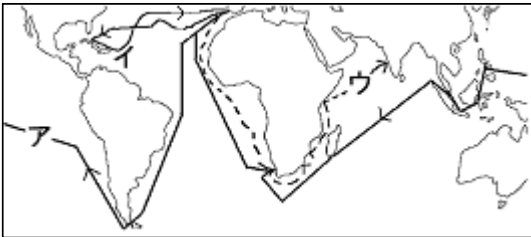


●● 確認問題

A

- ① キリスト教の聖地は_____である。 ① _____
- ② 北アフリカや西アジアでは_____教が広まり、キリスト教の聖地をうばった。 ② _____
- ③ ①をとりもどすため、ローマ教皇の呼びかけで_____が編成された。 ③ _____
- ④ ヨーロッパの14~15世紀で盛んだったギリシャ、ローマの古代文明を学びなおす風潮を_____という。 ④ _____
- ⑤ ヨーロッパの教会は豪華な聖堂を作るために_____を売り出した。 ⑤ _____
- ⑥ 16世紀のはじめ、ヨーロッパでは_____らが中心となり宗教改革がはじまった。 ⑥ _____
- ⑦ これによって新しくおこったキリスト教の宗派を_____という。 ⑦ _____
- ⑧ いっぽうで多くの信者を失ったカトリック(旧教)は_____を結成する。 ⑧ _____
- ⑨ 肉の味や鮮度を保つこしょうなどの_____はとても人気があり高価だった。 ⑨ _____
- ⑩ ⑨は_____が原産地である。 ⑩ _____
- ⑪ 1492年、コロンブスは西へ向かって出発したがついたのは_____大陸だった。 ⑪ _____
- ⑫ 1498年、バスコ・ダ・ガマはアフリカをまわって_____にたどり着いた。 ⑫ _____
- ⑬ 世界一周を最初になしとげたのは、_____の一行である。 ⑬ _____
- ⑭ カトリックは信者を獲得するため世界に布教活動を展開する。日本に来たのは_____だ。 ⑭ _____
- ⑮ 日本に来たスペイン人やポルトガル人を当時の人々は_____とよんだ。 ⑮ _____

B ア~ウの航路を開いた人物は誰か。



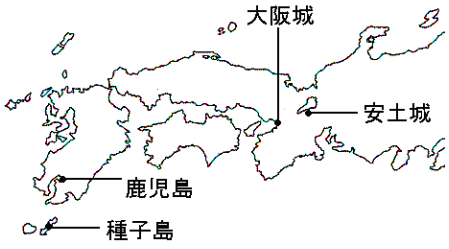




- ア _____
- イ _____
- ウ _____

南アメリカのインカ帝国のマチュピチュ遺跡(ペルー)



室町末期～安土桃山時代

● 年表で確認

	戦国時代 下剋上・戦国大名	
1543年	① 鉄砲 伝来……種子島に伝わる	
1549年	② キリスト教 伝来……フランシスコ・ザビエルが鹿児島に上陸	
		
1560年	A 織田信長 が今川義元を破る……桶狭間の戦い	
1573年	③ 室町幕府 を滅ぼす……15代将軍足利義昭を追放	
1575年	④ 長篠の戦い ……鉄砲を使い、当時最強の武田氏を倒す	
	⑤ 楽市・楽座 ……安土城下で商工業を発達させるために実施	
1582年	⑥ 本能寺の変 ……天下統一目前で明智光秀に攻められ自殺する	<div style="border: 1px dashed black; padding: 5px;"> <p>一、ここは楽市としておおせつけられているのだから税や労役はすべて免除する。</p> </div>
		
	B 豊臣秀吉 ……信長の家臣。天下統一を果たす	
	⑦ 太閤検地 ……ものさしやますを統一し、全国の土地を調査	
	⑧ 刀狩 ……農民から武器をとりあげる。→兵農分離	<div style="border: 1px dashed black; padding: 5px;"> <p>諸国の百姓が刀や弓、やり、鉄砲、など武器を持つことは禁止する。 unnecessary 武器をたくわえ、年貢を納入せず、一揆をくだたりする者は、処罰する。</p> </div>
1587年	⑨ 宣教師 の追放……キリスト教を禁止(⇨信長はキリスト教を保護)した	
1592年	⑩ 朝鮮出兵 ……明を征服しようと朝鮮を攻める。李舜臣 <small>イムソン</small> などが激しく抵抗	
1598年	秀吉の死により朝鮮より撤退。陶工などの職人を日本に連れてかえる	
1600年	⑪ 関ヶ原 ……秀吉の部下の石田三成と徳川家康が戦う	

●● 確認問題

A

- ① 1543年、ポルトガル人が_____に流れ着いた。 ① _____
- ② 彼らは_____を伝えた。 ② _____
- ③ 1549年には_____がやってきて、キリスト教を伝えた。 ③ _____
- ④ ②は九州の_____に上陸した。 ④ _____

B

- ① _____は桶狭間の戦いで今川義元を破った。 ① _____
- ② ①は足利義昭を京都から追い出し、_____幕府を滅ぼした。 ② _____
- ③ ①は鉄砲をつかい_____の戦いで当時最強といわれた武田氏を破った。 ③ _____
- ④ ①は琵琶湖のほとりに_____城をきずいた。 ④ _____
- ⑤ 商工業を発展させるために市の税を免除する_____の制をおこなった。 ⑤ _____
- ⑥ ①は天下統一を目前にして、攻められ自殺する。これを_____という。 ⑥ _____
- ⑦ ①を攻めたのは部下の_____である。 ⑦ _____

C

- ① 信長のあとをついだ_____は全国を統一した。 ① _____
- ② ①は全国の土地を調査する_____をおこなった。 ② _____
- ③ ①は農民から武器をとりあげる_____もおこなった。 ③ _____
- ④ これらにより、武士と農民の区別がはっきりした。この政策を_____という。 ④ _____
- ⑤ ①は、織田信長とは異なり、宣教師を追放するなど、_____を禁止した。 ⑤ _____
- ⑥ 秀吉は明の征服をたくらみ、大軍を大陸に派遣した。これを_____という。 ⑥ _____

桃山文化・・・大名や大商人たちによる豪華な文化



① 姫路城



② 狩野永徳



③ 出雲阿国



④ 千利休

南蛮文化・・・ヨーロッパの影響を受けた文化。パンやカステラ、時計などが日本にもたらされる。

江戸時代 1

● 年表で確認 1

1600年 関ヶ原の戦い

1603年 A **徳川家康** が征夷大將軍となる……江戸幕府を開く

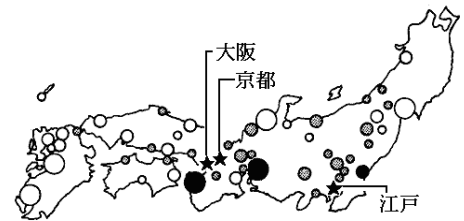
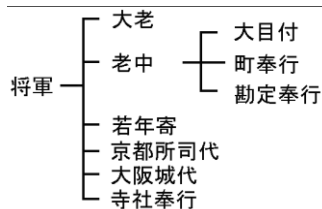


幕府のしくみ

① **大名** ……領地を1万石以上与えられた武士
御三家・親藩・譜代大名・外様大名

② **藩** ……大名の領地とその政治組織

③ **幕藩体制** ……幕府と藩で全国を支配するしくみ




● 御三家 ● 親藩・譜代 ○ 外様

④ **武家諸法度** ……大名を統制するために制定

- 一、武士は文武弓馬の道をもつば心がけること。
- 一、大名が新しく城を作ることは、固く禁止する。
- 一、幕府の許可なく大名どうしがが勝手に結婚する事を固く禁止する。

⑤ **朱印船貿易** ……幕府の貿易許可証をもった大名や商人がおこなった貿易。東南アジアに日本町



1615年 大阪夏の陣で豊臣氏を滅ぼす。

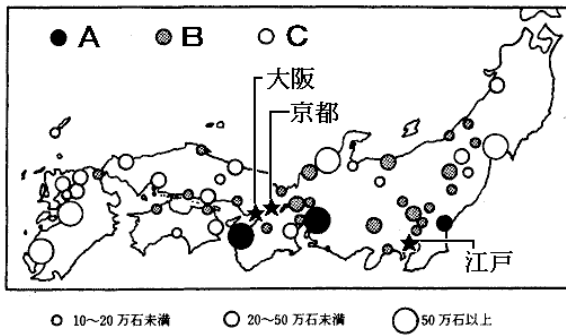
●● 確認問題 1

A

- ① 関ヶ原の戦いに勝利した_____は征夷大將軍に任命され幕府を開いた。 ① _____
- ② 將軍から1万石以上の領地を与えられた武士を_____という。 ② _____
- ③ 大名の領地とその政治組織を_____という。 ③ _____
- ④ 幕府と藩で協力して全国を支配する体制を_____という。 ④ _____
- ⑤ 水戸藩(茨城)・尾張藩(愛知)・紀州藩(和歌山)は徳川姓を名乗り、_____とよばれた。 ⑤ _____
- ⑥ 徳川家一門(親類)の藩を_____という。 ⑥ _____
- ⑦ 古くから徳川家の家臣の大名を_____という。 ⑦ _____
- ⑧ 関ヶ原の戦いののちに徳川家に従った大名を_____という。 ⑧ _____
- ⑨ 將軍のもとで政治をおこなう役職を_____という。 ⑨ _____
- ⑩ 將軍のもとで、朝廷を監視する役職を_____という。 ⑩ _____
- ⑪ 幕府は大名に対して_____を定め、幕府の許可のない城の修理などを禁止した。 ⑪ _____
- ⑫ 幕府の貿易許可書を持つものが東南アジアを相手におこなった貿易を_____という。 ⑫ _____
- ⑬ 貿易をおこなった結果、東南アジア各地には_____ができた。 ⑬ _____

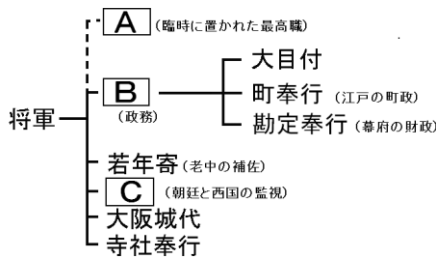
B

① 次のA～Cは大名配置図で、外様大名か親藩・譜代大名か御三家のいずれかが入る。A～Cにあてはまるものを書きなさい。



- ① A _____
- B _____
- C _____

② 次のA～Cにあてはまる役職を書きなさい。




- ② A _____
- B _____
- C _____

● 年表で確認 2

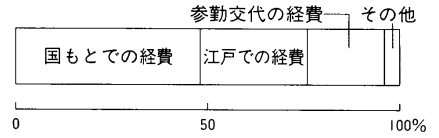
1623年 A 徳川家光 ……3代将軍



1635年 ① 参勤交代 ……大名に1年おきに江戸と領地を交代で住むことを義務付けた



ある藩の財政



鎖国政策

1637年 ② 島原天草一揆 ……九州でおこった一揆

1639年 ③ ポルトガル 船の来航を禁止 ……中国・オランダとだけ貿易。キリスト教の禁止を徹底させる

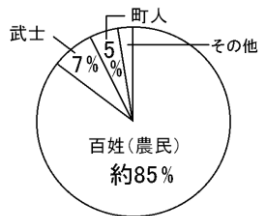
1641年 ④ 出島 ……長崎の人工島
平戸から移す



⑤ 朝鮮通信使 ……将軍の代がかわるごとに来日

厳しい身分制度

人口構成



⑥ 五人組 ……年貢の納入や犯罪防止に連帯責任を負わせる

農民の生活心得

- 一、朝は早くおきて草を刈り、昼は田畑を耕し、夜は縄を編み、休むことなく仕事にはげめ。
- 一、麦・あわ・ひえ・菜・大根を作り、米を多く食わぬようにせよ。
- 一、衣類は、麻と木綿に限る。
- 一、年貢さえおさめてしまえば百姓ほど気楽なものはない。

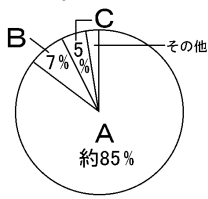
●● 確認問題 2

A

- ① 江戸幕府の三代将軍は_____である。 ① _____
- ② 1635年、幕府は_____の制度を定め、大名に領地と江戸を往復させた。 ② _____
- ③ ②の制度は_____の経済力を弱めるのが目的である。 ③ _____
- ④ 1637年、長崎の島原地方や熊本の天草地方の人々が_____を起こした。 ④ _____
- ⑤ 幕府は1624年にはスペイン、1639年には_____船の来航を禁止した。 ⑤ _____
- ⑥ 鎖国の目的は、幕府の貿易独占と_____の禁止である。 ⑥ _____
- ⑦ 鎖国の結果、幕府は、A_____とB_____とだけ貿易をおこなうようになった。 ⑦ A _____
B _____
- ⑧ 1641年には平戸の商館を人工の島である_____に移した。 ⑧ _____
- ⑨ キリスト教信者を見つけるため、毎年正月に_____をおこなった。 ⑨ _____
- ⑩ 将軍の代が変わるごとに朝鮮から_____が来日した。 ⑩ _____





B

- ① 農民は_____の制度がつくられて、年貢の納入に連帯責任を負わされた。 ① _____
- ② 次のグラフは江戸時代末期の身分別人口割合である。
A～Cには、武士、農民、町人のいずれかが入る。それぞれあてはまる語句を書きなさい。 ② A _____
B _____
C _____



江戸時代 2

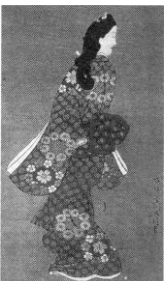
● 年表で確認 1

<p>1687年</p>	<p>A. 徳川綱吉 ……幕府の5代将軍。幕府の財政を悪化させ、質の悪い貨幣をつくる</p> <p>① 生類憐みの令 ……極端な動物愛護令</p> <p>新井白石…朱子学者。長崎貿易を制限</p>	
<p>1716年</p>	<p>B. 徳川吉宗 ……幕府の8代将軍。 ② 享保の改革 をおこなう</p> <p>●③ 上げ米の制 ……大名に米を献上させる。他、年貢の率を引き上げる。新田開発をおこなう</p> <p>●④ 公事方御定書 ……裁判の基準を定める</p> <p>その他、人々の意見を聞くために目安箱を設置</p>	 <div style="border: 1px dashed black; padding: 5px; margin-top: 10px;"> <p>一、人を殺し盗みをしたものは、市中引回しのうえ獄門(さらし首)。 一、強盗をしたものは、獄門。 一、手近にある金品をふと盗んだものは、それが十両以上の場合は、死罪。十両以下の場合は、入れずみして百たつき。</p> </div>
<p>1772年</p>	<p>C. 田沼意次 ……老中。町人の力を積極的に利用。わいろ政治</p> <p>⑤ 株仲間 ……商人に同業者組合を奨励し、税をとる</p> <p>天明の大ききんにより、老中をやめさせられる</p>	<div style="border: 1px dashed black; padding: 5px; margin-top: 10px;"> <p>役人の 子にはぎにぎを よくおぼえ</p> </div> 
<p>1787年</p>	<p>D. 松平定信 ……田沼のあとの老中。 ⑥ 寛政の改革 をおこなう</p> <p>●農村に米を蓄えさせる(囲い米の制) ●出かせぎしている者を村に帰す ●質素・儉約</p> <p>●旗本や御家人の借金を帳消し(棄捐令) → 6年で失敗</p>	 <div style="border: 1px dashed black; padding: 5px; margin-top: 10px;"> <p>白河の 清きに魚の 住みかねて もとのにごりの 田沼こいしき</p> </div>



●● 確認問題 1

- ① 幕府の5代将軍_____は寺院を建設しすぎたため、幕府の財政は悪化した。 ① _____
- ② 彼は極端な動物愛護令である_____を出した。 ② _____
- ③ 朱子学者の_____は長崎貿易を奨励し、幕府の財政をたて直そうとした。 ③ _____
- ④ 幕府の8代将軍は_____である。 ④ _____
- ⑤ 彼がおこなった改革を_____の改革という。 ⑤ _____
- ⑥ 彼は上げ米の制を定め、大名に米を差し出させた。そのかわりに_____をゆるめた。 ⑥ _____
- ⑦ 彼は裁判の基準となる_____を制定した。 ⑦ _____
- ⑧ 18世紀の後半には_____が老中となり、株仲間を結ぶことを奨励した。 ⑧ _____
- ⑨ 彼は、_____の大ききんがおこった責任をとられ、老中をやめさせられた。 ⑨ _____
- ⑩ ⑧の人物のあと、白河藩(福島)出身の_____が老中になった。 ⑩ _____
- ⑪ 彼は_____の改革をおこなった。 ⑪ _____
- ⑫ 「役人の子はにぎにぎをよくおぼえ」は、_____の政治を非難したものである。 ⑫ _____
- ⑬ 「白河の清きに魚の住みかねてもとにごりの田沼こいしき」の、白河とは_____のことである。 ⑬ _____



江戸時代の文化 1

<p>① _____ 元禄 _____ 文化……大阪や京都などの上方中心</p> <p>A _____ 菱川師宣 _____ ……「見返り美人図」などをえがいた人物</p> <p>B _____ 近松門左衛門 _____ ……「曾根崎心中」など人形浄瑠璃の脚本を書いた人物</p> <p>C _____ 松尾芭蕉 _____ ……「奥の細道」など紀行文を書いた人物。 他、井原西鶴などが活躍</p>	
---	---




江戸時代の産業の重要語句

<p>① _____ 天下の台所 _____ ……大阪は諸藩の特産物が集まり、こうよばれた</p> <p>② _____ 蔵屋敷 _____ ……諸藩が大阪に建てた倉庫。特産品をお金にかえた</p> <p>③ _____ 両替商 (札差) _____ ……江戸時代の金融業者。他、同業者組合の株仲間も重要語句</p> <p>④ _____ 千歯こき _____ ……脱穀の能率を高めるために開発された農具。ほか備中ぐわなど</p> <p>⑤ _____ 問屋制家内工業 _____ ……問屋が織機やお金をわたして布を織らせ、製品を買い取る生産方法</p> <p>⑥ _____ 工場制手工業 _____ ……人々が作業場に集まって作業する生産の仕方。酒やしょうゆ、織物など</p>	 
--	--

● 年表で確認 2

1800 頃	ロシアなどの船が日本に接近	今後はどこの海岸にでも異国船が来たのを見たら、その場に居合わせた人々で有無をいわずにひたすらうち払うこと。 もし無理やり上陸しようとしたら、捕まえても、または打ち殺してもかまわない。
1825 年	① <u>異国船打払令</u>鎖国を守るために出す。学者はこれを非難する	
1833 年	天保の大ききんがおこる.....東北地方が大凶作。米価急上昇。一揆や打ちこわしが多発。1837 年まで続く	
1837 年	② <u>大塩平八郎の乱</u>もと幕府の役人が起こした乱	
1841 年	A <u>水野忠邦</u>幕府の老中。 ③ <u>天保の改革</u>をおこなう	
	④ <u>株仲間の解散令</u>物価を引き下げるため	
	江戸・大阪周辺を幕府領(天領)にしようとして反対され、改革は2年で失敗する	

江戸時代の文化 2

① <u>化政</u>文化.....江戸中心の町人文化	
A <u>葛飾北斎</u>「富嶽三十六景」を描いた人物	
B <u>歌川(安藤)広重</u>「東海道五十三次」を描いた人物	
C <u>本居宣長</u>「古事記伝」をあらわした人物	
D <u>伊能忠敬</u>正確な日本地図を作った人	
② <u>解体新書</u>オランダの医学書を翻訳。蘭学。杉田玄白ら。	
他、滝沢馬琴の「南総里見八犬伝」など	

●● 確認問題 2

A

- ① 1825年、幕府は_____を出し、鎖国を守ろうとした。 ① _____
- ② 1833年より数年間、大ききんが起り、農村では_____が多発した。 ② _____
- ③ いっぽう、都市部では町人が店を襲撃する_____がおこった。 ③ _____
- ④ 1837年、大阪で_____の乱がおこり、幕府に衝撃をあたえた。 ④ _____
- ⑤ 1841年、老中_____は幕府の力を回復させるために改革をおこなった。 ⑤ _____
- ⑥ この改革を_____の改革という。 ⑥ _____
- ⑦ この改革では物価を下げさせるために_____の解散令をだした。 ⑦ _____

B

- ① 大阪や京都などの上方中心の文化を_____という。 ① _____
- ② 「奥の細道」など紀行文を書いた人物は_____である。 ② _____
- ③ 「曾根崎心中」など人形浄瑠璃の脚本を書いた人物は_____である。 ③ _____
- ④ 「見返り美人図」などをえがいた人物は_____である。 ④ _____

C

- ① 大阪は諸藩の特産物が集まり、_____とよばれた。 ① _____
- ② 諸藩が大阪に建てた倉庫を_____という。 ② _____
- ③ 江戸時代の金融業者を_____といい、大名らに金を貸し付けた。 ③ _____
- ④ 江戸時代の商工業者の同業組合を_____という。 ④ _____
- ⑤ 江戸時代は農具の改良がすすみ、_____や千歯こきなどが作られた。 ⑤ _____
- ⑥ 人々が作業場に集まって作業する生産の仕方を_____という。 ⑥ _____
- ⑦ 問屋が織機やお金をわたして布を織らせ、製品を買い取る生産方法を_____という。 ⑦ _____

D

- ① 寛政の改革が失敗したあとに起こった、江戸中心の町人文化を_____という。 ① _____
- ② 「富嶽三十六景」描いた人物は_____である。 ② _____
- ③ 本居宣長は国学を大成し、_____をあらわした。 ③ _____
- ④ 正確な日本地図を作った人は_____である。 ④ _____
- ⑤ オランダの医学書を翻訳した解体新書は_____や前野良沢らが頑張った。 ⑤ _____

市民革命～欧米の世界進出

● 年表で確認 1

① 絶対王政(ヨーロッパの国々)国王の専制政治。

1642 清教徒(ピューリタン)革命がおこる(イギリス)

1688 ② 名誉革命(イギリス)国民が国王を追放する。国民の代表者による議会政治の実現

1775 ③ 独立戦争(アメリカ)イギリスからの独立をめざし戦争を起こす。翌年独立宣言を発表

A ワシントンアメリカ合衆国の初代大統領



④ 合衆国憲法アメリカの憲法。人民主権・連邦制・三権分立が柱

1789 ⑤ フランス革命(フランス)人民が国王ルイ 16 世を処刑。

⑥ 人権宣言フランスで出された宣言。階級社会を否定

- 1 人は生まれながら、自由で平等な権利をもつ。
- 3 主権のみなもとは、もともと国民のなかにある。



階級社会 貴族と僧侶と平民

B ナポレオンフランスの皇帝。ヨーロッパの大部分を征服



●● 確認問題 1


A

- ① 国王が権力を持ち、専制政治をおこなうことを_____という。 ① _____
- ② イギリスでは 1642 年に_____がおこり、国王は処刑された。 ② _____
- ③ イギリスは 1688 年に国民が国王を追放した。これを_____という。 ③ _____
- ④ 1775 年、アメリカは_____を起こし、イギリスからの独立をめざした。 ④ _____
- ⑤ 1776 年にアメリカは_____を発表した。 ⑤ _____
- ⑥ アメリカの初代大統領は_____である。 ⑥ _____
- ⑦ アメリカは人民主権や連邦制などを盛り込んだ_____を制定した。 ⑦ _____
- ⑧ 1789 年、フランスでは_____がおこった。 ⑧ _____
- ⑨ ⑧のあとフランスでは_____が発表された。 ⑨ _____
- ⑩ フランスでは軍人出身の_____がヨーロッパのほとんどを支配し、皇帝の座についた。 ⑩ _____

● 年表で確認 2

① 産業 革命……ワットが蒸気機関を改良し、大量生産が可能になる。

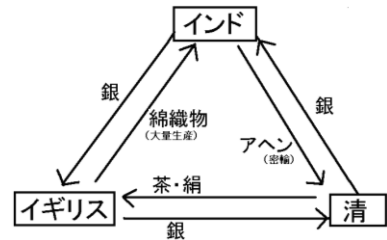
イギリスは「世界の工場」とよばれる



② 資本主義 ……資本家が労働者を雇い生産するしくみ ⇔ 社会主義（理想の共同体をめざす）

アジア → イギリスが市場や資源を求め、インドや清に進出

三角貿易



1840 ③ アヘン戦争 ……イギリスと清の戦争。南京条約を結ぶ



1851 ④ 太平天国の乱 ……洪秀全らが起こした清内部の反乱


1857 ⑤ インドの大反乱 ……インドで起こった反乱。イギリスの植民地に

アメリカ → ヨーロッパからの移民を受け入れ発達

1861 ⑥ 南北戦争 ……アメリカ内部で貿易や奴隷制をめぐる対立

A リンカーン (リンカン) ……奴隷解放宣言をだした大統領。

「人民の 人民による 人民のための政治」



ドイツ統一……鉄血宰相とよばれたビスマルクが富国強兵をすすめる。近代化が進む

●● 確認問題 2

- ① イギリスでは蒸気機関の改良により、生産のしくみが変わった。この変化を_____という。 ① _____
- ② ①によってイギリスは_____とよばれた。 ② _____
- ③ 資本家は人を雇って生産活動をおこない、利潤を追求した。この経済のしくみを_____という。 ③ _____
- ④ ③の経済のしくみを非難し、理想の共同体をめざす考えを_____という。 ④ _____
- ⑤ 清との貿易赤字に悩むイギリスはインドの_____を清に密輸する三角貿易をおこなった。 ⑤ _____
- ⑥ 清とイギリスの戦争を_____という。 ⑥ _____
- ⑦ ⑥の戦争で_____が結ばれ、イギリスは香港などを手に入れた。 ⑦ _____
- ⑧ 清では 1851 年、洪秀全らが_____の乱をおこした。 ⑧ _____
- ⑨ 1857 年、_____の大反乱が起こったがイギリスに鎮圧され、支配された。 ⑨ _____
- ⑩ アメリカでは 1861 年、_____がおこった。 ⑩ _____
- ⑪ ⑩の戦争は、_____が率いる北部の勝利におわった。 ⑪ _____

開国～江戸幕府の滅亡

● 年表で確認



- 1853 ① **ペリー** 来航・・・蒸気船を率いて浦賀に上陸
- 1854 ② **日米和親条約** を結ぶ・・・函館と下田の2港を開く。鎖国が終わる
- 1858 ③ **日米修好通商条約** を結ぶ・・・幕府の大老井伊直弼が朝廷の許しを得ずにアメリカ総領事ハリスと結ぶ

不平等な内容

 - ④ **関税自主権** がない・・・輸入品に対して自由に税をかけられない
 - ⑤ **領事裁判権** を認める・・・外国人の犯罪を日本人が裁けない
- 1859 ⑥ **安政の大獄** ・・・・井伊直弼は条約に反対した人々を処罰する
- 1860 ⑦ **桜田門外の変** ・・・・井伊直弼が暗殺される
- ⑧ **尊王攘夷** ・・・・外国勢力を排除し、天皇中心の国家をつくる考え

- 4 日本に対して輸出入する商品は両国で決められた関税をおさめること。
- 6 日本で法を犯したアメリカ人は、アメリカ領事裁判所で取り調べの上、アメリカの法律で罰する事。

開国後の貿易

輸出

生糸	茶
----	---

輸入

毛織物	綿織物	武器
-----	-----	----

0% 50 100

攘夷から倒幕へ

- 1862 ⑨ **薩摩** 藩・・・生麦事件をおこし、翌年イギリスと戦争をして敗れる
- 1863 ⑩ **長州** 藩・・・下関を通過する外国船を砲撃し、翌年4カ国艦隊が下関砲台を占領
- 1866 ⑪ **薩長同盟** ・・・・坂本竜馬(龍馬)の仲介による

ええじゃないか・・・人々は世直しを求めた



- 1867 ⑫ **大政奉還** ・・・・15代将軍徳川慶喜は政権を朝廷に返す

王政復古の大号令・・・天皇中心の政治に戻すことを宣言

- 1868 戊辰戦争 旧幕府軍と新政府軍との戦い。幕府軍は降伏

●● 確認問題

A

- ① 1853年、アメリカの_____は4隻の軍艦をひきいて浦賀に入港した。 ① _____
- ② 1854年、日本はアメリカと_____条約を結んだ。 ② _____
- ③ ②の条約で日本は下田と_____の2港を開いた。 ③ _____
- ④ 1858年、日本はアメリカと_____を結んだ。 ④ _____
- ⑤ ④の条約を結んだ幕府の大老は、_____である。 ⑤ _____
- ⑥ ④の条約を結んだアメリカの総領事は_____である。 ⑥ _____
- ⑦ ④の条約は_____を外国に認めた。 ⑦ _____
- ⑧ ④の条約は_____が日本になかった。 ⑧ _____
- ⑨ 開国後の貿易で日本の輸出品は_____や茶であった。 ⑨ _____

B

- ① 外国人を排斥し^{はいせき}天皇中心の国家をつくることを目指す運動を_____運動という。 ① _____
- ② 井伊直弼は日本の開国に反対する大名や公家を処罰する。これを_____という。 ② _____
- ③ 井伊直弼は1860年、攘夷派の水戸藩浪士によって殺害される。これを_____という。 ③ _____

C

- ① 薩摩藩や_____藩は攘夷を実行したが、外国の強さを実感させられた。 ① _____
- ② 1866年、土佐藩出身の_____は幕府を倒すために必要な薩長同盟を成立させた。 ② _____
- ③ 民衆は_____と騒ぎ、世直しを求めた。 ③ _____
- ④ 幕府の15代将軍は_____である。 ④ _____
- ⑤ ④は1867年、政権を朝廷にかえす_____をおこなった。 ⑤ _____
- ⑥ 朝廷は_____を出し、天皇の政治に戻すことを宣言し、幕府に領地の返還を求めた。 ⑥ _____
- ⑦ 幕府の家臣は_____をおこし、新政府軍と戦った。 ⑦ _____

明治① 明治維新

● 年表で確認1 <政治>

1867 大政奉還……政権を朝廷に返す。江戸幕府の滅亡

はじめの一条

おこ ばん き こうろん
 一 広ク会議ヲ興シ、万機公論
 ニ決スヘシ

1868 ① **五箇条の御誓文** ……明治天皇が政治の方針を発表。江戸を東京と改称する


1869 ② **版籍奉還** ……江戸時代の藩主(大名)に土地と人民を返還させる政策

1871 ③ **廃藩置県** ……藩を廃止して県を置く。中央から県令や府知事を派遣。中央集権国家に

四民平等…… 公家と大名は華族。武士は士族(人口の5%)、残りは平民(90%以上)。名字、結婚や職業が自由になる

<富国強兵>……欧米に対抗するためにかかげたスローガン


1872 ④ **学制** ……6歳以上の男女は小学校教育をうける



1873 ⑤ **徴兵令** ……満20歳に達した男子に兵役の義務を負わせた

⑥ **地租改正** ……財政を安定させるために実施

→⑦ **地券** を発行。⑧ **地価** の3%を、土地所有者が⑨ **現金** で納める



●● 確認問題 1

A

- ① 明治天皇は 1868 年 _____ を発表し、新政府の方針をたてた。 ① _____
- ② 江戸時代の藩主に土地と人民を返還させる政策を _____ という。 ② _____
- ③ 政府は 1871 年、 _____ をおこない、藩を廃止して県を置いた。 ③ _____
- ④ ③の政策で、政府から _____ や府知事が派遣され、中央集権国家の体制が整った。 ④ _____
- ⑤ _____ とは、欧米に負けない強い国をつくろうという政策のことである。 ⑤ _____
- ⑥ 四民平等政策により、大名は華族、武士は _____ とよばれた。 ⑥ _____
- ⑦ 1872 年、6 歳以上の男女は小学校教育をうける _____ が発布された。 ⑦ _____
- ⑧ 1873 年には成人男子に兵役を義務づけた _____ が出された。 ⑧ _____
- ⑨ ⑧と同じ年には、財政を安定させるために _____ 実施された。 ⑨ _____
- ⑩ ⑨により、地券を発行し、A _____ の3%を土地所有者が B _____ で納めることになった。 ⑩ A _____
B _____

● 年表で確認2<経済・文化>

- ① **殖産興業**政府が近代産業を育成する政策



- ② **富岡製糸場**官営模範工場

- ③ **鉄道** の開通新橋—横浜間

郵便制度・電信網の整備。 円・銭などの貨幣制度

- ④ **文明開化**生活の欧米化



- ⑤ **学問のすすめ**福沢諭吉が著す (すすめ)



● 年表で確認3<外交>

- 1871 ① **日清修好条規**を結ぶ...清と対等

- ② **岩倉遣欧使節団**欧米を視察



征韓論武力で朝鮮を開国させようとする意見

- 1875 ③ **樺太・千島交換条約**を結ぶ...ロシアと結ぶ
国境確定

- 1876 ④ **日朝修好条規**を結ぶ...^{こうかとう}江華島事件が
きっかけ。不平等をおしつける

- 1879 ⑤ **琉球処分**沖縄県を設置

●● 確認問題 2

A





- ① 政府が近代産業を育成させるための政策を_____という。 ① _____
- ② 政府がみずから建設した工場を_____という。 ② _____
- ③ 政府は群馬県に_____をつくり、外国人技師を雇った。 ③ _____
- ④ 1872年には、東京の新橋と神奈川の横浜の間に_____が開通した。 ④ _____
- ⑤ 人々の生活に欧米の文化がとり入れられることを_____という。 ⑤ _____
- ⑥ 学問のすゝめを著したのは_____である。 ⑥ _____

B

- ① 1871年に日本は清と対等な立場で_____を結んだ。 ① _____
- ② 1872年に政府は岩倉具視を団長とする_____を欧米に派遣した。 ② _____
- ③ 武力で朝鮮を開国させようとする考えを_____という。 ③ _____
- ④ 1876年、^{こうかとう}江華島事件をきっかけに政府は朝鮮を開国させ翌年_____を結んだ。 ④ _____
- ⑤ 日本はロシアと_____を結び、樺太の領有をロシアに認めた。 ⑤ _____
- ⑥ 1879年、政府は軍隊を派遣して沖縄県を設置した。これを_____という。 ⑥ _____

明治② 自由民権運動

● 年表で確認

	① 藩閥政治一部の藩出身者が政府の要職を占める		
	② 征韓論朝鮮を武力で開国させようとする考え。主張した板垣退助と西郷隆盛は政府を去る		
1874	③ 民撰議院設立の建白書板垣退助らが出す。国会の開設を求めた → 自由民権運動のはじまり		現在、政治の権力がどこにあるか考えてみるに、上は皇室ではなく、下は人民にもなく、もっぱら一部の役人たちのものとなっている。(中略)これを救うのは天下に言論の道を開くことであり、そのためには民撰議院を作る以外にない。
1877	④ 西南戦争西郷隆盛が不平士族を引き連れておこす。政府軍に敗北 → 自由民権運動が盛んになる。1880年には大阪で国会期成同盟が結成される		
1881	⑤ 国会開設の勅諭開拓使払い下げ事件で政府に非難集中。政府は10年後に国会を開設することを約束		
	⑥ 自由党板垣退助が結成		
1882	⑦ 立憲改進黨大隈重信が結成		
1885	⑧ 内閣 制度創設.....伊藤博文が初代内閣総理大臣になる → ⑨ ドイツ へ留学し、憲法を学ぶ		
1889	⑩ 大日本帝国憲法 発布.....アジアで初の立憲国家になる → 天皇主権。人権は法律で制限		第1条 大日本帝国ハ万世一系ノ天皇之ヲ統治ス 第11条 天皇ハ陸海軍ヲ統帥ス 第20条 日本臣民ハ法律ノ定ムル所ニ従イ兵役ノ義務ヲ有ス
1890	⑪ 第一回総選挙選挙権のある人は直接国税を15円以上納める25歳以上の男子のみ。人口の1%		
	⑫ 衆議 貴族院衆議院と貴族院の2つ		

●● 確認問題

A

- ① 国民が不満をもっていたのは、一部の藩出身者が政府の要職を占める_____である。 ① _____
- ② 朝鮮を武力で開国させようとする考えを_____という。 ② _____
- ③ ②によってA_____とB_____らが政府を去った。 ③ A _____
B _____
- ④ ③の2人のうち、_____は国会開設を求める意見書を政府に提出した。 ④ _____
- ⑤ ④の意見書を_____という。 ⑤ _____
- ⑥ ③の2人のうち、_____は、1877年に反乱をおこす。 ⑥ _____
- ⑦ ⑥のおこした反乱を_____という。 ⑦ _____
- ⑧ 1880年には国会開設を求める人々が大阪に集まり、_____を結成した。 ⑧ _____
- ⑨ 開拓使払い下げ事件で国民の非難をうけた政府は_____を出し、国会開設を約束した。 ⑨ _____
- ⑩ 国民が参政権(国会の開設)を求める運動を_____という。 ⑩ _____

B

- ① 自由党を結成したのは_____である。 ① _____
- ② 立憲改進黨を結成したのは_____である。 ② _____
- ③ 1885年には_____が初代内閣総理大臣になった。 ③ _____
- ④ ③は憲法を学ぶため_____に留学した。 ④ _____
- ⑤ 1889年2月11日に_____が制定された。 ⑤ _____
- ⑥ ⑤の憲法の主権者は_____である。 ⑥ _____
- ⑦ 1890年に衆議院の第一回_____がおこなわれた。 ⑦ _____
- ⑧ ⑦で選挙権を持つ人は人口の_____%にすぎなかった。 ⑧ _____
- ⑨ ⑦のあと帝国議会が開かれ、衆議院と_____の二院制が採用された。 ⑨ _____

C

次の人物名を書きなさい。

A



B



C



D




- A _____
- B _____
- C _____
- D _____

明治③ 日清・日露戦争と近代化

● 年表で確認1

1894 ① **甲午農民戦争** ……朝鮮半島でおこった内乱。清と日本が派兵



② **日清戦争** ……日清両国が激突

1895 ③ **下関条約** ……戦争の講和条約


第二条 清国はリアオトン半島、台湾を日本にゆずる。
 第六条 清国は日本に対して賠償金2億両を支払う。



④ **三国干渉** ……ロシアがドイツとフランスとともに日本に遼東(リアオトン)半島を返還するよう求める


欧米の列強が清に進出し、清を分割する

1900 ⑤ **義和団事件** ……清でおこった外国人排斥運動。^{はいせき}



1901 ⑥ **八幡製鉄所** ……官営の製鉄所。日本の重工業化のはじまり

1902 ⑦ **日英同盟** ……ロシアに対抗するために結ぶ



1904 ⑧ **日露戦争** ……ロシアと決戦。^{よさのあきこ} 与謝野晶子らは反対

1905 ⑨ **ポーツマス条約** ……講和条約。賠償金なく国民は不満。日比谷焼き打ち事件

第2条 露国は日本の韓国における優越権を認める。
 第9条 露国は北緯50度以南の樺太及び、付属する島を日本にゆずり渡す。

君死にたまふことなかれ
 ああ、弟よ君を泣く、
 君死にたまふことなかれ
 末に生まれし君なれば
 親の情けは勝りしも
 親は刃をにぎらせて
 人を殺せと教えしや
 人を殺して死ねよとて
 二十四まで育てしや

1910 ⑩ **韓国併合** ……朝鮮総督府をおき、朝鮮半島を植民地にする。日本語の強制など^{そうとくふ}

1911 ⑪ **辛亥革命** ……三民主義を唱える孫文らによって1912年、中華民国が建国される



●● 確認問題 1


A

- ① 1894年、朝鮮半島で_____がおこった。 ① _____
- ② 1894年、日本と清は戦争した。これを_____という。 ② _____
- ③ 日本はこの戦争に勝利し、_____とよばれる講和条約を結んだ。 ③ _____
- ④ この条約で日本は朝鮮の独立を確認し、台湾や、_____半島などを得た。 ④ _____
- ⑤ この内容にア_____はイ_____とフランスを誘って日本が獲得した④の半島を清に返すよう求めた。 ⑤ ア _____
イ _____
- ⑥ この出来事を_____という。日本は「がしんしょうたん臥薪嘗胆」を合言葉に次の戦争の決心をする。 ⑥ _____
- ⑦ 欧米の中国分割に反対する中国の国民は「ふしんめつよう扶清滅洋」を唱え、_____を起こした。 ⑦ _____
- ⑧ 1901年、日清戦争で得た賠償金をもとに建設されていた官営の_____が完成した。 ⑧ _____

B

- ① 日本は1902年にイギリスと_____を結んだ。 ① _____
- ② 1904年、ついに_____がはじまった。 ② _____
- ③ この戦争は、「君死にたまふことなかれ」で有名な詩人の_____らが反対した。 ③ _____
- ④ アメリカの仲介で_____とよばれる講和条約が結ばれた。 ④ _____
- ⑤ この条約で日本は韓国の優越権や北緯50度以南の_____などを得た。 ⑤ _____
- ⑥ 賠償金がなかったことに不満を持った国民は_____とよばれる暴動をおこした。 ⑥ _____
- ⑦ 日本は1910年、_____をおこない朝鮮総督府において植民地支配にのりだした。 ⑦ _____
- ⑧ ⑦の出来事のあと、清では_____がおこった。 ⑧ _____
- ⑨ 1912年にはアジアで初の共和国である_____が成立した。 ⑨ _____
- ⑩ ⑨で_____は臨時大総統になった。 ⑩ _____
- ⑪ ⑩は、民族(民族独立)・民権(民主化)・民生(民衆生活安定)の_____を唱えた。 ⑪ _____

● 年表で確認2

1886	① <u>ノルマントン号事件</u> ……領事裁判権を認めていたため、イギリスの船長は軽い罪	
1894	② <u>領事裁判権の撤廃</u> ……日清戦争直前に日英通商航海条約を結ぶ。 外務大臣 <small>むつむねみつ</small> 陸奥宗光	
	日清戦争	
	日露戦争	
1911	③ <u>関税自主権の回復</u> ……外務大臣 <small>こむらじゅたろう</small> 小村寿太郎。不平等条約はすべて改正される	

明治時代の教育と文化

医学	<small>きたさとしばさぶろう</small> 北里柴三郎	ペスト菌発見 <small>はしょうふう</small> 破傷風血清療法
	野口英世	黄熱病の研究
文学	与謝野晶子	乱れ髪
	<small>ひぐちいちよう</small> 樋口一葉	たけくらべ
	<small>なつめそうせき</small> 夏目漱石	我輩は猫である 坊ちゃん 草枕
	<small>おうがい</small> 森鷗外	舞姫
美術	<small>こうらん</small> 高村光雲	「老猿」彫刻
	<small>せい き</small> 黒田清輝	「湖畔」などの洋画
音楽	<small>れんたろう</small> 滝廉太郎	「花」「荒城の月」などの楽曲



山路を登りながら、こう考えた。
智に働けば角が立つ。
情に棹させば流される。
意地を通せば窮屈だ。
とにかくに人の世は住みにくい。
(草枕の冒頭)



●● 確認問題 2

C

- ① 1886年に_____事件がおり、不平等条約改正を求める声が高まった。 ① _____
- ② この事件で問題になったのは、外国に_____を認めていたことである。 ② _____
- ③ 1894年、日本はイギリスと日英通商航海条約を結び、_____に成功した。 ③ _____
- ④ 1911年、外相小村寿太郎は_____に成功し、不平等条約はすべて改正された。 ④ _____

D

語群より適するものを選び、次の表を完成させなさい。

人物	おもな業績・作品
野口英世	①
北里柴三郎	②
夏目漱石	③
樋口一葉	④
与謝野晶子	⑤
森鷗外	⑥
高村光雲	⑦
黒田清輝	⑧
滝廉太郎	⑨

語群

ペスト菌発見 黄熱病の研究 舞姫
 乱れ髪 たけくらべ 我輩は猫である
 老猿 湖畔 花

大正時代 第一次世界大戦・大正デモクラシー

● 年表で確認1

帝国主義 …… アフリカやアジアの植民地をめぐり激しく対立

同盟国

- ドイツ
- オーストリア
- トルコ

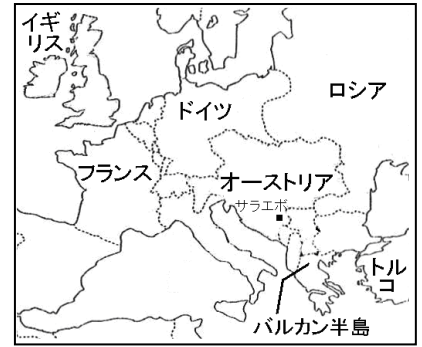
連合国

- イギリス
- フランス
- ロシア

対

(同盟)

日本



バルカン半島は「ヨーロッパの火薬庫」とよばれていた



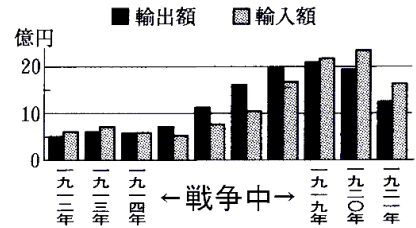
1914 ① 第一次世界大戦 が始まる……オーストリアの皇太子夫妻が殺害されるサラエボ事件がきっかけ

1915 ② 二十一か条の要求 を出す……日本は中国に進出をはかる。また、大戦中はヨーロッパへの輸出がのびる

一、ドイツがシャントン(山東)省に持っている権利を日本にゆずること。



日本の貿易額



1917 ③ ロシア革命 ……戦争の長期化で国民の不満が爆発。

レーニンの指導のもと社会主義国家の誕生

1918 ドイツ降伏。戦争終結……パリ講和会議が開かれる



1919 ④ ベルサイユ条約 を結ぶ

朝鮮半島で三・一独立運動 ・ 中国で五・四運動 ・ インドでガンディーを中心とする独立運動がおこる

1920 ⑤ 国際連盟 設立……アメリカ大統領ウィルソンが提唱。世界平和の実現へ

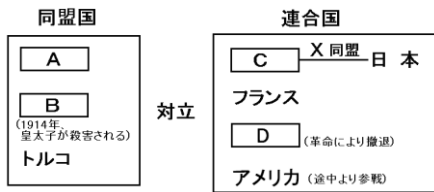


1921 ワシントン会議……軍縮会議が開かれる

●● 確認問題 1

A

- ① ドイツとオーストリアは、植民地をめぐる_____やフランス・ロシアと対立した。
- ② バルカン半島は_____とよばれ、紛争が絶えない地域であった。
- ③ 1914年にオーストリアの皇太子夫妻が暗殺される_____事件がおこった。
- ④ ③の事件によりオーストリアはセルビアに宣戦布告し、_____がはじまった。
- ⑤ 日本は_____を理由に連合国側で参戦し、中国のドイツ領を攻撃した。
- ⑥ ヨーロッパの関心がアジアからなくなったので、日本は中国に対し、_____を出した。
- ⑦ 大戦中、日本はヨーロッパへの_____が増加し、貿易黒字になった。
- ⑧ 次の X 同盟とA～Dに当てはまる国名を書きなさい。



⑧ X _____ 同盟

- ① _____
- ② _____
- ③ _____
- ④ _____
- ⑤ _____
- ⑥ _____
- ⑦ _____
- A _____
- B _____
- C _____
- D _____

B

- ① 1917年、_____革命がおこった。
- ② この革命の中心人物は_____である。
- ③ 1918年にドイツは降伏し、1919年にはフランスのパリで_____が結ばれた。
- ④ 第一次世界大戦後、朝鮮では日本に対して独立を求める_____がおこった。
- ⑤ 中国では北京の学生らが二十一か条の要求の撤廃をもとめ_____をおこした。
- ⑥ インドでは_____らが、イギリスに対して非暴力・不服従を貫き、自治を求めた。
- ⑦ 世界平和と国際協調を目指して_____が設立された。
- ⑧ ⑦の設立を提唱したのはアメリカの大統領_____である。

- ① _____
- ② _____
- ③ _____
- ④ _____
- ⑤ _____
- ⑥ _____
- ⑦ _____
- ⑧ _____

● 年表で確認2

1912 第一次護憲運動……国民の強い反発により、桂太郎内閣が退陣する

1914 第一次世界大戦が始まる

1917 ① **ロシア革命** がおこる……社会主義国家の成立へ。各国はこれに干渉するため、シベリアに出兵する

1918 ② **米騒動** がおこる……富山県の主婦が米屋を襲撃。全国に広まる



③ **大正デモクラシー** 国民の風潮。民本主義をとねえた吉野作造らが中心



→ この時期に労働運動や小作争議、平塚雷鳥らの婦人運動などが活発に



元始、女性は美に太陽であった。真正の人であった。今、女性は月である。

④ **原敬** 内閣成立……初の本格的な政党内閣



1919 ベルサイユ条約の締結。第一次世界大戦が終結

1923 関東大震災がおこる

1925 ⑤ **普通選挙法** の成立……満25歳以上の男子に選挙権

⑥ **治安維持法** 制定……社会(共産)主義をとりしめるための法律

●● 確認問題 2

- ① シベリア出兵を見越した米の買い占めで米価が急上昇し、_____がおこった。 ① _____
- ② 大正デモクラシーで人々は誰にでも選挙権のある_____を求めた。 ② _____
- ③ 帝国大学教授の_____は民意を政治に反映させるべきだと訴えた。 ③ _____
- ④ ③の人物の考えを_____という。 ④ _____
- ⑤ 米騒動によって追いつめられた政府は、立憲政友会の_____を内閣総理大臣にする。 ⑤ _____
- ⑥ ⑤は一部の大臣以外はすべて立憲政友会の党員で内閣を構成する_____を作った。 ⑥ _____
- ⑦ 女性の地位向上をめざし、青鞥社をつくって婦人運動をおこなったのは_____である。 ⑦ _____
- ⑧ 1923年9月1日、_____がおこった。 ⑧ _____
- ⑨ 1925年、普通選挙法の成立により、満_____の_____すべてに選挙権が与えられた。 ⑨ _____ の _____
- ⑩ 1925年、社会(共産)主義をとりしめるために_____が制定された。 ⑩ _____

昭和時代 世界恐慌～第二次世界大戦

● 年表で確認1

1929	<p>① 世界恐慌がおこる.....アメリカではじまる</p> <p>② ニューディール政策アメリカの政策。ルーズベルト大統領中心 公共事業をおこす</p> <p>③ ブロック経済イギリスやフランスのとった政策 植民地との関係を強化</p> <p>④ 五カ年計画ソ連の政策。スターリンを中心とする計画経済によって恐慌の影響なし</p> <p>⑤ ファシズムヒトラー率いるドイツと、ムッソリーニ率いるイタリアの反民主主義</p>	<p>1929年を100とした各国の経済状況</p> <table border="1"> <caption>1929年を100とした各国の経済状況</caption> <thead> <tr> <th>年</th> <th>ソ連</th> <th>日本</th> <th>アメリカ</th> <th>イギリス</th> </tr> </thead> <tbody> <tr> <td>1929</td> <td>100</td> <td>100</td> <td>100</td> <td>100</td> </tr> <tr> <td>1930</td> <td>120</td> <td>110</td> <td>100</td> <td>100</td> </tr> <tr> <td>1931</td> <td>150</td> <td>110</td> <td>90</td> <td>100</td> </tr> <tr> <td>1932</td> <td>180</td> <td>110</td> <td>80</td> <td>100</td> </tr> <tr> <td>1933</td> <td>200</td> <td>110</td> <td>80</td> <td>100</td> </tr> <tr> <td>1934</td> <td>250</td> <td>120</td> <td>80</td> <td>100</td> </tr> </tbody> </table>	年	ソ連	日本	アメリカ	イギリス	1929	100	100	100	100	1930	120	110	100	100	1931	150	110	90	100	1932	180	110	80	100	1933	200	110	80	100	1934	250	120	80	100
年	ソ連	日本	アメリカ	イギリス																																	
1929	100	100	100	100																																	
1930	120	110	100	100																																	
1931	150	110	90	100																																	
1932	180	110	80	100																																	
1933	200	110	80	100																																	
1934	250	120	80	100																																	

● 年表で確認2

1931	<p>① 満州事変がおこる.....日本軍は南満州鉄道を爆破する。</p> <p>② 満州国日本軍が実質的に支配。犬養毅首相はこれを非難</p>	<p>狙撃されて重傷の 犬養總理大臣遂に逝去 幅員もなく昨夜一時過 政界の巨星 兇弾に斃る 十五日午後六時、首相官邸 で、犬養毅首相は、暗殺者 の狙撃を受け、重傷を負 い、翌朝、逝去した。享年 五十七歳。遺言は、天機を奉 還す。遺族は、夫人と三男 一人、長女一人、長孫一人 を遺す。遺言は、遺族に 各開僚の暇乞ひ、</p>
1932	<p>③ 五・一五事件海軍将校が犬養毅を殺害。政党政治が終わる</p>	
1933	<p>④ 国際連盟脱退.....満州国建国が認められなかったため</p>	<p>！ばらさよ盟聯 總會勸告書を採擇し 我が代表堂々退場す 四十一對一票棄權</p>
1936	<p>⑤ 二・二六事件陸軍将校が首相官邸や警視庁をおそう</p>	
1937	<p>⑥ 日中戦争^{ろこうきゅう}盧溝橋事件で日本と中国が衝突→ 戦争長期化</p>	
1938	<p>⑦ 国家総動員法制定.....すべての人・ものを戦争に動員できる</p>	<p>どいたくは敵た</p>
1940	<p>大政翼賛会.....挙国一致体制のため組織される</p>	

●● 確認問題

A

- ① 1929年、アメリカで株価が大暴落し、_____がはじまった。 ① _____
- ② ソ連では_____を中心に計画経済が進められ、恐慌の影響を受けなかった。 ② _____
- ③ ②の政策を_____という。 ③ _____
- ④ イギリスやフランスの_____とった政策を_____という。 ④ _____
- ⑤ アメリカでは_____が大統領になり、公共事業を積極的にすすめる政策をとった。 ⑤ _____
- ⑥ ⑤の政策を_____という。 ⑥ _____
- ⑦ イタリアでは_____を党首とするファシスト党が独裁政治をおこなった。 ⑦ _____
- ⑧ ドイツではナチスの_____が政権をとり、ユダヤ人を迫害した。 ⑧ _____
- ⑨ ⑦と⑧のような全体主義を_____という。 ⑨ _____

B

- ① 1931年、日本軍は中国の柳条湖で軍事行動をおこす。これを_____という。 ① _____
- ② 日本軍は_____を建国し、支配した。 ② _____
- ③ この事件を内閣総理大臣である_____は非難した。 ③ _____
- ④ ③の人物は、_____事件で海軍将校に殺害される。 ④ _____
- ⑤ これにより、原敬内閣以来続いていた_____が終わった。 ⑤ _____
- ⑥ 満州国が認められなかったため、日本は_____を脱退した。 ⑥ _____
- ⑦ 1936年、陸軍将校が首相官邸や警視庁をおそう_____がおこった。 ⑦ _____
- ⑧ 1937年、盧溝橋事件で日本は中国と衝突し、_____がはじまった。 ⑧ _____
- ⑨ 日本は、人・ものを戦争に動員できる_____法を制定した。 ⑨ _____

● 年表で確認3

1939 ① **第二次世界大戦** はじまる……ドイツが全ヨーロッパを支配するため、ポーランドに侵攻する

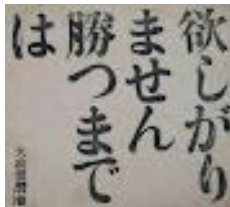
1940 ② **日独伊三国(軍事)同盟** を結ぶ……軍事同盟。3つの国を枢軸国すうじくをいう



1941 ③ **太平洋戦争** はじまる……日本がハワイの真珠湾を攻撃

1942 ミッドウェー海戦で、日本は大打撃を受ける。

日本は苦しくなる。食料配給制・学徒動員・学徒出陣・疎開など



1945 東京大空襲

(1945) 沖縄で地上戦

原爆投下 (8月6日→④ **広島** 8月9日→⑤ **長崎**)

⑥ **ポツダム宣言** を受け入れ、日本降伏



C

- ① 1939年、ドイツは_____に侵攻し、第二次世界大戦がはじまった。 ① _____
- ② 1940年、日本とドイツ・イタリアは_____を結んだ。 ② _____
- ③ 1941年12月8日、日本はハワイの真珠湾を奇襲し_____が始まった。 ③ _____
- ④ イギリスやアメリカなどは連合国といい、日本やドイツ・イタリアは_____国といわれた。 ④ _____
- ⑤ 空襲が激化すると大都市の子供は集団で田舎に_____した。 ⑤ _____
- ⑥ 1945年3月には_____とよばれるアメリカ軍の空襲があり、約8万人の犠牲者を出した。 ⑥ _____
- ⑦ 同月、アメリカは_____に上陸し地上戦がおこなわれた。約12万人の犠牲者を出した。 ⑦ _____
- ⑧ 1945年8月6日、_____が広島に落とされ、約20万人の犠牲者を出した。 ⑧ _____
- ⑨ 8月9日には_____にも投下され、約14万人の犠牲者を出した。 ⑨ _____
- ⑩ 8月15日、日本は_____を受け入れ、無条件降伏した。 ⑩ _____

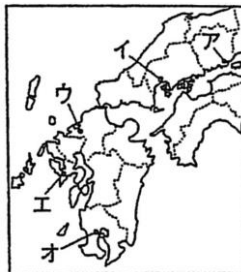
●●● 定期テスト演習

次の各問いに答えなさい。

- (1) 日本軍がハワイの真珠湾のアメリカ軍基地を奇襲したことによって始まった戦争を何というか、書きなさい。 (1) _____
 - (2) 1942年、山本^{いそろく}五十六の率いた連合艦隊が敗れることで、日本が大きな打撃を受けることになった戦いを何というか、次から選んで書きなさい。 (2) _____
- ア サイパン島の墮落 イ 日本海海戦
ウ ミッドウェー海戦 エ ガダルカナル島からの撤退

- (3) 1945年8月6日と8月9日、2つの都市に原子爆弾が投下された。その都市の位置を、資料中のア～オから一つずつ選んで、書きなさい。
- (4) 日本は(3)の結果、アメリカ・イギリス・中国の名で発表された宣言を受諾し、連合国に対する無条件降伏を受け入れた。その宣言を何というか、書きなさい。

資料



- (3) 8月6日 _____
- 8月9日 _____
- (4) _____

4 戦後の日本

● 年表で確認1

1945 ① **ポツダム宣言** じやうだく 受諾……日本降伏。GHQ(連合軍最高司令官総司令部)による改革

② **財閥解体** ……大企業を分割。経済の民主化

③ **農地改革** ……地主から土地を強制的に買い上げ、
小作農家に安く売りわたす


教育基本法制定……6・3・3・4の新学制導入。民主主義教育を重んじる

④ 選挙法の改正……資格が **満20歳以上の男女** になった

1946 ⑤ **日本国憲法** 公布……大日本帝国憲法を改正。1947年5月3日施行
11.3 国民主権・基本的人権の尊重・平和主義の3大原則。天皇は国の象徴

自作と小作の農家の割合(%)

1930年	自作 31	自作兼小作 42	小作 27
1950年	自作 62		自作兼小作 33 小作 5



● 年表で確認2

1945 ① **国際連合** 設立……平和を維持する機関。本部はアメリカのニューヨーク

② **冷戦** ……**社会主義国**と**資本主義国**の対立のこと。世界の国をまきこむ

1949 ③ **ドイツ** が東西に分裂

④ **中華人民共和国** 建国……指導者は毛沢東。社会主義国家

1950 ⑤ **朝鮮戦争** が起こる……北朝鮮が韓国に侵攻する。日本の景気は回復。警察予備隊が作られる

1951 ⑥ **サンフランシスコ平和条約** を結ぶ……48カ国と結ぶ。同時に日米安全保障条約を結ぶ

1956 ⑦ **日ソ共同宣言** が出される……ソ連と国交を回復した

⑧ **国際連合** に加入……ソ連の支持を得られたため

第1条 日本国と各連合国との間の戦争状態は、(略)終了する。連合国は、日本国及びその領海に対する日本国民の完全な主権を承認する。

4. ソビエト社会主義共和国連邦は、国際連合への加入に関する日本国の申請を支持する。

●● 確認問題 1

A

- ① 1945年、日本は_____を受諾して連合国に降伏した。 ① _____
- ② 連合国軍最高司令官総司令部をアルファベットで_____という。 ② _____
- ③ 選挙権が改正され、満_____に選挙権が与えられた。 ③ _____
- ④ 経済の民主化も進められ、_____がおこなわれた。 ④ _____
- ⑤ 戦後に実施された土地制度の改革を_____という。 ⑤ _____
- ⑥ ⑤によって小作農が減り、_____が増えた。 ⑥ _____
- ⑦ 1946年11月3日に_____が公布された。 ⑦ _____
- ⑧ ⑦の三原則は_____と基本的人権の尊重と平和主義である。 ⑧ _____
- ⑨ 小中学校を義務教育とした_____も制定された。 ⑨ _____

B

- ① 連合国は戦争がおこったことを反省し、平和を維持する機関として、_____を作った。 ① _____
- ② 社会主義国(東側)と資本主義国(西側)は対立する。この対立を_____という。 ② _____
- ③ 1949年にヨーロッパの_____は東西に分断された。 ③ _____
- ④ 中国では中国共産党の_____が国内を統一した。 ④ _____
- ⑤ ④は1949年に_____を建国し、社会主義国家が成立した。 ⑤ _____
- ⑥ 1950年には、朝鮮半島で_____がはじまった。 ⑥ _____
- ⑦ ⑥がはじまると日本では_____がつくられ、やがて自衛隊になった。 ⑦ _____
- ⑧ 1951年、日本は48か国と_____条約を締結した。 ⑧ _____
- ⑨ ⑧と同時に日本はアメリカと_____条約を結んだ。 ⑨ _____
- ⑩ 1956年に日本はソ連と_____を出した。 ⑩ _____
- ⑪ ⑩によって日本は_____に加盟し、国際社会に復帰した。 ⑪ _____

時代判別問題

人物史

下の年表を見てあとの問いに答えなさい。

710		794		1192		1334		1573		1603			
飛鳥		奈良		平安		鎌倉		(南北朝) 室町 (戦国)		安土 桃山			
A	B	C	D	E	F	G	H	I	J	K	L	M	N

(1) 次の①～⑮の人物名を書きなさい。また、活躍した時代を上のA～Nから選んで書きなさい。ただし、同じ記号を使う場合もあります。

①  金閣・日明貿易	②  太政大臣・日宋貿易	③  楽市楽座	④  武家諸法度・朱印船	⑤  国分寺・東大寺
⑥  建武の新政	⑦  十七条の憲法・法隆寺	⑧  院政	⑨  鎌倉幕府	⑩  尼将軍・承久の乱
⑪  太閤検地・刀狩	⑫  平安京	⑬  鎖国・慶安のお触書 参勤交代	⑭  摂関政治	⑮  目安箱・公事方御定書

人物名	A～N						
①		②		③		④	
⑤		⑥		⑦		⑧	
⑨		⑩		⑪		⑫	
⑬		⑭		⑮			

法令・政策

下の年表を見てあとの問いに答えなさい。

710	794	1192	1334	1573	1603
ア 飛鳥	イ 奈良	ウ 平安	エ 鎌倉	オ (南北朝) 室町 (戦国)	カ 安土 桃山
					キ 江戸

(1) 次の「法令」や「政策」はいつの時代のものか。年表の中から記号で書きなさい。

- ① 北条泰時は裁判の基準を統一するために御成敗式目を出した。
- ② 戦国大名は領国を支配するために分国法を出した。
- ③ 徳川家光は貿易の独占とキリスト教の禁止を目的として鎖国を行った。
- ④ 徳川吉宗は公事方御定書を制定し、裁判の基準を作った。
- ⑤ 聖徳太子は役人の心得を示すために十七条の憲法を制定した。
- ⑥ 幕府は元寇によって貧しくなった御家人を救うために徳政令を出した。
- ⑦ 徳川家光は農民に対して年貢を確実に納めさせるために慶安の御触書を出した。
- ⑧ 徳川家康は大名を統制するために武家諸法度を制定した。
- ⑨ 聖武天皇は口分田の不足を補うために墾田永年私財法を出した。
- ⑩ 織田信長は安土城下の商業を発展させるために楽市楽座を行った。
- ⑪ 豊臣秀吉は兵農分離政策をとるために刀狩令を出した。
- ⑫ 水野忠邦は物価を引き下げるために株仲間の解散を命じた。

①	②	③	④	⑤	⑥	⑦	⑧
⑨	⑩	⑪	⑫				

外交史

下の年表を見てあとの問いに答えなさい。

4世紀	6世紀	710	794	1192	1334	1573	1603	
ア 弥生	イ 古墳	ウ 飛鳥	エ 奈良	オ 平安	カ 鎌倉	キ (南北朝)室町(戦国)	ク 安土 桃山	ケ 江戸

次のことからはいつの時代に出されたものですか。上の年表を参考にして記号で答えなさい。

また、相手国を語群から選んで書きなさい。(同じ記号を使う場合もあります。)

ことがら	<日本の時代>	<相手国・地域>
① 卑弥呼がこの国に使いを送った。		
② この国は火薬などを武器に二度日本を攻めた。		
③ 鎖国後はこの国と中国のみ貿易をおこなった。		
④ これらの国から鉄砲やキリスト教が伝わった。		
⑤ 聖徳太子が小野妹子を派遣した。		
⑥ 奴国王が使いを送り、金印を授かった。		
⑦ この国から4隻の軍艦が浦賀にやってきた。		
⑧ 630年～894年までこの国に使いを送った。(3時代にまたがる)		
⑨ 平清盛がこの国と貿易を始めた。		
⑩ 豊臣秀吉はこの国を征服するために朝鮮に出兵した。		
⑪ 足利義満はこの国と貿易を始めた。		
⑫ 徳川家康が朱印船貿易をおこなった。		

語群：	スペイン・ポルトガル	宋	明	元	唐	隋	アメリカ
	オランダ	魏	漢	東南アジア			

外交史 2

次の①～⑪の資料は何時代のことですか。年表から選んで記号を書きなさい。

<年表>

4世紀	6世紀	710	794	1192	1334	1573	1603	
ア 弥生	イ 古墳	ウ 飛鳥	エ 奈良	オ 平安	カ 鎌倉	キ (南北朝)室町(戦国)	ク 安土 桃山	ケ 江戸

<p>①</p> 	<p>②</p> 	<p>③</p> 
<p>④</p>  <p>巖島神社: ある一族と関係が深い</p>	<p>⑤ 南蛮貿易</p>  <p>答えは二つの時代にまたがります。</p>	<p>⑥</p> 
<p>⑦</p> <p>わたしの祖先は、みずからよろいやかぶとを身につけ、山や川をかけめぐり、東は 55 国、西は 66 国、さらに海をわたって 95 国を平定しました。(中略) わたしに高い官位をあたえて、激励してください。</p>	<p>⑨</p> <p>一、異国へ船をつかわす事を今後は禁止とする。</p> <p>一、海外在住の日本人は、日本に帰国する事を禁止とする。</p>	<p>⑪</p> 
<p>⑧</p> <p>日出ずる処の天子、書を日没する処の天子にいたす。つつがなきや..</p>	<p>⑩ 通信使</p> 	

①	②	③	④	⑤	⑥	⑦	⑧
⑨	⑩	⑪					

女性史

下の年表を見てあとの問いに答えなさい。

4世紀	6世紀	710	794	1192	1334	1573	1603	1868
ア 弥生・古墳	イ 飛鳥	ウ 奈良	エ 平安	オ 鎌倉	カ (南北朝)室町(戦国)	キ 安土 桃山	ク 江戸	ケ 明治 以降

(1) 次の人物名を書きなさい。

- ① 私は邪馬台国の女王としていくつかの国をまとめました。
- ② 私は聖徳太子を摂政として国の政治にあたらせました。
- ③ 私は源頼朝の妻として御家人をまとめました。
- ④ 私は、かぶき踊り^{おど}を始め、全国をまわりました。
- ⑤ 私は、「君死にたまふことなかれ」という詩を書き、戦争に反対しました。
- ⑥ 私は青鞮社を結成し、女性の地位向上に努めました。

①	②	③
④	⑤	⑥

(2) (1)の①～⑥の人物が活躍した時代を年表から選んで記号を書きなさい。

①	②	③	④	⑤	⑥
---	---	---	---	---	---

農業・土地制度史

4世紀 6世紀 710 794 1192 1334 1573 1603 1867



ア 弥生・古墳	イ 飛鳥	ウ 奈良	エ 平安	オ 鎌倉	カ (南北朝)室町(戦国)	キ 安土 桃山	ク 江戸
------------	---------	---------	---------	---------	------------------	---------------	---------

(1) 下のことがらは上の年表のどの時代のことが、選んで記号を書きなさい。(同じ記号を何回選んでもよい)

- ① 朝廷が土地と人民を支配する公地公民となり，班田収授がおこなわれた。
- ② 墾田永年私財法により新しく開墾した土地は永久に私有地として認められた。
- ③ 農民の団結は惣とよばれ，寄合をひらき，土一揆など，たびたび一揆をおこした。
- ④ 刀狩をおこない，農民から武器をとりあげ，武士と農民の区別をはっきりさせた。
- ⑤ 備中ぐわ，千歯こきが発明され，農業の生産性が高まった。また，大規模な新田開発もおこなわれた。
- ⑥ 稲作が日本に伝わり，貧富の差が発生し，各地にくにが発生した。
- ⑦ 牛馬耕や，草木灰が使用されはじめ，二毛作がはじまった。農民は地頭と荘園領主の二重支配に苦しんだ。
- ⑧ 慶安の御触書や五人組の制度が出され，農民の生活をきびしく取り締まった。

①	②	③	④	⑤	⑥	⑦	⑧
---	---	---	---	---	---	---	---

(2) 次の資料はいつの時代のものか，年表から選んで記号を書きなさい。(同じ記号を何回選んでもよい)

<p>① 一、朝は早くおきて草を刈り，昼は田畑を耕し，夜は縄・俵を編み，休むことなく仕事にはげめ。</p>	<p>② 一、惣の森で，勝手に木を切ったり葉をかき集めたりした者は村人であれば村の寄合からはずし，その他の者は村から追い出すこと。</p>	<p>③ 諸国の百姓が刀やわきざし，弓，やり，鉄砲，そのほかの武具などを持つことはかたく禁止する。</p>
<p>④ ご飯をたくかまどにもクモが巢をはってしまった。それなのにむちを持った里長が，税を出せと戸口でわめいている。こんなにもつらいものなのか。この世に生きていくのは。(万葉集より)</p>	<p>⑤ 新しい農具</p> 	<p>⑥</p> 

①	②	③	④	⑤	⑥
---	---	---	---	---	---





ア 飛鳥	イ 奈良	ウ 平安	エ 鎌倉	オ (南北朝)室町(戦国)	カ 安土 桃山	キ 江戸
---------	---------	---------	---------	------------------	---------------	---------

(1) 次のことがらは上の年表のどの時代のことか。記号を書きなさい。(同じ記号を何回選んでもよい)

- ① 唐にならってつくられた都の東西に市が出来，和同開珎が使われた。
- ② 問丸・馬借などの運送業が発達した。
- ③ 商工業を発達させるために，楽市楽座がおこなわれ，座の特権が廃止された。
- ④ 諸国の年貢米が集まる蔵屋敷が，大阪にたちならんだ。
- ⑤ この時代の高利貸しは両替商とよばれ，大名にも金が貸し付けられた。
- ⑥ この時代の高利貸しは土倉・酒屋とよばれた。
- ⑦ この時代の商工業者の同業組合は座とよばれた。
- ⑧ この時代の商工業者の同業組合は株仲間とよばれた。
- ⑨ 日明貿易の結果，堺や博多など自治都市がさかえた。

①	②	③	④	⑤	⑥	⑦	⑧	⑨
---	---	---	---	---	---	---	---	---

(2) 次の資料はいつの時代に出されたものか。上の年表から選んで記号を書きなさい。(同じ記号を何回選んでもよい)

<p>①</p> 	<p>②</p> <p>その方ども、これまで毎年一万二千両の冥加金運上金(ともに税金)を上納してきたが、問屋どもに不正があることがわかったので、以後上納しなくてよい。また今後は株仲間はもちろん問屋仲間、組合などということは相ならん。</p>	<p>③</p> <p>一、ここは楽市としてお おせつけられているの だから税や労役はすべて免除する。</p>
<p>④</p> <p>正長元年9月、天下の土民(農民)が蜂起した。彼らは徳政だといって酒屋・土倉などを破壊し、借金証書をことごとく破った。管領がこれをしずめた。土民が蜂起したのは日本国始まって以来のことである。</p>	<p>⑤</p> 	<p>⑥</p> 
<p>⑦ 藩札</p> 		

①	②	③	④	⑤	⑥	⑦
---	---	---	---	---	---	---

文化史













下の年表を見てあとの問いに答えなさい。

6世紀	710	794	1192	1334	1573	1603		
飛鳥	奈良	平安	鎌倉	室町	安土桃山	江戸		
A	B	C	D	E	F	G	H	I

(1) 年表中の A~I は各時代の文化が栄えた時期をあらわしている。文化名を書きなさい。

A	文化	B	文化	C	文化	D	文化	E	文化
F	文化	G	文化	H	文化	I	文化		

(2) 下の①~⑫は、年表中のどの文化の時のものか、年表 A~I の中から選んで書きなさい。

① 平等院鳳凰堂 	② 東大寺正倉院 	③ 法隆寺 	④ 金閣 
⑤ 東大寺南大門 	⑥ 姫路城 	⑦ 銀閣 	⑧ 東大寺大仏 
⑨ 金剛力士像 	⑩ ひしかわもろのぶ 菱川師宣 	⑪ 雪舟 	⑫ みかく 富嶽三十六景 

①	②	③	④	⑤	⑥	⑦	⑧
⑨	⑩	⑪	⑫				

明治時代以降の各テーマ史

<年表>

1853	1868	1874	1894	1914	1929	1945
ア 幕末	イ 明治維新	ウ 自由民権	エ 日清日露	オ 第一次大戦 大正デモクラシー	カ 世界恐慌～第二次大戦	キ 戦後

(1) <農業>下のことがらは、上の年表のどの時期のことか、選んで記号を書きなさい。

- ① 明治政府が地租改正をおこない、土地所有者が地価の3%を現金で納めるようになった。
- ② 農地改革がおこなわれ、自作農が大幅に増加した。
- ③ 各地で小作争議がおこりはじめ、地主に対して小作料の減免を求めた。
- ④ 米が余ようになり、政府は生産調整(減反政策)を実施した。
- ⑤ ロシア革命によるシベリア出兵の影響により米価が急上昇し、米騒動がおこった。

①	②	③	④	⑤
---	---	---	---	---

(2) <工業>下のことがらは、上の年表のどの時期のことか、選んで記号を書きなさい。

- ① 官営の八幡製鉄所が建設され、政府は重工業にも力を入れ始めた。
- ② 官営の富岡製糸場が作られ、外国からも技師を招き、工業を発達させようとした。
- ③ 高度経済成長が続き、日本は先進国の仲間入りをはたした。
- ④ 軽工業を中心に産業革命がおき、それまで輸入していた綿糸を輸出するようになった。
- ⑤ 船舶などの重工業が発達し、工業生産額が農業生産額をうわまわった。

①	②	③	④	⑤
---	---	---	---	---

(3) <社会中心>下のことがらは、上の年表のどの時期のことか、選んで記号を書きなさい。

- ① ラジオ放送が始まり、新聞と並ぶ情報源となった。
- ② 郵便や電信制度が始まり、東京(新橋)―横浜間に鉄道が開通した。
- ③ 米などの生活必需品は配給制となり、都会の児童は田舎に疎開した。
- ④ 新幹線や高速道路が建設され、日本列島各地への移動時間が大幅に短縮された。

①	②	③	④
---	---	---	---

<年表>

1853	1868	1874	1894	1914	1929	1945
ア 幕末	イ 明治維新	ウ 自由民権	エ 日清日露	オ 第一次大戦	カ 世界恐慌 デモクラシー 第二次大戦	キ 戦後

(4) <経済中心>下のことがらは、年表のどの時期のことか、選んで記号を書きなさい。

- ① 大戦中は好景気がおとずれ、輸出が輸入をうわまわり、成金とよばれる者もあらわれた。
- ② 円・銭・厘の貨幣制度が整えられた。
- ③ 生糸を輸出しすぎて国内が品薄になり、あわせてその他の物価が大幅に上昇した。人々は世直しを求めた。
- ④ 朝鮮戦争による特需により、国内の経済はやや回復した。
- ⑤ アメリカでおこった大不況が日本にも大きな影響を与え、日本は深刻な不況にみまわれた。

①	②	③	④	⑤
---	---	---	---	---

(5) <事件>下のことがらは、年表のどの時期のことか、選んで記号を書きなさい。

- ① 秩父事件や、福島事件などがおこり、国会開設を求める運動は激化した。
- ② 大逆事件がおこり、社会主義者の幸徳秋水らが、死刑になった。
- ③ 足尾鉬毒事件で田中正造は天皇に直訴した。
- ④ 五・一五事件や二・二六事件がおこり、軍部の影響が強まった。
- ⑤ 日比谷焼き打ち事件がおこるなど、国民は政府に対して不満をあらわにした。
- ⑥ 関東大震災がおこり、首都圏は混乱におちいった。この混乱の中で多くの中国・朝鮮人・社会主義者が殺された。

①	②	③	④	⑤	⑥
---	---	---	---	---	---

(6) <外交 1>下のことがらは、年表のどの時期のことか、選んで記号を書きなさい。

- ① 日米修好通商条約を結び、領事裁判権を認め、関税自主権がないなど、日本にとって不平等であった。
- ② 日米安全保障条約を結び、沖縄のアメリカ軍基地使用などをみとめた。
- ③ 日英同盟を結び、ロシアの南下政策に対抗した。
- ④ 日独伊三国同盟を結び、3国の結束を強化した。

①	②	③	④
---	---	---	---

(7) <外交 2>下のことがらは、年表のどの時期のことか、選んで記号を書きなさい。

- ① 岩倉使節団が派遣され、不平等条約を改正しようとしたが、失敗に終わった。
- ② 中国に対して二十一か条の要求を出し、これを認めさせた。
- ③ ノルマントン号事件がおこり、不平等条約改正の動きが高まった。
- ④ サンフランシスコ平和条約を結び、日本は独立を回復した。

①	②	③	④
---	---	---	---

<年表>

1868	1874	1894	1914	1929	1945
ア 幕末	イ 明治維新	ウ 自由民権	エ 日清日露	オ 第一次大戦 大正デモクラシー	カ 世界恐慌～第二次大戦 キ 戦後

(8)<教育>下のことがらは、年表のどの時期のことか、選んで記号を書きなさい。

- ① 大日本帝国憲法が出された翌年、教育勅語が出され、忠君愛国の道徳が示された。
- ② 政府は学制を發布し、6歳以上の男女を義務教育としたが、就学率は低かった。
- ③ 教育基本法が制定され、義務教育が9年に延長された。→今の制度と同じ
- ④ 韓国は併合され、韓国の学校では日本語や日本史を学ばされ、日本人に同化させる教育がおこなわれた。

①	②	③	④
---	---	---	---

(9)<国民の政治参加>下のことがらは、上の年表のどの時期のことか、選んで記号を書きなさい。

- ① 米騒動をきっかけに真の民主主義を求める運動がおこり、ついに25歳以上の男子に選挙権が与えられた。
- ② 選挙権の年齢が20歳に引き下げられ、女子にも参政権が認められた。
- ③ 国会の開設をもとめる運動が激化し、政府はこれをきびしく取り締まった。
- ④ 日米安全保障条約の改正に反対して学生を中心に安保闘争とよばれる反政府運動に発展した。

①	②	③	④
---	---	---	---

(10) 次の資料は上の年表のどの時期のことか、選びなさい。

		
<p>④</p> <p>ああ、弟よ君を泣く、 君死にたまふことなけれ 末に生まれし君なれば 親の情けは勝りしも 親は刃をにぎらせて 人を殺せと教えしや 人を殺して死ねよとて 二十四まで育てしや</p>		

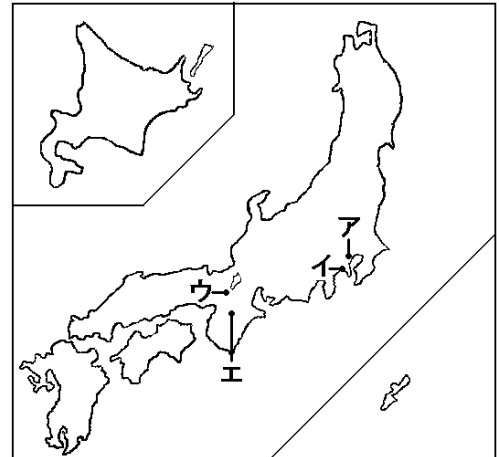
歴史地理・同時代の出来事

問 い 次のできごとがおこった場所を略地図から選んで記号を書きなさい。

(1) <政治の中心地>

- ① この地に平城京が造営された。
- ② この地に平安京が、また足利尊氏が幕府を開いた。
- ③ この地に源頼朝が幕府を開いた。
- ④ この地に徳川家康が幕府を開いた。

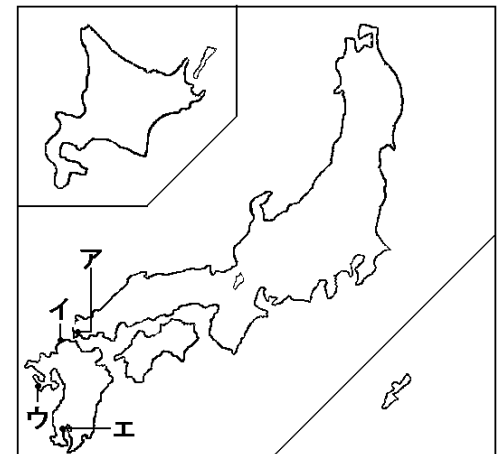
①	②	③	④
---	---	---	---



(2) <西日本の重要地>

- ① フランシスコザビエルが上陸した地。
- ② 鎖国後も貿易が許された人工島があった場所。
- ③ 弥生時代の金印が発見された場所。また、元が襲撃した。
- ④ 日清戦争の講和条約が結ばれた場所。

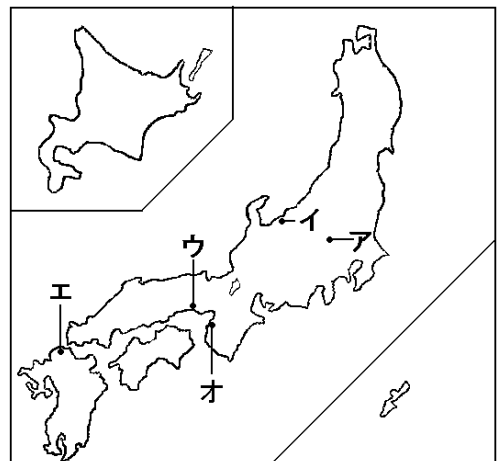
①	②	③	④
---	---	---	---



(3) <その他の重要地>

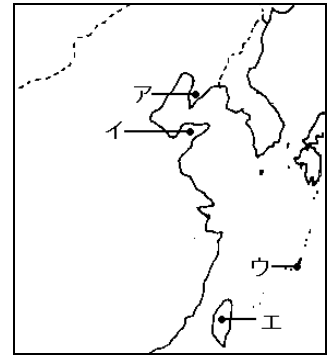
- ① 平清盛がここを改修して以来、港町として現代までさかえる。
- ② 明治時代に官営の製糸場が建設された。
- ③ 明治時代後期に官営の製鉄所が建設された。
- ④ 大正時代に、この主婦が暴動を起こしたのがきっかけで米騒動がおこった。
- ⑤ 室町時代後半に自治都市として栄えた。鉄砲の産地としても知られていた。

①	②	③	④
⑤			



(4) <その他の重要地2>

- ① アメリカに占領されていたが、1972年に返還された土地。
- ② 第一次世界大戦が始まると日本はドイツの権益を日本のものにするように要求した。
- ③ 日清戦争後の下関条約で日本に譲られた。しかしロシアなどが日本に圧力をかけて清に返還させた土地。



①	②	③
---	---	---

(5) <外国と同時代のできごと>

次の外国でのできごとに最も近い日本のできごとをア～キから選びなさい。

- ① ルターが宗教改革をおこした。
- ② アメリカで独立戦争がおこり、独立宣言が出された。
- ③ フランス革命がおこり、人権宣言が出された。
- ④ アヘン戦争がおこり、清は破れて、南京条約を結んだ。
- ⑤ ロシア革命がおこり社会主義政府が誕生した。

- ア 水野忠邦が天保の改革をおこなった。
- イ 田沼意次が老中となり、わいろ政治をおこなった。
- ウ 松平定信が寛政の改革をおこなった。
- エ 徳川吉宗が享保の改革をおこなった。
- オ フランシスコザビエルがキリスト教を伝えた。
- カ マルコ=ポーロが日本をヨーロッパに紹介した。
- キ 富山の主婦が米の異常な値上がりに反発し、米騒動をおこした。

①	②	③	④	⑤
---	---	---	---	---

解答

文明のおこり

●● 確認問題 1

A

- ① 最古の人類を何というか。
- ② ①の人類は直立歩行のほかに何が出来ようになったか。
- ③ 250 年前に、地球は_____期に入った。_____にあてはまる語句を書け。
- ④ 200 万年前に中国の北京やインドネシアのジャワ島で発見された人類を何というか。
- ⑤ ④の人類は言葉のほかに何を使用したか。
- ⑥ 石をうち欠いて作った石器を何というか。
- ⑦ 20 万年前にあらわれた、現在の人類の直接の祖先を漢字2字で何というか。
- ⑧ 人々が⑥の石器を使用していた時代を何時代とよぶか。
- ⑨ 群馬県にある⑧の遺跡を何というか。

- ① 猿人
- ② 道具の使用
- ③ 氷河
- ④ 原人
- ⑤ 火
- ⑥ 打製石器
- ⑦ 新人
- ⑧ 旧石器時代
- ⑨ 岩宿遺跡

B

- ① 表面を磨いた石器を何というか。
- ② 食物を煮るためにつくられたものは何か。
- ③ 約一万年前から、①の石器を使用していた時代を何というか。

- ① 磨製石器
- ② 土器
- ③ 新石器時代

C

①



何か 打製石器

②



何か 磨製石器

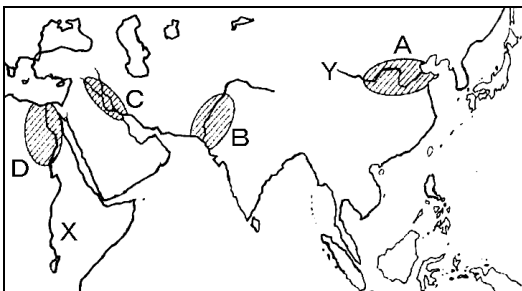
●● 確認問題 2

A

- | | |
|---------------------------------|------------|
| ① ナイル川流域に発達した文明を何というか。 | ① エジプト文明 |
| ② ①の文明の遺跡である王の墓を何というか。 | ② ピラミッド |
| ③ チグリス川・ユーフラテス川流域に発達した文明を何というか。 | ③ メソポタミア文明 |
| ④ インダス川流域に発達した文明を何というか。 | ④ インダス文明 |
| ⑤ 黄河流域に発達した文明を何というか。 | ⑤ 中国文明 |
| ⑥ ⑤の文明で発明された文字を何というか。 | ⑥ 甲骨文字 |
| ⑦ 中国で戦国時代に孔子の説いた教えを何というか。 | ⑦ 儒学(教) |
| ⑧ 紀元前 221 年に中国を統一した国を何というか。 | ⑧ 秦 |
| ⑨ ⑧を統一した人物は何とよばれていたか。 | ⑨ 始皇帝 |
| ⑩ ⑨が北方の遊牧民の侵入を防ぐために作らせたものは何か。 | ⑩ 万里の長城 |
| ⑪ ⑨の死後に中国を統一した国は何か。 | ⑪ 漢 |
| ⑫ ヨーロッパと西アジアと中国を結んだ道を何というか。 | ⑫ シルクロード |
| ⑬ キリスト教を開いた人物はだれか。 | ⑬ イエス |



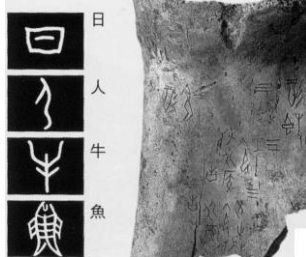

B

次のA～Dの地域でおこった文明と、XとYの川の名前を書きなさい。



- | | | | |
|----------|----|--------|----|
| A 中国 | 文明 | B インダス | 文明 |
| C メソポタミア | 文明 | D エジプト | 文明 |
| x ナイル川 | | y 黄河 | |

C 問いに答えなさい。

- | | | | |
|---|---|--|---|
| ①  | ②  | ③  | ④  |
| 何か? | 遺跡名は? | 文字名は? | 人形を何というか? |
| ピラミッド | モヘンジョ・ダロ遺跡 | 甲骨文字 | 兵馬俑 |

縄文時代と弥生時代

●● 確認問題 1

A

- ① 現在の日本列島が出来たのはおよそ何年前か。
- ② 縄文時代の人々が住んでいた住居を何というか。
- ③ 縄文時代の人々が魔よけに使用していたものは何か。
- ④ 縄文時代の人々が食べ物の残りかすを捨てていた場所を何というか。
- ⑤ 青森県にある縄文時代の代表的な遺跡を書け。
- ⑥ 2300年前に大陸から伝わったものは金属器と何か。
- ⑦ 弥生時代に稲をたくわえた倉庫を何というか。
- ⑧ 57年に漢(中国)に使いを送った国はどこか。
- ⑨ ⑧の国は漢の皇帝から何を授かったか。
- ⑩ 239年に魏(中国)に使いを送った国はどこか。
- ⑪ ⑩の国の王は誰か。
- ⑫ 佐賀県にある弥生時代の代表的な遺跡を何というか。
- ⑬ 次のA～Cを何というか。




- ① 1万年前
- ② 竪(たて)穴住居
- ③ 土偶
- ④ 貝塚
- ⑤ 三内丸山遺跡
- ⑥ 稲作
- ⑦ 高床倉庫
- ⑧ 奴国
- ⑨ 金印
- ⑩ 邪馬台国
- ⑪ 卑弥呼
- ⑫ 吉野ヶ里遺跡
- ⑬
A 銅鐸
B 土偶
C 高床倉庫

古墳時代

●● 確認問題 2

A

- ① 300年～400年に近畿地方でおこった強大な国を何というか。
- ② ①の支配者を何というか。
- ③ ②はやがて何とよばれるようになったか。
- ④ 古墳から出土される素焼きの土器を何というか。
- ⑤ 大陸から日本にやってきた人を何というか。
- ⑥ ⑤の人々が日本に伝えたものを1つ書け。
- ⑦ 次のAを何というか。また、Bの古墳の形を何というか。



A



B

- ⑧ 538年に百済より日本に伝わったものは何か。

① 大和政権(ヤマト王権)

② 大王

③ 天皇

④ はにわ

⑤ 渡来人

⑥ 漢字 など

⑦

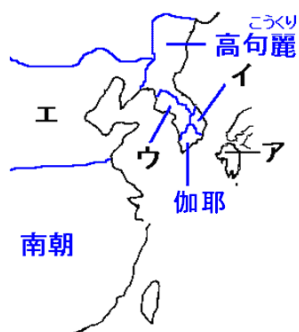
A はにわ

B 前方後円墳

⑧ 仏教

B

次は5世紀ごろの東アジアの様子である。ア～エの国名(王朝名)を書きなさい。



ア 倭

イ 新羅

ウ 百済

エ 北朝

飛鳥時代

●● 確認問題

A

- ① 聖徳太子は、_____の摂政となった。
- ② 聖徳太子は才能や功績のある人物を役人に取り立てるために_____をだした。
- ③ 聖徳太子は役人の心構えを示すために_____を出した。
- ④ 東アジアで日本の立場を有利にし、進んだ制度を取り入れるため_____使を派遣した。
- ⑤ ④には_____が派遣された。
- ⑥ 聖徳太子が建てた_____は世界最古の木造建築として有名である。
- ⑦ 中国では618年に隋が滅び、かわって_____がおこった。

- ① 推古天皇
- ② 冠位十二階
- ③ 十七条の憲法
- ④ 遣隋使
- ⑤ 小野妹子
- ⑥ 法隆寺
- ⑦ 唐

B

- ① 聖徳太子の死後、蘇我氏が勢力をふるったが、_____と中臣鎌足らによって倒された。
- ② 豪族が持っていた土地と人々を国家の支配のもとにおくことを_____という。
- ③ 6歳以上の男女に口分田をわたし、税を負担させるしくみを_____という。
- ④ 645年にはじまったこれらの改革を_____という。
- ⑤ 中大兄皇子は_____天皇に即位した。
- ⑥ 日本は百済を救済するために唐、_____連合軍と戦った。
- ⑦ この戦いを_____という。日本は大野城や水城などの軍事施設を作り、来襲に備えた。
- ⑧ 天智天皇の死後、大海人皇子と大友皇子による争いを_____という。
- ⑨ この争いに勝った大海人皇子は_____天皇となり、政治改革をすすめた。
- ⑩ 701年、_____が制定され、全国を支配する仕組みがととのった。

- ① 中大兄皇子
- ② 公地公民
- ③ 班田収授法
- ④ 大化の改新
- ⑤ 天智
- ⑥ 新羅
- ⑦ 白村江の戦い
- ⑧ 壬申の乱
- ⑨ 天武
- ⑩ 大宝律令

奈良時代

●● 確認問題

A

- ① 710年、唐の都の長安にならって_____がつくられ、奈良時代がはじまった。
- ② 地方の特産物を納める税を_____という。
- ③ 労役のかわりに布を負担する税を_____という。
- ④ 稲の収穫の3%を納める税を_____という。
- ⑤ 兵役では、3年間北九州の警備につく_____があった。
- ⑥ 奈良時代、_____は仏教の力によって国を治めようとした。
- ⑦ ⑥の天皇は国ごとに_____や国分尼寺をたてた。
- ⑧ ⑥の天皇は都には_____をたてた。
- ⑨ 口分田が不足してきたため、743年、_____が制定された。
- ⑩ ⑨の法が制定されたため、土地は国のものであるという_____の原則がくずれた。
- ⑪ ⑨の法の制定後にできた、貴族や寺社の私有地を_____という。

- ① 平城京
- ② 調
- ③ 庸
- ④ 租
- ⑤ 防人
- ⑥ 聖武天皇
- ⑦ 国分寺
- ⑧ 東大寺
- ⑨ 墾田永年私財法
- ⑩ 公地公民
- ⑪ 荘園

B

- ① 奈良時代の文化を_____文化という。
- ② 東大寺の_____には聖武天皇の愛用品が納められている。
- ③ 奈良時代には神話や伝承を記録にまとめるうごきがおこり古事記や_____が作られた。
- ④ 奈良時代には初めての和歌集である_____も作られた。
- ⑤ _____は盲目になりながらも来日し、仏教の発展につくした。

- ① 天平
- ② 正倉院
- ③ 日本書紀
- ④ 万葉集
- ⑤ 鑑真

平安時代

A

- ① 仏教勢力によって政治が混乱したため、794年、_____天皇は都を移した。
- ② 移された都を_____という。
- ③ 朝廷から_____は征夷大將軍に任命され、蝦夷を討伐した。
- ④ 平安時代の初期、_____は比叡山延曆寺ひえい えんりやくじで天台宗を開いた。
- ⑤ 平安時代の初期、_____は高野山金剛峯寺こうや こんごうぶじで真言宗を開いた。
- ⑥ 894年、_____を停止した。
- ⑦ ⑥は_____の進言による。
- ⑧ 平安時代は唐の文化をもとに日本の風土や生活にあった_____が発達した。
- ⑨ 漢字をもとにして作られた日本独自の文字を_____という。
- ⑩ 紫式部は長編小説_____をあわらした。
- ⑪ 清少納言は随筆_____をあらわした。
- ⑫ 平安時代の貴族の屋敷は_____造とよばれている。
- ⑬ 紀貫之らは_____を編集した。

B

- ① 自分の娘4人を天皇のきさきにして権力をふるったのは_____である。
- ② 藤原氏は摂政・関白として天皇の代わりに政治をおこなう。この政治を_____政治という。
- ③ 京都の宇治にある平等院鳳凰堂は_____がたてた。
- ④ 平安時代の貴族たちは死後に極楽浄土へ生まれかわることを願う_____が盛んだった。
- ⑤ 「この世をば わが世とぞおも 望月の……」と歌ったのは_____である。

C

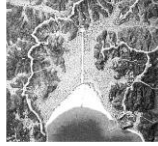
- ① 10世紀のはじめに地方の豪族と中央の武官が結びつき、_____がおこる。
- ② ①は平氏と_____の勢力が有力となった。
- ③ 白河天皇は天皇の位をゆずって上皇となり、武士を重く用いて_____をおこなった。
- ④ 1156年の_____の乱と1159年の平治の乱によって平氏が源氏との争いに勝利した。
- ⑤ 1167年、_____は、武士として初めて太政大臣の位についた。
- ⑥ 彼は兵庫(神戸)の港を整備し、当時の中国と貿易をおこなう。この貿易を_____という。

- ① 桓武
- ② 平安京
- ③ 坂上田村麻呂
- ④ 最澄
- ⑤ 空海
- ⑥ 遣唐使
- ⑦ 菅原道真
- ⑧ 国風文化
- ⑨ 仮名(かな)文字
- ⑩ 源氏物語
- ⑪ 枕草子
- ⑫ 寝殿造
- ⑬ 古今和歌集

- ① 藤原道長
- ② 摂関
- ③ 藤原頼通
- ④ 浄土信仰
- ⑤ 藤原道長

- ① 武士
- ② 源氏
- ③ 院政
- ④ 保元
- ⑤ 平清盛
- ⑥ 日宋貿易

鎌倉時代



●● 確認問題

A

- ① 源頼朝は、1192年に_____に任命され、幕府を開いた。
- ② 源頼朝の妻は_____である。
- ③ 将軍の家来の武士を_____という。
- ④ 将軍と家来は_____ (領地支配を認める)と、_____ (戦に出陣)の主従関係を結んだ。
- ⑤ 将軍の補佐役として_____がおかれ、他に侍所や、政所、問注所がおかれた。
- ⑥ 地方の国ごとには_____が配置され、荘園や公領には地頭がおかれた。
- ⑦ 源頼朝の死後、幕府の実権は_____氏に移った。
- ⑧ 1221年、_____は朝廷の勢力回復をねらって承久の乱をおこした。
- ⑨ この乱の後、幕府は朝廷と西国の武士を監視するために_____を設置した。
- ⑩ 1232年、最初の武家法である_____が制定された。
- ⑪ この法を制定したのは_____である。

B

- ① モンゴル帝国の5代目の皇帝_____は国号を元とあらため、日本に服従を求めた。
- ② 幕府の執権_____はこれを退けた。
- ③ 元は集団戦法とすぐれた_____を使って日本を苦しめた。
- ④ 元の2度にわたる来襲をあわせて_____という。
- ⑤ 幕府は元を退けるも御家人に恩賞を与えられなかったので1297年に_____を出した。

C

- ① 東大寺の_____は焼けてしまったため、鎌倉時代に再建された。
- ② 東大寺南大門には運慶・快慶が彫った_____がある。
- ③ 親鸞は_____を開き、「南無阿弥陀仏」と唱えれば誰でも極楽浄土にいけるとした。
- ④ 栄西や道元の宗派は_____とよばれている。
- ⑤ 一遍は踊り念仏を唱える_____を開いた。
- ⑥ 「南無妙法蓮華経」と題目を唱えれば救われると説いたのは_____である。

- ① 征夷大將軍
- ② 北条政子
- ③ 御家人
- ④ 御恩 ・ 奉公
- ⑤ 執権
- ⑥ 守護
- ⑦ 北条
- ⑧ 後鳥羽上皇
- ⑨ 六波羅探題
- ⑩ 御成敗式目
- ⑪ 北条泰時
- ① フビライ・ハン
- ② 北条時宗
- ③ 火器(火薬)
- ④ 元寇
- ⑤ 徳政令
- ① 南大門
- ② 金剛力士像
- ③ 浄土真宗
- ④ 禅宗
- ⑤ 時宗
- ⑥ 日蓮

室町時代

A

- ① 1333年鎌倉幕府が滅んだあと、_____は天皇中心の政治をおこなおうとした。
- ② この政治を_____という。しかし2年で失敗する。
- ③ 北朝をたてた_____は征夷大將軍になり、幕府を開いた。室町時代の始まりである。
- ④ 室町時代の中でも天皇が2人いた時期を_____時代ということもある。
- ⑤ 幕府の仕組みについて將軍の補佐役には_____が置かれた。
- ⑥ 鎌倉時代からの有力な守護は、室町時代初期に力をつけて_____とよばれた。
- ⑦ 幕府の3代將軍は_____である。
- ⑧ 彼は_____と貿易をおこなった。
- ⑨ この貿易のさい、正式な貿易船と倭寇を区別するために_____という合札を使った。

- ① 後醍醐天皇
- ② 建武の新政
- ③ 足利尊氏
- ④ 南北朝
- ⑤ 管領
- ⑥ 守護大名
- ⑦ 足利義満
- ⑧ 明
- ⑨ 勘合

B

- ① 室町時代の農村では有力な農民のもとで_____とよばれる自治組織ができた。
- ② ①では_____が開かれて、村ごとにおきてなどが定められた。
- ③ 1428年、農民たちが集団で高利貸しをおそう_____がおこった。日本初の一揆である。
- ④ 室町時代にはいり商工業が発達した。_____や酒屋は高利貸しを営んで栄えた。
- ⑤ 商工業者は_____とよばれる団体をつくって営業を独占した。
- ⑥ 運送業も発達し、問(問丸)や_____とよばれる業者が活躍した。
- ⑦ 都市でも自治がおこなわれ、堺や博多では_____とよばれる有力な町民があらわれた。
- ⑧ 室町時代は牛馬耕が広まり、米と麦をつくる_____が普及した。

- ① 惣
- ② 寄合
- ③ 正長の土一揆
- ④ 土倉
- ⑤ 座
- ⑥ 馬借
- ⑦ 町衆
- ⑧ 二毛作

C

- ① 中国では元が滅び、_____が建国された。
- ② 朝鮮半島では高麗にかわって李成桂によって、_____が建国された。
- ③ この国は_____という文字を作り出した。
- ④ 沖縄は尚氏が_____を作り、日本や明との中継貿易で栄えた。
- ⑤ 北海道では_____民族が独自の生活をしていた。

- ① 明
- ② 朝鮮国
- ③ ハングル
- ④ 琉球王国
- ⑤ アイヌ

室町時代 2

●● 確認問題 2

A

- ① 1467年、京都で守護大名や管領の対立がもとで_____がおこった。
- ② この乱のあとを_____時代とよぶ。
- ③ 1485年には山城国一揆がおこり、また1488年には加賀で_____がおこった。
- ④ 身分の低いものが高いものを実力で倒す風潮を_____という。
- ⑤ これによって大名になったものを_____という。
- ⑥ 各大名は④を防ぎ、武士や農民の行動をとりしめるために_____をさだめた。

① 応仁の乱

② 戦国

③ 一向一揆

④ 下剋上

⑤ 戦国大名

⑥ 分国法

B

- ① 足利義満が建てた公家の文化と武家の文化の融合が美しい建物は_____である。
- ② 観阿弥・世阿弥親子は_____を大成させた。
- ③ 室町時代の後半は簡素で気品のある文化である。足利義政の建てた_____が有名だ。
- ④ ③の東求堂の内部は_____とよばれ、床の間など現代の和室のもととなっている。
- ⑤ 雪舟らによって描かれた墨一色の絵画を_____という。
- ⑥ 浦島太郎などの_____も読まれた。

① 金閣

② 能

③ 銀閣

④ 書院造

⑤ 水墨画

⑥ 御伽草子

ヨーロッパとの出会い

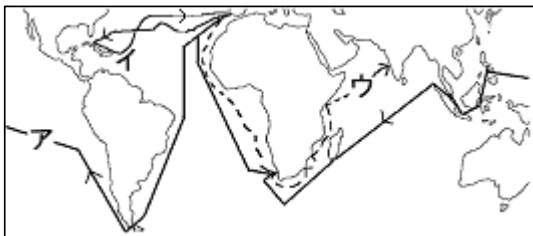
●● 確認問題

A

- ① キリスト教の聖地は_____である。
- ② 北アフリカや西アジアでは_____教が広まり、キリスト教の聖地をうばった。
- ③ ①をとりもどすため、ローマ教皇の呼びかけで_____が編成された。
- ④ ヨーロッパの14~15世紀で盛んだったギリシャ、ローマの古代文明を学びなおす風潮を_____という。
- ⑤ ヨーロッパの教会は豪華な聖堂を作るために_____を売り出した。
- ⑥ 16世紀のはじめ、ヨーロッパでは_____らが中心となり宗教改革がはじまった。
- ⑦ これによって新しくおこったキリスト教の宗派を_____という。
- ⑧ いっぽうで多くの信者を失ったカトリック(旧教)は_____を結成する。
- ⑨ 肉の味や鮮度を保つこしょうなどの_____はとても人気があり高価だった。
- ⑩ ⑨は_____が原産地である。
- ⑪ 1492年、コロンブスは西へ向かって出発したがついたのは_____大陸だった。
- ⑫ 1498年、バスコ・ダ・ガマはアフリカをまわって_____にたどり着いた。
- ⑬ 世界一周を最初になしとげたのは、_____の一行である。
- ⑭ カトリックは信者を獲得するため世界に布教活動を展開する。日本に来たのは_____だ。
- ⑮ 日本に来たスペイン人やポルトガル人を当時の人々は_____とよんだ。

- ① エルサレム
- ② イスラム
- ③ 十字軍
- ④ ルネサンス
- ⑤ 免罪符
- ⑥ ルター
- ⑦ プロテスタント
- ⑧ イエズス会
- ⑨ 香辛料
- ⑩ インド
- ⑪ アメリカ
- ⑫ インド
- ⑬ マゼラン
- ⑭ フランシスコ・ザビエル
- ⑮ 南蛮人

B ア~ウの航路を開いた人物は誰か。



- ア マゼラン
- イ コロンブス
- ウ バスコ・ダ・ガマ

南アメリカのインカ帝国のマチュピチュ遺跡(ペルー)

室町末期～安土桃山時代

A

- ① 1543年、ポルトガル人が_____に流れ着いた。
- ② 彼らは_____を伝えた。
- ③ 1549年には_____がやってきて、キリスト教を伝えた。
- ④ ②は九州の_____に上陸した。

B

- ① _____は桶狭間の戦いで今川義元を破った。
- ② ①は足利義昭を京都から追い出し、_____幕府を滅ぼした。
- ③ ①は鉄砲をつかい_____の戦いで当時最強といわれた武田氏を破った。
- ④ ①は琵琶湖のほとりに_____城をきずいた。
- ⑤ 商工業を発展させるために市の税を免除する_____の制をおこなった。
- ⑥ ①は天下統一を目前にして、攻められ自殺する。これを_____という。
- ⑦ ①を攻めたのは部下の_____である。

C

- ① 信長のあとをついだ_____は全国を統一した。
- ② ①は全国の土地を調査する_____をおこなった。
- ③ ①は農民から武器をとりあげる_____もおこなった。
- ④ これらにより、武士と農民の区別がはっきりした。この政策を_____という。
- ⑤ ①は、織田信長とは異なり、宣教師を追放するなど、_____を禁止した。
- ⑥ 秀吉は明の征服をたくらみ、大軍を大陸に派遣した。これを_____という。

- ① 種子島
- ② 鉄砲
- ③ フランシスコ・ザビエル
- ④ 鹿児島
- ① 織田信長
- ② 室町
- ③ 長篠
- ④ 安土
- ⑤ 楽市・楽座
- ⑥ 本能寺の変
- ⑦ 明智光秀
- ① 豊臣秀吉
- ② 太閤検地
- ③ 刀狩
- ④ 兵農分離
- ⑤ キリスト教
- ⑥ 朝鮮出兵

桃山文化・・・大名や大商人たちによる豪華な文化



① 姫路城



作者は？

② 狩野永徳



歌舞伎を始めたこの人は？

③ 出雲阿国



茶道を完成させたこの人は？

④ 千利休

南蛮文化・・・ヨーロッパの影響を受けた文化。パンやカステラ、時計などが日本にもたらされる。

江戸時代 1

●● 確認問題 1

A

- ① 関ヶ原の戦いに勝利した_____は征夷大将軍に任命され幕府を開いた。
- ② 将軍から1万石以上の領地を与えられた武士を_____という。
- ③ 大名の領地とその政治組織を_____という。
- ④ 幕府と藩で協力して全国を支配する体制を_____という。
- ⑤ 水戸藩(茨城)・尾張藩(愛知)・紀州藩(和歌山)は徳川姓を名乗り、_____とよばれた。
- ⑥ 徳川家一門(親類)の藩を_____という。
- ⑦ 古くから徳川家の家臣の大名を_____という。
- ⑧ 関ヶ原の戦いののちに徳川家に従った大名を_____という。
- ⑨ 将軍のもとで政治をおこなう役職を_____という。
- ⑩ 将軍のもとで、朝廷を監視する役職を_____という。
- ⑪ 幕府は大名に対して_____を定め、幕府の許可のない城の修理などを禁止した。
- ⑫ 幕府の貿易許可書を持つものが東南アジアを相手におこなった貿易を_____という。
- ⑬ 貿易をおこなった結果、東南アジア各地には_____ができた。

① 徳川家康

② 大名

③ 藩

④ 幕藩体制

⑤ 御三家

⑥ 親藩

⑦ 譜代大名

⑧ 外様大名

⑨ 老中

⑩ 京都所司代

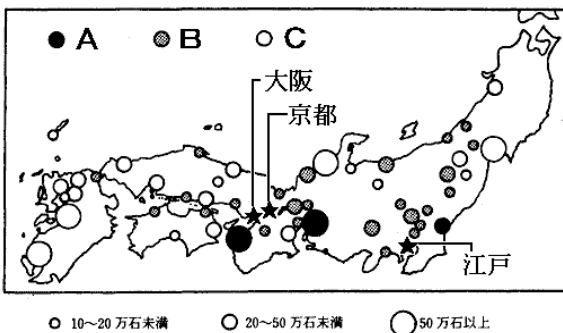
⑪ 武家諸法度

⑫ 朱印船貿易

⑬ 日本町

B

- ① 次のA~Cは大名配置図で、外様大名か親藩・譜代大名か御三家のいずれかが入る。A~Cにあてはまるものを書きなさい。

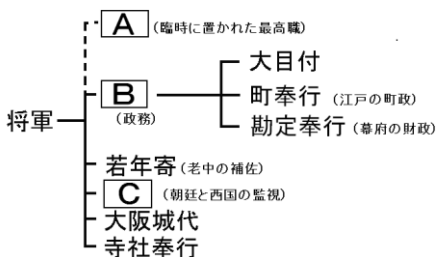


① A 御三家

B 親藩・譜代大名

C 外様大名

- ② 次のA~Cにあてはまる役職を書きなさい。



② A 大老

B 老中

C 京都所司代

●● 確認問題 2

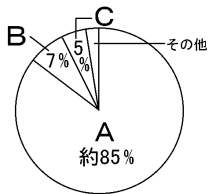
A

- ① 江戸幕府の三代将軍は_____である。
- ② 1635年、幕府は_____の制度を定め、大名に領地と江戸を往復させた。
- ③ ②の制度は_____の経済力を弱めるのが目的である。
- ④ 1637年、長崎の島原地方や熊本の天草地方の人々が_____を起こした。
- ⑤ 幕府は1624年にはスペイン、1639年には_____船の来航を禁止した。
- ⑥ 鎖国の目的は、幕府の貿易独占と_____の禁止である。
- ⑦ 鎖国の結果、幕府は、A_____とB_____とだけ貿易をおこなうようになった。
- ⑧ 1641年には平戸の商館を人工の島である_____に移した。
- ⑨ キリスト教信者を見つけるため、毎年正月に_____をおこなった。
- ⑩ 将軍の代が変わるごとに朝鮮から_____が来日した。

- ① 徳川家光
- ② 参勤交代
- ③ 大名
- ④ 島原・天草一揆
- ⑤ ポルトガル
- ⑥ キリスト教
- ⑦ A オランダ(中国)
B 中国(オランダ)
- ⑧ 出島
- ⑨ 絵踏
- ⑩ 朝鮮通信使

B

- ① 農民は_____の制度がつくられて、年貢の納入に連帯責任を負わされた。
- ② 次のグラフは江戸時代末期の身分別人口割合である。
A～Cには、武士、農民、町人のいずれかが入る。それぞれあてはまる語句を書きなさい。



- ① 五人組
- ② A 農民
B 武士
C 町人

江戸時代 2

- ① 幕府の5代将軍_____は寺院を建設しすぎたため、幕府の財政は悪化した。
- ② 彼は極端な動物愛護令である_____を出した。
- ③ 朱子学者の_____は長崎貿易を奨励し、幕府の財政をたて直そうとした。
- ④ 幕府の8代将軍は_____である。
- ⑤ 彼がおこなった改革を_____の改革という。
- ⑥ 彼は上げ米の制を定め、大名に米を差し出させた。そのかわりに_____をゆるめた。
- ⑦ 彼は裁判の基準となる_____を制定した。
- ⑧ 18世紀の後半には_____が老中となり、株仲間を結ぶことを奨励した。
- ⑨ 彼は、_____の大ききんがおこった責任をとられ、老中をやめさせられた。
- ⑩ ⑧の人物のあと、白河藩(福島)出身の_____が老中になった。
- ⑪ 彼は_____の改革をおこなった。
- ⑫ 「役人の子はにぎにぎをよくおぼえ」は、_____の政治を非難したものである。
- ⑬ 「白河の清きに魚の住みかねてもとにごりの田沼こいしき」の、白河とは_____のことである。

- ① 徳川綱吉
- ② 生類憐みの令
- ③ 新井白石
- ④ 徳川吉宗
- ⑤ 享保
- ⑥ 参勤交代
- ⑦ 公事方御定書
- ⑧ 田沼意次
- ⑨ 天明
- ⑩ 松平定信
- ⑪ 寛政
- ⑫ 田沼意次
- ⑬ 松平定信


江戸時代の文化 1

- ① _____ **元禄** _____ 文化・・・大阪や京都などの上方中心
- A _____ **菱川師宣** _____・・・「見返り美人図」などをえがいた人物
- B _____ **近松門左衛門** _____・・・「曾根崎心中」など人形浄瑠璃の脚本を書いた人物
- C _____ **松尾芭蕉** _____・・・「奥の細道」など紀行文を書いた人物。 他、井原西鶴などが活躍



江戸時代の産業の重要語句

- ① _____ **天下の台所** _____・・・大阪は諸藩の特産物が集まり、こうよばれた
- ② _____ **蔵屋敷** _____・・・諸藩が大阪に建てた倉庫。特産品をお金にかえた
- ③ _____ **両替商 (札差)** _____・・・江戸時代の金融業者。他、同業者組合の株仲間も重要語句
- ④ _____ **千歯こき** _____・・・脱穀の能率を高めるために開発された農具。ほか備中ぐわなど
- ⑤ _____ **問屋制家内工業** _____・・・問屋が織機やお金をわたして布を織らせ、製品を買い取る生産方法
- ⑥ _____ **工場制手工業** _____・・・人々が作業場に集まって作業する生産の仕方。酒やしょうゆ、織物など



●● 確認問題 2

A

- ① 1825年、幕府は_____を出し、鎖国を守ろうとした。
- ② 1833年より数年間、大ききんが起こり、農村では_____が多発した。
- ③ いっぽう、都市部では町人が店を襲撃する_____がおこった。
- ④ 1837年、大阪で_____の乱がおこり、幕府に衝撃をあたえた。
- ⑤ 1841年、老中_____は幕府の力を回復させるために改革をおこなった。
- ⑥ この改革を_____の改革という。
- ⑦ この改革では物価を下げさせるために_____の解散令をだした。

B

- ① 大阪や京都などの上方中心の文化を_____という。
- ② 「奥の細道」など紀行文を書いた人物は_____である。
- ③ 「曾根崎心中」など人形浄瑠璃の脚本を書いた人物は_____である。
- ④ 「見返り美人図」などをえがいた人物は_____である。

C

- ① 大阪は諸藩の特産物が集まり、_____とよばれた。
- ② 諸藩が大阪に建てた倉庫を_____という。
- ③ 江戸時代の金融業者を_____といい、大名らに金を貸し付けた。
- ④ 江戸時代の商工業者の同業組合を_____という。
- ⑤ 江戸時代は農具の改良がすすみ、_____や千歯こきなどが作られた。
- ⑥ 人々が作業場に集まって作業する生産の仕方を_____という。
- ⑦ 問屋が織機やお金をわたして布を織らせ、製品を買い取る生産方法を_____という

D

- ① 寛政の改革が失敗したあとに起こった、江戸中心の町人文化を_____という。
- ② 「富嶽三十六景」描いた人物は_____である。
- ③ 本居宣長は国学を大成し、_____をあらわした。
- ④ 正確な日本地図を作った人は_____である。
- ⑤ オランダの医学書を翻訳した解体新書は_____や前野良沢らが頑張った。

① 外国船打払令

② 一揆

③ 打ちこわし

④ 大塩平八郎

⑤ 水野忠邦

⑥ 天保

⑦ 株仲間

① 元禄文化

② 松尾芭蕉

③ 近松門左衛門

④ 菱川師宣

① 天下の台所

② 蔵屋敷

③ 両替商

④ 株仲間

⑤ 備中ぐわ

⑥ 工場制手工業

⑦ 問屋制家内工業

① 化政文化

② 葛飾北斎

③ 古事記伝

④ 伊能忠敬

⑤ 杉田玄白

市民革命～欧米の世界進出

●● 確認問題 1

A

- ① 国王が権力を持ち、専制政治をおこなうことを_____という。
- ② イギリスでは 1642 年に_____がおこり、国王は処刑された。
- ③ イギリスは 1688 年に国民が国王を追放した。これを_____という。
- ④ 1775 年、アメリカは_____を起こし、イギリスからの独立をめざした。
- ⑤ 1776 年にアメリカは_____を発表した。
- ⑥ アメリカの初代大統領は_____である。
- ⑦ アメリカは人民主権や連邦制などを盛り込んだ_____を制定した。
- ⑧ 1789 年、フランスでは_____がおこった。
- ⑨ ⑧のあとフランスでは_____が発表された。
- ⑩ フランスでは軍人出身の_____がヨーロッパのほとんどを支配し、皇帝の座についた。

- ① 絶対王政
- ② 清教徒革命
- ③ 名誉革命
- ④ 独立戦争
- ⑤ 独立宣言
- ⑥ ワシントン
- ⑦ 合衆国憲法
- ⑧ フランス革命
- ⑨ 人権宣言
- ⑩ ナポレオン

●● 確認問題 2

- ① イギリスでは蒸気機関の改良により、生産のしくみが変わった。この変化を_____という。
- ② ①によってイギリスは_____とよばれた。
- ③ 資本家は人を雇って生産活動をおこない、利潤を追求した。この経済のしくみを_____という。
- ④ ③の経済のしくみを非難し、理想の共同体をめざす考えを_____という。
- ⑤ 清との貿易赤字に悩むイギリスはインドの_____を清に密輸する三角貿易をおこなった。
- ⑥ 清とイギリスの戦争を_____という。
- ⑦ ⑥の戦争で_____が結ばれ、イギリスは香港などを手に入れた。
- ⑧ 清では 1851 年、洪秀全らが_____の乱をおこした。
- ⑨ 1857 年、_____の大反乱が起こったがイギリスに鎮圧され、支配された。
- ⑩ アメリカでは 1861 年、_____がおこった。
- ⑪ ⑩の戦争は、_____が率いる北部の勝利におわった。

- ① 産業革命
- ② 世界の工場
- ③ 資本主義
- ④ 社会主義
- ⑤ アヘン
- ⑥ アヘン戦争
- ⑦ 南京条約
- ⑧ 太平天国
- ⑨ インド
- ⑩ 南北戦争
- ⑪ リンカーン (リンカン)

開国～江戸幕府の滅亡

●● 確認問題

A

- ① 1853年、アメリカの_____は4隻の軍艦をひきいて浦賀に入港した。
- ② 1854年、日本はアメリカと_____条約を結んだ。
- ③ ②の条約で日本は下田と_____の2港を開いた。
- ④ 1858年、日本はアメリカと_____を結んだ。
- ⑤ ④の条約を結んだ幕府の大老は、_____である。
- ⑥ ④の条約を結んだアメリカの総領事は_____である。
- ⑦ ④の条約は_____を外国に認めた。
- ⑧ ④の条約は_____が日本になかった。
- ⑨ 開国後の貿易で日本の輸出品は_____や茶であった。

- ① ペリー
- ② 日米和親
- ③ 函館
- ④ 日米修好通商条約
- ⑤ 井伊直弼
- ⑥ ハリス
- ⑦ 領事裁判権
- ⑧ 関税自主権
- ⑨ 生糸

B

- ① 外国人を排斥し^{はいせき}天皇中心の国家をつくることを目指す運動を_____運動という。
- ② 井伊直弼は日本の開国に反対する大名や公家を処罰する。これを_____という。
- ③ 井伊直弼は1860年、攘夷派の水戸藩浪士によって殺害される。これを_____という。

- ① 尊王攘夷
- ② 安政の大獄
- ③ 桜田門外の変

C

- ① 薩摩藩や_____藩は攘夷を実行したが、外国の強さを実感させられた。
- ② 1866年、土佐藩出身の_____は幕府を倒すために必要な薩長同盟を成立させた。
- ③ 民衆は_____と騒ぎ、世直しを求めた。
- ④ 幕府の15代将軍は_____である。
- ⑤ ④は1867年、政権を朝廷にかえす_____をおこなった。
- ⑥ 朝廷は_____を出し、天皇の政治に戻すことを宣言し、幕府に領地の返還を求めた。
- ⑦ 幕府の家臣は_____をおこし、新政府軍と戦った。

- ① 長州
- ② 坂本竜馬（龍馬）
- ③ ええじゃないか
- ④ 徳川慶喜
- ⑤ 大政奉還
- ⑥ 王政復古の大号令
- ⑦ 戊辰戦争

明治① 明治維新

●● 確認問題 1

A

- | | |
|--|----------------|
| ① 明治天皇は 1868 年 _____ を発表し、新政府の方針をたてた。 | ① 五箇条の御誓文 |
| ② 江戸時代の藩主に土地と人民を返還させる政策を _____ という。 | ② 版籍奉還 |
| ③ 政府は 1871 年、 _____ をおこない、藩を廃止して県を置いた。 | ③ 廃藩置県 |
| ④ ③の政策で、政府から _____ や府知事が派遣され、中央集権国家の体制が整った。 | ④ 県令 |
| ⑤ _____ とは、欧米に負けない強い国をつくろうという政策のことである。 | ⑤ 富国強兵 |
| ⑥ 四民平等政策により、大名は華族、武士は _____ とよばれた。 | ⑥ 士族 |
| ⑦ 1872 年、6 歳以上の男女は小学校教育をうける _____ が発布された。 | ⑦ 学制 |
| ⑧ 1873 年には成人男子に兵役を義務づけた _____ が出された。 | ⑧ 徴兵令 |
| ⑨ ⑧と同じ年には、財政を安定させるために _____ 実施された。 | ⑨ 地租改正 |
| ⑩ ⑨により、地券を発行し、A _____ の3%を土地所有者が B _____ で納めることになった。 | ⑩ A 地価
B 現金 |

●● 確認問題 2

A

- ① 政府が近代産業を育成させるための政策を_____という。
- ② 政府がみずから建設した工場を_____という。
- ③ 政府は群馬県に_____をつくり、外国人技師を雇った。
- ④ 1872年には、東京の新橋と神奈川の横浜の間に_____が開通した。
- ⑤ 人々の生活に欧米の文化がとり入れられることを_____という。
- ⑥ 学問のすゝめを著したのは_____である。

- ① 殖産興業
- ② 官営模範工場
- ③ 富岡製糸場
- ④ 鉄道
- ⑤ 文明開化
- ⑥ 福沢諭吉

B

- ① 1871年に日本は清と対等な立場で_____を結んだ。
- ② 1872年に政府は岩倉具視を団長とする_____を欧米に派遣した。
- ③ 武力で朝鮮を開国させようとする考えを_____という。
- ④ 1876年、こうかとう江華島事件をきっかけに政府は朝鮮を開国させ翌年_____を結んだ。
- ⑤ 日本はロシアと_____を結び、樺太の領有をロシアに認めた。
- ⑥ 1879年、政府は軍隊を派遣して沖縄県を設置した。これを_____という。

- ① 日清修好条規
- ② 岩倉(遣欧)使節団
- ③ 征韓論
- ④ 日朝修好条規
- ⑤ 樺太・千島交換条約
- ⑥ 琉球処分

明治② 自由民権運動

A

- ① 国民が不満をもっていたのは、一部の藩出身者が政府の要職を占める_____である。
- ② 朝鮮を武力で開国させようとする考えを_____という。
- ③ ②によってA_____とB_____らが政府を去った。
- ④ ③の2人のうち、_____は国会開設を求める意見書を政府に提出した。
- ⑤ ④の意見書を_____という。
- ⑥ ③の2人のうち、_____は、1877年に反乱をおこす。
- ⑦ ⑥のおこした反乱を_____という。
- ⑧ 1880年には国会開設を求める人々が大阪に集まり、_____を結成した。
- ⑨ 開拓使払い下げ事件で国民の非難をうけた政府は_____を出し、国会開設を約束した。
- ⑩ 国民が参政権(国会の開設)を求める運動を_____という。

B

- ① 自由党を結成したのは_____である。
- ② 立憲改進黨を結成したのは_____である。
- ③ 1885年には_____が初代内閣総理大臣になった。
- ④ ③は憲法を学ぶため_____に留学した。
- ⑤ 1889年2月11日に_____が制定された。
- ⑥ ⑤の憲法の主権者は_____である。
- ⑦ 1890年に衆議院の第一回_____がおこなわれた。
- ⑧ ⑦で選挙権を持つ人は人口の_____%にすぎなかった。
- ⑨ ⑦のあと帝国議会が開かれ、衆議院と_____の二院制が採用された。

C

次の人物名を書きなさい。

A



B



C



D



- ① 藩閥政治
- ② 征韓論
- ③ A 西郷隆盛
B 板垣退助
- ④ 板垣退助
- ⑤ 民撰議院設立の建白書
- ⑥ 西郷隆盛
- ⑦ 西南戦争
- ⑧ 国会期成同盟
- ⑨ 国会開設の勅諭
- ⑩ 自由民権運動
- ① 板垣退助
- ② 大隈重信
- ③ 伊藤博文
- ④ ドイツ
- ⑤ 大日本帝国憲法
- ⑥ 天皇
- ⑦ 総選挙
- ⑧ 1
- ⑨ 貴族院
- A 西郷隆盛
- B 板垣退助
- C 伊藤博文
- D 大隈重信

明治③ 日清・日露戦争と近代化

●● 確認問題 1

A

- ① 1894年、朝鮮半島で_____がおこった。
- ② 1894年、日本と清は戦争した。これを_____という。
- ③ 日本はこの戦争に勝利し、_____とよばれる講和条約を結んだ。
- ④ この条約で日本は朝鮮の独立を確認し、台湾や、_____半島などを得た。
- ⑤ この内容にア_____はイ_____とフランスを誘って日本が獲得した④の半島を清に返すよう求めた。
- ⑥ この出来事を_____という。日本は「臥薪嘗胆^{がしんしょうたん}」を合言葉に次の戦争の決心をする。
- ⑦ 欧米の中国分割に反対する中国の国民は「扶清滅洋^{ふしんめつよう}」を唱え、_____を起こした。
- ⑧ 1901年、日清戦争で得た賠償金をもとに建設されていた官営の_____が完成した。

B

- ① 日本は1902年にイギリスと_____を結んだ。
- ② 1904年、ついに_____がはじまった。
- ③ この戦争は、「君死にたまふことなかれ」で有名な詩人の_____らが反対した。
- ④ アメリカの仲介で_____とよばれる講和条約が結ばれた。
- ⑤ この条約で日本は韓国の優越権や北緯50度以南の_____などを得た。
- ⑥ 賠償金がなかったことに不満を持った国民は_____とよばれる暴動をおこした。
- ⑦ 日本は1910年、_____をおこない朝鮮総督府において植民地支配にのりだした。
- ⑧ ⑦の出来事のあと、清では_____がおこった。
- ⑨ 1912年にはアジアで初の共和国である_____が成立した。
- ⑩ ⑨で_____は臨時大総統になった。
- ⑪ ⑩は、民族(民族独立)・民権(民主化)・民生(民衆生活安定)の_____を唱えた。

- ① 甲午農民戦争
- ② 日清戦争
- ③ 下関条約
- ④ 遼東(リアオトン)
- ⑤ ア ロシア
イ ドイツ
- ⑥ 三国干渉
- ⑦ 義和団事件
- ⑧ 八幡製鉄所
- ① 日英同盟
- ② 日露戦争
- ③ 与謝野晶子
- ④ ポーツマス条約
- ⑤ 樺太
- ⑥ 日比谷焼き打ち事件
- ⑦ 韓国併合
- ⑧ 辛亥革命
- ⑨ 中華民国
- ⑩ 孫文
- ⑪ 三民主義

●● 確認問題 2

C

- | | |
|---|-------------------|
| ① 1886年に_____事件がおり、不平等条約改正を求める声が高まった。 | ① <u>ノルマントン号</u> |
| ② この事件で問題になったのは、外国に_____を認めていたことである。 | ② <u>領事裁判権</u> |
| ③ 1894年、日本はイギリスと日英通商航海条約を結び、_____に成功した。 | ③ <u>領事裁判権の撤廃</u> |
| ④ 1911年、外相小村寿太郎は_____に成功し、不平等条約はすべて改正された。 | ④ <u>関税自主権の回復</u> |

D

語群より適するものを選び、次の表を完成させなさい。

人物	おもな業績・作品
野口英世	① <u>黄熱病の研究</u>
北里柴三郎	② <u>ペスト菌発見</u>
夏目漱石	③ <u>我輩は猫である</u>
樋口一葉	④ <u>たけくらべ</u>
与謝野晶子	⑤ <u>乱れ髪</u>
森鷗外	⑥ <u>舞姫</u>
高村光雲	⑦ <u>老猿</u>
黒田清輝	⑧ <u>湖畔</u>
滝廉太郎	⑨ <u>花</u>

語群

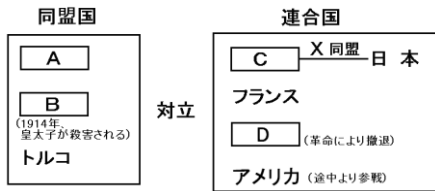
ペスト菌発見	黄熱病の研究	舞姫
乱れ髪	たけくらべ	我輩は猫である
老猿	湖畔	花

大正時代 第一次世界大戦・大正デモクラシー

●● 確認問題 1

A

- ① ドイツとオーストリアは、植民地をめぐる_____やフランス・ロシアと対立した。
- ② バルカン半島は_____とよばれ、紛争が絶えない地域であった。
- ③ 1914年にオーストリアの皇太子夫妻が暗殺される_____事件がおこった。
- ④ ③の事件によりオーストリアはセルビアに宣戦布告し、_____がはじまった。
- ⑤ 日本は_____を理由に連合国側で参戦し、中国のドイツ領を攻撃した。
- ⑥ ヨーロッパの関心がアジアからなくなったので、日本は中国に対し、_____を出した。
- ⑦ 大戦中、日本はヨーロッパへの_____が増加し、貿易黒字になった。
- ⑧ 次の X 同盟とA~Dに当てはまる国名を書きなさい。



- ① イギリス
- ② ヨーロッパの火薬庫
- ③ サラエボ
- ④ 第一次世界大戦
- ⑤ 日英同盟
- ⑥ 二十一か条の要求
- ⑦ 輸出
- A ドイツ
- B オーストリア
- C イギリス
- D ロシア

B

- ① 1917年、_____革命がおこった。
- ② この革命の中心人物は_____である。
- ③ 1918年にドイツは降伏し、1919年にはフランスのパリで_____が結ばれた。
- ④ 第一次世界大戦後、朝鮮では日本に対して独立を求める_____がおこった。
- ⑤ 中国では北京の学生らが二十一か条の要求の撤廃をもとめ_____をおこした。
- ⑥ インドでは_____らが、イギリスに対して非暴力・不服従を貫き、自治を求めた。
- ⑦ 世界平和と国際協調を目指して_____が設立された。
- ⑧ ⑦の設立を提唱したのはアメリカの大統領_____である。

- ① ロシア
- ② レーニン
- ③ ベルサイユ条約
- ④ 三・一独立運動
- ⑤ 五・四運動
- ⑥ ガンディー
- ⑦ 国際連盟
- ⑧ ウィルソン

●● 確認問題 2

- | | |
|--|-------------------------|
| ① シベリア出兵を見越した米の買い占めで米価が急上昇し、_____がおこった。 | ① 米騒動 |
| ② 大正デモクラシーで人々は誰にでも選挙権のある_____を求めた。 | ② 普通選挙 |
| ③ 帝国大学教授の_____は民意を政治に反映させるべきだと訴えた。 | ③ 吉野作造 |
| ④ ③の人物の考えを_____という。 | ④ 民本主義 |
| ⑤ 米騒動によって追いつめられた政府は、立憲政友会の_____を内閣総理大臣にする。 | ⑤ 原敬 |
| ⑥ ⑤は一部の大臣以外はすべて立憲政友会の党員で内閣を構成する_____を作った。 | ⑥ 政党内閣 |
| ⑦ 女性の地位向上をめざし、青鞥社をつくって婦人運動をおこなったのは_____である。 | ⑦ 平塚 ^{らいてう} 雷鳥 |
| ⑧ 1923年9月1日、_____がおこった。 | ⑧ 関東大震災 |
| ⑨ 1925年、普通選挙法の成立により、満_____の_____すべてに選挙権が与えられた。 | ⑨ 25歳以上 の 男子 |
| ⑩ 1925年、社会(共産)主義をとりしめるために_____が制定された。 | ⑩ 治安維持法 |

昭和時代 世界恐慌～第二次世界大戦

●● 確認問題

A

- ① 1929年、アメリカで株価が大暴落し、_____がはじまった。
- ② ソ連では_____を中心に計画経済が進められ、恐慌の影響を受けなかった。
- ③ ②の政策を_____という。
- ④ イギリスやフランスのとった政策を_____という。
- ⑤ アメリカでは_____が大統領になり、公共事業を積極的にすすめる政策をとった。
- ⑥ ⑤の政策を_____という。
- ⑦ イタリアでは_____を党首とするファシスト党が独裁政治をおこなった。
- ⑧ ドイツではナチスの_____が政権をとり、ユダヤ人を迫害した。
- ⑨ ⑦と⑧のような全体主義を_____という。

- ① 世界恐慌
- ② スターリン
- ③ 五カ年計画
- ④ ブロック経済
- ⑤ ルーズベルト
- ⑥ ニューディール政策
- ⑦ ムッソリーニ
- ⑧ ヒトラー
- ⑨ ファシズム

B

- ① 1931年、日本軍は中国の柳条湖で軍事行動をおこす。これを_____という。
- ② 日本軍は_____を建国し、支配した。
- ③ この事件を内閣総理大臣である_____は非難した。
- ④ ③の人物は、_____事件で海軍将校に殺害される。
- ⑤ これにより、原敬内閣以来続いていた_____が終わった。
- ⑥ 満州国が認められなかったため、日本は_____を脱退した。
- ⑦ 1936年、陸軍将校が首相官邸や警視庁をおそう_____がおこった。
- ⑧ 1937年、盧溝橋事件で日本は中国と衝突し、_____がはじまった。
- ⑨ 日本は、人・ものを戦争に動員できる_____法を制定した。

- ① 満州事変
- ② 満州国
- ③ 犬養毅
- ④ 五・一五
- ⑤ 政党内閣(政治)
- ⑥ 国際連盟
- ⑦ 二・二六事件
- ⑧ 日中戦争
- ⑨ 国家総動員

C

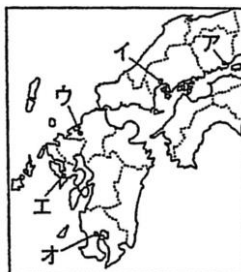
- | | |
|--|------------|
| ① 1939年、ドイツは_____に侵攻し、第二次世界大戦がはじまった。 | ① ポーランド |
| ② 1940年、日本とドイツ・イタリアは_____を結んだ。 | ② 日独伊三国同盟 |
| ③ 1941年12月8日、日本はハワイの真珠湾を奇襲し_____が始まった。 | ③ 太平洋戦争 |
| ④ イギリスやアメリカなどは連合国といい、日本やドイツ・イタリアは_____国といわれた。 | ④ 枢軸 |
| ⑤ 空襲が激化すると大都市の子供は集団で田舎に_____した。 | ⑤ 疎開 |
| ⑥ 1945年3月には_____とよばれるアメリカ軍の空襲があり、約8万人の犠牲者を出した。 | ⑥ 東京大空襲 |
| ⑦ 同月、アメリカは_____に上陸し地上戦がおこなわれた。約12万人の犠牲者を出した。 | ⑦ 沖縄 |
| ⑧ 1945年8月6日、_____が広島に落とされ、約20万人の犠牲者を出した。 | ⑧ 原子爆弾（原爆） |
| ⑨ 8月9日には_____にも投下され、約14万人の犠牲者を出した。 | ⑨ 長崎 |
| ⑩ 8月15日、日本は_____を受け入れ、無条件降伏した。 | ⑩ ポツダム宣言 |

●●● 定期テスト演習

次の各問いに答えなさい。

- | | |
|--|----------------------------|
| (1) 日本軍がハワイの真珠湾のアメリカ軍基地を奇襲したことによって始まった戦争を何というか、書きなさい。 | (1) 太平洋戦争 |
| (2) 1942年、山本 ^{いそろく} 五十六の率いた連合艦隊が敗れることで、日本が大きな打撃を受けることになった戦いを何というか、次から選んで書きなさい。
ア サイパン島の墮落 イ 日本海海戦
ウ ミッドウェー海戦 エ ガダルカナル島からの撤退 | (2) ウ |
| (3) 1945年8月6日と8月9日、2つの都市に原子爆弾が投下された。その都市の位置を、資料中のア～オから一つずつ選んで、書きなさい。 | (3) 8月6日 イ
8月9日 エ |
| (4) 日本は(3)の結果、アメリカ・イギリス・中国の名で発表された宣言を受諾し、連合国に対する無条件降伏を受け入れた。その宣言を何というか、書きなさい。 | (4) ポツダム宣言 |

資料



戦後の日本

●● 確認問題 1

A

- ① 1945年、日本は_____を受諾して連合国に降伏した。
- ② 連合国軍最高司令官総司令部をアルファベットで_____という。
- ③ 選挙権が改正され、満_____に選挙権が与えられた。
- ④ 経済の民主化も進められ、_____がおこなわれた。
- ⑤ 戦後に実施された土地制度の改革を_____という。
- ⑥ ⑤によって小作農が減り、_____が増えた。
- ⑦ 1946年11月3日に_____が公布された。
- ⑧ ⑦の三原則は_____と基本的人権の尊重と平和主義である。
- ⑨ 小中学校を義務教育とした_____も制定された。

① ポツダム宣言

② GHQ

③ 20歳以上の男女

④ 財閥解体

⑤ 農地改革

⑥ 自作農

⑦ 日本国憲法

⑧ 国民主権

⑨ 教育基本法

B

- ① 連合国は戦争がおこったことを反省し、平和を維持する機関として、_____を作った。
- ② 社会主義国(東側)と資本主義国(西側)は対立する。この対立を_____という。
- ③ 1949年にヨーロッパの_____は東西に分断された。
- ④ 中国では中国共産党の_____が国内を統一した。
- ⑤ ④は1949年に_____を建国し、社会主義国家が成立した。
- ⑥ 1950年には、朝鮮半島で_____がはじまった。
- ⑦ ⑥がはじまると日本では_____がつくられ、やがて自衛隊になった。
- ⑧ 1951年、日本は48か国と_____条約を締結した。
- ⑨ ⑧と同時に日本はアメリカと_____条約を結んだ。
- ⑩ 1956年に日本はソ連と_____を出した。
- ⑪ ⑩によって日本は_____に加盟し、国際社会に復帰した。

① 国際連合

② 冷戦

③ ドイツ

④ 毛沢東

⑤ 中華人民共和国

⑥ 朝鮮戦争

⑦ 警察予備隊

⑧ サンフランシスコ平和

⑨ 日米安全保障

⑩ 日ソ共同宣言

⑪ 国際連合

時代判別問題

人物史

下の年表を見てあとの問いに答えなさい。

710		794		1192		1334		1573		1603			
飛鳥		奈良		平安		鎌倉		(南北朝) 室町 (戦国)		安土 桃山			
A	B	C	D	E	F	G	H	I	J	K	L	M	N

(1) 次の①～⑮の人物名を書きなさい。また、活躍した時代を上のア～Nから選んで書きなさい。ただし、同じ記号を使う場合もあります。

①  金閣・日明貿易	②  太政大臣・日宋貿易	③  楽市楽座	④  武家諸法度・朱印船	⑤  国分寺・東大寺
⑥  建武の新政	⑦  十七条の憲法・法隆寺	⑧  院政	⑨  鎌倉幕府	⑩  尼將軍・承久の乱
⑪  太閤検地・刀狩	⑫  平安京	⑬  鎖国・慶安のお触書 参勤交代	⑭  摂関政治	⑮  目安箱・公事方御定書

人物名	A～N						
① 足利 義満	I	② 平 清盛	F	③ 織田 信長	J	④ 徳川 家康	L
⑤ 聖武天皇	B	⑥ 後醍醐天皇	H	⑦ 聖徳太子	A	⑧ 白河上皇	E
⑨ 源 頼朝	G	⑩ 北条 政子	G	⑪ 豊臣 秀吉	K	⑫ 桓武天皇	C
⑬ 徳川 家光	M	⑭ 藤原 道長	D	⑮ 徳川 吉宗	N		

法令・政策

下の年表を見てあとの問いに答えなさい。

710	794	1192	1334	1573	1603
ア 飛鳥	イ 奈良	ウ 平安	エ 鎌倉	オ (南北朝) 室町 (戦国)	カ 安土 桃山
					キ 江戸

(1) 次の「法令」や「政策」はいつの時代のものか。年表の中から記号で書きなさい。

- ⑬ 北条泰時は裁判の基準を統一するために御成敗式目を出した。
- ⑭ 戦国大名は領国を支配するために分国法を出した。
- ⑮ 徳川家光は貿易の独占とキリスト教の禁止を目的として鎖国を行った。
- ⑯ 徳川吉宗は公事方御定書を制定し、裁判の基準を作った。
- ⑰ 聖徳太子は役人の心得を示すために十七条の憲法を制定した。
- ⑱ 幕府は元寇によって貧しくなった御家人を救うために徳政令を出した。
- ⑲ 徳川家光は農民に対して年貢を確実に納めさせるために慶安の御触書を出した。
- ⑳ 徳川家康は大名を統制するために武家諸法度を制定した。
- 21 聖武天皇は口分田の不足を補うために墾田永年私財法を出した。
- 22 織田信長は安土城下の商業を発展させるために楽市楽座を行った。
- 23 豊臣秀吉は兵農分離政策をとるために刀狩令を出した。
- 24 水野忠邦は物価を引き下げるために株仲間の解散を命じた。

① エ	② オ	③ キ	④ キ	⑤ ア	⑥ エ	⑦ キ	⑧ キ
⑨ イ	⑩ カ	⑪ カ	⑫ キ				

外交史

下の年表を見てあとの問いに答えなさい。

4世紀	6世紀	710	794	1192	1334	1573	1603	
ア 弥生	イ 古墳	ウ 飛鳥	エ 奈良	オ 平安	カ 鎌倉	キ (南北朝)室町(戦国)	ク 安土 桃山	ケ 江戸

次のことからはいつの時代に出されたものですか。上の年表を参考にして記号で答えなさい。

また、相手国を語群から選んで書きなさい。(同じ記号を使う場合もあります。)

ことがら	<日本の時代>	<相手国・地域>
① 卑弥呼がこの国に使いを送った。	ア	魏
② この国は火薬などを武器に二度日本を攻めた。	カ	元
③ 鎖国後はこの国と中国のみ貿易をおこなった。	ケ	オランダ
④ これらの国から鉄砲やキリスト教が伝わった。	キ	スペイン・ポルトガル
⑤ 聖徳太子が小野妹子を派遣した。	ウ	隋
⑥ 奴国王が使いを送り、金印を授かった。	ア	漢
⑦ この国から4隻の軍艦が浦賀にやってきた。	ケ	アメリカ
⑧ 630年～894年までこの国に使いを送った。(3時代にまたがる)	ウ～オ	唐
⑨ 平清盛がこの国と貿易を始めた。	オ	宋
⑩ 豊臣秀吉はこの国を征服するために朝鮮に出兵した。	ク	明
⑪ 足利義満はこの国と貿易を始めた。	キ	明
⑫ 徳川家康が朱印船貿易をおこなった。	ケ	東南アジア

語群:	スペイン・ポルトガル	宋	明	元	唐	隋	アメリカ
	オランダ	魏	漢	東南アジア			

外交史 2

次の①～⑪の資料は何時代のことですか。年表から選んで記号を書きなさい。

<年表>

4世紀	6世紀	710	794	1192	1334	1573	1603	
ア 弥生	イ 古墳	ウ 飛鳥	エ 奈良	オ 平安	カ 鎌倉	キ (南北朝)室町(戦国)	ク 安土 桃山	ケ 江戸

<p>①</p> 	<p>②</p> 	<p>③</p> 
<p>④</p>  <p>巖島神社: ある一族と関係が深い</p>	<p>⑤ 南蛮貿易</p>  <p>答えは二つの時代にまたがります。</p>	<p>⑥</p> 
<p>⑦</p> <p>わたしの祖先は、みずからよろいやかぶとを身につけ、山や川をかけめぐり、東は 55 国、西は 66 国、さらに海をわたって 95 国を平定しました。(中略) わたしに高い官位をあたえて、激励してください。</p>	<p>⑨</p> <p>一、異国へ船をつかわす事を今後は禁止とする。</p> <p>一、海外在住の日本人は、日本に帰国する事を禁止とする。</p>	<p>⑪</p> 
<p>⑧</p> <p>日出ずる処の天子、書を日没する処の天子にいたす。つつがなきや..</p>	<p>⑩ 通信使</p> 	

① ア	② カ	③ キ	④ オ	⑤ キ・ク	⑥ ケ	⑦ イ	⑧ ウ
⑨ ケ	⑩ ケ	⑪ ケ					

女性史

下の年表を見てあとの問いに答えなさい。

4世紀	6世紀	710	794	1192	1334	1573	1603	1868
ア 弥生・古墳	イ 飛鳥	ウ 奈良	エ 平安	オ 鎌倉	カ (南北朝)室町(戦国)	キ 安土 桃山	ク 江戸	ケ 明治 以降

(1) 次の人物名を書きなさい。

- ① 私は邪馬台国の女王としていくつかの国をまとめました。
- ② 私は聖徳太子を摂政として国の政治にあたらせました。
- ③ 私は源頼朝の妻として御家人をまとめました。
- ④ 私は、かぶき踊り^{おど}を始め、全国をまわりました。
- ⑤ 私は、「君死にたまふことなかれ」という詩を書き、戦争に反対しました。
- ⑥ 私は青鞮社を結成し、女性の地位向上に努めました。

① 卑弥呼	② 推古天皇	③ 北条政子
④ 出雲 ^{いずも} の阿国 ^{おくに}	⑤ 与謝野晶子	⑥ 平塚雷鳥

(2) (1)の①～⑥の人物が活躍した時代を年表から選んで記号を書きなさい。

① ア	② イ	③ オ	④ キ	⑤ ケ	⑥ ケ
-----	-----	-----	-----	-----	-----

農業・土地制度史

4世紀 6世紀 710 794 1192 1334 1573 1603 1867



ア 弥生・古墳	イ 飛鳥	ウ 奈良	エ 平安	オ 鎌倉	カ (南北朝)室町(戦国)	キ 安土 桃山	ク 江戸
------------	---------	---------	---------	---------	------------------	---------------	---------

(1) 下のことがらは上の年表のどの時代のことが、選んで記号を書きなさい。(同じ記号を何回選んでもよい)

- ⑨ 朝廷が土地と人民を支配する公地公民となり，班田収授がおこなわれた。
- ⑩ 墾田永年私財法により新しく開墾した土地は永久に私有地として認められた。
- ⑪ 農民の団結は惣とよばれ，寄合をひらき，土一揆など，たびたび一揆をおこした。
- ⑫ 刀狩をおこない，農民から武器をとりあげ，武士と農民の区別をはっきりさせた。
- ⑬ 備中ぐわ，千歯こきが発明され，農業の生産性が高まった。また，大規模な新田開発もおこなわれた。
- ⑭ 稲作が日本に伝わり，貧富の差が発生し，各地にくにが発生した。
- ⑮ 牛馬耕や，草木灰が使用されはじめ，二毛作がはじまった。農民は地頭と荘園領主の二重支配に苦しんだ。
- ⑯ 慶安の御触書や五人組の制度が出され，農民の生活をきびしく取り締まった。

① イ	② ウ	③ カ	④ キ	⑤ ク	⑥ ア	⑦ オ	⑧ ク
-----	-----	-----	-----	-----	-----	-----	-----

(2) 次の資料はいつの時代のものか，年表から選んで記号を書きなさい。(同じ記号を何回選んでもよい)

① 一、朝は早くおきて草を刈り，昼は田畑を耕し，夜は縄・俵を編み，休むことなく仕事にはげめ。	② 一、惣の森で，勝手に木を切ったり葉をかき集めたりした者は村人であれば村の寄合からはずし，その他の者は村から追い出すこと。	③ 諸国の百姓が刀やわきざし，弓，やり，鉄砲，そのほかの武具などを持つことはかたく禁止する。
④ ご飯をたくかまどにもクモが巢をはってしまった。それなのにむちを持った里長が，税を出せと戸口でわめいている。こんなにもつらいものなのか。この世に生きていくのは。(万葉集より)	⑤ 新しい農具 	⑥ 

① ク	② カ	③ キ	④ ウ	⑤ ク	⑥ ク
-----	-----	-----	-----	-----	-----





ア 飛鳥	イ 奈良	ウ 平安	エ 鎌倉	オ (南北朝)室町(戦国)	カ 安土 桃山	キ 江戸
---------	---------	---------	---------	------------------	---------------	---------

(1) 次のことがらは上の年表のどの時代のことか。記号を書きなさい。(同じ記号を何回選んでもよい)

- ⑩ 唐にならってつくられた都の東西に市が出来，和同開珎が使われた。
- ⑪ 問丸・馬借などの運送業が発達した。
- ⑫ 商工業を発達させるために，楽市楽座がおこなわれ，座の特権が廃止された。
- ⑬ 諸国の年貢米が集まる蔵屋敷が，大阪にたちならんだ。
- ⑭ この時代の高利貸しは両替商とよばれ，大名にも金が貸し付けられた。
- ⑮ この時代の高利貸しは土倉・酒屋とよばれた。
- ⑯ この時代の商工業者の同業組合は座とよばれた。
- ⑰ この時代の商工業者の同業組合は株仲間とよばれた。
- ⑱ 日明貿易の結果，堺や博多など自治都市がさかえた。

① イ	② オ	③ カ	④ キ	⑤ キ	⑥ オ	⑦ オ	⑧ キ	⑨ オ
-----	-----	-----	-----	-----	-----	-----	-----	-----

(2) 次の資料はいつの時代に出されたものか。上の年表から選んで記号を書きなさい。(同じ記号を何回選んでもよい)

<p>①</p> 	<p>②</p> <p>その方ども、これまで毎年一万二千両の冥加金運上金(ともに税金)を上納してきたが、問屋どもに不正があることがわかったので、以後上納しなくてよい。また今後は株仲間はもちろん問屋仲間、組合などということは相ならん。</p>	<p>③</p> <p>一、ここは楽市としてお おせつけられているの だから税や労役はすべ て免除する。</p>	
<p>④</p> <p>正長元年9月、天下の土民(農民)が蜂起した。彼らは徳政だといって酒屋・土倉などを破壊し、借金証書をことごとく破った。管領がこれをしずめた。土民が蜂起したのは日本国始まって以来のことである。</p>	<p>⑤</p> 	<p>⑥</p> 	<p>⑦ 藩札</p> 

① オ	② キ	③ カ	④ オ	⑤ キ	⑥ キ	⑦ キ
-----	-----	-----	-----	-----	-----	-----

文化史









下の年表を見てあとの問いに答えなさい。

6世紀	710	794	1192	1334	1573	1603											
飛鳥		奈良		平安		鎌倉		室町		安土桃山		江戸					
A		B		C		D		E		F		G		H		I	

(1) 年表中の A~I は各時代の文化が栄えた時期をあらわしている。文化名を書きなさい。

A 飛鳥	文化	B 天平	文化	C 国風	文化	D 鎌倉	文化	E 北山	文化
F 東山	文化	G 桃山	文化	H 元禄	文化	I 化政	文化		

(2) 下の①~⑫は、年表中のどの文化の時のものか、年表 A~I の中から選んで書きなさい。

① 平等院鳳凰堂 	② 東大寺正倉院 	③ 法隆寺 	④ 金閣 
⑤ 東大寺南大門 	⑥ 姫路城 	⑦ 銀閣 	⑧ 東大寺大仏 
⑨ 金剛力士像 	⑩ 菱川師宣 	⑪ 雪舟 	⑫ 富嶽三十六景 

① C	② B	③ A	④ E	⑤ D	⑥ G	⑦ F	⑧ B
⑨ D	⑩ H	⑪ F	⑫ I				

明治時代以降の各テーマ史

<年表>

1853	1868	1874	1894	1914	1929	1945
ア 幕末	イ 明治維新	ウ 自由民権	エ 日清日露	オ 第一次大戦 大正デモクラシー	カ 世界恐慌～第二次大戦	キ 戦後

(1) <農業>下のことがらは、上の年表のどの時期のことか、選んで記号を書きなさい。

- ⑥ 明治政府が地租改正をおこない、土地所有者が地価の3%を現金で納めるようになった。
- ⑦ 農地改革がおこなわれ、自作農が大幅に増加した。
- ⑧ 各地で小作争議がおこりはじめ、地主に対して小作料の減免を求めた。
- ⑨ 米が余ようになり、政府は生産調整(減反政策)を実施した。
- ⑩ ロシア革命によるシベリア出兵の影響により米価が急上昇し、米騒動がおこった。

① イ	② キ	③ オ	④ キ	⑤ オ
-----	-----	-----	-----	-----

(2) <工業>下のことがらは、上の年表のどの時期のことか、選んで記号を書きなさい。

- ⑥ 官営の八幡製鉄所が建設され、政府は重工業にも力を入れ始めた。
- ⑦ 官営の富岡製糸場が作られ、外国からも技師を招き、工業を発達させようとした。
- ⑧ 高度経済成長が続き、日本は先進国の仲間入りをはたした。
- ⑨ 軽工業を中心に産業革命がおき、それまで輸入していた綿糸を輸出するようになった。
- ⑩ 船舶などの重工業が発達し、工業生産額が農業生産額をうわまわった。

① エ	② イ	③ キ	④ エ	⑤ オ
-----	-----	-----	-----	-----

(3) <社会中心>下のことがらは、上の年表のどの時期のことか、選んで記号を書きなさい。

- ⑤ ラジオ放送が始まり、新聞と並ぶ情報源となった。
- ⑥ 郵便や電信制度が始まり、東京(新橋)―横浜間に鉄道が開通した。
- ⑦ 米などの生活必需品は配給制となり、都会の児童は田舎に疎開した。
- ⑧ 新幹線や高速道路が建設され、日本列島各地への移動時間が大幅に短縮された。

① オ	② イ	③ カ	④ キ
-----	-----	-----	-----

<年表>

1853	1868	1874	1894	1914	1929	1945
ア 幕末	イ 明治維新	ウ 自由民権	エ 日清日露	オ 第一次大戦	カ 世界恐慌～第二次大戦	キ 戦後

(4) <経済中心>下のことがらは、年表のどの時期のことか、選んで記号を書きなさい。

- ① 大戦中は好景気がおとずれ、輸出が輸入をうわまわり、成金とよばれる者もあらわれた。
- ② 円・銭・厘の貨幣制度が整えられた。
- ③ 生糸を輸出しすぎて国内が品薄になり、あわせてその他の物価が大幅に上昇した。人々は世直しを求めた。
- ④ 朝鮮戦争による特需により、国内の経済はやや回復した。
- ⑤ アメリカでおこった大不況が日本にも大きな影響を与え、日本は深刻な不況にみまわれた。

① オ	② イ	③ ア	④ キ	⑤ カ
-----	-----	-----	-----	-----

(5) <事件>下のことがらは、年表のどの時期のことか、選んで記号を書きなさい。

- ⑦ 秩父事件や、福島事件などがおこり、国会開設を求める運動は激化した。
- ⑧ 大逆事件がおこり、社会主義者の幸徳秋水らが、死刑になった。
- ⑨ 足尾鉬毒事件で田中正造は天皇に直訴した。
- ⑩ 五・一五事件や二・二六事件がおこり、軍部の影響が強まった。
- ⑪ 日比谷焼き打ち事件がおこるなど、国民は政府に対して不満をあらわにした。
- ⑫ 関東大震災がおこり、首都圏は混乱におちいった。この混乱の中で多くの中国・朝鮮人・社会主義者が殺された。

① ウ	② エ	③ エ	④ カ	⑤ エ	⑥ オ
-----	-----	-----	-----	-----	-----

(6) <外交 1>下のことがらは、年表のどの時期のことか、選んで記号を書きなさい。

- ⑤ 日米修好通商条約を結び、領事裁判権を認め、関税自主権がないなど、日本にとって不平等であった。
- ⑥ 日米安全保障条約を結び、沖縄のアメリカ軍基地使用などをみとめた。
- ⑦ 日英同盟を結び、ロシアの南下政策に対抗した。
- ⑧ 日独伊三国同盟を結び、3国の結束を強化した。

① ア	② キ	③ エ	④ カ
-----	-----	-----	-----

(7) <外交 2>下のことがらは、年表のどの時期のことか、選んで記号を書きなさい。

- ⑤ 岩倉使節団が派遣され、不平等条約を改正しようとしたが、失敗に終わった。
- ⑥ 中国に対して二十一か条の要求を出し、これを認めさせた。
- ⑦ ノルマントン号事件がおこり、不平等条約改正の動きが高まった。
- ⑧ サンフランシスコ平和条約を結び、日本は独立を回復した。

① イ	② オ	③ ウ	④ キ
-----	-----	-----	-----

<年表>

	1868	1874	1894	1914	1929	1945
ア 幕末	イ 明治維新	ウ 自由民権	エ 日清日露	オ 第一次大戦	カ デモクラシー 世界恐慌～第二次大戦	キ 戦後

(8)<教育>下のことがらは、年表のどの時期のことか、選んで記号を書きなさい。

- ⑤ 大日本帝国憲法が出された翌年、教育勅語が出され、忠君愛国の道徳が示された。
- ⑥ 政府は学制を發布し、6歳以上の男女を義務教育としたが、就学率は低かった。
- ⑦ 教育基本法が制定され、義務教育が9年に延長された。→今の制度と同じ
- ⑧ 韓国は併合され、韓国の学校では日本語や日本史を学ばされ、日本人に同化させる教育がおこなわれた。

① ウ	② イ	③ キ	④ エ
-----	-----	-----	-----

(9)<国民の政治参加>下のことがらは、上の年表のどの時期のことか、選んで記号を書きなさい。

- ⑤ 米騒動をきっかけに真の民主主義を求める運動がおこり、ついに25歳以上の男子に選挙権が与えられた。
- ⑥ 選挙権の年齢が20歳に引き下げられ、女子にも参政権が認められた。
- ⑦ 国会の開設をもとめる運動が激化し、政府はこれをきびしく取り締まった。
- ⑧ 日米安全保障条約の改正に反対して学生を中心に安保闘争とよばれる反政府運動に発展した。

① オ	② キ	③ ウ	④ キ
-----	-----	-----	-----

(10) 次の資料は上の年表のどの時期のことか、選びなさい。

	カ		エ		イ
<p>④</p> <p>ああ、弟よ君を泣く、 君死にたまふことなけれ 末に生まれし君なれば 親の情けは勝りしも 親は刃をにぎらせて 人を殺せと教えしや 人を殺して死ねよとて 二十四まで育てしや</p>	エ		キ		エ

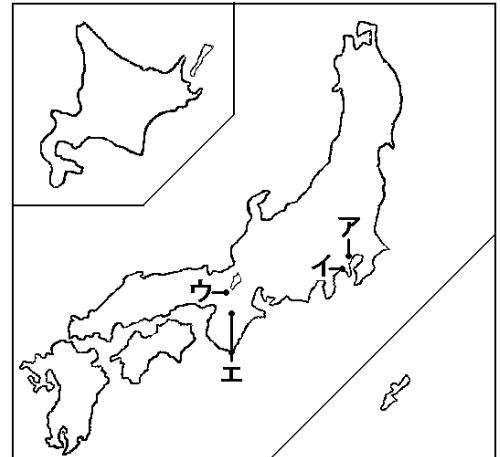
歴史地理・同時代の出来事

問 い 次のできごとがおこった場所を略地図から選んで記号を書きなさい。

(1) <政治の中心地>

- ⑤ この地に平城京が造営された。
- ⑥ この地に平安京が、また足利尊氏が幕府を開いた。
- ⑦ この地に源頼朝が幕府を開いた。
- ⑧ この地に徳川家康が幕府を開いた。

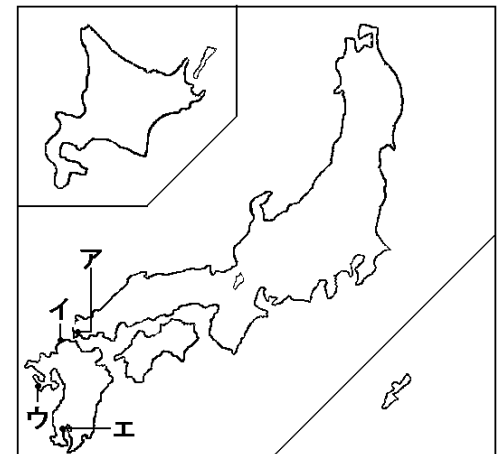
① エ	② ウ	③ イ	④ ア
-----	-----	-----	-----



(2) <西日本の重要地>

- ⑤ フランシスコザビエルが上陸した地。
- ⑥ 鎖国後も貿易が許された人工島があった場所。
- ⑦ 弥生時代の金印が発見された場所。また、元が襲撃した。
- ⑧ 日清戦争の講和条約が結ばれた場所。

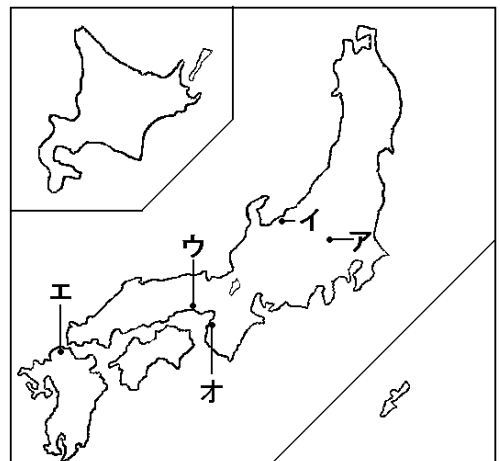
① エ	② ウ	③ イ	④ ア
-----	-----	-----	-----



(3) <その他の重要地>

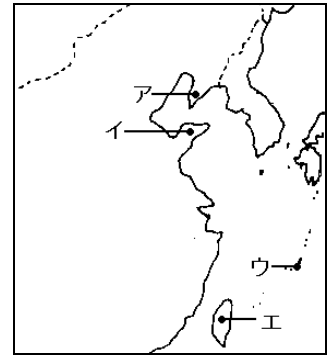
- ⑥ 平清盛がここを改修して以来、港町として現代までさかえる。
- ⑦ 明治時代に官営の製糸場が建設された。
- ⑧ 明治時代後期に官営の製鉄所が建設された。
- ⑨ 大正時代に、ここの主婦が暴動を起こしたのがきっかけで米騒動がおこった。
- ⑩ 室町時代後半に自治都市として栄えた。鉄砲の産地としても知られていた。

① ウ	② ア	③ エ	④ イ
⑤ オ			



(4) <その他の重要地2>

- ④ アメリカに占領されていたが、1972年に返還された土地。
- ⑤ 第一次世界大戦が始まると日本はドイツの権益を日本のものにするように要求した。
- ⑥ 日清戦争後の下関条約で日本に譲られた。しかしロシアなどが日本に圧力をかけて清に返還させた土地。



① ウ	② イ	③ ア
-----	-----	-----

(5) <外国と同時代のできごと>

次の外国でのできごとに最も近い日本のできごとをア～キから選びなさい。

- ⑥ ルターが宗教改革をおこした。
- ⑦ アメリカで独立戦争がおこり、独立宣言が出された。
- ⑧ フランス革命がおこり、人権宣言が出された。
- ⑨ アヘン戦争がおこり、清は破れて、南京条約を結んだ。
- ⑩ ロシア革命がおこり社会主義政府が誕生した。

- ア 水野忠邦が天保の改革をおこなった。
- イ 田沼意次が老中となり、わいろ政治をおこなった。
- ウ 松平定信が寛政の改革をおこなった。
- エ 徳川吉宗が享保の改革をおこなった。
- オ フランシスコザビエルがキリスト教を伝えた。
- カ マルコ＝ポーロが日本をヨーロッパに紹介した。
- キ 富山の主婦が米の異常な値上がりに反発し、米騒動をおこした。

① オ	② イ	③ ウ	④ ア	⑤ キ
-----	-----	-----	-----	-----