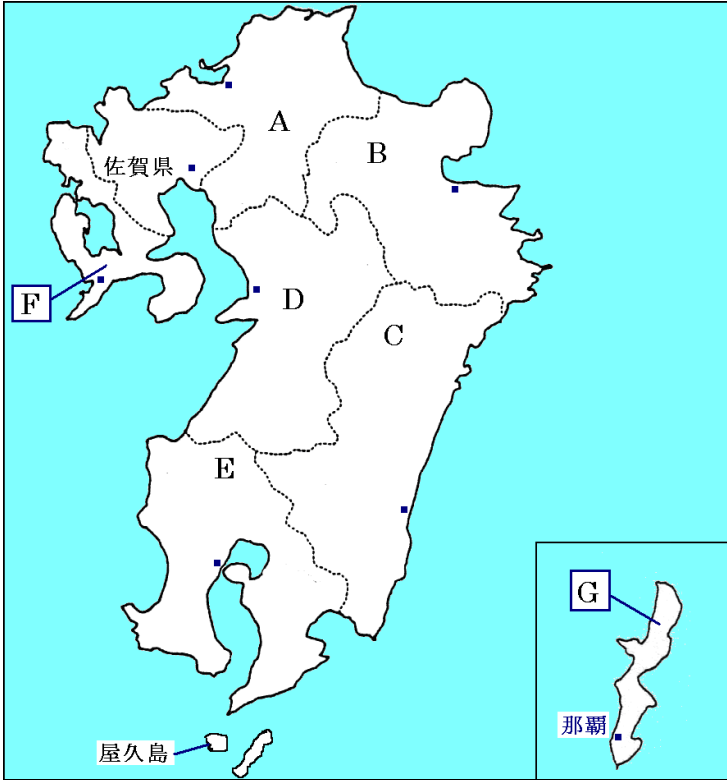


# 九州地方

## 【解説】流れ 教科書の重要キーワードをチェックした後、問題へ！

### ● 主な都道府県の確認



A 九州の中心となる県

福岡県

B 臨海部で工業が発達

大分県

C 野菜の促成栽培が盛ん。畜産も盛ん

宮崎県

D かつて水俣病がおこった

熊本県

E 畜産がとても盛ん。

鹿児島県

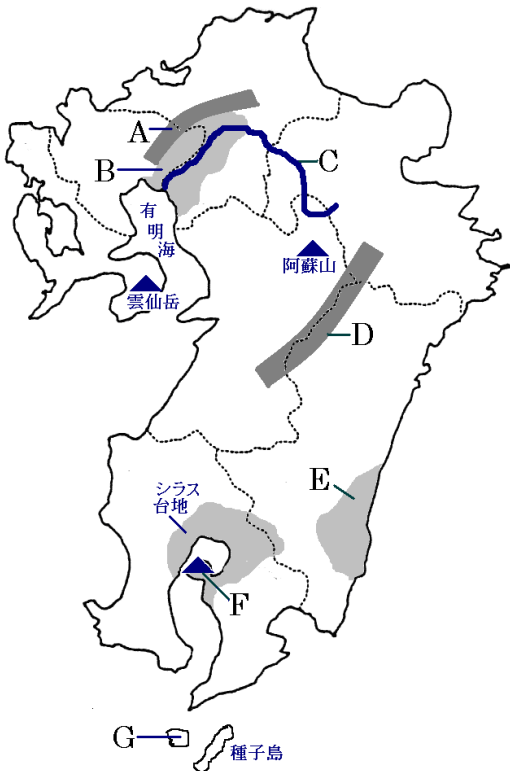
F 海岸線の長さは全国2位。

長崎県

G アメリカに占領されていた。今も基地が残る

沖縄県

### ● 主な地形



A なだらかな山地

筑紫

山地

B 稲作地帯

筑紫

平野

C 有明海にそそぐ河川

筑後

川

D 九州地方の中心にある山地

九州

山地

E 温暖な気候で野菜の栽培が盛んな平野

宮崎

平野

F 現在も活動している火山

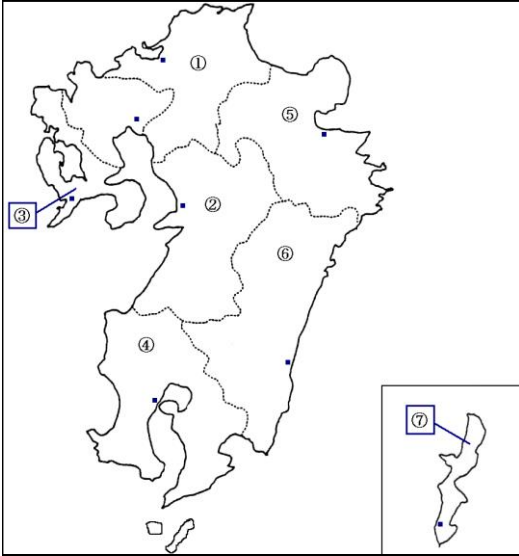
桜島

G 世界遺産の島

屋久島

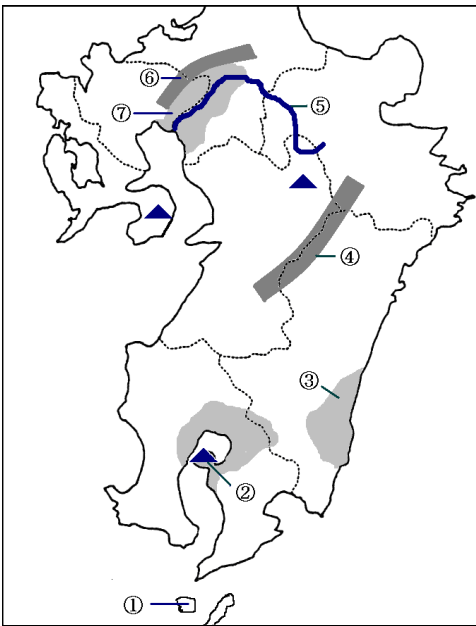
# 【教科書の重要語句】《一問一答》問題文ごと暗記しよう！

都道府県名を書きなさい。



- ① \_\_\_\_\_
- ② \_\_\_\_\_
- ③ \_\_\_\_\_
- ④ \_\_\_\_\_
- ⑤ \_\_\_\_\_
- ⑥ \_\_\_\_\_
- ⑦ \_\_\_\_\_

地形名を書きなさい。



- ① \_\_\_\_\_
- ② \_\_\_\_\_
- ③ \_\_\_\_\_
- ④ \_\_\_\_\_
- ⑤ \_\_\_\_\_
- ⑥ \_\_\_\_\_
- ⑦ \_\_\_\_\_

## 解答

①から順に  
 福岡県、熊本県、長崎県、鹿児島県、大分県、宮崎県、沖縄県  
 屋久島、桜島、宮崎平野、九州山地、筑後川、筑紫山地、筑紫平野

## 【解説】流れ 教科書の重要キーワードをチェックした後、問題へ！



### ● 九州の農業

#### ・筑紫平野

・・・① 稲作 が盛ん

#### ・宮崎平野

・・・野菜の② 促成 栽培が盛ん。

キュウリやピーマンを出荷の時期をずらして

大都市へ出荷

#### ・シラス台地

・・・土地が農業にあまり向かない。

③ 畜産 がとても盛ん

#### ・南西諸島

・・・パイナップルやサトウキビ・花の栽培が盛ん

### ● 九州の工業

・① 八幡製鉄所 ・・・1901年に北九州市に建

設された官営の製鉄所。中国の鉄鉱石と九州の石炭を使用

・② エネルギー革命 ・・・1960年代、主なエネルギー

が石炭から石油に変化したことをこうよぶ

・③ 機械 工業が中心になる・・・現在は

IC(集積回路)工場や自動車工業などが発達

・公害対策・・・熊本県水俣市で水俣病が発生。北九州市で

は大気汚染や海水汚染が発生。現在は環境と開発を両立

# 【教科書の重要語句】《一問一答》問題文ごと暗記しよう！

- ① 筑紫平野では\_\_\_\_\_が盛んである。 ① \_\_\_\_\_
- ② 宮崎平野では野菜の\_\_\_\_\_栽培が盛んだ。 ② \_\_\_\_\_
- ③ 鹿児島県のシラス台地では\_\_\_\_\_がとても盛んである。 ③ \_\_\_\_\_
- ④ 沖縄など、南西諸島では花・サトウキビのほか、\_\_\_\_\_の栽培が盛んだ。 ④ \_\_\_\_\_
- ⑤ 1901年、官営の\_\_\_\_\_が建設された。 ⑤ \_\_\_\_\_
- ⑥ 1960年代、主要なエネルギーが石炭から\_\_\_\_\_に変わった。 ⑥ \_\_\_\_\_
- ⑦ ⑥を\_\_\_\_\_とよぶ。 ⑦ \_\_\_\_\_
- ⑧ 現在の九州は\_\_\_\_\_工業が中心になる。 ⑧ \_\_\_\_\_
- ⑨ 空港や高速道路沿いに\_\_\_\_\_工場が建設された。 ⑨ \_\_\_\_\_
- ⑩ 1960年代、4大公害の1つである\_\_\_\_\_病が熊本県で発生した。 ⑩ \_\_\_\_\_

## 解答

- ① 稲作 \_\_\_\_\_
- ② 促成 \_\_\_\_\_
- ③ 畜産 \_\_\_\_\_
- ④ パイナップル \_\_\_\_\_
- ⑤ 八幡製鉄所 \_\_\_\_\_
- ⑥ 石油 \_\_\_\_\_
- ⑦ エネルギー革命 \_\_\_\_\_
- ⑧ 機械 \_\_\_\_\_
- ⑨ IC（集積回路） \_\_\_\_\_
- ⑩ 水俣 \_\_\_\_\_