

企業の生産

【解説】教科書の重要キーワードをチェックした後、問題へ！

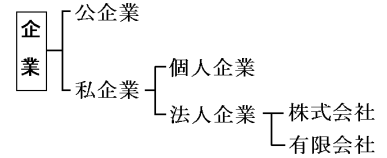
1 生産の三要素

- ① 自然 (土地) ・ ② 資本財 (設備) ・ ③ 労働力 (人材)

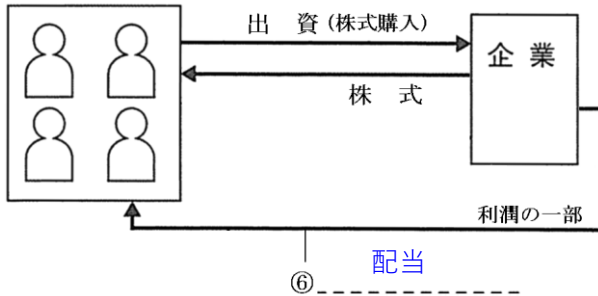
これらを集めるのに必要な資金を資本金という

2 企業

- ① 公企業 国や地方公共団体が経営する企業
- ② 私企業 一般の企業。③ 利潤(利益) を追求する
- ④ 株式会社 ②の代表的なもの。多くの人から資金を集めやすい
- しゅみ



⑤ 株主



- ⑦ 株主総会 株主が出席。企業方針を決定する

- ⑧ 企業の 社会的責任 企業は利潤の追求だけではなく、文化活動や環境保全にも力をいれる必要がある

3 生産の集中

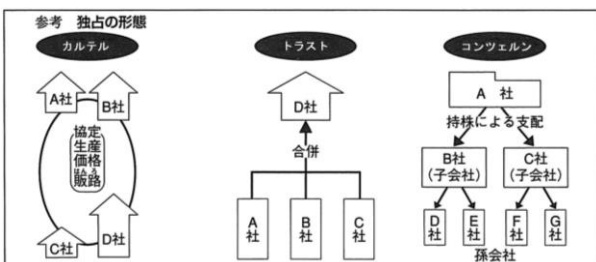
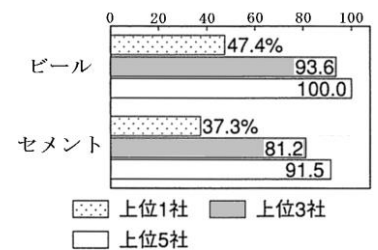
- ① 寡占(かせん) 少数の企業が市場を支配。一つの企業が支配することを独占という

消費者は不利益をこうむることが多い

- ② 独占禁止法 少数の企業が市場を支配するのを禁じた法律

- ③ 公正取引委員会 ②の法律を運用する行政機関

生産の集中度



【教科書の重要語句】《一問一答》問題文ごと暗記しよう！

- ① 生産の三要素は、自然と資本財と_____である。 ① _____
- ② 利潤を目的とする企業を_____という。 ② _____
- ③ 地方公共団体や国が経営する利潤を目的としない企業を_____という。 ③ _____
- ④ 会社を始めるのに必要な経営資金のことを_____という。 ④ _____
- ⑤ 株式会社は_____とよばれる証書を発行して資金を集める。 ⑤ _____
- ⑥ 株式を購入した人を_____という。 ⑥ _____
- ⑦ 会社が利益を出したとき、株主は持っている株の数に応じて_____をうけとれる。 ⑦ _____
- ⑧ 株主は会社の最高意思決定機関である_____に出席することができる。 ⑧ _____
- ⑨ 企業には文化活動や環境に対応するなどの_____をはたすことが期待されている。 ⑨ _____
-
- ① 証券取引所で株が大量に売られ、買う人があまりいなかったとき、株価は_____。 ① _____
- ② 新製品の売れ行きが絶好調のとき、その企業の株価は_____。 ② _____
-
- ① 少数の大企業が生産や販売を支配している市場を_____市場という。 ① _____
- ② 企業間の競争をうながすために_____が制定されている。 ② _____
- ③ ②の法律を運用する機関は_____である。 ③ _____

銀行の金融

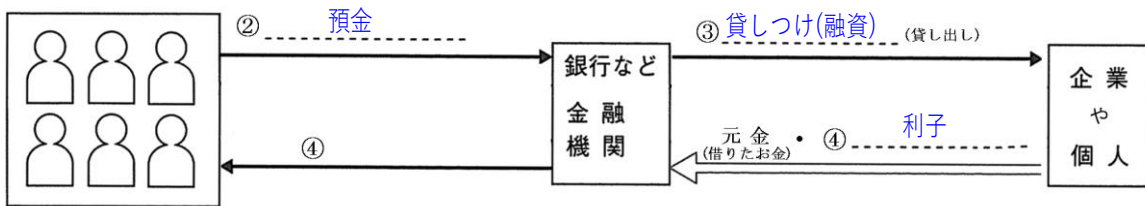
【解説】教科書の重要キーワードをチェックした後、問題へ！

ポイントの確認

4 金融

- ① **金融**資金にゆとりのある人が資金を必要としている人・企業に資金を融通すること
銀行などがおこなう

- しくみ



記述 銀行はどのように利益を得ているか。

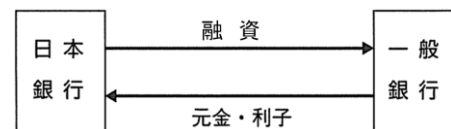
国民から預金を集め、それを個人や企業に貸し出して利子をつけて返済させる。（* 借りパクみたいな感じ）

5 中央銀行

- ① **日本銀行**わが国の中央銀行

- 3つの役割

- ② **発券**銀行.....紙幣を発行
- ③ **政府**の銀行.....政府の資金を管理
- ④ **銀行**の銀行.....一般の銀行と資金のやりとりをする

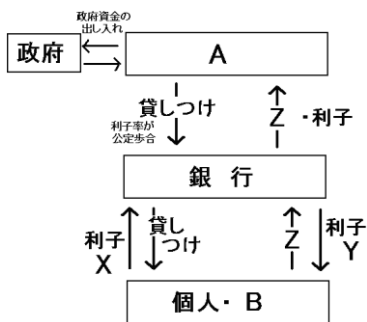


- ⑤ **金融政策**金融機関に貸し出す金利を上下させたりして通貨の量を調節し、景気を調整する

【教科書の重要語句】《一問一答》問題文ごと暗記しよう！

- ① お金が足りない人との間の資金の貸し借りのことを_____という。 ① _____
- ② 金融をおこなう機関を金融機関といい、_____が代表的だ。 ② _____
- ③ 銀行などの金融機関にお金を借りた人や企業は元金に_____をつけて返済する。 ③ _____
- ④ 国全体の立場から金融活動をおこなう銀行を_____という。 ④ _____
- ⑤ 日本における④の銀行は_____である。 ⑤ _____
- ⑥ ⑤は日本銀行券を発行できるただ一つの_____銀行である。 ⑥ _____
- ⑦ ⑤は政府のお金を出し入れする。このことからを_____といわれる。 ⑦ _____
- ⑧ ⑤は一般銀行の預金を預かったり、銀行に資金を貸し出すので、_____といわれる。 ⑧ _____
- ⑨ ⑤が通過量を調節し、景気の調整をおこなう政策を_____という。 ⑨ _____

⑩ 図をみて答えなさい。



問1 図中の A・B にあてはまる語句を書きなさい。

⑩
問1A _____

問2 利子 X と Y ではどちらの金利が高いか、書きなさい。

B _____
問2 _____

問3 図中の Z にあたるものは何か、書きなさい。

問3 _____

【解答】企業の生産

《一問一答》問題文ごと暗記しよう！

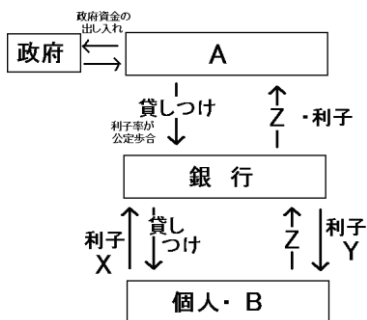
- | | |
|---|-----------|
| ① 生産の三要素は、自然と資本財と_____である。 | ① 労働力 |
| ② 利潤を目的とする企業を_____という。 | ② 私企業 |
| ③ 地方公共団体や国が経営する利潤を目的としない企業を_____という。 | ③ 公企業 |
| ④ 会社を始めるのに必要な経営資金のことを_____という。 | ④ 資本(金) |
| ⑤ 株式会社は_____とよばれる証書を発行して資金を集める。 | ⑤ 株式 |
| ⑥ 株式を購入した人を_____という。 | ⑥ 株主 |
| ⑦ 会社が利益を出したとき、株主は持っている株の数に応じて_____をうけとれる。 | ⑦ 配当(金) |
| ⑧ 株主は会社の最高意思決定機関である_____に出席することができる。 | ⑧ 株主総会 |
| ⑨ 企業には文化活動や環境に対応するなどの_____をはたすことが期待されている。 | ⑨ 社会的責任 |
| ① 証券取引所で株が大量に売られ、買う人があまりいなかったとき、株価は_____。 | ① 下がる |
| ② 新製品の売れ行きが絶好調のとき、その企業の株価は_____。 | ② 上がる |
| ① 少数の大企業が生産や販売を支配している市場を_____市場という。 | ① 寡占 |
| ② 企業間の競争をうながすために_____が制定されている。 | ② 独占禁止法 |
| ③ ②の法律を運用する機関は_____である。 | ③ 公正取引委員会 |

【解答】銀行の金融

《一問一答》問題文ごと暗記しよう！

- | | |
|--|----------------|
| ① お金が足りない人との間の資金の貸し借りのことを_____という。 | ① <u>金融</u> |
| ② 金融をおこなう機関を金融機関といい、_____が代表的だ。 | ② <u>銀行</u> |
| ③ 銀行などの金融機関にお金を借りた人や企業は元金に_____をつけて返済する。 | ③ <u>利子</u> |
| ④ 国全体の立場から金融活動をおこなう銀行を_____という。 | ④ <u>中央銀行</u> |
| ⑤ 日本における④の銀行は_____である。 | ⑤ <u>日本銀行</u> |
| ⑥ ⑤は日本銀行券を発行できるただ一つの_____銀行である。 | ⑥ <u>発券</u> |
| ⑦ ⑤は政府のお金を出し入れする。このことからを_____といわれる。 | ⑦ <u>政府の銀行</u> |
| ⑧ ⑤は一般銀行の預金を預かったり、銀行に資金を貸し出すので、_____といわれる。 | ⑧ <u>銀行の銀行</u> |
| ⑨ ⑤が通過量を調節し、景気の調整をおこなう政策を_____という。 | ⑨ <u>金融政策</u> |

⑩ 図をみて答えなさい。



問1 図中の A・B にあてはまる語句を書きなさい。

- ⑩
- | | |
|-----|-------------|
| 問1A | <u>日本銀行</u> |
| B | <u>企業</u> |
| 問2 | <u>X</u> |
| 問3 | <u>預金</u> |

問2 利子 X と Y ではどちらの金利が高いか、書きなさい。

問3 図中の Z にあたるものは何か、書きなさい。