

2年生社会科1学期末試験問題〔NO1〕

【1】右の年表を見て、次の各問に答えなさい。

- (1) 年表の下線部Aの十字軍は、ローマ教皇の呼びかけにより派遣された。十字軍が派遣された目的を、かんたんに答えなさい。
- (2) 年表の下線部B、Cの人物とそれぞれが到達した場所の組み合わせとして正しいものを、次のア～エから一つ選び、記号で答えなさい。
ア B-西インド諸島 イ C-西インド諸島
ウ D-インド エ C-フィリピン
- (3) 年表の下線部Dの宗教改革をすすめた人たちは、「抗議する者」という意味で、何と呼ばれたか答えなさい。
- (4) 年表の下線部Eの鉄砲が伝えられた島を何というか答えなさい。
- (5) 年表中の下線部Fの桶狭間の戦いで織田信長が破った人物を、次のア～エから一つ選び、記号で答えなさい。
ア 足利義晴 イ 本願寺親王 ウ 武田勝頼 エ 毛利輝元
- (6) 年表の下線部Gの太閤検地では、米の収穫高を何という単位で表したか答えなさい。
- (7) 年表の下線部Gのころから栄えた桃山文化について、かぶき踊りを始めた人物名を答えなさい。
- (8) 年表の下線部Hの城を何というか答えなさい。
- (9) 年表の [I] にあてはまる、豊臣秀吉が朝廷から任命された役職名を答えなさい。

年代	おもなできごと
1096	第1回A十字軍が派遣される
1492	Bコロロンブスが新航路を開拓する
1498	Cバスコ・ダ・ガマが新航路を開拓する
1517	ルターがD宗教改革を始める
1543	日本にE鉄砲が伝えられる
1560	F桶狭間の戦いがおこる
1582	G太閤検地が始められる
1583	H豊臣秀吉が拠点とする城を築く
1585	豊臣秀吉が [I] となる

【2】次の五つの文を読んで、あとの各問に答えなさい。

- ㉑ a江戸幕府は、b大名を統制するためのC法令を、将軍が代わるごとに出した。
- ㉒ 江戸幕府は、人々にイエスマリアの姿がほられて板を踏ませたり、d茶門改という制度を行ったりした。
- ㉓ 江戸幕府は、海外の情勢を知るため、オランダや中国にヨーロッパやアジアの状況を記したe文書を提出させた。
- ㉔ 薩摩藩は、17世紀はじめに [f] を攻めて服属させ、厳しく監督した。
- ㉕ 松前藩は、 [g] と交易する権利を幕府から認められていた。

- (1) 下線部aの江戸幕府において、将軍のもとにおかれた次の①～③の役職名を、あとの< >からそれぞれ選んで答えなさい。
- ① 寺や神社の取りしまりを行った役職。
② 朝廷と西日本の大名の監視にあたった役職。
③ 幕府の財政や幕領の監督を行った役職。

< 大老 勘定奉行 寺社奉行 京都所司代 >

- (2) 文中の下線部bとは、 [] 万石以上の領地をもらった武士のことである。文中の [] にあてはまる数字を答えなさい。
- (3) 下線部Cの法令を何というか答えなさい。
- (4) 下線部dは、寺に何をさせた制度か、「仏教」、「証明」の2語を用いて説明しなさい。
- (5) 下線部eについて、オランダに提出させたこのような文書は「オランダ [] 」とよばれ、

中国に提出させた文書は「唐船 [] 」とよばれた。二つの [] に共通してあてはまる語句を答えなさい。

- (6) [I] にあてはまる場所を、右の地図のア～エから一つ選び、その記号で答えなさい。
- (7) [E] にあてはまる民族の名を答えなさい。



【3】右の年表を見て、次の各問に答えなさい。

- (1) 年表のAの時期に、長崎や平戸などに來航するポルトガルやスペインの商人と日本が行った貿易を何というか答えなさい。
- (2) 右下の資料1は、年表の下線部Bの法令を示したものです。これについて次の各問に答えなさい。
- ① 「パテレン」とはどのような人々のことが答えなさい。
② 資料1の命令は、あまり徹底されなかった。その理由を、「渡船」という語句を用いて、簡単に説明しなさい。

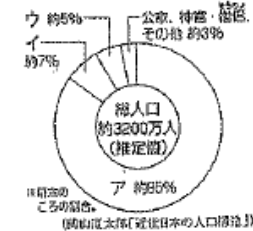
年代	おもなできごと
1543	日本に鉄砲が伝えられる・・・↑
1587	Bパテレン退治令が出される・・・↓
1603	C江戸幕府が開かれる
1609	D朝鮮との国交が回復する・・・↑
1641	オランダ商館が [F] に移される・・・↓

資料1

— 日本は神国であるから、キリスト教徒の国から邪教を伝え広められるのは、たいへんよろしくない。・・・

(一部要約)

資料2



- (3) 年表の下線部Cについて、右の資料2は、江戸時代の身分の内訳を示したもので、ア～ウには、武士、町人、百姓のいずれかがあてはまる。武士にあてはまるものをア～ウから一つ選び、記号で答えなさい。

- (4) 年表の下線部Dの国との国交回復の仲立ちとなった藩を、次のア～エから一つ選び、記号で答えなさい。

ア 尾張藩 イ 紀伊藩 ウ 河内藩 エ 水戸藩

- (5) 年表のEの時期につくられた、農家5～6戸を1組として、年貢の納入や犯罪の防止に共同責任を負わせた制度を何というか答えなさい。
- (6) 年表の [F] にあてはまる人工の島を何というか答えなさい。

【4】次の問題は、江戸幕府の支配体制についてのものです。資料1

資料1～3を見て、後の問に答えなさい。

- (1) 江戸幕府の将軍のもとで政治を行った常時の最高職を何というか答えなさい。
- (2) (1)は、親藩・譜代大名・外様大名のうちおもにどの大名が担当しましたか答えなさい。
- (3) 親藩の中でも紀伊・尾張・水戸家は、とくに何と呼ばれましたか答えなさい。



2年生社会科1学期末試験問題(No2)

(4) 右の資料2は、百姓の生活心得を示したものです。資料を見て、下の問いに答えなさい。

- ① 資料2の□にあてはまる語句を答えなさい。
- ② 幕府がこの資料2のような心得を出した目的を、簡単に説明しなさい。

(5) 資料2にあるように、百姓にも2種類ありました。土地持ちを本百姓。神宮先生の先祖は、何だったか答えなさい。

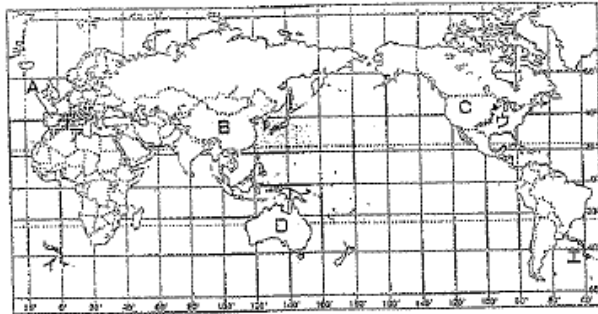
(6) 資料3の□にあてはまる語句を答えなさい。

(7) 資料3は、1635年に参勤交代が制度として定められました。これにより大名たちが受けた影響を、費用に着目して簡単に説明しなさい。

(8) 資料1を見て、外様大名の配役の特徴を、「江戸」という語句を使い、簡単に説明しなさい。

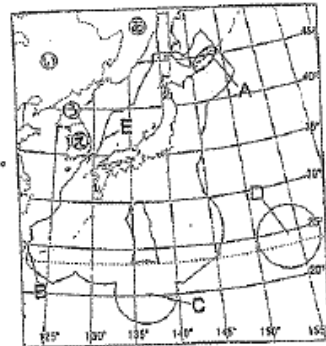
【5】右下の地図を見て、あとの問いに答えなさい。

- (1) 日本とはほぼ同じ緯度に位置するA～Cの国名を答えなさい。
- (2) 日本と同じ緯度に位置するDの国名を答えなさい。
- (3) 日本を地球の反対側に移動させたときの位置として正しいものを、地図中のア～エから1つ選び、記号で答えなさい。
- (4) 日本の位置を、Dの国がある大陸との関係で簡単に説明しなさい。



【6】右下の地図を見て、あとの問いに答えなさい。

- (1) 日本の東西南北の端にあたるA～Dの島を、次から1つずつ選んで答えなさい。
(与那国島 沖ノ島 南鳥島 猿島)
- (2) Aの北方領土を占拠している国を②～④から選んで、記号と国名を答えなさい。
- (3) Eは日本固有の領土ですが、現在韓国が占拠しています。この島を次から選んで書きなさい。
(鹿島 竹島 岩島 対馬)
- (4) 領土と領海の上空を何というか答えなさい。
- (5) 日本の領海は、沿岸から何海里以内の範囲か答えなさい。



資料2

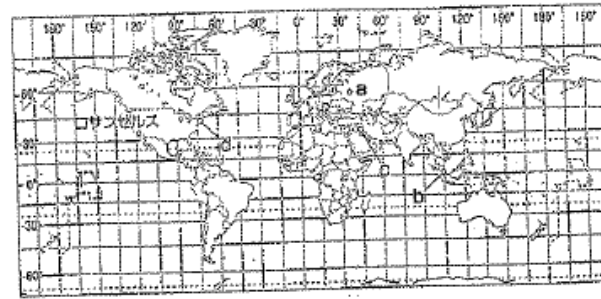
一 朝は早く起きて草をかり、昼は田畑の耕作をし、晚には寝をない、飯を括み、それぞれの仕事に気きめくことなほげむこと。
一 酒や茶を買って飲まないようにせよ。
一 百姓は雑穀を食べ、①を多く食いつぶさぬようにせよ。
一 百姓の衣類は、色と②に限る。(部分)

資料3

一 参勤と武進にひたすら精を出すようにしなさい。
一 参勤の③は、参理する場合であっても、必ず参陣にもうし出ること。まして新しい④をつくることは厳しく禁止する。
一 幕府の許可なしに、⑤を儲んではならぬ。(部分抜粋)

(6) ○は、日本の経済水域を示しています。日本の経済水域が国土面積の10倍以上になる理由を簡単に説明しなさい。

【7】下の地図を見て、あとの問いに答えなさい。



- (1) 1日が先に始まるのは、a・bの都市のどちらか答えなさい。
- (2) c・dの都市の時差は、何時間ありますか。
- (3) ロサンゼルスが1月1日午前8時のとき、東京は何月何日の何時ですか。午前または午後をつけて答えなさい。
- (4) 日付変更線は、ほぼ何度の経線に沿って引かれていますか答えなさい。

'(1)	聖地エルサレムをイスラム教徒から奪い返すため
1	(3) プロテスタント (4) 種子島
2	(6) 石高 (7) 出雲の阿国 (8) 大阪 (9) 関白

(1)①	寺社奉行 (2) 京都所司代 (3) 勘定奉行
------	-------------------------

(2)	1 万石 (3) 武家諸法度
-----	----------------

2	(4) 仏教徒ごある証明として寺の壇家となった。
2	(5) 風説書 (6) 門 (7) アイヌ 民族

(1)	南蛮貿易 (2)① キリスト教宣教師
3	(2) ボルトガル人やスペイン人との貿易は奨励されていた
2	(3) イウ (4) 五人組 (5) 出島

(1)	老中 (2) 譜代大名 (3) 御三家 (4)①a 米 b 木綿
	(2) 確実に年貢を取りたため

4	(5) 水呑み百姓 (6)a 城 b 婚姻
---	-----------------------

(7)	大名の財力を減少させため、大名行列にござきだけ費用おかけ
2	(8) 幕府に信頼のない外様大名は、江戸から離れた場所へ配置され

(1)A	スペイン B 中国 C アメリカ合衆国
5	(2) オーストラリア (3) 工 1

!	(4) 経線が日本と同じため、時差がない。
---	-----------------------

(1)A	択捉島 B 与那国島 C 沖ノ島 D 南島島
6	(2) (あ) (3) 竹島 (4) 領空 (5) 12 海里

2	(6) 日本は島国で領土に離島がたくさんあるから
---	--------------------------

7	(1) b (2) 8 時間 (3) 1 月 2 日 午前 1 時 (4) 180°
---	--