

日本の農業

【解説】教科書の重要キーワードをチェックした後、次のページへ！

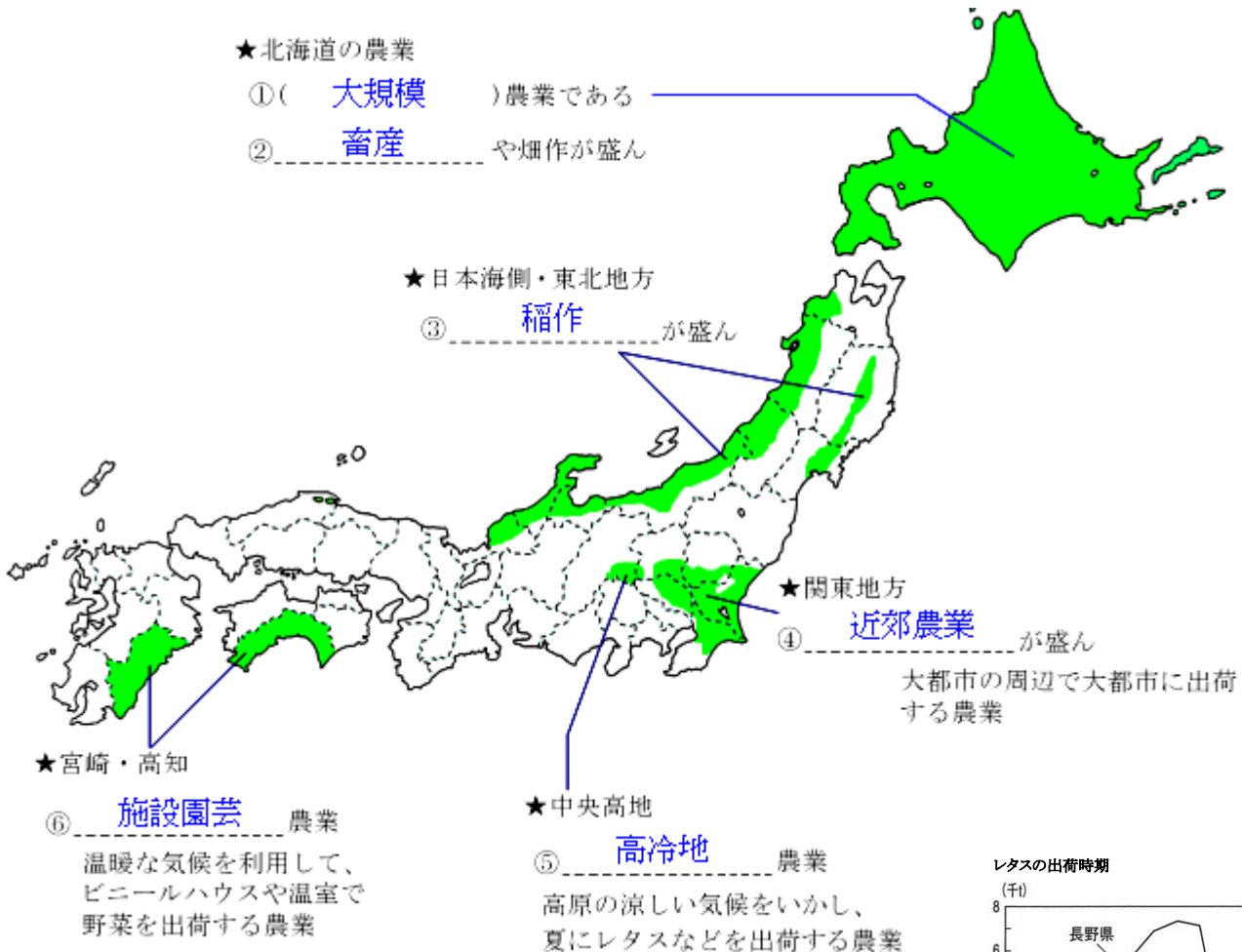
● 日本の農業の特色

① 小規模 な農家が多い(アメリカなどと比較して)・・・機械化が進み、少ない人手ですむため、兼業農家が多い

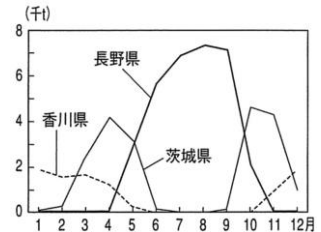
各国の比較

	アメリカ	インド	日本
農民一人あたりの農地面積 (ha)	150.7	0.6	2.7
農民一人あたりの機械保有台数(台)	1.74	0.1	1.62
1haあたりの米の収穫量(kg)	8092	3210	6511

● 日本各地の特色ある農業



レタスの出荷時期 (千t)



● さまざまな栽培の工夫

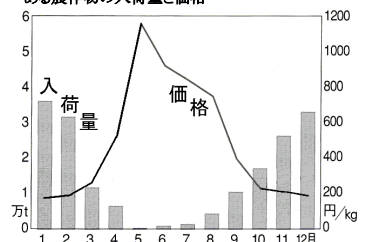
① 促成栽培 ・・・出荷の時期をはやめる栽培。宮崎のピーマンや高知のナスなど

② 抑制裁培 ・・・出荷の時期をおくらせる栽培。長野のレタスなど

出荷の時期をずらす理由

→ ライバルと出荷時期をずらすことにより、③ 高い価格 で出荷できるから

ある農作物の入荷量と価格



【教科書の重要語句】《一問一答》問題文ごと暗記しよう！

A

- ① 日本は(大規模 小規模)な農家が多い。 ① _____
- ② 北海道の農家は比較的(小規模 大規模)である。 ② _____
- ③ アメリカは農民一人あたりの耕地面積が(せまい 日本と同程度 広い)。 ③ _____
- ④ 日本はアメリカほどではないが農地 1ha あたりの収穫量は(多い 少ない)。 ④ _____
- ⑤ 農業のほかに仕事を持っている農家を_____という。 ⑤ _____

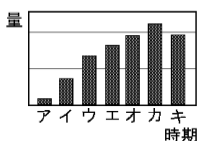
B

- ① 北海道は大規模な_____農家や畑作農家が多い。 ① _____
- ② 日本海側の平野部では_____が盛んである。 ② _____
- ③ 関東地方では大都市の周辺で大都市に出荷する_____が盛んである。 ③ _____
- ④ 関東地方は全国と比較して(米 野菜 果実 畜産)の割合が高い。 ④ _____
- ⑤ 長野や群馬の高地では涼しい気候を利用した_____が盛んである。 ⑤ _____
- ⑥ ⑤では夏に(大根 たまねぎ ジャガイモ レタス)を多く出荷する。 ⑥ _____
- ⑦ 温暖な気候を利用し、施設を使っておこなう農業を_____という。 ⑦ _____

C

- ① 出荷の時期をはやめる栽培方法を_____という。 ① _____
- ② ①で有名なのは宮崎のピーマンや_____のナスなどである。 ② _____
- ③ 出荷の時期をおくらせる栽培方法を_____という。 ③ _____
- ④ ③で有名なのは群馬のキャベツや_____のレタスである。 ④ _____
- ⑤ いっばんに出荷量が多くなったとき、野菜の価格は(上がる 下がる)。 ⑤ _____
- ⑥ 高知や宮崎は他の生産地からの出荷量が、(多い 少ない)ときに出荷している。 ⑥ _____
- ⑦ ⑥のときは、価格が(高い 安い)からである。 ⑦ _____
- ⑧ グラフの中で、野菜の価格が最も高いときは_____の時期である。 ⑧ _____

ある農作物の出荷時期と量

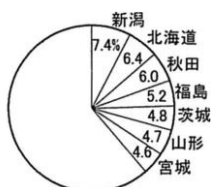


主な農作物の生産ランキング

【解説】教科書の重要キーワードをチェックした後、次のページへ！

- 主な農産物の生産上位都道府県 《よく出題されるものなので暗記しよう》

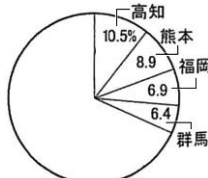
①穀物名 **米**



②野菜名 **ピーマン**



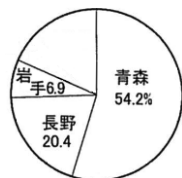
③野菜名 **ナス**



④野菜名 **レタス**



⑤果実名 **リンゴ**



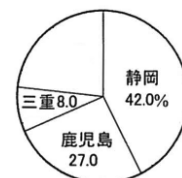
⑥果実名 **みかん**



⑦果実名 **ぶどう**



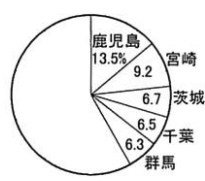
⑧作物名 **茶**



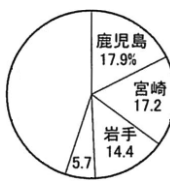
⑨家畜名 **肉牛**



⑩家畜名 **豚**



⑪家畜名 **にわとり**



【教科書の重要語句】《一問一答》問題文ごと暗記しよう！

- ① 新潟・北海道・秋田が上位の農作物は_____である。 ① _____
- ② 青森が全国生産の半分以上をしめる果実は_____である。 ② _____
- ③ 和歌山・愛媛で盛んな果実は_____である。 ③ _____
- ④ 山梨が全国で1位の果実はももと_____である。 ④ _____
- ⑤ 長野が生産量1位の野菜は_____である。 ⑤ _____
- ⑥ 宮崎・茨城・高知・鹿児島が生産上位の野菜は_____である。 ⑥ _____
- ⑦ 高知・熊本・福岡・群馬が生産上位の野菜は_____である。 ⑦ _____
- ⑧ 静岡・鹿児島・三重で生産が盛んな作物は_____である。 ⑧ _____
- ⑨ 北海道・鹿児島・宮崎で飼育が盛んな家畜は_____である。 ⑨ _____
- ⑩ 鹿児島・宮崎・茨城・千葉・群馬で飼育が盛んな家畜は_____である。 ⑩ _____

【解答】

A

- ① 日本は(大規模 小規模)な農家が多い。
- ② 北海道の農家は比較的(小規模 大規模)である。
- ③ アメリカは農民一人あたりの耕地面積が(せまい 日本と同程度 広い)。
- ④ 日本はアメリカほどではないが農地 1ha あたりの収穫量は(多い 少ない)。
- ⑤ 農業のほかに仕事を持っている農家を_____という。

- ① 小規模
- ② 大規模
- ③ 広い
- ④ 多い
- ⑤ 兼業農家

B

- ① 北海道は大規模な_____農家や畑作農家が多い。
- ② 日本海側の平野部では_____が盛んである。
- ③ 関東地方では大都市の周辺で大都市に出荷する_____が盛んである。
- ④ 関東地方は全国と比較して(米 野菜 果実 畜産)の割合が高い。
- ⑤ 長野や群馬の高地では涼しい気候を利用した_____が盛んである。
- ⑥ ⑤では夏に(大根 たまねぎ ジャガイモ レタス)を多く出荷する。
- ⑦ 温暖な気候を利用し、施設を使っておこなう農業を_____という。

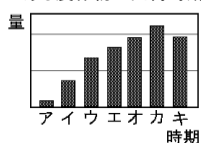
- ① 畜産
- ② 稲作
- ③ 近郊農業
- ④ 野菜
- ⑤ 高冷地農業
- ⑥ レタス
- ⑦ 施設園芸農業

C

- ① 出荷の時期をはやめる栽培方法を_____という。
- ② ①で有名なのは宮崎のピーマンや_____のナスなどである。
- ③ 出荷の時期をおくらせる栽培方法を_____という。
- ④ ③で有名なのは群馬のキャベツや_____のレタスである。
- ⑤ いっばんに出荷量が多くなったとき、野菜の価格は(上がる 下がる)。
- ⑥ 高知や宮崎は他の生産地からの出荷量が、(多い 少ない)ときに出荷している。
- ⑦ ⑥のときは、価格が(高い 安い)からである。
- ⑧ グラフの中で、野菜の価格が最も高いときは_____の時期である。

- ① 促成栽培
- ② 高知
- ③ 抑制裁培
- ④ 長野
- ⑤ 下がる
- ⑥ 少ない
- ⑦ 高い
- ⑧ ア

ある農作物の出荷時期と量



【解答】

- ① 新潟・北海道・秋田が上位の農作物は_____である。
- ② 青森が全国生産の半分以上をしめる果実は_____である。
- ③ 和歌山・愛媛で盛んな果実は_____である。
- ④ 山梨が全国で1位の果実はももと_____である。
- ⑤ 長野が生産量1位の野菜は_____である。
- ⑥ 宮崎・茨城・高知・鹿児島が生産上位の野菜は_____である。
- ⑦ 高知・熊本・福岡・群馬が生産上位の野菜は_____である。
- ⑧ 静岡・鹿児島・三重で生産が盛んな作物は_____である。
- ⑨ 北海道・鹿児島・宮崎で飼育が盛んな家畜は_____である。
- ⑩ 鹿児島・宮崎・茨城・千葉・群馬で飼育が盛んな家畜は_____である。

- ① 米
- ② リンゴ
- ③ みかん
- ④ ぶどう
- ⑤ レタス
- ⑥ ピーマン
- ⑦ ナス
- ⑧ 茶
- ⑨ 肉牛
- ⑩ 豚