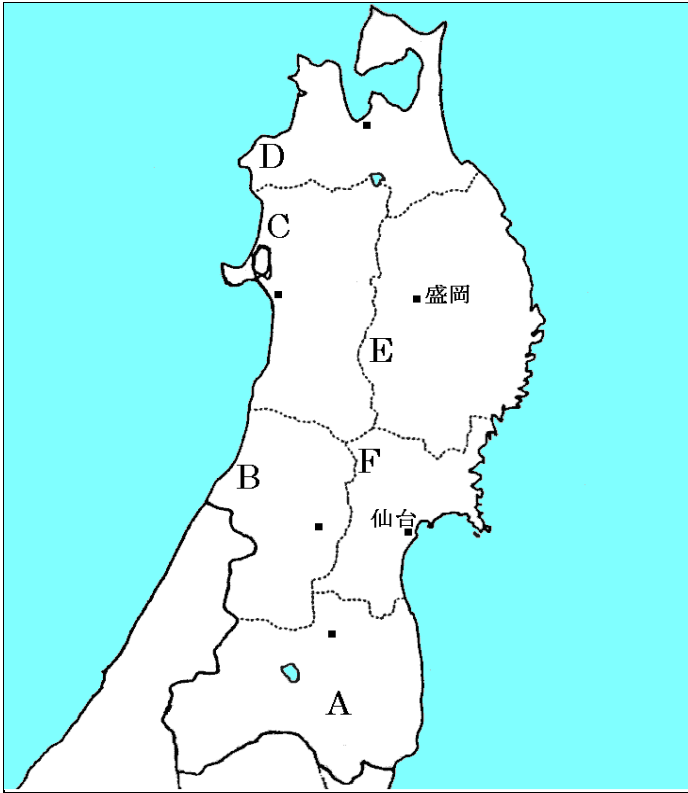


東北地方

【解説】流れ 教科書の重要キーワードをチェックした後、問題へ！

● 主な都道府県の確認



A 東北地方では最も工業が盛ん

福島県

B さくらんぼ(おうとう)日本一

山形県

C 稲作が盛ん

秋田県

D リンゴ日本一

青森県

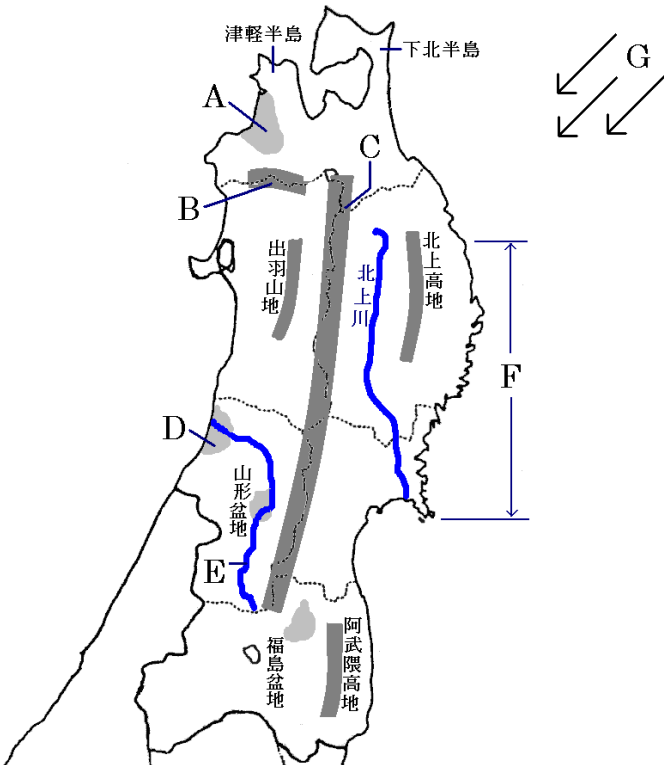
E 面積日本二位

岩手県

F 東北地方の中心となる県

宮城県

● 主な地形



A リンゴの栽培が盛ん

津軽

平野

B 世界遺産。天然のブナ林

白神

山地

C 日本一長い山脈

奥羽

山脈

D 稲作が盛んな

庄内

平野

E 松尾芭蕉の俳句でも有名

最上

川

F 大地が沈んで出来たリアス海岸

三陸

海岸

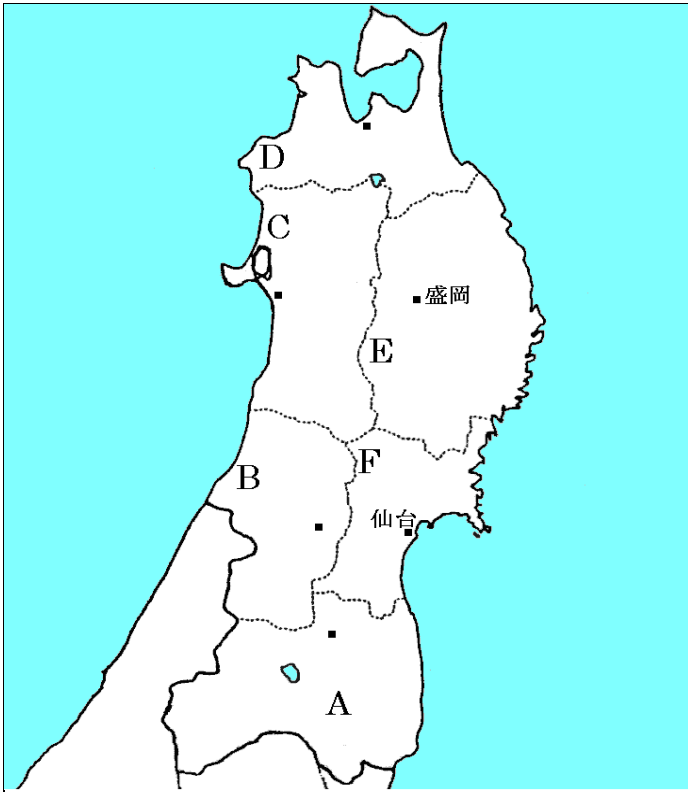
G 夏に吹く北東からの風。冷害をひきおこす

やませ

* 関東地方の冬の風は、「からっ風」

【教科書の重要語句】《一問一答》問題文ごと暗記しよう！

● 主な都道府県の確認



A 東北地方では最も工業が盛ん

.....

B さくらんぼ(おうとう)日本一

.....

C 稲作が盛ん

.....

D リンゴ日本一

.....

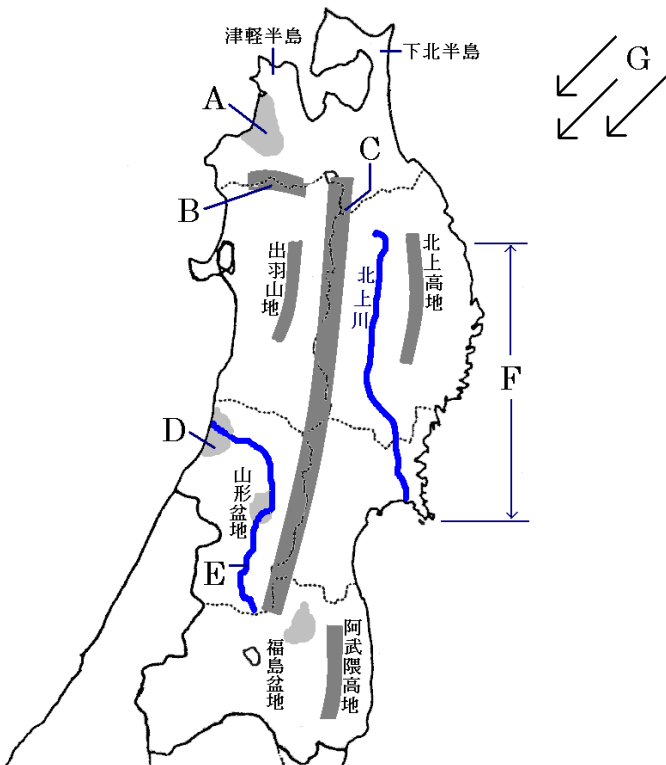
E 面積日本二位

.....

F 東北地方の中心となる県

.....

● 主な地形



A リンゴの栽培が盛ん

..... 平野

B 世界遺産。天然のブナ林

..... 山地

C 日本一長い山脈

..... 山脈

D 稲作が盛んな

..... 平野

E 松尾芭蕉の俳句でも有名

..... 川

F 大地が沈んで出来たリアス海岸

..... 海岸

G 夏に吹く北東からの風。冷害をひきおこす

.....

* 関東地方の冬の風は、「からっ風」

解答 前のページそのまま

東北地方②

【解説】流れ 教科書の重要キーワードをチェックした後、問題へ！



● 東北地方の農業

- 日本の穀倉地帯・・・稲作が盛んで、各地で① 銘柄米(ブランド米) の生産が盛ん
あきたこまち(秋田)、はえぬき(山形)、ひとめぼれ(宮城)、つがるロマン(青森)
- 津軽平野・・・② リンゴ の生産が盛ん *リンゴの生産2位は長野県
- 山形盆地、福島盆地・・・山形盆地では③ おうとう(さくらんぼ)、福島盆地ではももの生産が盛ん
- 北上高地・・・④ 酪農(畜産) が盛ん

● 漁業

- ① 潮目・・・暖流と寒流がぶつかる場所。好漁場
- ② リアス(式)海岸・・・大地が沈んで出来た海岸。湾内は波が穏やかである
- ③ 養殖・・・いけすの中で育てて出荷する漁業。三陸海岸沖ではわかめやこんぶが盛ん

● 工業

- ① 伝統工業・・・地元の木材や鉱産資源で工芸品をつくる産業。岩手の南部鉄器や山形の天童将棋駒
- 高速道路沿い・・・IC 工業や電子機械工業が進出

【教科書の重要語句】《一問一答》問題文ごと暗記しよう！

- ① 東北地方は日本の穀倉地帯で米の中でも_____の生産が盛んである。 ① _____
- ② 津軽平野では_____の生産が盛んだ。 ② _____
- ③ _____山地は天然のブナ林で世界遺産に登録された。 ③ _____
- ④ 山形は_____の栽培がととも盛んで、全国一である。 ④ _____
- ⑤ 暖流と寒流がぶつかるところを_____という。 ⑤ _____
- ⑥ 大地が沈んで出来た海岸をリアス海岸とよび、岩手県の_____が有名である。 ⑥ _____
- ⑦ ⑥の海岸では、わかめや昆布などの_____が盛んにおこなわれている。 ⑦ _____
- ⑧ 東北地方の夏にふく冷たい風を_____という。 ⑧ _____
- ⑨ 東北地方では高速道路の近くに_____工場が建設された。 ⑨ _____
- ⑩ 地元の資源で工芸品を作る工業を_____といい、岩手の南部鉄器などが有名だ。 ⑩ _____

解答

- ① 銘柄米(ブランド米)
② リンゴ
③ 白神
④ おうとう(さくらんぼ)
⑤ 潮目
⑥ 三陸海岸
⑦ 養殖
⑧ やませ
⑨ IC(電子機械)
⑩ 伝統工業