

# 江戸時代②

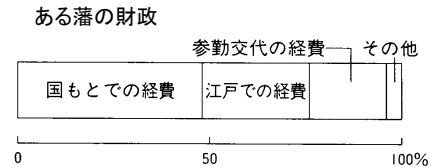

【解説】 歴史流れ 軽くチェックした後、次のページで一問一答に挑戦しよう！

年表で確認

1623年 A 徳川家光 .....3代将軍



1635年 ① 参勤交代 .....大名に1年おきに江戸と領地を交代で住むことを義務付けた



## 鎖国政策

1637年 ② 島原天草一揆 .....九州でおこった一揆

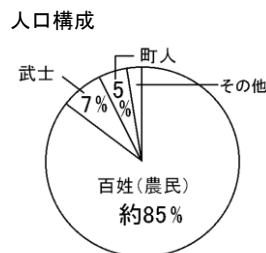
1639年 ③ ポルトガル .....船の来航を禁止.....中国・オランダとだけ貿易。キリスト教の禁止を徹底させる

1641年 ④ 出島 .....長崎の人工島  
平戸から移す



⑤ 朝鮮通信使 .....将軍の代がかわるごとに来日

## 厳しい身分制度



⑥ 五人組 .....年貢の納入や犯罪防止に連帯責任を負わせる

農民の生活心得

- 一、朝は早くおきて草を刈り、昼は田畑を耕し、夜は縄を編み、休むことなく仕事に上げめ。
- 一、麦・あわ・ひえ・菜・大根を作り、米を多く食わぬようにせよ。
- 一、衣類は、麻と木綿に限る。
- 一、年貢さえおさめてしまえば百姓ほど気楽なものはない。

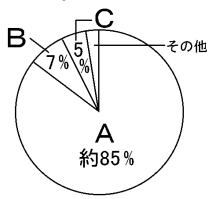
●● 確認問題

A

- ① 江戸幕府の三代将軍は\_\_\_\_\_である。 ① \_\_\_\_\_
- ② 1635年、幕府は\_\_\_\_\_の制度を定め、大名に領地と江戸を往復させた。 ② \_\_\_\_\_
- ③ ②の制度は\_\_\_\_\_の経済力を弱めるのが目的である。 ③ \_\_\_\_\_
- ④ 1637年、長崎の島原地方や熊本の天草地方の人々が\_\_\_\_\_を起こした。 ④ \_\_\_\_\_
- ⑤ 幕府は1624年にはスペイン、1639年には\_\_\_\_\_船の来航を禁止した。 ⑤ \_\_\_\_\_
- ⑥ 鎖国の目的は、幕府の貿易独占と\_\_\_\_\_の禁止である。 ⑥ \_\_\_\_\_
- ⑦ 鎖国の結果、幕府は、A\_\_\_\_\_とB\_\_\_\_\_とだけ貿易をおこなうようになった。 ⑦ A \_\_\_\_\_  
B \_\_\_\_\_
- ⑧ 1641年には平戸の商館を人工の島である\_\_\_\_\_に移した。 ⑧ \_\_\_\_\_
- ⑨ キリスト教信者を見つけるため、毎年正月に\_\_\_\_\_をおこなった。 ⑨ \_\_\_\_\_
- ⑩ 将軍の代が変わるごとに朝鮮から\_\_\_\_\_が来日した。 ⑩ \_\_\_\_\_

B

- ① 農民は\_\_\_\_\_の制度がつくられて、年貢の納入に連帯責任を負わされた。 ① \_\_\_\_\_
- ② 次のグラフは江戸時代末期の身分別人口割合である。  
A～Cには、武士、農民、町人のいずれかが入る。それぞれあてはまる語句を書きなさい。 ② A \_\_\_\_\_  
B \_\_\_\_\_  
C \_\_\_\_\_



記述問題

- ① 幕府が参勤交代をおこなったのはなぜか、簡潔に書きなさい。  
.....
- ② 幕府は農民に対して五人組の制度をつくったり、土地の売買を禁止したのはなぜか、簡潔に書きなさい。  
.....
- ③ 幕府がキリスト教を禁止したのはなぜか、簡潔に書きなさい、  
.....

解答

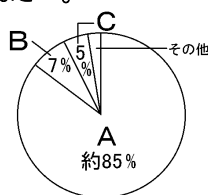
A

- ① 江戸幕府の三代将軍は\_\_\_\_\_である。
- ② 1635年、幕府は\_\_\_\_\_の制度を定め、大名に領地と江戸を往復させた。
- ③ ②の制度は\_\_\_\_\_の経済力を弱めるのが目的である。
- ④ 1637年、長崎の島原地方や熊本の天草地方の人々が\_\_\_\_\_を起こした。
- ⑤ 幕府は1624年にはスペイン、1639年には\_\_\_\_\_船の来航を禁止した。
- ⑥ 鎖国の目的は、幕府の貿易独占と\_\_\_\_\_の禁止である。
- ⑦ 鎖国の結果、幕府は、A\_\_\_\_\_とB\_\_\_\_\_とだけ貿易をおこなうようになった。
- ⑧ 1641年には平戸の商館を人工の島である\_\_\_\_\_に移した。
- ⑨ キリスト教信者を見つけるため、毎年正月に\_\_\_\_\_をおこなった。
- ⑩ 将軍の代が変わるごとに朝鮮から\_\_\_\_\_が来日した。

- ① 徳川家光
- ② 参勤交代
- ③ 大名
- ④ 島原・天草一揆
- ⑤ ポルトガル
- ⑥ キリスト教
- ⑦ A オランダ(中国)  
B 中国(オランダ)
- ⑧ 出島
- ⑨ 絵踏
- ⑩ 朝鮮通信使

B

- ① 農民は\_\_\_\_\_の制度がつくられて、年貢の納入に連帯責任を負わされた。
- ② 次のグラフは江戸時代末期の身分別人口割合である。  
A～Cには、武士、農民、町人のいずれかが入る。それぞれあてはまる語句を書きなさい。



- ① 五人組
- ② A 農民  
B 武士  
C 町人

記述問題

- ① 幕府が参勤交代をおこなったのはなぜか、簡潔に書きなさい。  
大名の経済力を弱め、幕府に逆らえないようにするため。
- ② 幕府は農民に対して五人組の制度をつくったり、土地の売買を禁止したのはなぜか、簡潔に書きなさい。  
幕府の財政は農民の納める年貢に頼っていたから。
- ③ 幕府がキリスト教を禁止したのはなぜか、簡潔に書きなさい、  
キリスト教信者が結びついて、幕府に反抗するのを恐れたため。