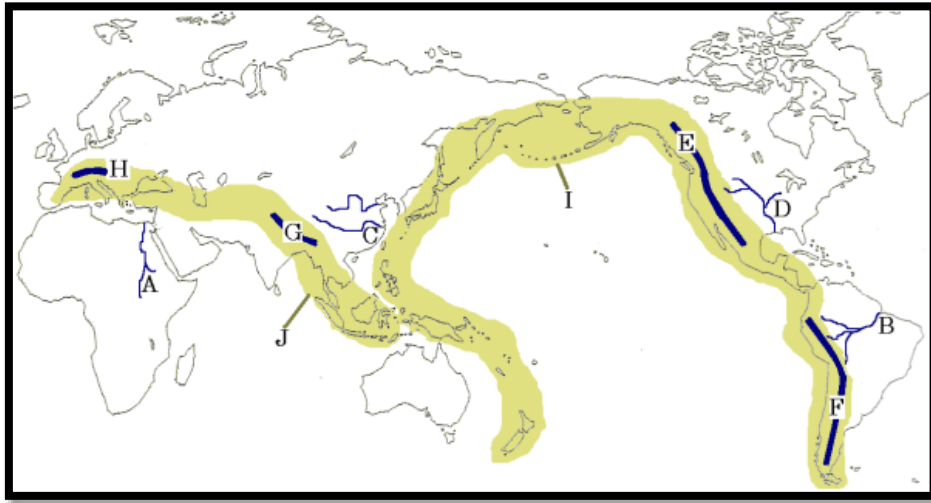


造山帯、世界の山脈、日本の川の特徴

【解説】流れ 教科書の重要キーワードをチェックした後、下の問題へ！

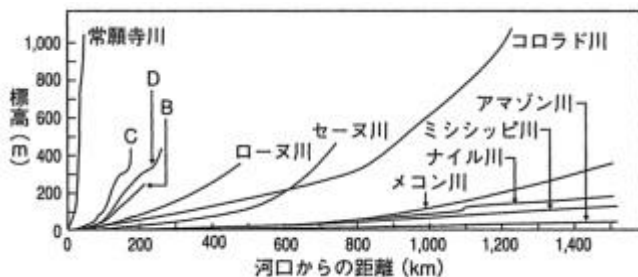
● 世界の主な地形



- | | | |
|----------------------|--------------------------|-------------------|
| A 世界一長い河川
ナイル川 | B 世界二位。流域面積は最大
アマゾン川 | C 中国を流れる長い川
長江 |
| D 世界四位の河川
ミシシッピ川 | E 山脈名
ロッキー山脈 | F 山脈名
アンデス山脈 |
| G 世界最高峰の山脈
ヒマラヤ山脈 | H ヨーロッパを代表する山脈
アルプス山脈 | |
| I 造山帯
環太平洋造山帯 | J 造山帯
アルプス・ヒマラヤ造山帯 | |

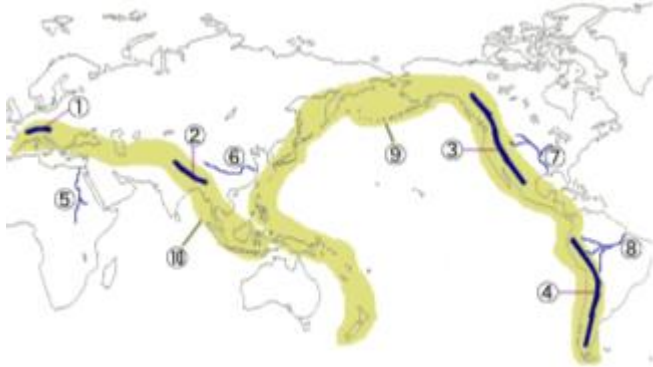
● 日本の国土の特徴

- ① 環太平洋造山帯 に位置する……地震や火山活動が活発である
- 国土の4分の3が、② 山地 や丘陵地。残りが平地
- 日本の河川の特徴……世界の河川と比べて、③ 距離が短く、流れが急 である



【教科書の重要語句】《一問一答》問題文ごと暗記しよう！

次の①～④の山脈名、⑤～⑧の河川名、⑨⑩の造山帯を書きなさい。

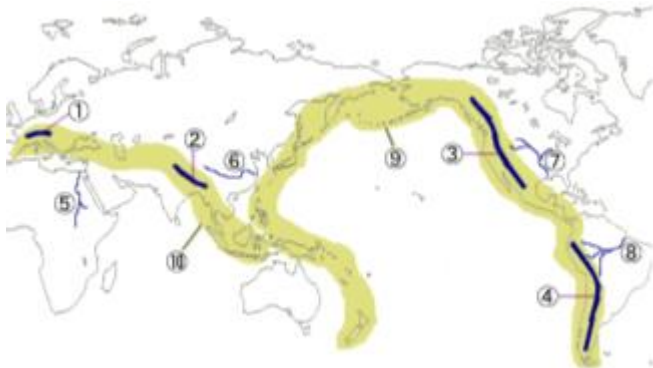


- | | |
|---------|---------|
| ① _____ | ② _____ |
| ③ _____ | ④ _____ |
| ⑤ _____ | ⑥ _____ |
| ⑦ _____ | ⑧ _____ |
| ⑨ _____ | ⑩ _____ |

- | | |
|-----------------------------------|---------|
| ① 日本は_____造山帯に位置している。 | ① _____ |
| ② 日本は①に位置しているため、火山や_____活動が活発である。 | ② _____ |
| ③ 日本の国土の4分の_____が山地や丘陵地である。 | ③ _____ |
| ④ 日本の河川は外国の河川と比較して、長さが_____。 | ④ _____ |
| ⑤ 日本の河川は外国の河川と比較して、流れが_____である。 | ⑤ _____ |

【解答】

次の①～④の山脈名、⑤～⑧の河川名、⑨⑩の造山帯を書きなさい。



- | | |
|------------------|----------------------|
| ① <u>アルプス山脈</u> | ② <u>ヒマヤ山脈</u> |
| ③ <u>ロッキー山脈</u> | ④ <u>アンデス山脈</u> |
| ⑤ <u>ナイル川</u> | ⑥ <u>長江</u> |
| ⑦ <u>ミシシッピ川</u> | ⑧ <u>アマゾン川</u> |
| ⑨ <u>環太平洋造山帯</u> | ⑩ <u>アルプス・ヒマヤ造山帯</u> |

- | | |
|-----------------------------------|---------------|
| ① 日本は_____造山帯に位置している。 | ① <u>環太平洋</u> |
| ② 日本は①に位置しているため、火山や_____活動が活発である。 | ② <u>地震</u> |
| ③ 日本の国土の4分の_____が山地や丘陵地である。 | ③ <u>3</u> |
| ④ 日本の河川は外国の河川と比較して、長さが_____。 | ④ <u>短い</u> |
| ⑤ 日本の河川は外国の河川と比較して、流れが_____である。 | ⑤ <u>急</u> |