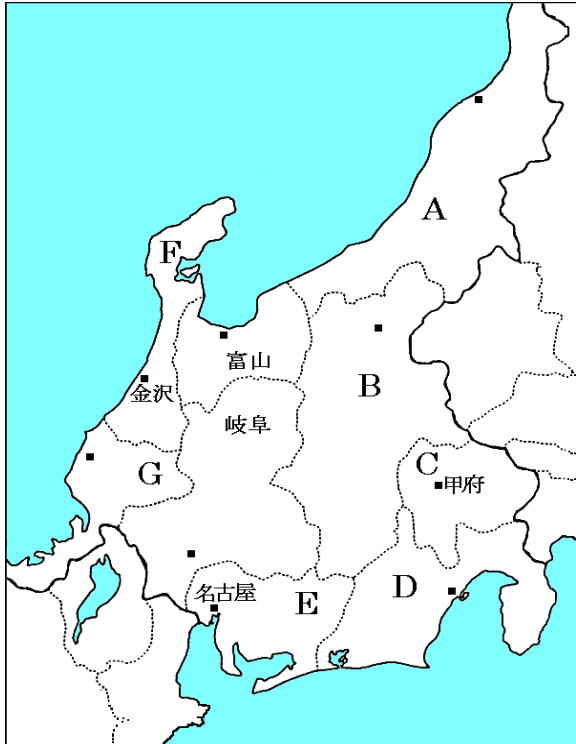


中部地方

【解説】流れ 教科書の重要キーワードをチェックした後、問題へ！

● 県名の確認



A 稲作が盛ん。ロシア・韓国・中国など日本海を囲む国との結びつきが強くなる

新潟県

B 高冷地農業が盛ん。果樹の生産も多い

長野県

C ぶどう・ももの生産が全国1位

山梨県

D お茶の栽培がさかん。工業も発達

静岡県

E 中部地方の中心県。工業が非常に発達

愛知県

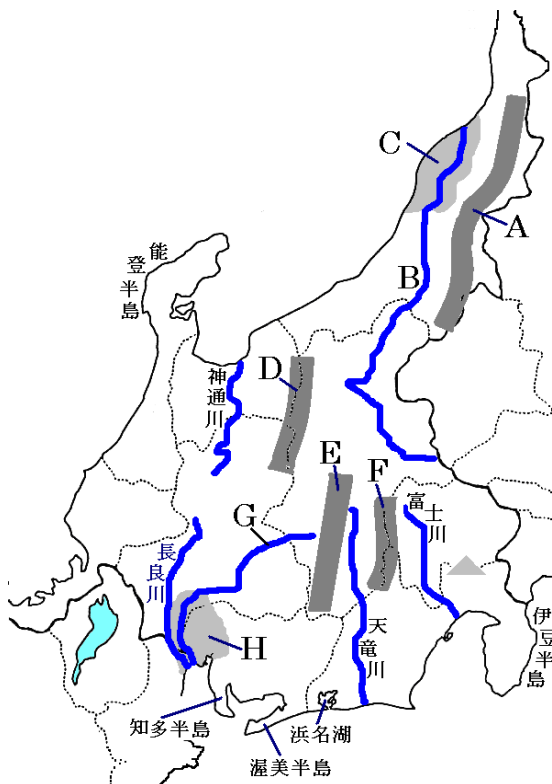
F 冬の降水量が多い

石川県

G 原子力発電所がたくさんある

福井県

● 主な地形



A 新潟県の旧国名をとった山脈

越後

山脈

B 日本一長い河川

信濃

川

C 新潟県の旧国名をとった平野。稲作がさかん

越後

平野

D 日本アルプスの1つ。北アルプス

飛騨

山脈

E 日本アルプスの1つ。中央アルプス

木曾

山脈

F 日本アルプスの1つ。南アルプス

赤石

山脈

G 下流で輪中が見られる

木曾

川

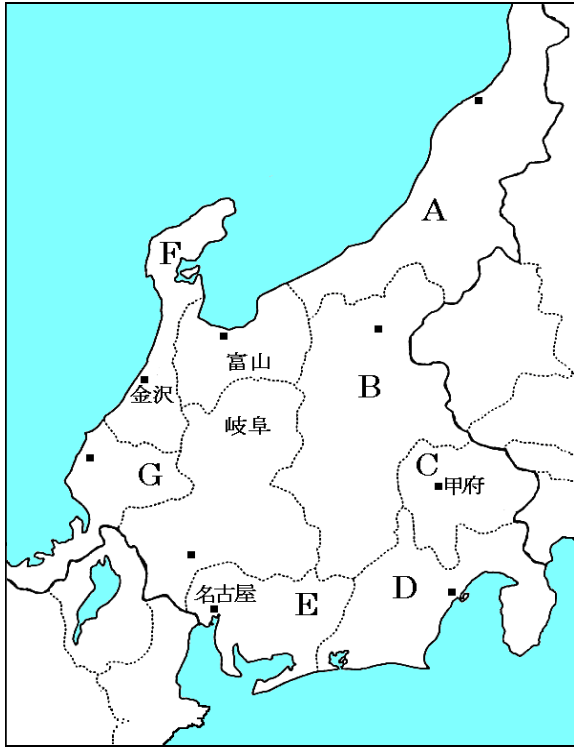
H 愛知と岐阜をまたぐ平野

濃尾

平野

【教科書の重要語句】《一問一答》問題文ごと暗記しよう！

● 県名の確認



A 稲作が盛ん。ロシア・韓国・中国など日本海を囲む国との結びつきが強くなる

.....

B 高冷地農業が盛ん。果樹の生産も多い

.....

C ぶどう・ももの生産が全国1位

.....

D お茶の栽培がさかん。工業も発達

.....

E 中部地方の中心県。工業が非常に発達

.....

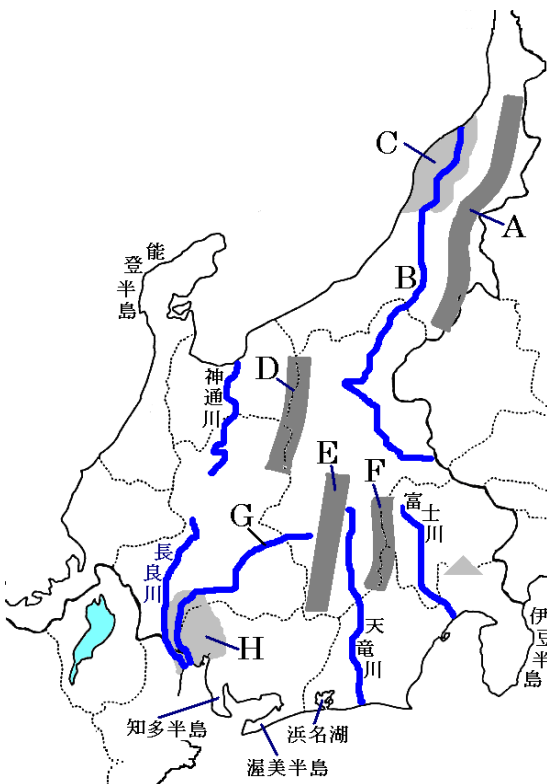
F 冬の降水量が多い

.....

G 原子力発電所がたくさんある

.....

● 主な地形



A 新潟県の旧国名をとった山脈

山脈

.....

B 日本一長い河川

川

.....

C 新潟県の旧国名をとった平野。稲作がさかん

平野

.....

D 日本アルプスの1つ。北アルプス

山脈

.....

E 日本アルプスの1つ。中央アルプス

山脈

.....

F 日本アルプスの1つ。南アルプス

山脈

.....

G 下流で輪中が見られる

川

.....

H 愛知と岐阜をまたぐ平野

平野

.....

解答 前のページそのまま

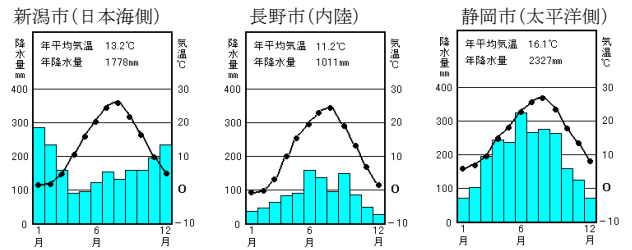
中部地方②

【解説】流れ 教科書の重要キーワードをチェックした後、問題へ！



● 3つの気候

新潟市と長野市と静岡市を比較しよう



● 中部地方の農業

- ・長野の高冷地・・・夏でも涼しい気候をいかし、① レタス やキャベツを生産
- ・長野や山梨の盆地・・・長野は② リンゴ が日本で2位、山梨はもと③ ぶどう が全国1位
- ・静岡・・・温暖な気候をいかし、台地でみかんや④ 茶 の生産が盛ん
- ・新潟・富山などの北陸・・・平野部で⑤ 稲 の生産が盛ん。日本を代表する栽培地域
- ・愛知・・・知多半島や渥美半島は河川がなく水不足だった。それぞれ愛知用水・豊川用水を引き、花やメロンなどを栽培 (施設園芸農業)

● 中部地方の工業

- ・① 中京 工業地帯・・・愛知県中心の工業地帯。豊田市の自動車をはじめとして工業が発達
- ・② 東海 工業地域・・・静岡県中心の工業地域。木材・パルプや楽器などが盛ん
- ・③ 北陸 工業地域・・・新潟・富山・石川・福井などの雪国の工業地域。伝統工業が盛ん

【教科書の重要語句】《一問一答》問題文ごと暗記しよう！

- | | |
|--|----------|
| ① 中部地方で、ロシアや韓国・中国などと最もつながりが深いのは_____県である。 | ① 新潟 |
| ② 長野県の高冷地では夏でも涼しい気候をいかし、_____やキャベツを生産 | ② レタス |
| ③ 山梨県はもともと_____の生産が全国1位である。 | ③ ぶどう |
| ④ 静岡県は温暖な気候をいかし台地でみかんや_____の生産が盛んである。 | ④ 茶 |
| ⑤ 新潟・富山などの平野部では_____の生産が盛んである。 | ⑤ 稲 |
| ⑥ 愛知県中心の工業地帯を_____工業地帯といい、豊田市の自動車工業が有名である。 | ⑥ 中京 |
| ⑦ 静岡県中心の工業地域を_____工業地域といい、木材・パルプや楽器などが盛んである。 | ⑦ 東海 |
| ⑧ 新潟・富山・石川・福井などの雪国の工業地域を_____工業地域という。 | ⑧ 北陸 |
| ⑨ ⑦の地方は冬に農業が出来ないので、_____工業が盛んである。 | ⑨ 伝統 |
| ⑩ 飛騨・木曾・赤石山脈は_____とよばれている。 | ⑩ 日本アルプス |
| ⑪ 日本で一番長い河川は_____だ。 | ⑪ 信濃川 |
| ⑫ 中部地方の日本海側は_____の降水量がとても多い。 | ⑫ 冬 |
| ⑬ 長野県の平野部は山地に囲まれているため年間を通して降水量が_____。 | ⑬ 少ない |

★中部地方は、上から順に、さらに3つの地域に分かれる。それが、地方、高地、地方と呼ばれる。

解答

- | |
|----------|
| ① 新潟 |
| ② レタス |
| ③ ぶどう |
| ④ 茶 |
| ⑤ 稲 |
| ⑥ 中京 |
| ⑦ 東海 |
| ⑧ 北陸 |
| ⑨ 伝統 |
| ⑩ 日本アルプス |
| ⑪ 信濃川 |
| ⑫ 冬 |
| ⑬ 少ない |

中部地方は、上から順に、さらに3つの地域に分かれる。それが、北陸地方、中央高地、東海地方と呼ばれる。