

# 第2学年社会科 1学期中間テスト

1 資料を見て、次の問いに答えなさい。 資料1

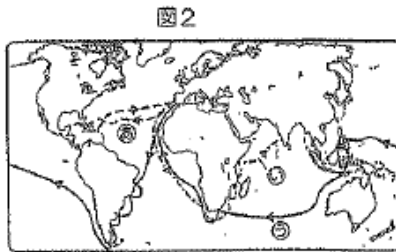
(1) 資料1の日本にキリスト教を伝えた人物は誰か。



(2) 日本にキリスト教が伝わった背景について答えなさい。

① ヨーロッパでカトリック教会への批判と立てなおしの動きがあった。この動きを何というか。

② カトリック教会は建て直すために宣教師を海外に送り布教した。この組織を何というか。

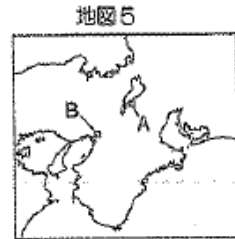
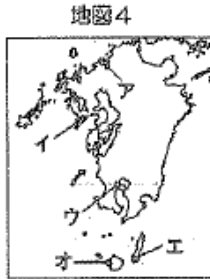


資料3



(3) (1)の人物が来日できたのは、ヨーロッパ人が新航路の開拓をおこなったためである。地図2のどの航路を開拓した人物は誰か。

(4) 資料3のものを伝えたポルトガル人の船は、1543年に日本の何という島に漂着したか。島名とその島の位置を地図4から選びなさい。



(5) 資料3を伝えたポルトガル人などを、当時、日本人々は何とよんだか。

(6) 地図5のAには織田信長の、Bには豊臣秀吉の本拠となる城が築かれた。それぞれ何の城を指しているか。

(7) 織田信長について答えなさい。

① 資料6は、織田信長が畠山氏を破った戦いのようすである。次の問いに答えなさい。

あ この戦いを何というか。

い 信長軍は、X・Yのどちらか。また、それを選んだ理由を述べなさい。

② 信長が地図5のAの城下で、市場の税を免除し、商工業の発展を図った政策を何というか。

③ 信長は、将軍を京都から追放し、室町幕府を滅ぼした。追放された人物は誰か。

④ 信長にそむき、本能寺で自害させた人物は誰か。

(8) 豊臣秀吉について答えなさい。

① 資料7の命令を何というか。

② 資料7を正しく読みとっているものをア～エから選びなさい。


ア 武士に武器をもつことを禁止している。

イ 百姓に武器をもち自分のみを自分で守るよう命令している。

ウ 百姓が武士に対して一揆をおこさないようにするためにだされた。

エ 武士が百姓に対して乱暴しないようにだされた。

資料6



資料7

I 諸國の百姓が、刀、脇ざし、弓、やり、鉄砲その他武器などをもつことをかたく禁止する。必要のない道具をたくわえて年貢などを出しつくり、ついに一揆をくだして、武士に対してよくないことをするからである。…大名・武士・代官らは、百姓の武器を束めてさし出すようにしなさい。 (『小早川家文書』)

(9) 資料8のように豊臣秀吉が全国の田畑の広さや土地のよしあしを調べさせた政策を何というか。

(10) (9)の政策について、全国の土地の収穫量を表す統一された基準を何というか。


(11) (8)の政策の結果を、「武士」「百姓」の語句を使って述べなさい。

(12) 安土桃山時代の文化について答えなさい。

① ふすまや屏風に資料9どの作品をえがいた人物は誰か。

② 質素なわび茶の作法を大成した人物は誰か。

資料8



資料9



2 年表を見て、問いに答えなさい。

年	A
あ	関ヶ原の戦いがおこる
い	徳川家康が征夷大将軍となる
う	幕領に禁教令をしき 幕状を発行する 家康、海外渡航を許可する
え	大坂の陣がおこる 日本人の海外渡航・帰国が禁止される
お	鎖国が完成する 九州で農民の反乱がおこる

(1) 年表あに関ヶ原の戦いに敗れた西軍の人物は誰か。

(2) 年表のAの年号を答えなさい。

(3) 資料2のXにあてはまる語句を答えなさい。また、外様大名はおもにどのようなところに配置されたか、述べなさい。

(4) 資料3を見て答えなさい。

① これは江戸幕府が定めた大名が守るべき法律である。これを何というか。

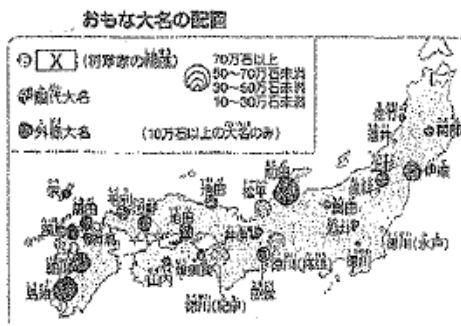
- ② 法律中の下線部の制度を何というか。  
また、この制度について、「領地」「往復」という語句を用いて説明しなさい。
- ③ ②で答えたこの制度を定めた人物は誰か。

- (5) 江戸幕府が農民に対し、犯罪の防止や年貢の納入に共同責任をおわせるためにつくった制度を何というか。
- (6) 年表の徳川家康が海外への渡航を許可した船に発行した資料4の書状を何というか。
- (7) 年表の幕府のキリスト教迫害をうけ1637年に地図5のXでおこった農民の反乱を何というか。
- (8) (7)で答えた反乱後、来航を禁止された国はどこか。
- (9) 年表の出島で、貿易が許されたヨーロッパの国を何というか。
- (10) 江戸幕府が鎖国をおこなった理由としてあてはまらないものを次のア～エから1つ選びなさい。

- ア キリスト教徒が団結して、幕府政治に反対する勢力になるのをおそれたから
- イ キリスト教を信仰する国によって、日本の領土が奪われることをおそれたから
- ウ 輸出より輸入が増加して、貿易による利益が得られなくなったから
- エ 西国の大名が、貿易によって経済力を強めることをおそれたから

- (11) 將軍の代わりごとに朝鮮から日本に派遣された使節を何というか。
- (12) 江戸時代につくられた資料6のア・イの履物を何というか。

資料2



資料3

- 一 領地の領は、修理する場合であっても、必ず幕府にも申し出ること。まして新しい城をつくることは厳しく禁止する。
- 一 幕府の許可なしに、婚姻を結んではならない。
- 一 領国の大名は、領地と「      」とを交代で住むこと。毎年2回には参勤すること。

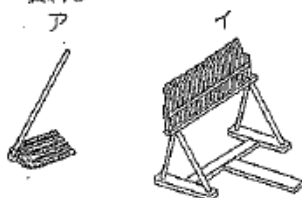
資料4



地図5



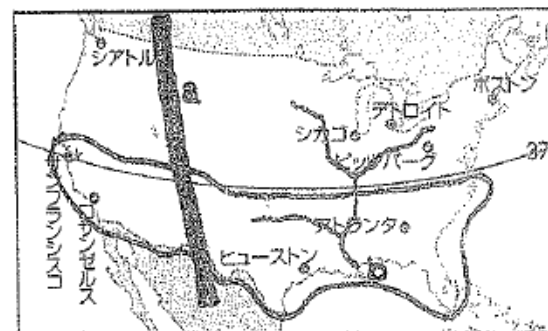
資料6



3 地図を見て答えなさい。

- (1) 地図1のaの山脈とbの河川の名称を答えなさい。
- (2) 次の文を読んで答えなさい。  
アメリカには、もともとA先住民が住んでいたが、Bヨーロッパからの移民によって、新しい国がつけられた。開発が進むと労働力が不足し、( )の人々が奴隷として連れてこられた。その後、Cアジアの人々も

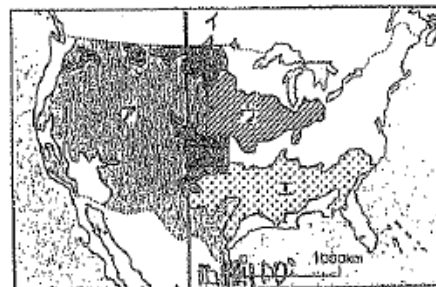
地図1



移住してきた。最近では、Dメキシコや西インド諸島から移住してきたスペイン語を話す人々も増えてきた。

- ① 文中の下線部Dにあてはまる民族を何というか。
- ② 文中の( )にあてはまる大陸名を答えなさい。
- (3) 地図1の都市のなかから、次の工業のさかんな都市をそれぞれ答えなさい。  
ア 自動車 イ 鉄鋼業  
ウ 石油化学 エ 航空機
- (4) 地図1の北緯37度より南に位置するEで知られた地域は、コンピューターなどのハイテク産業や情報技術産業が発達している。この地域を何というか。
- (5) 地図2を見て、小麦と棉花の栽培地域はどこか。ア～エから選びなさい。
- (6) 資料3は、農業について日本とアメリカを比べたものである。日本とアメリカの農業従事者1人あたりの農地面積はそれぞれ何ヘクタールか。小数第1位を四捨五入して整数で答えなさい。

地図2



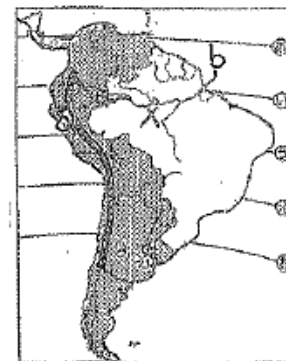
資料3

	農業従事者 (万人) 2008年	農地面積 (万ha) 2008年	農用トラクター 保有台数(万台) 2007年
アメリカ	267	41,120	439
日本	163	463	188

※資料3は農林水産省の資料をもとに作成されたものである。

4 地図を見て答えなさい。

- (1) 地図のaの山脈とbの河川の名称を答えなさい。
- (2) 赤道にあたる緯線を地図のあ～おから選びなさい。
- (3) 地図のEの国々の公用語を答えなさい。



# 第2年社会科 1学期中間テスト

2年 組 No. 氏名

1	(1)	フランス	バビロン
	(2)	①	宗教改革
		②	イノベ
	(3)		バス
	(4)		種子島 記号 工
	(5)		南蛮人
	(6)	A	宇土城 B 大阪城
	(7)	あ	長祿の戦い
		い	記号 X 鉄砲を使 用してはたかっているから
		②	幕府 幕臣
		③	足利 素船
		④	明智 光秀
	(8)	①	刀狩令
		②	ウ
	(9)		太閤検地
	(10)		石高
	(11)		武士と百姓の身分の差が広が りやすくなった
		(12)	① 狩野 永徳 狩野 山楽 ② 千利休

38点

2	(1)		石田 三成
	(2)		1603 年
	(3)	X	親藩
		配置	江戸と大阪などの重要地 から遠くはなれた場所
	(4)	①	武家諸法度 制度 参勤交代
		②	領地と江戸とを1年ごとに 往復する
		③	徳川 家光
	(5)		五組
	(6)		朱印状
	(7)		島原 一揆
	(8)		本陣
	(9)		行状記
	(10)		ウ
	(11)		朝鮮通信使
	(12)	A	備前守
		I	千利休

34点

3	(1)	a	アンデス 山脈
		b	ミシシッピ 川
	(2)	①	ヒスパニア
		②	イリノイ
	(3)		アサトイ
	(4)		カンパル
	(5)		小麦 イ 綿花 工
	(6)		日本 155 150万ヘクタール
			アメリカ 3 22万ヘクタール
			20点
4	(1)	a	アンデス 山脈
		b	ミシシッピ 川
	(2)		①
(3)			スペイン語

8点