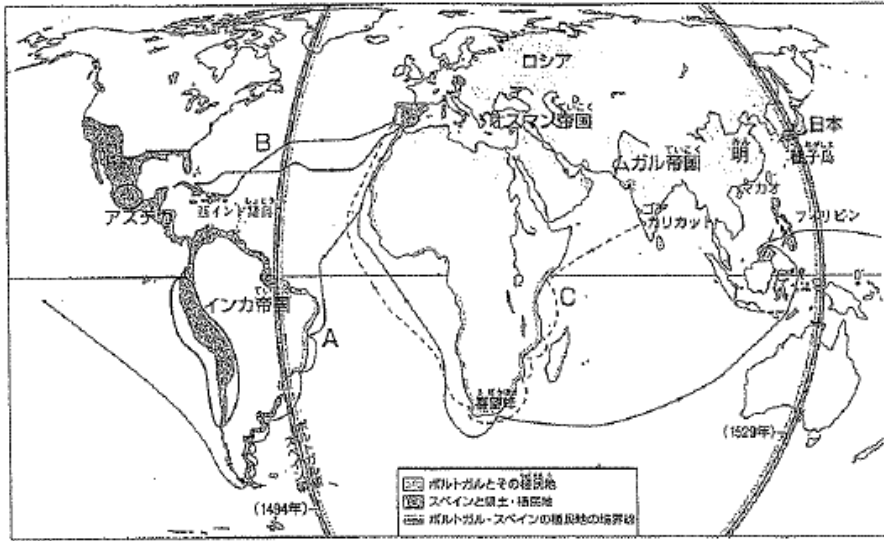


I ひろひこさん(以下ひ)、ともこさん(以下と)は、「なぜ、ヨーロッパ人が世界に進出したのか」について、次の地図を見ながら自分たちの意見をまとめました。これについて各問に答えなさい。



ひ：わたしは、ヨーロッパ人たちは、キリスト教を伝えるために進出したと思います。特にローマにある()教会では、周辺のイスラム勢力の広がりや、プロテスタントの増加に危機感があったと思います。()の多いスペインやポルトガル、そして教会の人たちは、自分たちの教えを海外に広げようと考えたのではないのでしょうか。

と：わたしは、ヨーロッパ人は商売をするために海外に進出したのだと思います。アジアで豊富にとれるこしょうなどの香辛料が、イスラム勢力の商人の手をへてヨーロッパの商人の手に渡り売られるときには、とても高い値段になってしまいます。だから、大きな利益が得られるからです。

- (1)文中の()にあてはまる語句を書きなさい。
- (2)文中の「周辺のイスラム勢力」にあたる国を、地図中から一つ選び、書きなさい。
- (3)文中の の部分にはいる文を書きなさい。

II 次のA~Dの各文、E・Fの資料を見て、各問に答えなさい。

- | | |
|---|--|
| A | スペインは、ポルトガルに対抗して、大西洋を西回りでアジアに行く航路を開こうとしました。そして、大西洋を横断してカリブ海の島に達しました。 |
| B | ドイツで、キリスト教会の腐敗をただそうとする宗教家によって宗教改革がはじまりました。 |
| C | 種子島に漂着した中蘭船に乗っていた()人が、鉄砲を伝えました。 |
| D | イエズス会の宣教師がキリスト教を伝えるために、はじめて日本に来ました。 |



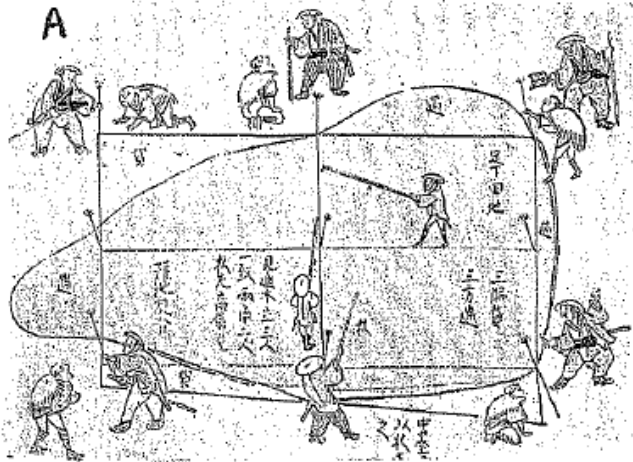
- (1)Cの()にあてはまる語句を書きなさい。
- (2)A、B、Dの各文とE・Fの資料に関係する人物を、次の①~⑧から一人ずつ選び、数字を書きなさい。
 ① フランシスコ・ザビエル ② ルター ③ コロンブス ④ マゼラン
 ⑤ レオナルド・ダ・ビンチ ⑥ ミケランジェロ ⑦ カルバン ⑧ バスコ・ダ・ガマ
- (3)A~Dを古い順に左から書きなさい。

III 下のア～カのことからは、次のA、B、Cの人物の政策に関係するものです。それぞれの人物に関係するものを選び、記号を書きなさい。



- ア 安土城を築き、城下で楽市・楽座の政策を行った。
- イ 日本は「神國」であるとして、キリスト教の宣教師の国外追放を命じた。
- ウ 関ヶ原の戦いに勝利し、全国支配の実権をにぎった。
- エ 明の征服をめざして、諸大名に命じ15万人の大軍を朝鮮に派遣した。
- オ 遺言により遺体を日光に葬り、東照大権現として神格化した。
- カ 比叡山延暦寺や一向一揆などの仏教勢力に強い態度でのぞみ、屈服させた。

IV 次の豊臣秀吉に関する資料A、Bを見て、各問に答えなさい。



B

刀狩令(部分要約)
 諸國の百姓が刀やわきざし、弓、やり、鉄砲、そのほかの武具などを持つことは、かたく禁止する。 unnecessary 武具をたくわえ、年貢その他の税をなかなか納入せず、ついには一揆をくわだてたりして、領主に対してよからぬ行為をする者は、もちろん処罰する。

- (1) 資料Aは田畑の広さや土地のよしあしを調べている図です。資料Bは1588年に出された法令です。豊臣秀吉のおこなったそれぞれの政策の名を書きなさい。また、1588年は何世紀になるか、数字を書きなさい。
- (2) 資料Aの政策、資料Bの政策によって社会はどのように変化しましたか。「武士」、「農民」という語句を使い、書きなさい。

V はるみさん(以下は)、ひろあきさん(以下ひ)、よしえさん(以下よ)、えみさん(以下え)の遊では、江戸幕府が他の武士の政権に比べ、長く続いた理由について話し合いました。次の会話を読み、各問に答えなさい。


は: 江戸幕府は(①)年間も続いた理由を発表してください。

ひ: ぼくは江戸幕府が長続きした理由は大名が幕府に対して反抗できないようにしたことだと思います。幕府は武家諸法度という法令を定め大名に守らせました。その中には A大名が1年おきに江戸と領地を往復する制度 もありました。


よ: 私は身分制度について調べました。おもな身分は武士と百姓・町人に大きく分かれていました。百姓は全人口の約(②)%をしめていました。幕府や藩は村の自治にたよって重い年貢を取り立て、財政をまかないました。(③)の制度をつくり、犯罪の防止や年貢の納入に連帯責任を負わせました。また、百姓・町人とは別に 及ばぬ身分、ひにん身分などの人もいました。

え: ぼくは鎖国について調べました。 C徳川家康は貿易の発展に努めました。しかし、その後、1624年スペイン船の来航禁止、1635年日本人の海外渡航・帰国を禁止、1639年ポルトガル船来航禁止など貿易を制限しました。そして1641年には中国船と(④)船が長崎に限って貿易を許されることになりました。このように鎖国を行う理由として(⑤)教を禁止することがあります。(⑤)教の信者を発見するために絵図を行い、宗門改めによって仏教の信者であることを寺に証明させました。

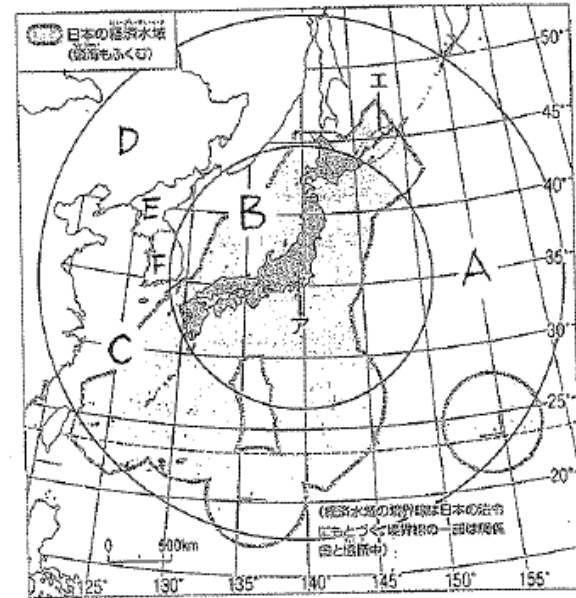
- (1) 文中の(①)にあてはまる数字を書きなさい。江戸幕府が滅亡したのは1867年です。
- (2) 文中の(②)にあてはまる数字を次のア～エから一つ選び、記号を書きなさい。
ア 45 イ 65 ウ 75 エ 85
- (3) 文中の(③)にあてはまる語句を書きなさい。
- (4) 文中の(④)にあてはまる國の名をかきなさい。この國の商館は出島に置かれました。
- (5) 文中の(⑤)にあてはまる語句を書きなさい。
- (6) 文中のA は どうして大名が幕府に反抗できないことになるのか、その理由を二つ、書きなさい。
- (7) 次の資料の船は、文中のC の 時代に東南アジアとの國々との貿易に活躍した船です。この船を歴史的に何という書きなさい。



VI 次の①～⑥の位置を、地図中のア～シから選び、記号を書きなさい。
 ①長崎 ②種子島 ③安土城 ④江戸 ⑤姫路城 ⑥関ヶ原



VII 次の地図を見て、各問に答えなさい。



- (1) 地図中のA、B、Cの海洋の名を書きなさい。
- (2) 地図中のD、E、Fの国の名を書きなさい。
- (3) 地図中のアの島の名を書きなさい。
- (4) 地図中の二つの円は、東京を中心に引いたものです。内側の円の東京からの距離を、次のア～エから選び、記号を書きなさい。
 ア 500 km イ 1000 km ウ 1500 km エ 2000 km
- (5) 経済水域 は、沿岸から何海里以内の範囲ですか。
 また、その範囲に対して、世界の国々はどんな権利を認め合っていますか。
- (6) 次の文は、地図中のエの地域について述べたものです。文中の()にあてはまる国の名を書きなさい。

日本固有の領土ですが、現在日本人は住んでいません。第二次世界大戦後にソ連に占領され、ソ連が解体された後も、()に引き続き占拠されているからです。

I

(1) カトリック (2) オスマン帝国

イスラム勢力の商人の手を経ないで、

(3) 直接アジアからこしゅうなどの香辛料を手にいれ、ヨーロッパで売れば

II

(1) ポルトガル (2) A 3 B 2 D 1 E 5 F 6 (3) A → B → C → D

III

A ア カ B イ エ C ウ オ

IV

(1)A	検地	B	刀狩	16	世紀
------	----	---	----	----	----

(2) 「武士」と「農民」の身分の差がはつきりした。
(近世の社会のしくみが固まり、社会は安定した)

V

(1) 2 6 4 (2) エ (3) 五人組 (4) オランダ (5) キリスト

(6) 江戸での生活や大名行列により、金を使わせ経済力をそぐ。
大名の妻子は江戸屋敷に住まわせることにより、人質の役割 (7) 朱印船をはたす。

VI

① サ ② コ ③ ク ④ キ ⑤ オ ⑥ ウ

VII

(1)A 太平洋 B 日本海 C 東シナ海 (2)D 中華人民共和国

朝鮮民主主義

E 人民共和国 F 大韓民国 (3) 本州 (4) イ (5) 200 里

経済水域内の資源(水産資源・鉱産資源)は
沿岸国が管理できる(沿岸国のものとなる)

(6) ロシア連邦

VIII

(1) 日付変更線 (2) 日 曜 午後 7 時

(3) 日本は、ブラジルから見て、地球のほぼ反対側にある