

2年社会科1学期中間テスト問題

1 次の文を読んで各問いに答えなさい。

1333年に鎌倉幕府がほろんだ後、①天皇は天皇中心の新しい政治(②)を始めたが、武家の政治を否定し、公家重視の政策を続けたため、(③)により、わずか2年ほどで失敗に終わった。

その後、朝廷は南と北の二つに分かれ、たがいに争った。動乱の続いた約60年を(④)時代という。こうしたなか、室町幕府から強い権限を与えられた守護は、その地位を利用して勢力を大きく伸ばし、のちに(⑤)へと成長した。

(③)の孫である三代将軍(⑥)は、当時の中国と⑦貿易をすすめ、その利益を幕府の財源や文化の振興にあてた。

室町時代には農業でさまざまな改良・工夫がおこなわれ、農作物の生産量が大きく増えた。加工するための手工業も発達し、その後、さまざまな産業が発展した。しかし商人や手工業者は、⑧同業者ごとに、貴族や寺社の保護を受けて営業を独占し、利益をあげるための組合をつくり、商工業の自由な発展をさまたげた。

農村では、力をつけてきた農民たちが有力な農民を中心にまとまり、(⑨)とよばれる自治組織をつくって団結を固めた。こうした農民たちは、荘園領主などの支配者にも⑩抵抗するようになる。

1467年、将軍義政のときに起こった応仁の乱が11年にわたって続き、京都の町は戦火に荒れ、幕府の権威はうしなわれた。

こうしたこのち、⑪実力のある者が、力を伸ばして上の身分の者に打ち勝つ風潮が広がり、各地で戦いがくり返される混乱した(⑫)時代が続く。

問1 文中の(②)(③)(④)(⑤)(⑥)(⑨)(⑫)に、それぞれ適切な語句や人名を入れなさい。

問2 ①の天皇はだれですか。人名を書きなさい。

問3 ⑦の貿易をなんといいますか。


問4 右の図は、⑦の貿易に使われた証明書です。なぜこのような証明書が必要だったのか、わかりやすく説明しなさい。

問5 同業者ごとにつくられた⑧の組合をなんといいますか。

問6 ⑩抵抗について。農民たちが中心になり、借金の帳消しなどを求めて起こした抵抗運動をなんといいますか。



問7 ⑩抵抗について。右の写真は、信仰で結びついた武士や農民たちが起こした一揆で使われたものです。こうした一揆を何と書きなさい。



問8 ⑪の風潮をなんといいますか。

2 次の資料を参考にして、各問に答えなさい。

資料①




資料②



資料③



資料④



資料⑤



資料⑥



問1 世界遺産にも登録されている室町文化を代表する建築物である資料①はなんですか。

問2 資料①を建てた、3代将軍である資料②の人物はだれですか。

問3 室町時代には、生産量が増えた農産物などが人の集まる場所へ運ばれて売り買いされた。こうした場所には人々が大ぜい住むようになり、やがて都市へと成長していった。さまざまなものが売り買いされたこうした場所をなんといいますか。

問4 生産されたさまざまなものが運送業者によって各地に運ばれ、さらに産業が活発になっていった。経済発展のきっかけにもなり、陸上の輸送をおこなった資料③の運送業者をなんといいますか。

問5 運送業者とならび経済の発展を支えたのは、必要な人にお金を貸してくれる金融業者です。当時の金融業者を一つ書きなさい。

問6 各地で都市が大きく発展し、裕福な商工業者たちによって町の自治が行われた。町の自治活動を行った有力な商工業者を何というか書きなさい。

問7 資料④は、銀閣の中にある「東求堂同仁斎」とよばれる建物です。この建物は、今の私たちの住居の原型といわれています。この建築様式をなんというか書きなさい。

問8 資料⑤は、室町時代に観阿弥・世阿弥親子によって大成され、現在まで伝えられている芸能です。この芸能名を書きなさい。

問9 資料⑥は、墨一色だけで自然などを描いた絵画です。現在、床の間のなどに掛け軸として飾られることも多い水墨画を大成した人物はだれですか。人名を書きなさい。

③ 次の会話文を読み、各問に答えなさい。

時は16世紀の中ごろ。ヨーロッパのある街角で男たちが立ち話をしています。

Aさん： みなさん、久しぶりですね。何かおもしろいことでもありましたか？

Bさん： ありましたとも。わたしはこの前、アフリカの南、喜望峯を回って、インドへの航路を発見しましたよ。どうですか、すごいでしょ。

Cさん： なにを言ってるんですか。わたしはあなたより先に、大西洋を渡って、インドに到達しました。わたしはそこで出会った人々に「インディアン」と名付けちゃいましたよ。

Aさん： いやだなあ、Cさん、あなたが発見したのはインドじゃありませんよ。ヨーロッパ人がまだ知らなかった新しい大陸です。あなたは偉大な発見をしましたね。

Cさん： えっ、なんだ、それではわたしは大金持ちになれませんね。

Aさん： 名誉が目的ではないのなら、あなたは、何のためにそんな冒険をしたのですか？

B・Cさん： そりゃーもちろん、( ① ) のためですよ。インドに直接行って( ① ) を手に入れば、ばく大な富が自分のものになるからです。ヨーロッパでは( ① ) はとても高価ですからね。あなたはなんのためですか？

Aさん： お金もそうですが、自分の名前が歴史に残るなんて、ステキじゃないですか。だから私は、困難に負けず、初めて世界を一周したのですよ。私自身は途中で死んでしまいましたが、生き残った部下がやりとげられました。

Bさん： それじゃ、あなたは幽霊なんですか？

Aさん： 何を言ってるんですか。そういうあなた方だって、冒険が終わってから死んじゃったでしょう。ほら、あなた方にも影がありませんよ。

Cさん： あっ本当だ。自分が死んじゃっていることを、つい忘れていましたよ。

一 同： ヲッハッハー！

問1 文をよく読み、A、B、Cの人名を答えなさい。

問2 ( ① ) に当てはまる語句を書きなさい。

問3 右図は、16世紀はじめ、当時の教会がおこなったことに抗議して行われた、宗教改革のきっかけとなった運動をあらわしたものです。もっとも関わりが深いものを次の語群から一つ選び、その記号を書きなさい。



ア 資源回収

イ 免罪符

ウ 十字軍

エ 年末大掃除

問4 宗教改革の結果、ローマ教会の内部からも、改革をすすめ、教会を立て直そうとする動きもおこってきました。右図の人物らが中心となって設立し、熱心に布教活動をした組織をなんといえますか。



④ 次の年表を見て、各問に答えなさい。

年号	おもなできごと
1543	ポルトガル人によって( ① )が伝えられる
1549	日本にキリスト教が伝わる・・・・・・・・・・A
1573	室町幕府が滅びる・・・・・・・・・・B

1582	織田信長、本能寺の変で倒れる
1592～	秀吉が朝鮮の侵略を始める
1600	関ヶ原の戦い
1615	大阪の陣で豊臣氏ほろびる

問1 年表中の(①)にあてはまる語句を書きなさい。

問2 Aについて。天下統一をめざしていた織田信長や九州各地の大名がキリスト教を保護したことから、キリシタンとよばれた信者が増えていきました。はじめて入ってきた宗教を積極的に保護した理由を、わかりやすく説明しなさい。

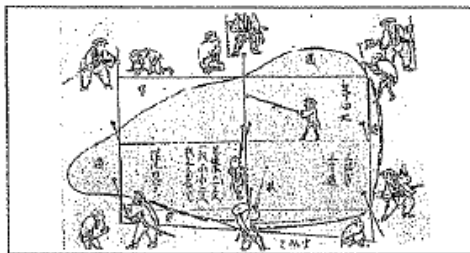
問3 全国支配をすすめる織田信長が、商工業の発展をねらいとして自分の城下でおこなった政策をなんといいますか。

問4 信長は、右図の戦いにより甲斐の武田氏を破り、天下統一に向けて大きく勢力をのびました。右図の戦いをなんといいますか。



問5 次の資料ア、イは、全国統一のために豊臣秀吉が行った政策です。これらの政策を行った目的を、わかりやすく説明しなさい。

資料ア



資料イ

(部分要約)  
 諸藩の百姓が刀やわきざし、弓、やり、鉄砲、そのほかの武具などを持つことはかたく禁止する。不必要な武具をたくわえ、年貢その他の税をなかなか納入せず、ついには一揆をくわだてたりして、領主に対してよからぬ行為をする者は、もちろん処罰する。

5 つぎの間に答えなさい。

問1 次の文の( )にあてはまる語句を書きなさい。ただし、③、④は+の記号で答える。

地球は球形をしているため、ある地点が昼の時、地球の反対側では夜になる。このため、世界の時刻を一つにきめてしまうと、とても生活しにくい。そこで、地球が24時間で1回転することから、地点が( ① )度ずれた時、時間を1時間ずらすことを原則として世界各地の時刻をきめたので、それぞれの国の生活にあった時刻でくらしをするようになった。このようにして決められた時刻を( ② )という。世界の(②)はイギリスのロンドンで、日本の(②)は兵庫県( ③ )ときめられている。

時差には+と-があり、西に進んで行く場合の時差は( ④ )に、東に進んで行く場合の時差は( ⑤ )で考える。

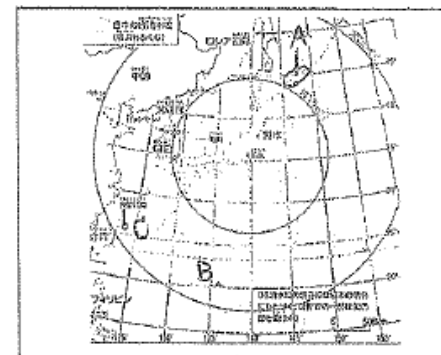
問2 次の各問いに答えなさい。

- ① 日本(東経135度)が9時の時、東経30度の地点では何時ですか。
- ② 日本(東経135度)が16時の時、ジャマイカ(西経75度)では何時ですか。
- ③ イギリスのロンドン(0度)が12時の時、日本(東経135度)は何時ですか。
- ④ イタリアのローマ(東経15度)から友だちが遊びに来ることになりました。ローマはその日の9時に出発し、日本(東経135度)に到着するまで13時間かかるとすると、友だちが日本に到着するのは、いつの、何時ですか。
- ⑤ アメリカのロサンゼルスにあるディズニーランドに行くことになりました。日本(東経135度)を8時に出発し、16時間後にロサンゼルス(西経120度)に到着しました。ロサンゼルスに到着したのは、いつの、何時ですか。

6 次の間に答えなさい。

問1 右の地図中のAは、日本固有の領土です。これらの島々を何というか書きなさい。

問2 地図中のBは、日本の南端の島です。この島の名称を書きなさい。



問3 地図中のCは日本の領土ですが、現在、ある国が領有を主張しています。この国とはどこですか。国名を書きなさい。

問4 右の写真は、日本の最南端の島を写したものです。日本は、島が水没するのを防ぐため、島のまわりをコンクリートで固め、島がなくなってしまうのを防ぎました。その理由を説明しなさい。その理由をわかりやすく説明しなさい。



（以上で問題は終わりです。）

2年社会科1学期中間テスト解答用紙

問1	② 建武の新政	③ 足利義満	④ 南北朝	⑤ 守護大名
問2	⑥ 足利義満	⑨ 惣	⑩ 戦国	
問4	後醍醐天皇	問3	日明貿易	
問5	座	問6	一揆	問7
問8	下剋上			

問1	金閣	問2	足利義満	問3	足利市
問4	暑借	問5	土倉	問6	町衆
問7	書院造	問8	能	問9	雪舟

問1	A マカロン	B ハス・イロ	C コントラ
問2	香辛料	問3	問4
			任次会

問1	金鉄包
問2	4点: 水たりの伝教勢力に対抗したため、南蛮の国々との貿易を進められた。

問3	梁市・梁塵	問4	長崎・戦い
問5	4点: 農民で耕作に専ら		

問1	① 15	② 木葉草時	③ 明石町	④ 一	⑤ 十
問2	① 2日	② 2日	③ 21時		
	④ 翌日	⑤ 本朝7時			

問1	北条頼王	問2	仲島身	問3	中国
問4	4点: 国士と風				

資活技 / 22  
 思判表 / 25-2  
 知理 / 56

100 点