

# 江戸時代①

## 【解説】 歴史流れ

軽くチェックした後、次のページで一問一答に挑戦しよう！

### ● 年表で確認

1600年 関ヶ原の戦い

1603年 A 徳川家康 が征夷大将軍となる・・・江戸幕府を開く

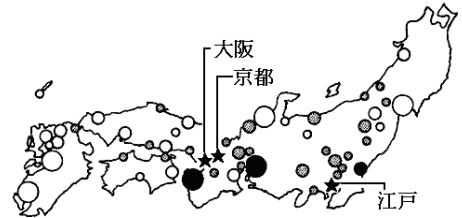


#### 幕府のしくみ

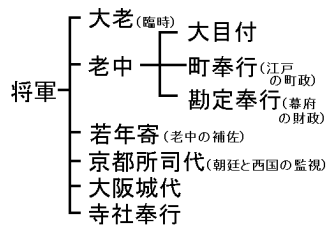
① 大名・・・領地を1万石以上与えられた武士  
御三家・親藩・譜代大名・外様大名

② 藩・・・大名の領地とその政治組織

③ 幕藩体制・・・幕府と藩で全国を支配するしくみ




● 御三家   ● 親藩・譜代   ○ 外様



④ 武家諸法度・・・大名を統制するために制定

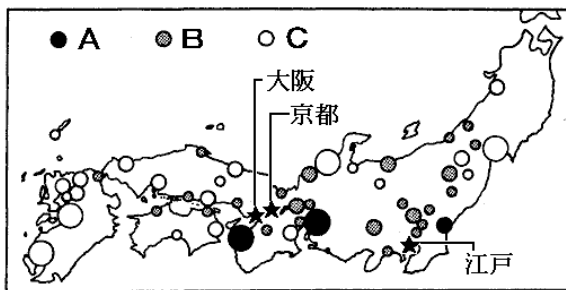
- 一、武士は文武弓馬の道をもっぱら心がけること。
- 一、大名が新しく城を作ることは、固く禁止する。
- 一、幕府の許可なく大名どうしが勝手に結婚する事を固く禁止する。

⑤ 朱印船貿易・・・幕府の貿易許可証をもった大名や商人がおこなった貿易。東南アジアに日本町



1615年 大阪夏の陣で豊臣氏を滅ぼす。

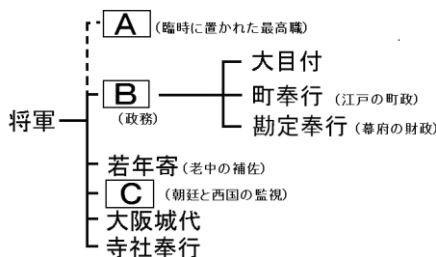
- ① 関ヶ原の戦いに勝利した\_\_\_\_\_は征夷大將軍に任命され幕府を開いた。 ① \_\_\_\_\_
- ② 將軍から1万石以上の領地を与えられた武士を\_\_\_\_\_という。 ② \_\_\_\_\_
- ③ 大名の領地とその政治組織を\_\_\_\_\_という。 ③ \_\_\_\_\_
- ④ 幕府と藩で協力して全国を支配する体制を\_\_\_\_\_という。 ④ \_\_\_\_\_
- ⑤ 水戸藩(茨城)・尾張藩(愛知)・紀州藩(和歌山)は徳川姓を名乗り、\_\_\_\_\_とよばれた。 ⑤ \_\_\_\_\_
- ⑥ 徳川家一門(親類)の藩を\_\_\_\_\_という。 ⑥ \_\_\_\_\_
- ⑦ 古くから徳川家の家臣の大名を\_\_\_\_\_という。 ⑦ \_\_\_\_\_
- ⑧ 関ヶ原の戦いののちに徳川家に従った大名を\_\_\_\_\_という。 ⑧ \_\_\_\_\_
- ⑨ 將軍のもとで政治をおこなう役職を\_\_\_\_\_という。 ⑨ \_\_\_\_\_
- ⑩ 將軍のもとで、朝廷を監視する役職を\_\_\_\_\_という。 ⑩ \_\_\_\_\_
- ⑪ 幕府は大名に対して\_\_\_\_\_を定め、幕府の許可のない城の修理などを禁止した。 ⑪ \_\_\_\_\_
- ⑫ 幕府の貿易許可書を持つものが東南アジアを相手におこなった貿易を\_\_\_\_\_という。 ⑫ \_\_\_\_\_
- ⑬ 貿易をおこなった結果、東南アジア各地には\_\_\_\_\_ができた。 ⑬ \_\_\_\_\_
- ⑭ 次のA～Cは大名配置図で、外様大名か親藩・譜代大名か御三家のいずれかが入る。A～Cにあてはまるものを書きなさい。 ⑭ \_\_\_\_\_



● 10～20万石未満    ● 20～50万石未満    ○ 50万石以上

- A \_\_\_\_\_
- B \_\_\_\_\_
- C \_\_\_\_\_

- ⑮ 次のA～Cにあてはまる役職を書きなさい。



- A \_\_\_\_\_
- B \_\_\_\_\_
- C \_\_\_\_\_

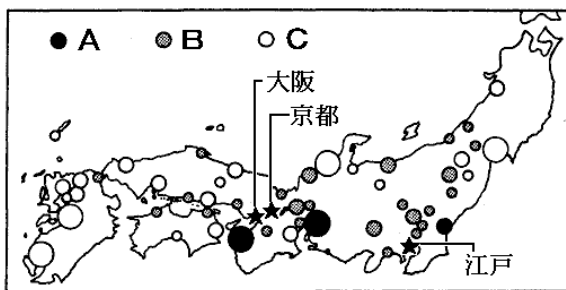
★ よく出題される記述問題 ★

- ① 外様大名はどのような土地に配置されたか、簡潔に書きなさい。

.....

**解答**

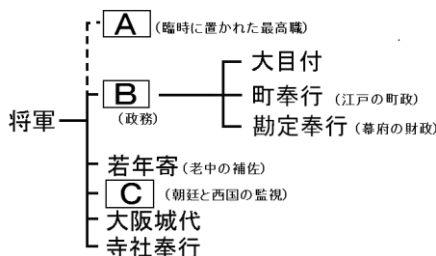
- |  |         |
|--|---------|
| ① 関ヶ原の戦いに勝利した_____は征夷大将軍に任命され幕府を開いた。   | ① 徳川家康  |
| ② 将軍から1万石以上の領地を与えられた武士を_____という。   | ② 大名    |
| ③ 大名の領地とその政治組織を_____という。   | ③ 藩     |
| ④ 幕府と藩で協力して全国を支配する体制を_____という。   | ④ 幕藩体制  |
| ⑤ 水戸藩(茨城)・尾張藩(愛知)・紀州藩(和歌山)は徳川姓を名乗り、_____とよばれた。   | ⑤ 御三家   |
| ⑥ 徳川家一門(親類)の藩を_____という。  | ⑥ 親藩    |
| ⑦ 古くから徳川家の家臣の大名を_____という。  | ⑦ 譜代大名  |
| ⑧ 関ヶ原の戦いののちに徳川家に従った大名を_____という。  | ⑧ 外様大名  |
| ⑨ 将軍のもとで政治をおこなう役職を_____という。  | ⑨ 老中    |
| ⑩ 将軍のもとで、朝廷を監視する役職を_____という。   | ⑩ 京都所司代 |
| ⑪ 幕府は大名に対して_____を定め、幕府の許可のない城の修理などを禁止した。   | ⑪ 武家諸法度 |
| ⑫ 幕府の貿易許可書を持つものが東南アジアを相手におこなった貿易を_____という。   | ⑫ 朱印船貿易 |
| ⑬ 貿易をおこなった結果、東南アジア各地には_____ができた。   | ⑬ 日本町   |
| ⑭ 次のA～Cは大名配置図で、 <u>外様大名</u> か <u>親藩</u> ・ <u>譜代大名</u> か <u>御三家</u> のいずれかが入る。A～Cにあてはまるものを書きなさい。 |         |



○ 10~20万石未満    ○ 20~50万石未満    ○ 50万石以上

- |     |         |
|-----|---------|
| ① A | 御三家     |
| B   | 親藩・譜代大名 |
| C   | 外様大名    |

⑮ 次のA～Cにあてはまる役職を書きなさい。



- |     |       |
|-----|-------|
| ② A | 大老    |
| B   | 老中    |
| C   | 京都所司代 |

**★ よく出題される記述問題 ★**

① 外様大名はどのような土地に配置されたか、簡潔に書きなさい。

江戸や大阪など、重要な場所からはなれたところ。