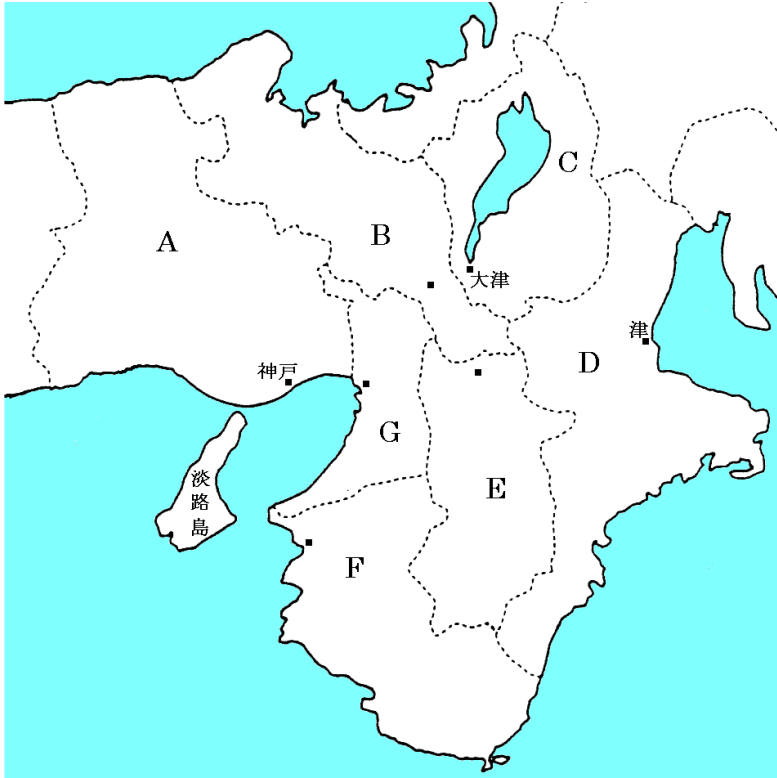


近畿地方

【解説】流れ 教科書の重要キーワードをチェックした後、問題へ！

● 主な府県名



A 県庁所在地は日本有数の港湾都市

兵庫県

B かつて都があった

京都府

C 日本最大の湖がある

滋賀県

D かつて四日市ぜんそくが発生。松坂牛が有名

三重県

E 平城京があった

奈良県

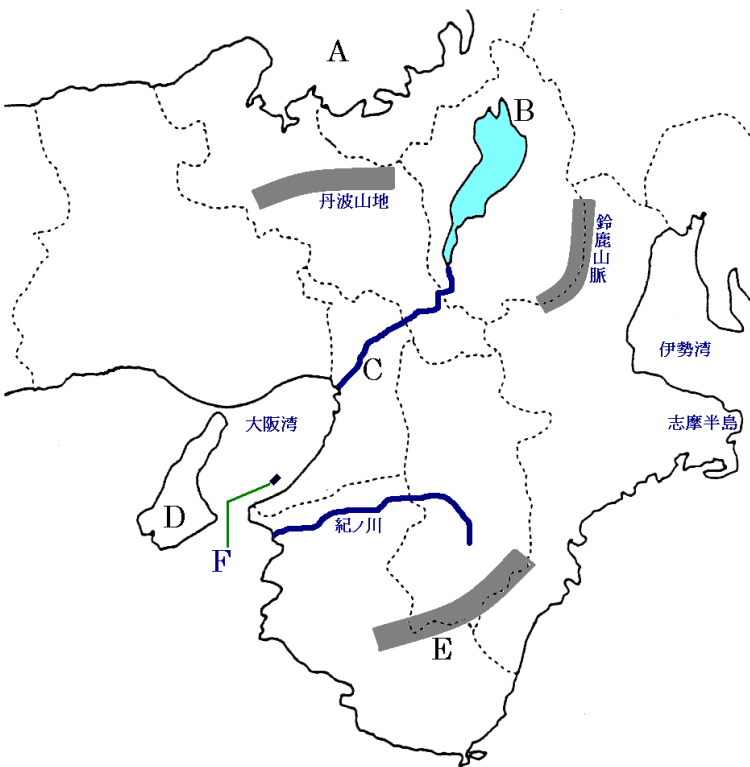
F 果実の生産額全国1位

和歌山県

G 近畿地方の中心。江戸時代は天下の台所

大阪府

● 主な地形



A 原子力発電所が集中する湾

若狭

湾

B 近畿地方の水がめ

琵琶

湖

C 滋賀県では瀬田川、京都では宇治川

淀

川

D 1995年に震災で被害

淡路

島

E 温暖多雨なので樹木の生長がはやい。林業が発達

紀伊

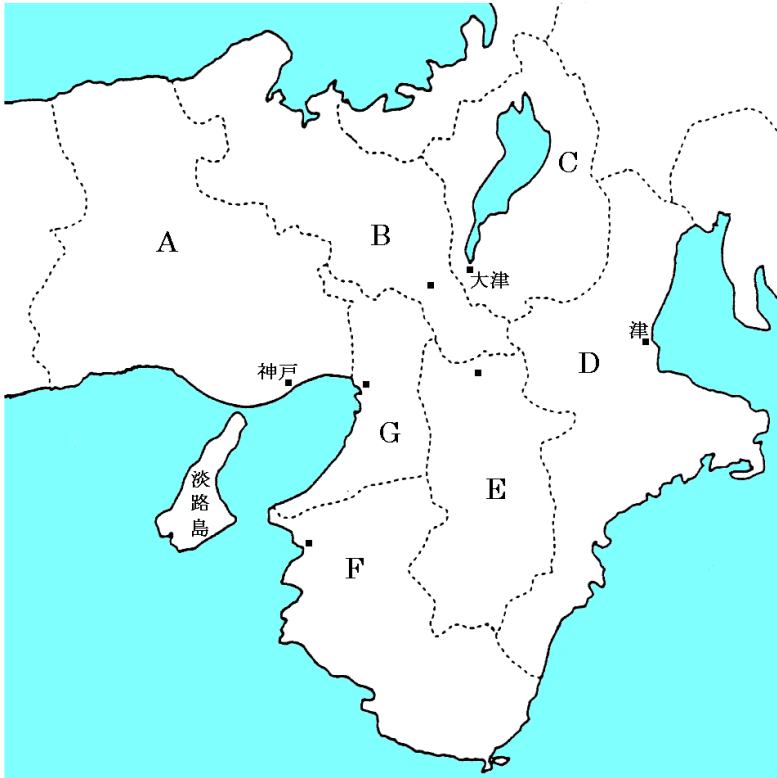
山地

F 24時間、発着が可能な空港

関西国際空港

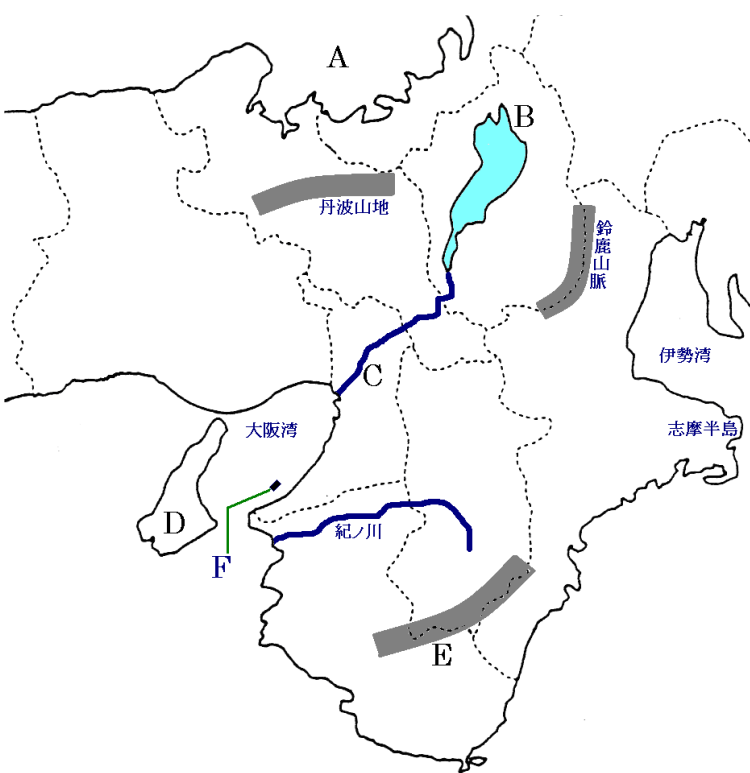
【教科書の重要語句】《一問一答》問題文ごと暗記しよう！

● 主な府県名



- A 県庁所在地は日本有数の港湾都市
.....
- B かつて都があった
.....
- C 日本最大の湖がある
.....
- D かつて四日市ぜんそくが発生。松坂牛が有名
.....
- E 平城京があった
.....
- F 果実の生産額全国1位
.....
- G 近畿地方の中心。江戸時代は天下の台所
.....

● 主な地形



- A 原子力発電所が集中する湾
..... 湾
- B 近畿地方の水がめ
..... 湖
- C 滋賀県では瀬田川、京都では宇治川
..... 川
- D 1995年に震災で被害
..... 島
- E 温暖多雨なので樹木の生長がはやい。林業が発達
..... 山地
- F 24時間、発着が可能な空港
.....

解答 前のページそのまま

近畿地方②

【解説】流れ 教科書の重要キーワードをチェックした後、問題へ！



● おもな都市

・① 大阪 市・・・大阪大都市圏の中心都市。周辺から通勤通学で人が集中する

・② 神戸 市・・・日本有数の港湾都市。異人館や中華街など外国とのつながりが深い

埋め立てにより、ポートアイランド(人工の島)なども建設

・③ 京都 市・・・平安京があった。寺社などの文化財が世界遺産に登録される

歴史的な町並みを残すよう、京都市新景観条例を制定。西陣織などの伝統工芸品も有名

・④ 奈良 市・・・平城京があった。寺社などの文化財が世界遺産に登録

・⑤ 東大阪 市・・・阪神工業地帯の中心都市のひとつ。金属加工業が発達。高い技術力を持つ中小企業が多い

★工業について

阪神工業地帯:金属工業の割合が高い

京都府の伝統工芸品:西陣織

福井県の若狭湾で原子力発電所が集中

★農業について

和歌山県のみかんは生産量多い

【教科書の重要語句】《一問一答》問題文ごと暗記しよう！

- | | |
|------------------------------------------------|----------|
| ① 日本最大の湖は_____である。 | ① 琵琶湖 |
| ② 福井県の_____沿岸は原子力発電所が多く建設されている。 | ② 若狭湾 |
| ③ 海上にある、_____は24時間離発着が可能である。 | ③ 関西国際空港 |
| ④ 兵庫県の県庁所在地は_____市である。 | ④ 神戸 |
| ⑤ かつて平安京があり寺社などの文化財が世界遺産に登録されているのは_____市だ。 | ⑤ 京都 |
| ⑥ かつて平城京があったのは_____市だ。 | ⑥ 奈良 |
| ⑦ 阪神工業地帯の中心都市の1つで、高い技術をもつ金属工業が発達しているのは_____市だ。 | ⑦ 東大阪 |
| ⑧ 日本有数の港湾都市で、外国とのつながりが深いのは_____市だ。 | ⑧ 神戸 |
| ⑨ かつて、_____県の四日市市で四日市ぜんそくが発生した。 | ⑨ 三重 |

★工業について

阪神工業地帯: 工業の割合が高い

京都府の伝統工芸品: が有名

福井県の若狭湾で 発電所が集中

★農業について

和歌山県の が生産量多い

解答

- | |
|----------|
| ① 琵琶湖 |
| ② 若狭湾 |
| ③ 関西国際空港 |
| ④ 神戸 |
| ⑤ 京都 |
| ⑥ 奈良 |
| ⑦ 東大阪 |
| ⑧ 神戸 |
| ⑨ 三重 |

金属工業
西陣織
原子力発電所
みかん