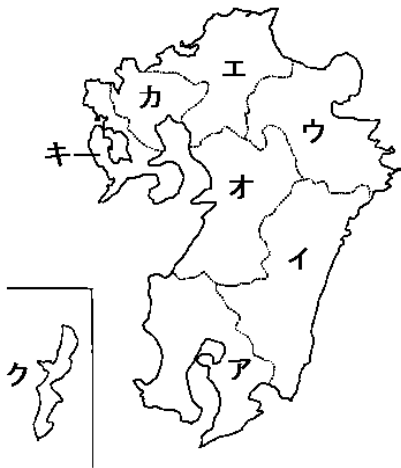


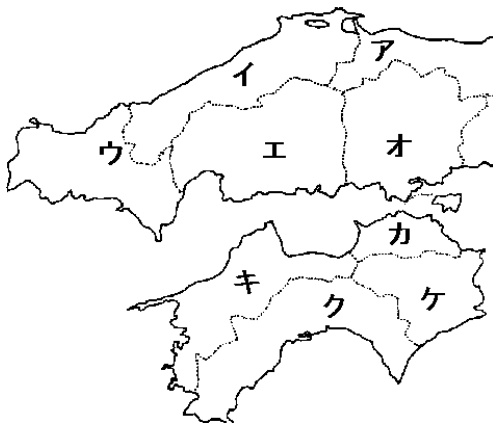
次の各地方の都道府県名を書きなさい。(都道府県と県庁所在地が異なるものだけ、県庁所在地を書きなさい。)

① 九州地方



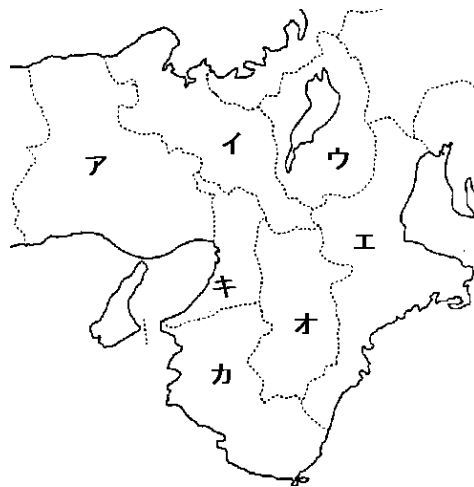
ア	.....	イ	.....
ウ	.....	エ	.....
オ	.....	カ	.....
キ	.....	ク	.....

② 中国・四国地方



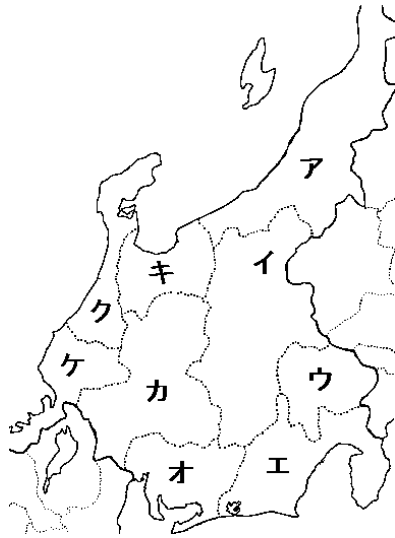
ア	.....	イ	.....
ウ	.....	エ	.....
オ	.....	カ	.....
キ	.....	ク	.....
ケ	.....		

③ 近畿地方



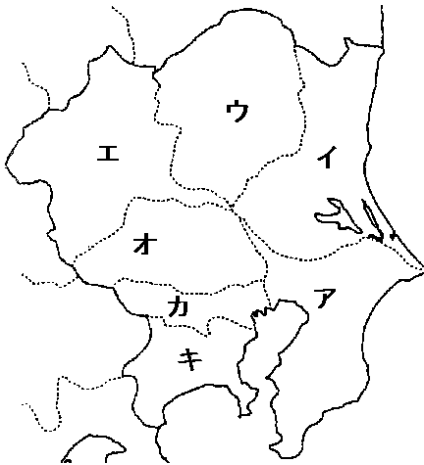
ア	.....	イ	.....
ウ	.....	エ	.....
オ	.....	カ	.....
キ	.....		

④ 中部地方



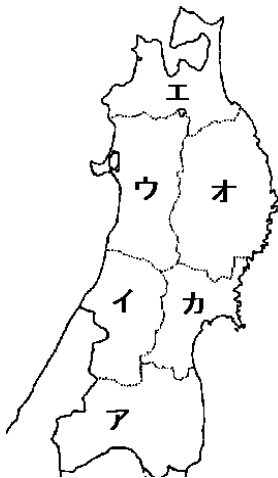
ア _____	イ _____
ウ _____	エ _____
オ _____	カ _____
キ _____	ク _____
ケ _____	

⑤ 関東地方



ア _____	イ _____
ウ _____	エ _____
オ _____	カ _____
キ _____	

⑥ 東北地方



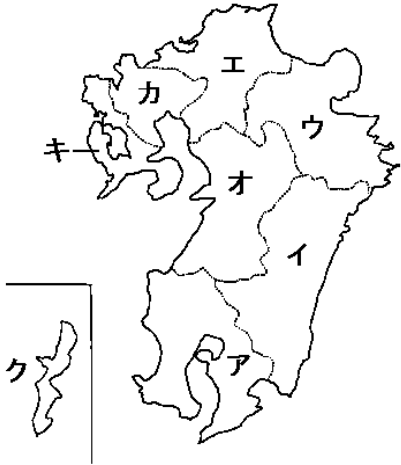
ア _____	イ _____
ウ _____	エ _____
オ _____	カ _____

⑦ 北海道地方の道庁所在地は？ \_\_\_\_\_

# 解答

都道府県を暗記をするコツ: 直接白地図に書き込むと良いです。場所をイメージできます。

## ① 九州地方



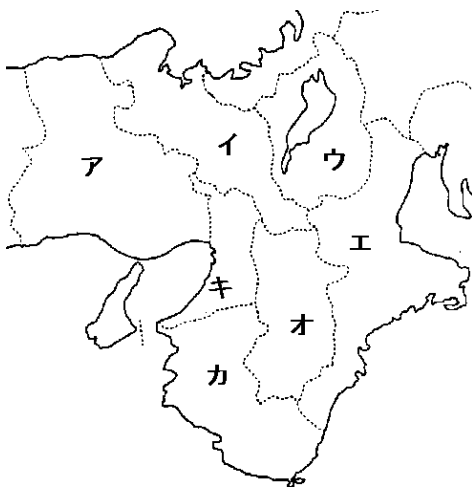
- |   |     |   |        |
|---|-----|---|--------|
| ア | 鹿児島 | イ | 宮崎     |
| ウ | 大分  | エ | 福岡     |
| オ | 熊本  | カ | 佐賀     |
| キ | 長崎  | ク | 沖縄(那覇) |

## ② 中国・四国地方



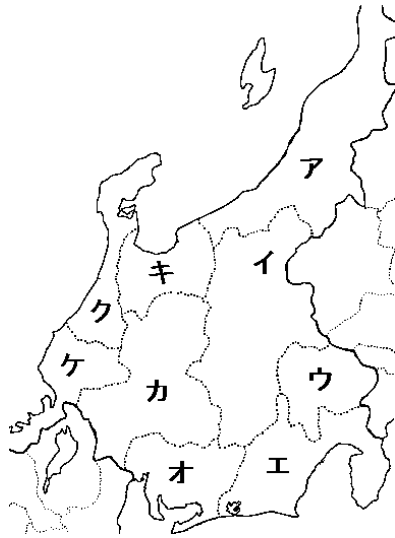
- |   |        |   |        |
|---|--------|---|--------|
| ア | 鳥取     | イ | 島根(松江) |
| ウ | 山口     | エ | 広島     |
| オ | 岡山     | カ | 香川(高松) |
| キ | 愛媛(松山) | ク | 高知     |
| ケ | 徳島     |   |        |

## ③ 近畿地方



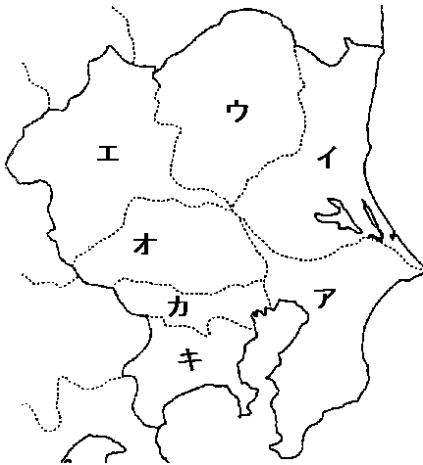
- |   |        |   |       |
|---|--------|---|-------|
| ア | 兵庫(神戸) | イ | 京都    |
| ウ | 滋賀(大津) | エ | 三重(津) |
| オ | 奈良     | カ | 和歌山   |
| キ | 大阪     |   |       |

④ 中部地方



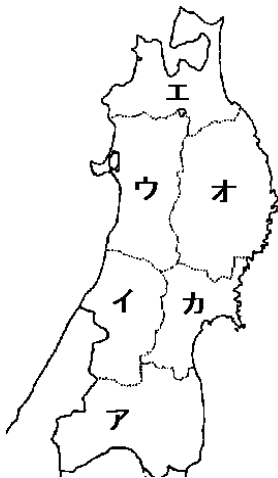
ア	新 潟	イ	長 野
ウ	山 梨 (甲府)	エ	静 岡
オ	愛 知 (名古屋)	カ	岐 阜
キ	富 山	ク	石 川 (金沢)
ケ	福 井		

⑤ 関東地方



ア	千 葉	イ	茨 城 (水戸)
ウ	栃 木 (宇都宮)	エ	群 馬 (前橋)
オ	埼玉 (さいたま)	カ	東 京
キ	神奈川 (横浜)		

⑥ 東北地方



ア	福 島	イ	山 形
ウ	秋 田	エ	青 森
オ	岩 手 (盛岡)	カ	宮 城 (仙台)

⑦ 北海道地方の道庁所在地は？ 札幌市