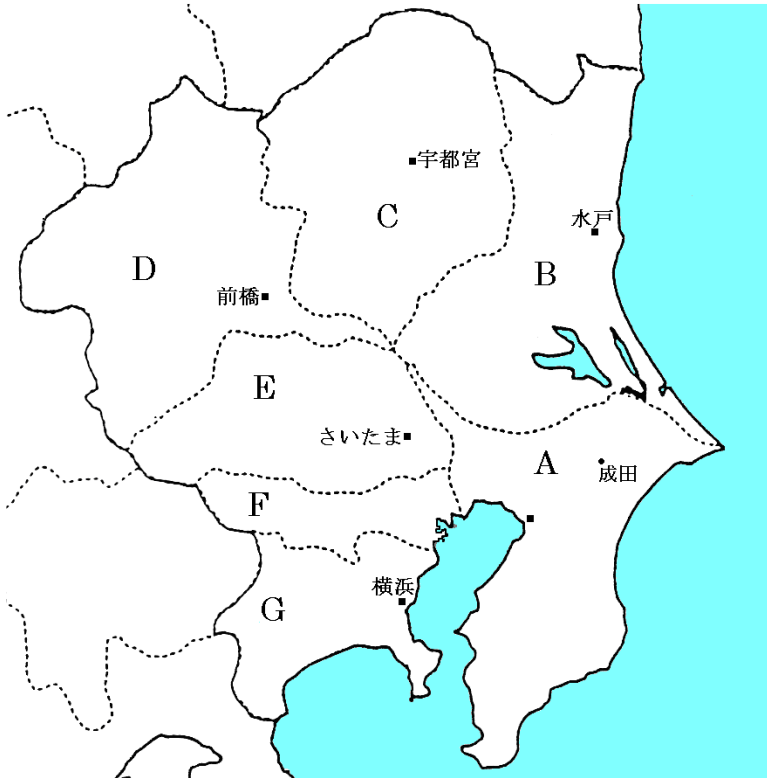


関東地方

【解説】流れ 教科書の重要キーワードをチェックした後、問題へ！

● 主な都道府県の確認



A 人口600万。臨海部で工業。内陸部では近郊農業が盛ん

千葉県

B 近郊農業がさかん

茨城県

C いちご・かんぴょう日本一

栃木県

D こんにやくいも日本一

群馬県

E 総人口700万人。ただし屋の人口は600万人

埼玉県

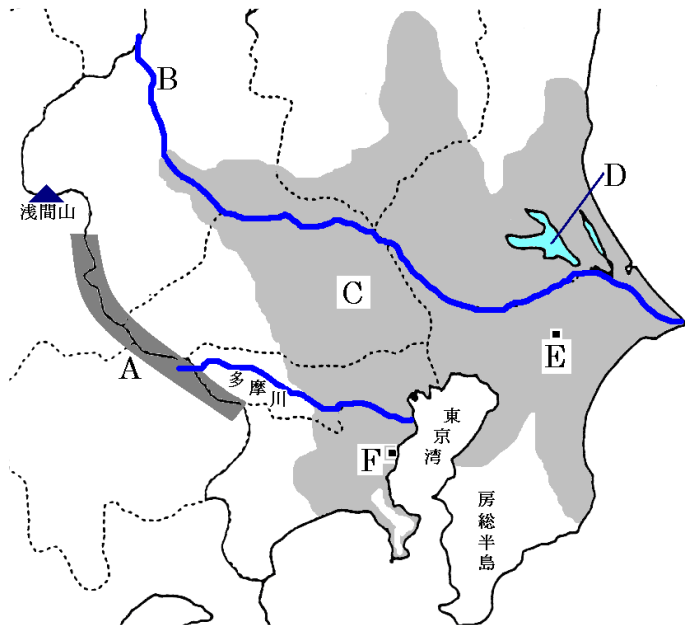
F 日本の首都。政治・経済・文化の中心。人口1200万人

東京都

G 人口900万人。横浜港は最大の貿易港

神奈川県

● 主な地形



A 山地

関東

山地

B 日本で二番目に長い

利根

川

C 日本最大の平野

関東

平野

D 日本で二番目に広い湖

霞ヶ浦

E 世界と日本を結ぶ空の玄関

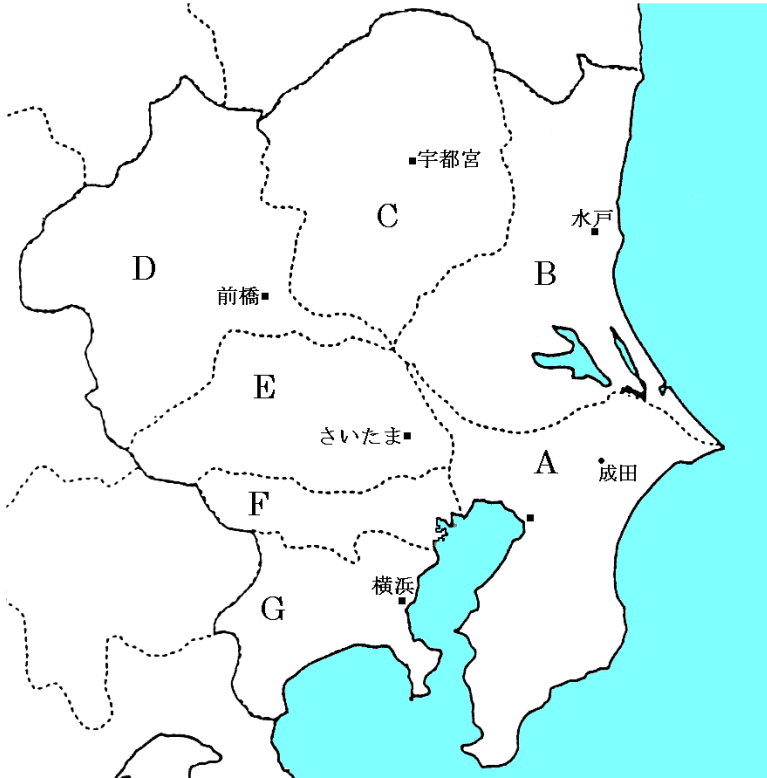
成田国際空港

F 日本有数の貿易港

横浜港

【教科書の重要語句】《一問一答》問題文ごと暗記しよう！

● 主な都道府県の確認



A 人口600万。臨海部で工業。内陸部では近郊農業が盛ん

.....

B 近郊農業がさかん

.....

C いちご・かんぴょう日本一

.....

D こんにゃくも日本一

.....

E 総人口700万人。ただし屋の人口は600万人

.....

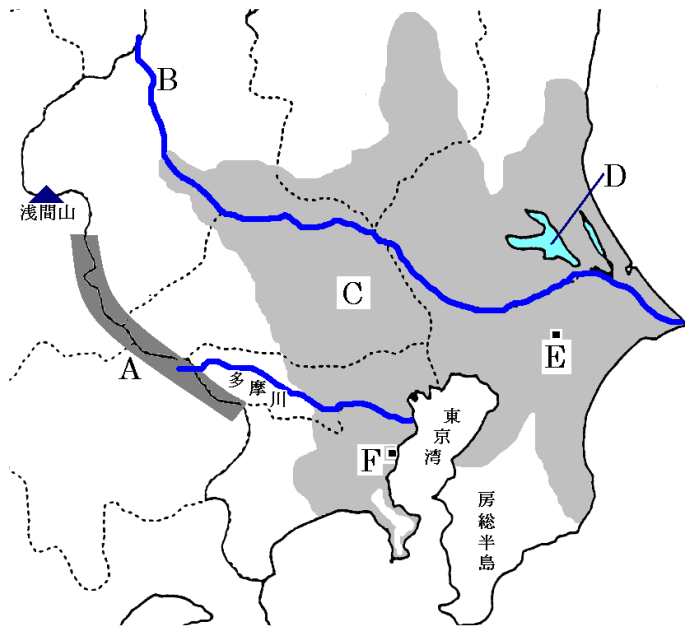
F 日本の首都。政治・経済・文化の中心。人口1200万人

.....

G 人口900万人。横浜港は最大の貿易港

.....

● 主な地形



A 山地

..... 山地

B 日本で二番目に長い

..... 川

C 日本最大の平野

..... 平野

D 日本で二番目に広い湖

.....

E 世界と日本を結ぶ空の玄関

.....

F 日本有数の貿易港

.....

解答 前のページそのまま

関東地方②

【解説】流れ 教科書の重要キーワードをチェックした後、問題へ！



- 東京
 - ・日本の首都……政治・経済・文化の中心
 - ・① 過密……人口が集中しすぎること。地価の高騰・ごみ問題など
 - ・② ドーナツ化現象……都心部の人口が減り、郊外の人口が増加する現象。
→ 近年は都心で再開発が進められ、都心部の人口が増加傾向にある
 - ・③ ニュータウン……郊外に建設された大規模な住宅地
 - ・昼夜間人口……周辺から東京に④ 通勤・通学する人が多いため、東京は昼の人口が多い
- 関東地方の農業
 - ・① 近郊農業……大都市の周辺で大都市向けに野菜などを出荷する農業。千葉・茨城・群馬は農業が盛ん
 - ・② 輸送園芸農業……遠い地域から保冷トラックで大都市向けに農作物を出荷する農業。
群馬県嬭恋村のキャベツなど
- 関東地方の工業
 - ・① 京浜工業地帯……東京・神奈川の臨海部に発達する工業地帯
 - ・② 京葉工業地帯……千葉の臨海部に発達する工業地帯。石油化学工業が盛ん
 - ・内陸部……高速道路沿いに工業団地が発達。③ 機械工業が発達

【教科書の重要語句】《一問一答》問題文ごと暗記しよう！

- | | |
|---|---------|
| ① 人口が集中しすぎることを_____という。 | ① _____ |
| ② 都心部の人口が減り、郊外の人口が増加する現象を_____という。 | ② _____ |
| ③ ②の結果、郊外に建設された大規模な住宅地を_____という。 | ③ _____ |
| ④ 東京は昼は周りの地域から_____や通学をする人が多いため、昼間人口が多い。 | ④ _____ |
| ⑤ 大都市の周辺で大都市向けに野菜などを出荷する農業を_____という。 | ⑤ _____ |
| ⑥ 遠い地域から保冷トラックで大都市向けに農作物を出荷する農業を_____という。 | ⑥ _____ |
| ⑦ 東京・神奈川の臨海部に発達する工業地帯を_____という。 | ⑦ _____ |
| ⑧ 千葉の臨海部に発達する工業地域を_____という。 | ⑧ _____ |
| ⑨ 栃木や群馬など関東地方の内陸部では_____が発達している。 | ⑨ _____ |
| ⑩ 日本最大の空港は_____だ。 | ⑩ _____ |
| ⑪ 神奈川県 <small>の</small> 県庁所在地は、_____市だ | ⑪ _____ |

解答

- | | |
|-----------|-------|
| ① 過密 | _____ |
| ② ドーナツ化現象 | _____ |
| ③ ニュータウン | _____ |
| ④ 通勤 | _____ |
| ⑤ 近郊農業 | _____ |
| ⑥ 輸送園芸農業 | _____ |
| ⑦ 京浜工業地帯 | _____ |
| ⑧ 京葉工業地域 | _____ |
| ⑨ 機械工業 | _____ |
| ⑩ 成田国際空港 | _____ |
| ⑪ 横浜 | _____ |