

1. 以下の問いに答えなさい。

問1 最近のニュースに関する以下の問いに答えなさい。

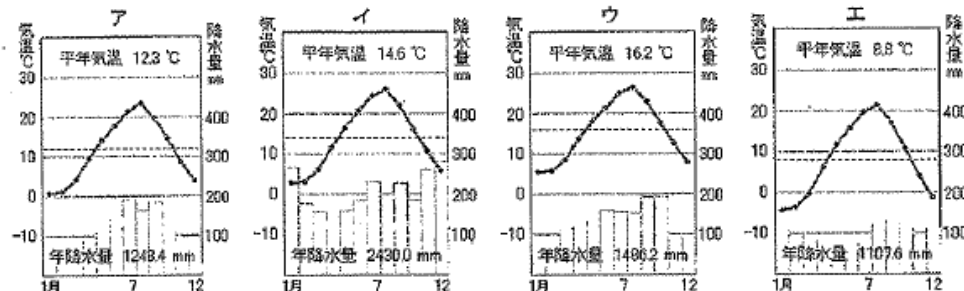
2. 地理に関する以下の問いに答えなさい。

問1 地図中の①～⑤の名称を書きなさい。【知・1×5】

- ① 流域に泥炭地の多い河川
- ② 東北地方を東西に分ける山脈
- ③ 山形県にある米作りがさかんな平野
- ④ 日本一大きな平野
- ⑤ 日本一長い川



問2 下のア～エの雨温図は、それぞれ東京・仙台・札幌・金沢のいずれかの都市のもので、これらを見て、以下の問いに答えなさい。



- (1) 年降水量が最も多いのはア～エのうちどれか、記号で答えなさい。【技・1】
- (2) 上の雨温図のうち、札幌の雨温図はどれか選びなさい。【技・1】
- (3) イの雨温図は  側の気候の特徴を表しています。
  - ①  に当てはまる海の名を書きなさい。【技・1】
  - ② イの雨温図に代表される気候の特徴を、簡潔に説明しなさい。【思・2】

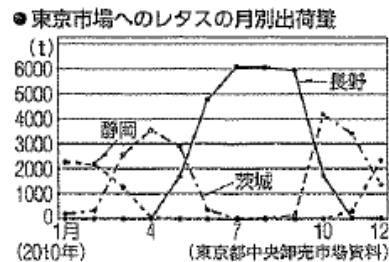
問3 右のグラフは全国と中京工業地帯の工業生産の内訳を表しています。これらを見て以下の問いに答えなさい。

- (1) 中京工業地帯で最も割合の高い工業を書きなさい。【技・1】
- (2) (1)の工業にふくまれる、中京工業地帯でさかんに生産されている製品を次の語群から1つ選び、書きなさい。【技・2】  
〔自動車 ピアノ 電子部品 ファインセラミックス〕

全国 285.3兆円	工業生産の内訳 (2009年)			
	機械	化学	金属	食品・その他
	43.8%	16.9%	13.0%	11.5%
中京工業地帯 43.8兆円	工業生産の内訳 (2009年)			
	84.6%	10.3%	8.2%	1.1%

問4 右のグラフは東京市場へのレタスの月別出荷量を表しています。

- (1) 茨城県に代表されるような、大消費地に近い条件を生かして、都市向けに野菜を出荷する農業を何とよぶか。【技・1】
- (2) 長野県では、レタスをどのような時期に市場へ出荷していますか。他の産地との関係に着目して、簡潔に書きなさい。【思・2】



問5 右の表は、関東地方5県の昼夜の人口を示しています。これを見て、以下の問いに答えなさい。

- (1) 夜間人口より昼間人口のほうが多い都県名を答えなさい。【技・1】
- (2) (1)の都県で、昼間に人口が増加するのはなぜか。簡単に書きなさい。【思・2】

	昼間人口 (万人)	夜間人口 (万人)
茨城県	289	297
埼玉県	616	704
千葉県	534	603
東京都	1498	1242
神奈川県	791	875

問6 右の表は北海道と全国平均との、農業経営の比較を表しています。この表から読み取れる、北海道の農業経営の特徴を、規模や経営形態に着目して簡潔に説明しなさい。【思・2】

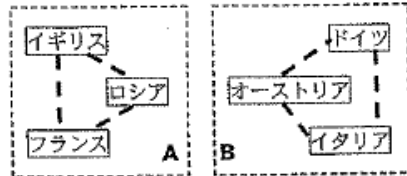
	1戸あたりの 耕地面積 (ha)	主業農家の 割合 (%)
全国	2.2	22.1
北海道	23.5	72.1

問7 以下の問いに答えなさい。【知・1×5】

- 中部地方でさかんな、野菜や花などを、ビニールハウスや温室などの施設を使って栽培する農業を何というか。
- トラックなどを使って、鮮度を保ったまま遠くの市場へ農作物を出荷する農業を何というか。
- 東北地方の夏に北東から吹く、農産物に被害をもたらす冷たい風を何というか。
- 土地の力を落とさないため、穀類の作物を同じ耕地で順に栽培する方法を何というか。
- 北海道にもともと住んでいた先住民の人たちのことを何というか。

3. 歴史に関する以下の問いに答えなさい。

問1 右の資料は第一次世界大戦前の国際関係を示しています。これを見て、以下の問いに答えなさい。



資料 第一次世界大戦前の国際関係

- A・Bのグループの名称をそれぞれ答えなさい。【知・2×2】
- 右の絵はAとBとの勢力争いが絶えないバルカン半島の情勢を描いた風刺画です。

① 当時、バルカン半島は「ヨーロッパの[ ]」と呼ばれていました。[ ]に当てはまる言葉を選びなさい。【技・2】

ア 震源地 イ 爆弾 ウ 火薬庫 エ 問題児

② 第一次世界大戦は、バルカン半島である国の皇太子夫妻が暗殺されたことがきっかけで始まりました。それはどこの国の皇太子夫妻ですか。上の資料の中の国から選びなさい。【技・1】

- 第一次世界大戦が開戦されると、日本はAのグループの側で参戦しました。その理由を簡潔に説明しなさい。【思・2】



問2 第一次世界大戦中から大戦後の世界の流れについて、以下の問いに答えなさい。

- 年表中X～Zに当てはまる言葉を、下のア～カからそれぞれ選びなさい。【知・1×3】

ア フランス イ ソビエト ウ ベルサイユ  
エ ボツマス オ ドイツ カ ロシア

- 日本やアメリカなどによってシベリア出兵が行われたのは、年表中のa～dのどの時期か選びなさい。【知・1】

③ 下線部Aに関して、Aはアメリカのある大統領が唱えた「民族自決」という考え方にもとづいて設立されました。

① その大統領の名前を答えなさい。【知・1】

② 「民族自決」とはどのような考えですか。「民族」という言葉を用いて簡潔に説明しなさい。【思・3】

年	できごと	
1917	(X) 革命	} a
1919	パリ講和会議開催 → (Y) 条約	
1920	A 国際連盟の誕生	} b
1921	ワシントン会議開催	
1922	(Z) 社会主義共和国連邦の成立	} c

問3 右の資料を見て、以下の問いに答えなさい。

- 右は第一次世界大戦中に、日本が中国に対して示し、大部分を認めさせた要求の一部です。この資料の名前を答えなさい。【技・2】

② 資料中の( )に当てはまる語句を答えなさい。【技・1】

- このような日本の動きに対し、1919年に中国で起こった帝国主義に反対する国民運動の名称を答えなさい。【知・1】

④ 右はインドでイギリスからの独立運動を指導した人物です。

① この人物の名を書きなさい。【知・2】

② この人物が唱えた方針は「不服従」と何ですか。漢字3文字で答えなさい。

【知・1】

- 中国政府は、ドイツが山東省にもっているいっさいの権益を日本にゆずる。
- 日本の旅順・大連の租借の期限、( ) 鉄道の期限を99年延長する。



問4 下のカードを見て、以下の問いに答えなさい。

衆議院第一党の立憲政友会総裁の原敬を総理大臣とする、本格的なA 内閣が誕生した。

a

議会を無視する程太郎内閣に対し、B 憲法にもとづく政治を守ろうとする運動が起こり、桂内閣は退陣した。

b

加藤高明内閣のもと、C 普通選挙法が制定され、政治に広く国民の意向が反映される道が開かれた。

c

- Aに当てはまる語句を答えなさい。【知・1】

② Bの運動の名称を答えなさい。【知・1】

- ① Cの法律と同時に制定され、共産主義に対する取りしまりを強化した法律の名称を書きなさい。【知・1】

② Cの法律によって選挙権が与えられた有権者の条件を簡潔に書きなさい。【思・2】

- a～cのカードを時代の古い順に並びかえなさい。【技・2】

問5 右の資料Ⅰ・Ⅱを見て、以下の問いに答えなさい。

- 資料中の①、②に当てはまる言葉を、下の[ ]からそれぞれ選んで書きなさい。【技・1×2】  
[ 星 輝 き 太 陽 光 ]

② 資料Ⅰは、部落解放運動をすすめるため、1922年に京都で結成されたある組織が発表した宣言です。この組織の名前を答えなさい。【知・2】

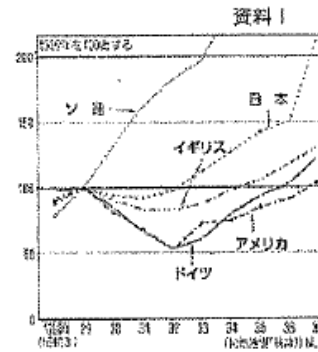
- 資料Ⅱは、大正時代に「新しい女」をめざして結成された青鞥社の発表した宣言です。この青鞥社の結成に関わったほか、後に新婦人協会の設立の中心となるなど、女性解放運動で活躍した人物の名前を答えなさい。【知・1】

資料Ⅰ  
全国に散在する部落の人々よ、団結せよ。ここにわれわれが人間を尊敬することによって、みずからを解放しようとする運動を起こしたのは当然である。(略) 人の世に熱あれ、人間に( ① )あれ。

資料Ⅱ  
完結、女性は( ② )であった。真正の人であった。(略) わたしたちはかくされてしまったわが( ② )を今や取りもどさなくてはならない。

問6 右の資料Ⅰ・Ⅱを見て以下の問いに答えなさい。

(1) 資料Ⅰは各国の工業生産の変化を表したものです。このグラフからわかることを以下のようにまとめました。①～③に当てはまる国名・数字を書きなさい。【技・1×3】



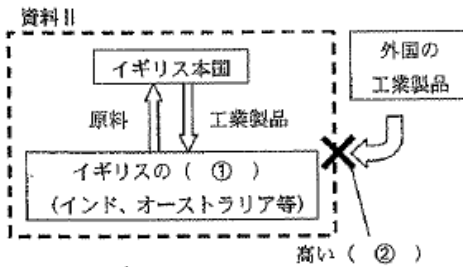
資料Ⅰを見ると、( ① ) 年を境に、( ② ) 以外の国々の工業生産額が低下している。それは、( ③ ) 年に ( ④ ) で起こった世界恐慌の影響を受けたためである。

また、( ② ) が世界恐慌の影響を受けなかったのは、X ためである。

(2) (1) の説明の X に適する文章を簡潔に書きなさい。【思・2】

(3) 資料Ⅱは、イギリスが世界恐慌の混乱に対して行った、ブロック経済という政策を表した模式図です。

上の説明文と資料Ⅱの①、②にそれぞれ共通して当てはまる言葉を書きなさい。【技・1×2】



ブロック経済とは、イギリス本国と( ① ) との関係を密にし、それ以外の外国の商品に対する( ② ) を高くして、関係の深い国々だけで経済を成り立たせようとする政策である。

(4) 世界恐慌に対して、アメリカは「新規まき直し」とも呼ばれる政策をりました。

① この政策の名前をカタカナで答えなさい。【知・1】

② ①の政策の内容を、「政府」「公共事業」「失業者」の言葉を使って、簡潔に説明しなさい。【思・3】

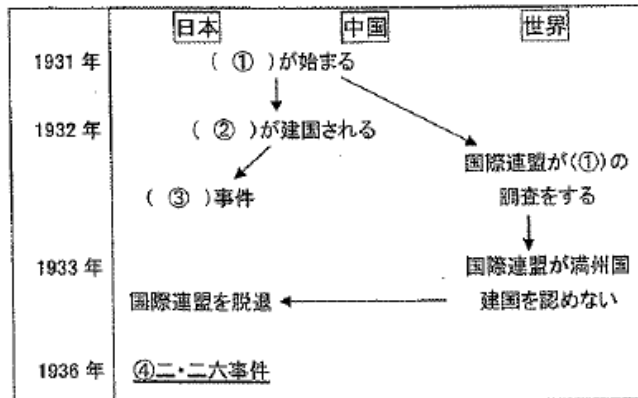
問7 資料は1931年～1937年の日本、中国、世界のできごとをまとめたものです。資料を見て以下の問いに答えなさい。

(1) ①に当てはまる、日本の陸軍軍が南満州鉄道の線路を爆破したことをきっかけに始めた軍事行動の名前を書きなさい。【知・2】

(2) ②に当てはまる、日本の関東軍によって建国された国の名前を書きなさい。【知・1】

(3) ③には、②の承認に反対した大隈首相が、海軍将校の団によって暗殺された事件が入る。その事件名を書きなさい。【知・1】

(4) ④の「二・二六事件」とは、陸軍将校が首相官邸などを襲撃した事件です。③、④の事件の結果、日本の政治はどのように変化しましたか、「軍部」の語句を使って、簡潔に説明しなさい。【思・3】



問8 資料の年表を見て、以下の問いに答えなさい。

(1) 年表中のAの事件の名称、Bに当てはまる国民や物資を動員できるようにした法律の名称をそれぞれ書きなさい。【技・1×2】

(2) Aの事件をきっかけとして日本と中国の間におきた戦争の名前を書きなさい。【知・1】

(3) Cののちにつくられた、華国一致体制の組織を何というか。【知・1】

(4) 資料中の下線部「抗日民族統一戦線」は、中国において対立する国民党と共産党によって結成されたものです。その結成された目的を簡潔に説明しなさい。【思・2】

年	できごと
1937年	北京郊外で日中両軍が武力衝突する……A 抗日民族統一戦線が結成される
1938年	( B )の公布
1940年	労働組合・政党が解散する……C

問9 以下の問いに答えなさい。【知・1×4】

(1) 1919年にドイツで制定された憲法。20歳以上の男女の普通選挙権、労働者の団結権などが認められ、当時「最も民主的な憲法」といわれました。この憲法の名前を書きなさい。

(2) 大正時代に吉野作造がとなえた考えで、大正デモクラシーをおしすすめる理論となり、知識人に支持された考えを何というか。

(3) 1923年、東京を中心としておきた大地震。これにより、日本は人的・物的に大損害を受けるとともに、経済的にも社会的にも暗い時代の第一歩を迎えることになりました。その大地震の名前を書きなさい。

(4) 大正時代、「羅生門」「蜘蛛の糸」などの知性的な短編小説を書いて、人々に新鮮な印象を与えた作家の名前を書きなさい。

※解答用紙の見方

□ ... 1点

□ ... 2点

□ ... 3点

1	問1	1	石狩	川②	奥羽	山脈③	庄内	平野④	関東	平野⑤	信濃	川	/10				
	問2	(1)	イ	(2)	エ	(3)	①日本海	②	冬に降水量(雪)が多い気候。					/2			
	問3	(1)	機械(工業)		(2)	自動車							/3				
2	問4	(1)	近郊農業		(2)	他の産地の出荷量が少ない時期(夏)に、市場へ出荷している。							/2				
	問5	(1)	東京都		(2)	周辺の県(郊外)から多くの人々が通勤・通学しているから。							/1				
	問6	北海道では農業を主業農家の割合が高く、広大な土地を使った大規模な農業が行われている。												/2			
	問7	(1)	施設園芸農業	(2)	輸送園芸農業	(3)	やませ	(4)	輪作	(5)	アイス		/1				
	問1	(1)	A	三国協商	B	三国同盟	(2)	① ウ	②	オーストリア				/2			
	(3)	日本はイギリスとの間に日英同盟を結んでいたから。												/2			
	問2	(1)	X	カ	Y	ウ	Z	イ	(2)	a	(3)	①	ウィルソン	/3			
	(3)	どの民族も、他国のさしや口出しを受けないで、自分の国のあり方を自主的に決める権利があるという考え。												/3			
	問3	(1)	二十一か条の要求		(2)	南満州	(3)	五・四運動	(4)	①	ガンディー	②	非暴力	/3			
	(1)	政党	(2)	護憲(憲政擁護)運動										(3)	①	治安維持法	/3
	問4	(3)	満25歳以上のすべての男子。												(4)	b → a → c	/2
	問5	(1)	①	光	②	太陽	(2)	全国水平社	(3)	平塚らいてう				/2			
3	(1)	①	1929	②	ソ連	③	アメリカ						/2				
	(2)	五カ年計画による計画経済を行っていた(ので、資本主義経済の影響を受けなかった)ため。												/5			
	問6	(3)	①	植民地	②	関税	(4)	①	ニューディール(政策)				/3				
	(4)	政府が不況対策として積極的に公共事業をおこし、農業や工業の生産を調整し、失業者を救済する政策。												/3			
	(1)	満州事変		(2)	満州国	(3)	五・一五 事件					/3					
	(4)	軍部が政治的発言力を強め、軍備の拡張を進めていった。												/3			
	(1)	A	盧溝橋事件	B	国家総動員法	(2)	日中戦争	(3)	大政翼賛会				/2				
	(4)	日本との戦争において、中国の政治勢力が協力して日本に対抗するため。												/2			
	問9	(1)	ワイマール憲法	(2)	民本主義	(3)	関東大震災	(4)	芥川龍之介				/25				
													関心 意欲	/10			
													思考 判断	/25			
													技能 表現	/25			
													知能 理解	/4			
														/100			