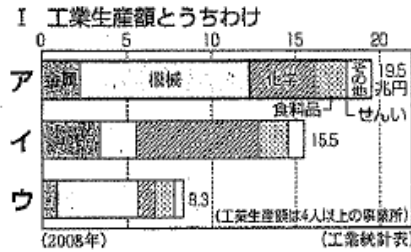


3 学年社会科前期中間テスト

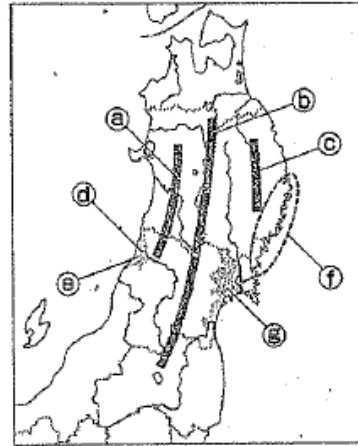
1. 各問いに答えよ。

- (1)右のグラフIは、群馬県・千葉県・神奈川県
のいずれかを示したものです。グラフのア～
ウにあてはまる県を書きなさい。
- (2)①群馬県、②千葉県がふくまれる工業地域名
をそれぞれ書きなさい。
- (3)群馬県などに見られる、工場を計画的に集め
た地域を何というか。



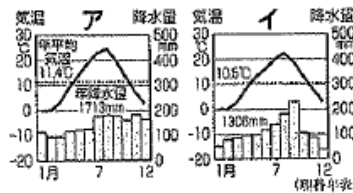
2. 各問いに答えよ。

- (1)右の地図中③～⑥の地形名を次から選んで答えよ
庄内平野 奥羽山脈 北上高地 最上川
三陸海岸 出羽山地 仙台平野
- (2)⑦の海岸の南部は、山地が太平洋までせまり海岸
線が複雑になっています。このような地形を何と
いうか。
- (3)東北地方は、中央に走る⑥の山脈を境に太平洋側
と日本海側で気候が異なります。①太平洋側、②
日本海側の都市の気温と降水量のグラフとしてあ
てはまるものを、ア・イから選びなさい。



(両方正解で2点)

- (4)東北地方の太平洋側に夏ふく、寒流の影響を受け
た冷たく湿った北東の風を何というか。



3. 次の文を読んで、空欄①～③にあてはまる国名、地域名を答えよ。また、下線部の出
来事を指導した人物名を答えよ。

1914年、サラエボ事件をきっかけに第一次世界大戦が起こり、戦争は総力戦となっ
た。やがて、1917年には(①)が連合国側に参戦し、(②)では革命が起こ
った。日本、(①)、イギリス、フランスは、(③)出兵によって革命政府
に干渉した。

4. 各問いに答えよ。

- (1)年表中Aのできごととかかわりの深い運動を次から選んで答えよ。
五・四運動 護憲運動 三・一独立運動 労働運動
- (2)年表中Bの直後、本格的な政党内閣を組織した人物を次から選んで答えよ。
吉野作造 美濃部達吉 原敬 犬養毅
- (3)年表中Cはどのような目的で設立されたか。
簡単に答えよ。
- (4)年表中Dと同時に共産主義を取りしめる目的
で制定された法律を答えよ。
- (5)日本初のメーデーが行われた時期を、年表中
のア～ウから選んで記号で答えよ。
- (6)大正時代に始まったことがらとして正しいも
のを、次のア～エから一つ選び、記号で答えよ。
ア ラジオ放送 イ 洋服の着用
ウ 郵便制度 エ 電信

年代	できごと
1913	桂内閣の退陣…A ↓ ア
1918	米騒動が展開…B ↓ イ
1922	全国水平社の設立…C ↓ ウ
1925	普通選挙法の成立…D

5. 次の文を読んであとの問いに答えよ。

- A この国は、株価の暴落をきっかけに銀行や工場がつぶれ、深刻な不況となったが、
ルーズベルト大統領のもと、X政府による積極的な公共事業により経済を回復させる
ことができた。
- B この国は、恐慌に対してY本国とオーストラリア・インドなどとの貿易を拡大する
いっぽう、他国には高い関税をかけた。
- C この国は、スターリンを指導者として、共産党の独裁体制をしき、Z重工業中心の
工業化と農業の集団化を強行していたため、世界恐慌の影響を受けることなく発展し
た。
- D この国は、ヒトラー率いるナチスが大衆の感情にうったえる宣伝によって支持を集
め、他の政党を解散させ、国際連盟から脱退し、再軍備を推進した。

- (1)A～Dの国名を答えよ。
- (2)下線部X、Yの政策をそれぞれ何というか。答えよ。
- (3)下線部Zの内容を中心とするCの国の計画を何計画というか。答えよ。
- (4)Dの国でみられた全体主義の政治のことを何というか。答えよ。

6. 1945年の年表を見て各問いに答えよ。

1月	18日	日本政府が「本土決戦」の目安を発表	
3月	10日	(①) 大空襲・・・死者10万人	・・・A
5月	7日	() 降伏・・・ヨーロッパ戦終了	・・・B
6月	23日	(②) 戦終了・・・死者1.2万人	
7月	26日	米、英、中が宣言を発表	・・・C
8月	6日	(③) に原子爆弾投下・・・死者20万人	
	8日	(④) 軍、満州、樺太に攻め込む。	
	9日	() に原子爆弾投下・・・死者14万人	・・・D
	14日	宣言の受け入れと降伏を連合国に解答	
	15日	正午、(⑤) が国民に降伏を放送	・・・E

(1) 年表中(①)～(⑤) に当てはまる語句の正しい組み合わせを次のア～エから選び、記号で答えよ。

- ア. ①東京 ②沖縄 ③広島 ④中国 ⑤総理大臣
 イ. ①熊谷 ②東京 ③広島 ④ソ連 ⑤天皇
 ウ. ①名古屋 ②沖縄 ③長崎 ④中国 ⑤総理大臣
 エ. ①東京 ②沖縄 ③広島 ④ソ連 ⑤天皇

(2) 年表に関する次のア～エの文章のうち、まちがっているものを一つ選び答えよ。

- ア. 空襲が激しくなると、都会の小学生は、父母のもとを離れて農村に集団疎開をした。
 イ. 軍需物資の生産が優先され、食料品が不足した。
 ウ. 政府は、戦争の本当の成り行き(状況)を国民に伝えなかった。
 エ. 大学生は、学業があったため、終戦まで戦争に行かされることはなかった。
 オ. 多数の中国人や朝鮮人が、強制的に日本に連れてこられた。

(3) 年表中A～Dの出来事に関する新聞記事の見出しはどれか。解答用紙の裏面のア～カから選び記号で答えよ。

(4) 1941年の真珠湾攻撃から始まり、年表中Eで終わった戦争を何戦争というか。

(5) 日本は、何のためにアメリカとの戦争を行ったのか。簡単に答えなさい。

7. 各問いに答えよ。

(1) 次の文中A～Cにあてはまる語句を答えよ。

敗戦後の日本の領土は、(A) 宣言にもとづいて、北海道・本州・四国・九州とその周りの島々に限られ、(B) や小笠原諸島は、アメリカが統治することになった。日本の政治は(C) (連合国軍総司令部)の指令のもとに間接的に進められることとなった。

(2) 次の戦後改革の説明としてまちがっているものを一つ選び、記号で答えなさい。

- ア 軍隊が解散され、戦争の責任があるとされた軍人や政治家が裁判にかけられた。
 イ 戦争中に重要な地位についた人は、公職から追放された
 ウ 政党の活動や言論の自由が認められ、25歳以上のすべての男女に選挙権が与えられた。
 エ 天皇が神の子孫であることを否定する宣言が出された。

(3) 日本国憲法が施行された年月日を答えよ。また、日本国憲法の三原理(三原則)を答えなさい。

(4) 戦後男女の平等はどのように実現したか。具体例をあげて簡潔に説明せよ。

8. 「第三次世界大戦」がおこらないようにするためには、わたしたち一人一人はどんなことをしなければならぬと思いますか。あなたの意見を解答用紙ウラの解答欄に100字以上120字以内で書きなさい。

9. 時事問題

5月28日、ロシアで行われたIOCの会議で、2020年のオリンピックの最終種目候補に残ったのは、「レスリング」「野球・ソフトボール」とあと1つ何か。

10. 修学旅行問題

※次のア～エの文章のうち、まちがっているものを一つ選び、記号で答えよ。

- ア 3日目に行く「法隆寺」は、世界最古の木造建築がある。
 イ 京都までの新幹線から、津ヶ谷先生の母校「愛知県立蒲郡東高等学校」が見える。
 ウ 「金閣」のある寺の正式名称は、「鹿苑寺(ろくおんじ)」である。
 エ 帰りの新幹線は、京都駅から乗車する。

1	(1) ア 神奈川県	イ 千葉県	ク 群馬県
	(2) ① 北関東 工業地域	② 京葉 工業地域	(3) 工業団地

2	(1) ③ 奥羽山地	④ 奥羽山脈	⑤ 北上高地	⑥ 最上川
	(2) リアス海岸	(3) ① イ	② ア	(4) やませ

3	① アメリカ	② ロシア	③ シンガポール	④ L-5
---	--------	-------	----------	-------

4	(1) 護憲運動	(2) 原敬
	(3) 部落差別からの解放を求めたため。	
	(4) 治安維持法	(5) イ
		(6) ア

5	(1) A アメリカ	B イギリス	C ロシア連
	D ドイツ	(2) X ニューヨーク	Y ブロック経済
	(3) 五年 計画	(4) ガシム	

6	(1) (1) イ	(2) ア			
	(3) A ア	B カ	C イ	D ウ	(4) 太平洋 戦争
	(5) 石油など資源がなくなると欲しかたがる。				

7	(1) A ホンコン	B 沖縄	C GHQ	(2) ウ
	(3) 1947年5月3日	国民主権	基本的人権尊重	平和主義
	(4) 選挙権が20歳以上の全男女になった。			

9 スウェーデン

10 イ

各2点×50問(思考5問、技能10問、知識35問)
 思考—10点、技能—20点、知識—68点
 漢字で書くべきところは漢字で書くこと。
 ひらがなは減点、罫字は×

98
96
95

3年 組 番 氏名

第三次世界大戦は起きない
 ように、様々な国どうしで
 交流をしたり、独自の文化
 を共有したりすれば、お互
 いのことを理解し合えると
 思う。また、日本のように
 平和主義で、一人ひとりが
 暮らしたい国、世界を作
 っていくことが必要だと思
 う。

ア 長約百三十機昨晚
 帝都市街を盲爆

イ 米英重慶、日本降伏の
 最後条件を聲明
 三國共同の諒解成立

ウ 長崎にも新型爆弾
 投下された

エ 広島へ敵新型爆弾
 最少数機で襲撃攻撃
 相済の被害詳細は目下調査中

オ 新爆弾の惨害に大御心
 帝國四國宣言を受諾
 畏し、萬世の爲太平を開く

カ 獨の全軍降伏す
 ランス軍の敵前全部で
 七百餘機無條件調印