

社会科3年生1学期中間テスト

1. 次の年表を見て、以下の各問に答えなさい。

年号	おもなできごと	(国名)
1642～49	・清教徒革命が起き、国王を処刑する	(A)
1688	・(ア) 革命がおき、国王を追放する	(A)
1710	・蒸気機関が発明される	(A)
1768	・水力紡織機が発明される	(A)
1776	・新しい税に抗議して植民地の人々が本國に対して戦いを起こし勝利する	(B)
1789	・パリの民衆がバスチーユ牢獄を襲い、(C) 革命が始まる	(C)
	・(イ) 宣言が発表される	(C)
1804	・(ウ) が皇帝になる	(C)
1814	・蒸気機関車が発明される	(A)
1861	・(エ) 制度や貿易問題をめぐり内戦が起きる	(B)

(1) 年表中の(A)～(C)に当てはまる国名を答えなさい。

(2) 年表中の下線部の戦い内戦をそれぞれ何というか。また、その戦いで活躍した人物をそれぞれ答えなさい。

(3) 年表中の(ア)～(エ)に当てはまる語句を、次の説明文を参考に答えなさい。

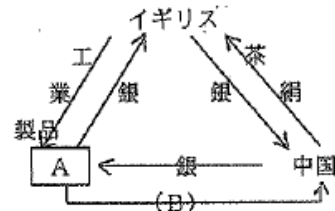
- (ア) 一人の死傷者も出さずに国王を追放し、新国王に国民の自由と権利を守ることを約束させた革命(権利章典)
- (イ) 第1条 人は生まれながらにして自由・平の権利を持っている。
- (ウ) 年表の(C) 革命への干渉から(C)の国を守った人物
- (エ) アフリカから連れてこられ(B) 国南部で綿花栽培に従事させられていた人々

(4) 年表中の・蒸気機関が発明される・紡績機が発明されるなどにより、産業と社会が大きく変化しました。

- ①この変化を何と言いましたか。
- ②生産のもととなる資本を持つ者が労働者をやとい生産する経済のしくみを何といいますか。

(5) 次の図は、19世紀のイギリスと中国とAの国の貿易の様子をあらわしています。

- ①図中の(B) にあてはまる貿易品は何か。
- ②Aの国の国名を答えなさい。
- ③戦争の結果、賠償金を払うために清は、国民に重税を課したため反乱がおきました。この反乱を何というか。



2. 次の資料を見て、以下の各問に答えなさい。

- (1) 次の資料の人物は、1853年来航したアメリカ東インド艦隊の司令官です。
 - ①この人物の名前を答えなさい。
 - ②この人物が来航した場所を、次の地図中のa～eから1つ選び記号を書きなさい。



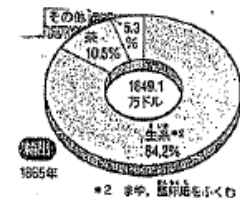
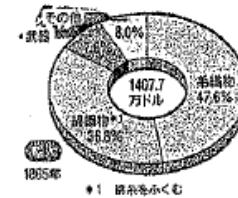

(2) 次の2つの資料は、幕末に日本が外国と結んだ条約の一部要約です。この2つの資料(ア)(イ)は、それぞれ何という条約ですか。

(ア) 第2条 下田、函館の両港は、アメリカ船の薪水(まきと水)、食料、石炭、欠乏品を、日本にて調達することに限り、入港を許可する。

(イ) 第4条 すべて日本に対して、輸出入する商品は別に定めるとおり、日本政府へ関税を納めること
第6条 日本人に対して法を犯したアメリカ人は、アメリカ領事裁判所において取り調べの上、アメリカの法律により罰すること

(3) 上の資料(イ)の条約の日本にとって不平等な内容を簡単に書きなさい。


(4) 下の資料、幕末の「1865年の貿易のうちわけ」「物価の資料」を参考に、貿易を始めたことにより日本経済は、どのような影響を受け、人々はどのような気持ちになったと考えられますか。「不足・不満」という言葉を用いて説明しなさい。




- (5) 次の写真資料は、下関砲台（長州藩）が4ヶ国の外国艦隊に占領された様子です。なぜ、外国に占領されたのか、簡単に説明しなさい。



- (6) 下の資料は、幕末の民衆の様子です。名古屋から始まった伊勢神宮のお札が天から降ってきたといい、人々がはやし立てながら、おどろさわぎです。民衆は、何を期待して、何と言いながら、おどっていましたか。簡潔に答えなさい。




- (7) 下の資料は、江戸時代の終わりをつげるものです。だれが、何をしている様子か。これを何というか。場所はどこか。3点について説明しなさい。



3. 次の年表は、新政府の成立後の新政府の政策を年代順にしたものです。年表を見て、以下の各問に答えなさい。

年号	おもなできごと
1868	・世論を大切に政治をすすめることを天皇が神々に誓う・・・①
69	・首都を改める
71	・旧藩主（大名）から土地と人民を政府に返させる・・・②
	・藩をなくして、県を設置する・・・③
	・天皇の一族以外は、すべて平等とする・・・④
	・新しい貨幣制度が作られる
72	・6歳以上のすべての男女が教育を受けることを定める・・・⑤
	・日本初の鉄道が、開通する・・・⑥
	・群馬に官営の模範工場が建設される・・・⑦
	・「学問のすすめ」が出版される・・・⑧
73	・20歳以上の男子は、兵役の義務を負う・・・⑨
	・土地の所有権を認め、新しい税制を実施する・・・⑩

- (1) 年表中の①のできごとを何と言いましたか。
- (2) 年表中の②のことを何と言いましたか。
- (3) 年表中の③のできごと（政策）を漢字4文字で答えなさい。
- (4) 年表中の④のできごとに関して平等となったことがらを具体的に1つ答えなさい。
(例：～することができるようになった)
- (5) 年表中の⑤のできごとを何と言いますか。漢字で答えなさい。
- (6) 年表中の⑥の日本初の鉄道が開通したのは、何駅と何駅の間ですか。
- (7) 年表中の⑦のできごとのように近代産業を育て、経済を発展させる政策を何と言いますか。漢字4文字で答えなさい。
- (8) 年表中の⑧の「学問のすすめ」の著者はだれか。
- (9) 年表中の⑨のできごとを何と言いますか。漢字で答えなさい。
- (10) 年表中の⑩のできごとについて、下の資料を参考にしてどのような改革が行われたのか、改革の内容を簡潔に説明しなさい。



4. 次の年表を見て、以下の各問いに答えなさい。

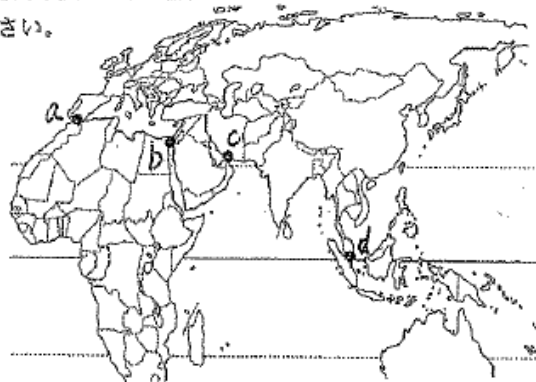
年号	おもなできごと
1872	・岩倉使節団が欧米へ派遣される
1873	・①韓国を武力で開国させる主張高まる
1874	・②国会を開くことを要求する意見書を出す
1877	・鹿児島島の士族を中心とした反乱がおきる・・・A
1880～	・欧米列強が植民地を広げる・・・B
1889	・(ア) 憲法できる
1890	・第1回帝国議会開かれる・・・C
1894	・朝鮮南部で農民一揆おきる ・(イ) 戦争おきる
1895	・下関条約結ばれる・(ウ)・ドイツ・フランスは、③日本が獲得した土地の返還をせまる・・・D
1900	・中国でおきた義和団事件に日本など9ヶ国出兵
1902	・日本は(エ)と同盟結ぶ
1904	・(オ) 戦争おきる・・・E
1905	・(オ) 戦争の講和条約＝(カ) 条約をアメリカで結ぶ・・・F
1910	・日本が(キ)を併合する
1911	・中国で革命がおき(ク) 国が成立する・・・G

(1) 下線部①の主張を何といたしましたか。

(2) 下線部②の要求を出した人物はだれでしたか。

(3) Aの反乱をの中心人物はだれでしたか。

(4) Bのように植民地を広げる動きを何といたしましたか。また、アジアへの近道としてスエズ運河が建設されましたが、その位置として正しいものを地図中のa～dから1つ選び、記号を書きなさい。



(5) 年表中の(ア)～(ク)にあてはまる語句を答えなさい。

(6) 次の資料は(ア) 憲法の一部です。()にあてはまる語句は、何ですか。

(ア) 憲法(一部)

第1条 (ア)は万世一系の()これを統治する

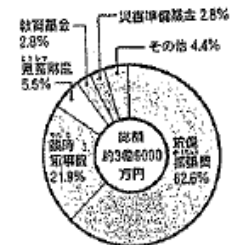
第2条 ()は神聖にして侵すべからず

第3条 ()は陸海軍を統帥する

(7) 年表中のCの議会を開くために選挙が行われました。その選挙権は、どのような条件でしたか。条件を答えなさい。

(8) 年表中の③下線部日本が獲得した土地の返還とありますが、その土地は何という土地でしたか。また、この土地の返還勧告(D)を何といたしましたか。

(9) 下関条約で獲得した賠償金の使いみちについて、右のグラフを見て、なぜこのような使い道になったか説明せよ。



(10) 右図は、年表中Eの頃の国際関係を風刺した様子です。ア～エに当てはまる国名を入れて当時の様子を簡潔に説明しなさい。



(11) Eの戦争について「君死にたもうことなかれ」と反戦の詩を書いた女性詩人は、だれでしたか。

(12) 次の文章ア～エは、Fの後の様子を説明したものです。正しい説明をア～エから1つ選び、その記号を書きなさい。

- ア、多額の賠償金を得て、国民の税負担が減った。
- イ、日本の勝利は、アジア諸国に勇気を与えアジア諸国の独立を日本が援助するきっかけとなった。
- ウ、樺太の南半分を手に入れた。
- エ、台湾を日本の植民地とした。

(13) 年表中のGの革命で中心的役割を果たした人物は、だれですか。人物名を答えなさい。

(14) 次の①～④の人物は、年表中の時代に活躍した人です。人物名を答えなさい。
また、その人物の説明としてあてはまるものを下のア～コから選び、その記号を書きなさい。



- 業績
- ア、日露戦争に出兵した弟を思う詩を書いた。
 - イ、三民主義を唱え、清を倒す革命を主導した。
 - ウ、「吾輩は猫である」などの小説を書いた。
 - エ、わが国初の女医として活躍した。
 - オ、日本初の公害問題の解決につくした。
 - カ、「たけくらべ」などの小説を書いた。
 - キ、黄熱病の研究をした。

3年社会科学期中間テスト 解答用紙

3年 組 番 氏名

99

(1)	A	俾リス	B	アフリカ	C	アフリカ
(2)	戦い (名詞)		大統領 (名詞)			
	内戦 (名詞)		大統領 (名詞)			
(3)	ア	名詞	イ	人権	ウ	ナポレオン
(4)	①	産業革命	②	資本主義		
(5)	①	ア	②	イ	③	大平天国

(4) × 2, その他 × 1 = 18

(1)	①	イ	②	ウ
(2)	ア	日米和親条約	イ	日米修好通商条約
(3)	・領事裁判権を認めず。 ・関税自主権がない。			
(4)	生糸を多く輸出したため国内で不足し、外国の安い製品が入ってきたため物価が上がったので人々は不満になった。			
(5)	長州藩が外国船を砲撃したため。			
(6)	世を期待して入幕した幕府が元気がないかと言った。			
(7)	徳川慶喜が主権を天皇に与えている様子。 これを大政奉還といひ、二条城で行われた。			

20

2 × 10 = 20

(1)	五箇条の御誓文	(2)	版権奉還		
(3)	廃藩置縣	(4)	名字を名乗る(三)りてきざしに法		
(5)	学制	(6)	東京 駅と橋本 駅の間		
(7)	殖産興業	(8)	福沢諭吉	(9)	徴兵令
(10)	地価をさため税を地価の3%に減額する				

(3) (5) (6) (7) (8) (9) (10) × 2, その他 1 = 17

(1)	征韓論	(2)	板垣退助	(3)	西郷隆盛	
(4)	帝国主義	記号	ウ			
(5)	ア 大日本帝国	イ	イ	ウ	ウ	
	エ 俾リス	オ	オ	カ	カ	
	キ 韓国	ク	ク	(6)	天皇	
(7)	直接国税を15%以上おさめている満25歳以上の男 3点					
(8)	リヤオ、平島	D	三国干渉			
(9)	三国干渉が起きてロシアに対する怒りがあつたためロシアをたおすための軍隊の増強 3点					
(10)	(ア)のロシアを(ウ)の俾リスにおさめる(イ)の日本が戦争しようとしている(エ)のアメリカは遠くから様子を見ている 4点					
(11)	与謝野晶子	(12)	ウ	(13)	孫文	
(14)	① 田中延達	記号	ウ	② 夏目漱石	記号	ウ
	③ 野口英世	記	ウ	④ 樋口兼光	記号	ウ

45点